

DO NOT OPEN THE SEAL OF THE BOOKLET UNTIL YOU ARE TOLD TO DO SO

EXAM ID. - 10251

DSSSB

TEST SERIES

DATE - __/__/__

DAY -

INSTRUCTION FOR CANDIDATE

उम्मीदवारों के लिए अनुदेश

TEST SERIES NO.

A – 101

QUESTION – 200

MARKS – 200

NEGATIVE MARK – 0.25

DURATION – 120 MIN.

- केवल काले या नीले रंग की स्याही वाले बॉल पेन का ही उपयोग करें
- परीक्षा प्रारंभ होते ही आप इस प्रश्न पुस्तिका की जाँच अवश्य कर ले तथा यदि इसमें कोई बिना छपा कटा-फटा या आंशिक छपा हुआ पृष्ठ अथवा प्रश्न हो, तो इसे अभिजागर के माध्यम से सही प्रश्न पुस्तिका से बदल लीजिए।
- इस प्रश्न पुस्तिका में कुल 200 प्रश्न हैं।
- यह एक वस्तुनिष्ठ परीक्षा है, जिसमें प्रत्येक प्रश्न के उत्तर के लिए चार विकल्प दिए गए हैं, आपको इन चार विकल्पों में से सही उत्तर वाले एक ही विकल्प को चुनना है।
- सभी प्रश्नों के उत्तर अलग अलग से दिए गए उत्तर-पत्रक पर ही अंकित करने हैं।

- उत्तर-पत्रक को भरने हेतु निर्देश उत्तर-पत्रक के पृष्ठ भाग पर अंकित हैं, जिन्हें उत्तर-पत्रक को भरने से पूर्व ध्यान से पढ़ ले।
- इस प्रश्न पुस्तिका में रफ-कार्य के लिए खाली पृष्ठ उपलब्ध हैं।
- परीक्षा समाप्त होने से पूर्व परीक्षार्थी कक्ष से बाहर नहीं जा सकते हैं।
- परीक्षा समाप्त होने के पश्चात् आप उत्तर-पत्रक की ORIGINAL COPY को अभिजागर के पास जमा कराकर उनकी अनुमति से ही बाहर जा सकते हैं।
- परीक्षा समाप्त होने पर प्रश्न पुस्तिका एवं उत्तर-पत्रक की Candidate's Copy को अपने साथ ले जाने की अनुमति है।
- प्रत्येक सही उत्तर पर 1 अंक प्राप्त होगा तथा प्रत्येक गलत उत्तर पर 0.25 अंक काटा जाएगा।

SCHOLARS ACADEMY

SSC | IBPS | NDA | RAILWAY | COMMERCE

Add : H-81, Ind floor, South Extension I, Block H, New Delhi, Delhi 110049

MOB:- 01141676717, 9312712114

General Awareness

1. 'स्वतंत्रता मेरा जन्म अधिकार है और मैं इसे लेकर रहूँगा', यह नारा किसने दिया था ?

Who gave the slogan 'Freedom is my birth right and I will have it'?

- (a) बाल गंगाधर तिलक (b) लाला लाजपत राय
Bal Gangadhar Tilak Lala Lajpat Rai
(c) बिपिन चंद्र पाल (d) महात्मा गांधी
Bipin Chandra Pal Mahatma Gandhi

2. 'ग्रिडा' नामक लोकनृत्य इनमें से किस राज्य से संबंधित है ?
The folk dance named 'Grida' is related to which of the following states?

- (a) छत्तीसगढ़ (b) मध्य प्रदेश
Chhattisgarh Madhya Pradesh
(c) झारखंड (d) पश्चिम बंगाल
Jharkhand West Bengal

3. बूढ़ी दिहिग निम्नलिखित में से किस नदी की सहायक नदी है ?
Budhi Dihing is a tributary of which of the following rivers?

- (a) ब्रह्मपुत्र (b) गोदावरी
Brahmaputra Godavari
(c) यमुना (d) गंगा
Yamuna Ganges

4. मंदाकिनी नदी — में अलकनंदा नदी में मिलती है।
Mandakini river joins Alaknanda river at —.

- (a) विष्णुप्रयाग (b) कर्णप्रयाग
Vishnuprayag Karnaprayag
(c) रुद्रप्रयाग (d) देवप्रयाग
Rudraprayag Devprayag

5. चावल की खेती की जाबो प्रणाली भारत के इनमें से किस राज्य में प्रचलित जल संचयन की एक स्वदेशी विधि है ?

Jabo system of rice cultivation is an indigenous method of water harvesting prevalent in which of the following states of India?

- (a) केरल (b) उत्तर प्रदेश
Kerala Uttar Pradesh
(c) कर्नाटक (d) नागालैंड
Karnataka Nagaland

6. 'द लास्ट क्वीन ऑफ कश्मीर' नामक उपन्यास के लेखक कौन हैं ?

Who is the author of the novel 'The Last Queen of Kashmir'?

- (a) चित्रा बैनर्जी दिवाकरुणी (b) सुधा मूर्ति
Chitra Banerjee Divakaruni Sudha Murthy
(c) चेतन भगत (d) राकेश कौल
Chetan Bhagat Rakesh Kaul

7. निम्नलिखित में से किस कार्य के मूल्य को, राष्ट्रीय आय की गणना में शामिल नहीं किया जाता है ?

The value of which of the following works is not included in the calculation of national income?

- (a) एक फर्म में कार्य करना (b) एक नए घर का निर्माण
working in a firm building a new house
(c) बाजार में मछली बेचना (d) गृहिणी का कार्य
selling fish in the market housewife's work

8. इनमें से किसके अनुसार, तापमान और अन्य भौतिक स्थितियां नियत रहने पर, किसी चालक के दो बिंदुओं के बीच प्रवाहित होने वाली धारा, दोनों बिंदुओं के बीच विभांतर के अनुक्रमानुपाती होती है ?

According to which of the following, if temperature and other physical conditions remain constant, the current flowing between two points of a conductor is directly proportional to the potential difference between the two points?

- (a) हुक का नियम (b) ओम का नियम
Hooke's law rules of OM
(c) न्यूटन का नियम (d) पास्कल का नियम
Newton's law Pascal's law

9. भारतीय संविधान के किस अनुच्छेद में उच्चतम न्यायालय को याचिकाएं जारी करने की शक्ति प्रदान की गई है ?

In which article of the Indian Constitution has the Supreme Court been given the power to issue petitions?

- (a) अनुच्छेद 49 (b) अनुच्छेद 53
Article 49 Article 53
(c) अनुच्छेद 32 (d) अनुच्छेद 41
Article 32 Article 41

10. प्रत्येक वर्ष विश्व आवाज दिवस कब दिवस मनाया जाता है ?
When is World Voice Day celebrated every year?

- (a) 14 अप्रैल को (b) 16 अप्रैल को
on 14th April on 16th April
(c) 17 अप्रैल को (d) 15 अप्रैल को
on 17th April on 15th April

11. जुलाई 1968 में इंदिरा गांधी द्वारा भारत की कृषि में प्रभावशाली प्रगति को दर्ज करने के लिए आधिकारिक तौर पर एक डाक टिकट जारी किया गया। इसका शीर्षक निम्न में से क्या था ?

A postage stamp was officially issued by Indira Gandhi in July 1968 to record India's impressive progress in agriculture. Which of the following was its title?

- (a) गेहूँ की क्रांति (b) श्वेत क्रांति
wheat revolution white revolution
(c) नीली क्रांति (d) हरित क्रांति
blue revolution green Revolution

12. मध्य प्रदेश और भारत के कुछ अन्य राज्यों में प्रति वर्ष सितंबर - अक्टूबर के महीने में युवाओं और शक्ति के देवता के सम्मान में जनजातियों द्वारा इनमें से कौन सा कृषि उत्सव मनाया जाता है ?

Which of the following agricultural festivals is celebrated by the tribes in the honor of the god of youth and strength in the month of September - October every year in Madhya Pradesh and some other states of India?

- (a) अट्टुकल पोंगल (b) पूरम महोत्सव
Attukal Pongal Pooram Festival
(c) चंदनकुड़ा महोत्सव (d) करम महोत्सव

SCHOLARS ACADEMY

Chandankuda Mahotsavam Karam Mahotsav

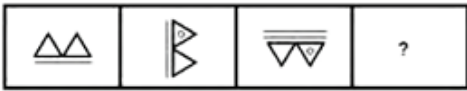




13. भारत के संविधान का निम्नलिखित में से कौन-सा अनुच्छेद परिभाषित करता है कि 14 वर्ष से कम आयु के किसी भी बच्चे को किसी कारखाने या खदान में काम करने के लिए या किसी अन्य खतरनाक रोजगार में नहीं लगाया जाएगा?
Which of the following Articles of the Constitution of India defines that no child below the age of 14 years shall be employed to work in any factory or mine or in any other hazardous employment?
- (a) अनुच्छेद 24 (b) अनुच्छेद 34
Article 24 Article 34
(c) अनुच्छेद 76 (d) अनुच्छेद 89
Article 76 Article 89
14. सैयद अहमद खान द्वारा आंदोलन की शुरुआत निम्न में से किस वर्ष की गई?
In which of the following years was the movement started by Syed Ahmed Khan?
- (a) 1890 (b) 1875
(c) 1789 (d) 1909
15. किसकी की मंजूरी के बाद फिनलैंड 31वां नाटो सदस्य बना
After whose approval Finland became the 31st NATO member
- (a) ऑस्ट्रेलिया (b) तुर्की
Australia Türkiye
(c) भारत (d) चीन
India China
16. ओडिशा दिवस या उत्कल दिवस कब को मनाया जाता है ?
When is Odisha Day or Utkal Day celebrated?
- (a) 2 अप्रैल 2023 (b) 3 अप्रैल 2023
45018 45019
(c) 1 अप्रैल 2023 (d) 4 अप्रैल 2023
45017 45020
17. निम्नलिखित में से किस शहर में भारत का पहला चंदन संग्रहालय स्थापित किया जा रहा है?
India's first sandalwood museum is being established in which of the following cities?
- (a) मैसूर (b) बेंगलूर
Mysore Bengaluru
(c) पटना (d) हैदराबाद
Patna Hyderabad
18. अंतिम मौर्य सम्राट की हत्या निम्न में से किसके द्वारा की गई थी?
The last Maurya Emperor was assassinated by who among the following?
- (a) विष्णुवर्धन (b) कुलशेखर वर्मन
Vishnuvardhan Kulashekhar Varman
(c) पुष्यमित्र शुंग (d) महेन्द्रवर्मन
Pushyamitra Sunga Mahendravarman
19. आकाशवाणी एवं एनएसडी के प्रधान महानिदेशक का पदभार किसने ग्रहण किया है?
Who has assumed the charge of Principal Director General of All India Radio and NSD?






- (a) डॉ. वसुधा गुप्ता (b) मीनाक्षी लेखी
Dr. Vasudha Gupta Meenakshi Lekhi
(c) अभिरूप शर्मा (d) रमेश सिंह
Abhirup Sharma Ramesh Singh

20. किस रूसी लेखिका ने लीपज़िग बुक पुरस्कार 2023 जीता ?
Which Russian author won the Leipzig Book Prize 2023?
- (a) लारिसा वनीवा (b) मारिया विलिंस्का
Larisa Vanieva maria vilinska
(c) एलेक्जेंड्रा मारिनिना (d) मारिया स्टेपानोवा
alexandra marinina Maria Stepanova

Reasoning

21. सात मित्र A, B, C, D, E, F और G एक पंक्ति में उत्तर की ओर मुंह करके बैठे हैं। B पंक्ति के मध्य में नहीं बैठा है। A, B के दाईं ओर दूसरे स्थान पर बैठा है। D, F के बाईं ओर दूसरे स्थान पर बैठा है। G, F के बाईं ओर ठीक बगल में बैठा है। C, G के दाईं ओर दूसरे स्थान पर बैठा है। E, B और A के बीच में बैठा है। पंक्ति के मध्य में कौन बैठा है ?
Seven friends A, B, C, D, E, F and G are sitting in a row facing north. B does not sit in the middle of the row. A sits second to the right of B. D sits second to the left of F. G is sitting immediate left of F. C sits second to the right of G. E is sitting between B and A. Who is sitting in the middle of the row?
- (a) G (b) D
(c) E (d) F
22. चार अक्षर-समूह दिए गए हैं, जिनमें से तीन किसी तरह से संगत हैं और एक असंगत है। असंगत अक्षर-समूह का चयन कीजिए।
Four letter-clusters have been given, out of which three are consistent in some manner and one is incongruent. Select the incongruous letter-cluster.
- (a) ZBFL (b) BDHN
(c) MOSY (d) OQUB
23. 'गेंदा' का 'फूल' से वही संबंध है, जो 'जौ' का — से है।
'Marigold' is related to 'flower' in the same way as 'barley' is to —.
- (a) डंठलों (b) दालों
stalks pulses
(c) मसालों (d) अनाजों
spices grains
24. पांच मित्र P, Q, R, S और T एक बस में यात्रा कर रहे हैं। सभी एक के बाद एक, पांच अलग-अलग पंक्तियों में एक ही दिशा की ओर मुख करके बैठे हैं। P, S के ठीक आगे बैठा है। T, Q के पीछे बैठा है। R के पहले और बाद में बैठे व्यक्तियों की संख्या समान है। T, R के आगे बैठा है। इनमें से कौन अंत में बैठा है ?
Five friends P, Q, R, S and T are traveling in a bus. Everyone is sitting one after the other, in five different rows, facing the same direction. P is sitting immediately next to S. T is sitting behind Q. The number of persons sitting before and after R is same. T is sitting next to R. Who among these is sitting at the end?

- (a) T (b) Q
(c) S (d) P
25. उस विकल्प का चयन करें, जिसका तीसरी संख्या से वही संबंध है, जो दूसरी संख्या का पहली संख्या से है। 12 : 67 : 16 : ?
Select the option which has the same relationship with the third number as the second number has with the first number. 12 : 67 : 16 : ?
(a) 80 (b) 72
(c) 91 (d) 70
26. दिए गए विकल्पों में से उस संख्या का चयन कीजिए, जो निम्नलिखित श्रेणी में प्रश्नवाचक चिह्न (?) के स्थान पर आएगी।
32, 33, 37, 46, ?, 87
Select the number from the given options which will come in place of the question mark (?) in the following series. 32, 33, 37, 46, ?, 87
(a) 60 (b) 52
(c) 62 (d) 77
27. उस विकल्प का चयन करें, जिसका तीसरे अक्षर-समूह से वही संबंध है, जो दूसरे अक्षर-समूह का पहले अक्षर-समूह से है। BFX : PTL :: UHE : ?
Select the option which has the same relationship with the third letter-cluster as the second letter-cluster has with the first letter-cluster. BFX : PTL :: UHE : ?
(a) IVS (b) IUS
(c) IVT (d) HVS
28. उस सही विकल्प का चयन करें जो दिये गये शब्दों का तार्किक और अर्थपूर्ण क्रम में व्यवस्थित करता है। I. वर्ग II. परिवार III. राज्य IV. गण V. समुदाय
Select the correct option that arranges the given words in a logical and meaningful order. I. Class II. Family III. State IV. Group V. Community
(a) iii, v, i, iv, ii (b) iii, v, ii, iv, i
(c) iii, ii, iv, i, v (d) iii, iv, ii, v, i
29. दिए गए विकल्पों में से उस आकृति का चयन कीजिए जो दी गई श्रृंखला में प्रश्न चिह्न (?) के स्थान पर आ सकती है।
Select the figure from the given options that can come in place of the question mark (?) in the given series.

(a)  (b) 
(c)  (d) 
30. उस अक्षर संयोजन का चयन करें जिसे दी गई श्रृंखला के रिक्त स्थानों में क्रमिक रूप से रखे जाने पर श्रृंखला पूर्ण हो जाएगी। c -- w z c - n - z c j - w -- j n - z
Select the letter combination which when sequentially placed in the blank spaces of the given series will complete the series. c -- w z c - n - z c j - w -- j n - z

- (a) j, n, j, w, n, z, c, w (b) n, j, n, w, n, z, c, w
(c) n, j, j, w, n, c, z, w (d) j, n, j, w, z, n, c, w
31. दिए गए कथनों और निष्कर्षों को ध्यानपूर्वक पढ़ें। आपको कथनों में दी गई जानकारी को सही मान कर चलना है, भले ही वो सामान्य ज्ञात तथ्यों से भिन्न प्रतीत होती हो, और फिर निर्णय कीजिए कि दिए गए निष्कर्षों में से कौन सा/से निष्कर्ष कथनों का तार्किक रूप से अनुसरण करता है (करते हैं)।
कथन:
(i) कुछ दंत चिकित्सक सर्जन हैं।
(ii) सभी सर्जन डॉक्टर हैं।
निष्कर्ष:
(i) कुछ दंत चिकित्सक डॉक्टर हैं।
(ii) कोई भी सर्जन दंत चिकित्सक नहीं है।
Read the given statements and conclusions carefully. You have to take the information given in the statements to be true, even if it seems to be at variance with commonly known facts, and then decide which of the given conclusions logically follow(s) from the statements. Are).
Statements:
(i) Some dentists are surgeons.
(ii) All surgeons are doctors.
Conclusions:
(i) Some dentists are doctors.
(ii) No surgeon is a dentist.
(a) निष्कर्ष I और II दोनों अनुसरण करते हैं। (b) केवल निष्कर्ष II अनुसरण करता है।
Both conclusions I and II follow. Only conclusion II follows.
(c) न तो निष्कर्ष I और न ही निष्कर्ष II अनुसरण करता है। (d) केवल निष्कर्ष I अनुसरण करता है।
Neither conclusion I nor conclusion II follows. Only conclusion I follows.
32. दी गई आकृति के सही दर्पण प्रतिबिंब का चयन कीजिए, जबकि दर्पण को इसकी दाईं ओर रखा गया है।
Select the correct mirror image of the given figure, while the mirror is placed on its right side.

(a)  (b) 
(c)  (d) 
33. उस सही विकल्प का चयन कीजिए, जो दिए गए शब्दों के उस क्रम को दर्शाता है, जिस क्रम में वे अंग्रेजी शब्दकोश में मौजूद होते हैं।
Select the correct option which shows the order of the given words in the order in which they appear in the English dictionary.
1- Court
2-Course

- 3- Courteous
4- Count
5- Courage
- (a) 3, 5, 2, 1, 4 (b) 4, 2, 5, 1, 3
(c) 4, 5, 2, 3, 1 (d) 4, 5, 2, 1, 3
34. 'कलम' का 'स्याही' से वही संबंध है, जो संबंध 'सुई' का "____" से है।
The relation between 'pen' and 'ink' is the same as that between 'needle' and '____'.
- (a) सिलाई (b) धागे
Stiching threads
(c) प्रतिरूप (d) कपड़े
model Clothes
35. दिए गए पैटर्न का ध्यानपूर्वक अध्ययन करें, और उस संख्या का चयन करें जो इसमें प्रश्नवाचक चिह्न (?) के स्थान पर आ सकती है।
9 10 13 8 12 14 43 54 ?
Study the given pattern carefully, and select the number that can come in place of the question mark (?) in it.
9 10 13 8 12 14 43 54 ?
- (a) 65 (b) 67
(c) 59 (d) 78
36. एक निश्चित कूट भाषा में SINGER को 42-30 लिखा जाता है और GOALEE को 23-22 लिखा जाता है। उसी कूट भाषा में FLEXEN को किस प्रकार लिखा है।
In a certain code language SINGER is written as 42-30 and GOALEE is written as 23-22. How is FLEXEN written in that code language?
- (a) 19-66 (b) 25-44
(c) 23-43 (d) 25-49
37. दिए गए विकल्पों में से उस संख्या का चयन कीजिए, जो निम्नलिखित श्रेणी में प्रश्नवाचक चिह्न (?) के स्थान पर आ सकती है।
30, 41, 57, 78, 104, 135, ?
Select the number from the given alternatives which can come in place of the question mark (?) in the following series.
30, 41, 57, 78, 104, 135, ?
- (a) 240 (b) 171
(c) 215 (d) 202
38. दिए गए विकल्पों में से उस संख्या का चयन कीजिए, जो निम्नलिखित श्रेणी में प्रश्नवाचक चिह्न (?) के स्थान पर आ सकती है।
28, 14, 14, 21, 42, 105, ?
Select the number from the given options which can come in place of the question mark (?) in the following series.
28, 14, 14, 21, 42, 105, ?
- (a) 210 (b) 305
(c) 315 (d) 255
39. उस विकल्प का चयन कीजिए जो तीसरी संख्या से उसी तरह से संबंधित है जैसे दूसरी संख्या पहली संख्या से संबंधित है और छठी संख्या पाँचवीं संख्या से संबंधित है।
78 : 87 :: 43 : ? :: 65 : 56
Select the option which is related to the third number in the same way as the second number is related to the first number and the sixth number is related to the fifth number.
78 : 87 :: 43 : ? :: 65 : 56
- (a) 33 (b) 34
(c) 44 (d) 45
40. उस विकल्प का चयन करें जो चौथे अक्षर-समूह से उसी प्रकार संबंधित है जिस प्रकार पहला अक्षर-समूह, दूसरे अक्षर-समूह से संबंधित है।
AF : GL :: ? : SX
Select the option which is related to the fourth letter-cluster in the same way as the first letter-cluster is related to the second letter-cluster.
AF : GL :: ? : SX
- (a) MR (b) HJ
(c) RM (d) MN

Arithmetical & Numerical Ability

41. एक कस्बे की 5% जनसंख्या की किसी महामारी में मृत्यु हो जाती है, और बची जनसंख्या में से 8% घबराकर कस्बे को छोड़कर चले गये। यदि कस्बे की कुल जनसंख्या अभी 88274 है तो शुरूआत में कस्बे की कुल जनसंख्या ज्ञात करो।
5% of the population of a town dies in an epidemic, and 8% of the remaining population panics and leaves the town. If the total population of the town is currently 88274 then find the total population of the town initially.
- (a) 1,21,600 (b) 1,01,000
(c) 99800 (d) 84500
42. हीरु ने 47,000 में पुरानी कार खरीदी और इसकी मरम्मत में 3000 खर्च किए। यदि वो कार को 58,000 में बेचता है, तो उसके लाभ का प्रतिशत कितना होगा?
Hiru bought an old car for Rs 47,000 and spent Rs 3000 on repairing it. If he sells the car for Rs 58,000, what will be his profit percentage?
- (a) 18% (b) 16%
(c) 17% (d) 15%
43. 22% छूट देने के बाद भी 17% लाभ प्राप्त करने के लिए किसी वस्तु का अंकित मूल्य, उसके क्रय मूल्य से कितना अधिक होना चाहिए?
How much more should the marked price of an article be than its cost price to get 17% profit even after giving 22% discount?
- (a) 50% (b) 60%
(c) 28% (d) 45%
44. 3 दिन का 30 घंटे के साथ अनुपात ज्ञात कीजिए।
Find the ratio of 3 days to 30 hours.

SCHOLARS ACADEMY

- (a) 7 : 6 (b) 12 : 5
(c) 6 : 7 (d) 5 : 12
45. P एक व्यवसाय में 3500 का निवेश करता है। 5 महीनों के बाद Q कुछ निवेश के साथ उससे जुड़ता है। यदि Q को मिलने वाला लाभ P के लाभ से 50% अधिक हो, तो Q का निवेश ज्ञात कीजिए।
P invests 3500 in a business. After 5 months Q joins him with some investment. If the profit received by Q is 50% more than the profit of P, then find the investment of Q.
(a) 7000 (b) 5000
(c) 9000 (d) 6500
46. A एक काम को 10 दिनों में पूरा कर सकता है और B उसी काम को 20 दिनों में पूरा कर सकता है। यदि वे दोनों 5 दिनों के लिए साथ मिलकर काम करते हैं तो काम का कितना भाग समाप्त होगा?
A can complete a work in 10 days and B can complete the same work in 20 days. If both of them work together for 5 days, what portion of the work will be finished?
(a) 3/4 (b) 1/2
(c) 1/3 (d) 1/4
47. दूध के एक जार में 40% पानी है। इसके एक हिस्से को दूसरे दूध से बदल दिया जाता है, जिसमें 19% पानी है अब पानी का प्रतिशत 26% है। दूध की कितनी मात्रा को बदला गया ?
A jar of milk contains 40% water. A part of it is replaced by another milk, which contains 19% water. Now the percentage of water is 26%. What quantity of milk was replaced?
(a) 2/3 (b) 2/5
(c) 1/5 (d) 1/3
48. एक जग में दो छिद्र हैं। पहला छिद्र जग को 15 मिनट में खाली करता है। दूसरा छिद्र जग को 20 मिनट में खाली करता है। यदि रिसाव एक निश्चित दर से हो रहा है, तो दोनों छिद्रों के द्वारा जग कितनी देर में खाली हो जाएगा?
There are two holes in a jug. The first strainer empties the jug in 15 minutes. The second hole empties the jug in 20 minutes. If leakage is happening at a certain rate, then in how much time will the jug be emptied through both the holes?
(a) 4/7 (b) 7 4/7
(c) 8 5/7 (d) 8 4/7
49. एक व्यक्ति साधारण ब्याज की 4% प्रतिवर्ष की दर से 2 वर्ष के लिए 5000 उधार लेता है वह इसे 2 वर्ष के लिए 6.25% की वार्षिक दर पर अन्य व्यक्ति को दे देता है। प्रतिवर्ष उसके द्वारा प्राप्त लाभ ज्ञात कीजिए।
A person borrows Rs 5000 for 2 years at the rate of 4% simple interest per annum and lends it to another person at the rate of 6.25% per annum for 2 years. Find the profit earned by him every year.
(a) 150 (b) 112.5
(c) 167.5 (d) 125
50. मोहित ने 10000 की राशि दो अलग-अलग स्कीमों में NSC तथा PPF में क्रमशः 14% तथा 11% के वार्षिक चक्रवृद्धि ब्याज की दर से निवेश किये। यदि 2 वर्ष में प्राप्त ब्याज की कुल रकम 2726 रुपये है तो PPF में निवेश की गयी राशि कितनी थी?
Mohit invested an amount of Rs 10000 in two different schemes NSC and PPF at the compound interest rate of 14% and 11% respectively. If the total amount of interest received in 2 years is Rs 2726, then what was the amount invested in PPF?
(a) 5000 (b) 4000
(c) 6000 (d) 7000
51. पिता और पुत्र की आयु का अंतर 24 वर्ष है। दो वर्ष पहले पिता की आयु, पुत्र की वर्तमान आयु से दोगुनी थी। पिता की वर्तमान आयु कितनी है?
The age difference between father and son is 24 years. Two years ago the father's age was twice the present age of the son. What is the present age of the father?
(a) 46 (b) 42
(c) 44 (d) 38
52. 3/4, 5/8, 7/12, 15/16 का औसत ज्ञात कीजिए।
Find the average of 3/4, 5/8, 7/12, 15/16.
(a) 139/192 (b) 135/64
(c) 11/32 (d) 21/64
53. एक घर से दो बसे 15 मिनट के अन्तराल पर 25 कि.मी./घंटा की गति से चलती हैं। घर की विपरीत दिशा से आ रही एक महिला को और कितनी ज्यादा गति (कि.मी./घंटा) से चलना पड़ेगा ताकि बसे 10 मिनट के अंतराल पर मिल जाएं?
Two buses leave a house at an interval of 15 minutes at a speed of 25 km/hr. At what speed (in km/hr) will a woman coming from the opposite direction of the house have to walk so that the buses meet at an interval of 10 minutes?
(a) 12 (b) 12.25
(c) 12.5 (d) 12.75
54. एक रेलगाड़ी की चाल में 5 किमी./घंटा की वृद्धि करने पर इसे 300 किमी की दूरी तय करने में 2 घंटे कम समय लगता है। इसकी सामान्य चाल ज्ञात कीजिए।
By increasing the speed of a train by 5 km/hr, it takes 2 hours less to cover a distance of 300 km. Find its normal speed.
(a) 30 किमी./घंटा (b) 25 किमी./घंटा
30 km/h 25 km/h
(c) 20 किमी./घंटा (d) 35 किमी./घंटा
20 km/h 35 km/h
55. शांत जल में एक आदमी की चाल (28/3) किमी/घंटा है। वह धारा की विपरीत दिशा में, धारा की समान दिशा में लिए गए समय से तिगुना समय लेता है। धारा का वेग कितना है?
The speed of a man in still water is (28/3) km/hr. It takes three times the time taken in the opposite direction of the current than in the same direction of the current. What is the velocity of the stream?
(a) (16/3) किमी/घंटा (b) (20/3) किमी/घंटा
(16/3) km/h (20/3) km/h
(c) 6 किमी/घंटा (d) (14/3) किमी/घंटा
6 km/h (14/3) km/h

56. एक समकोण त्रिभुज में, ज्यामितीय आधार से, लम्ब 4 सेमी बड़ा है और कर्ण उससे 4 सेमी बड़ा है, कर्ण की लम्बाई की गणना कीजिए।

In a right angled triangle, from the geometrical basis, the perpendicular is 4 cm larger and the hypotenuse is 4 cm larger than that, calculate the length of the hypotenuse.

- (a) 12 सेमी. (b) 10 सेमी.
12 cm. 10 cm.
(c) 20 सेमी. (d) 8 सेमी.
20 cm. 8 cm.
57. दो संख्याओं का समान्तर माध्य और गुणोत्तर माध्य क्रमशः 7 और $2\sqrt{10}$ है, तो संख्याएँ ज्ञात कीजिए।
If the arithmetic mean and geometric mean of two numbers are 7 and $2\sqrt{10}$ respectively, then find the numbers.
(a) 5, 4 (b) 2, 20
(c) 4, 10 (d) 8, 5
58. 170 परिवारों के एक सर्वेक्षण में 115 कॉफी, 110 चाय और 130 दूध पीते हैं। इसके अलावा, 85 कॉफी और दूध, 75 कॉफी और चाय, 95 चाय और दूध, 70 तीनों पीते हैं। पता करें कि कितने कॉफी और दूध का उपयोग करते हैं लेकिन चाय का नहीं।
In a survey of 170 families, 115 drink coffee, 110 tea and 130 drink milk. In addition, 85 drink coffee and milk, 75 coffee and tea, 95 tea and milk, 70 drink all three. Find out how many use coffee and milk but not tea.
(a) 15 (b) 18
(c) 20 (d) 25
59. यदि $\tan A + \cot A = 2$ है, तो $\tan^2 A + \cot^2 A$ का मान ज्ञात कीजिए
If $\tan A + \cot A = 2$, then find the value of $\tan^2 A + \cot^2 A$.
(a) 4 (b) 2
(c) 1 (d) 1/2
60. यदि त्रिभुज के कोण 1 : 2 : 3 के अनुपात में हैं, तो सबसे छोटा कोण क्या है?
If the angles of a triangle are in the ratio 1 : 2 : 3, then what is the smallest angle?
(a) 40° (b) 25°
(c) 15° (d) 30°
61. Comprehension: दिए गए अनुच्छेद में कुछ हटा दिए गए हैं। दिए गए विकल्पों की सहायता से रिक्त स्थान भरें। प्रत्येक संख्या के लिए सबसे उपयुक्त विकल्प का चयन करें। पर्वतीय दृश्य मनोहर तथा (1) _____ होते हैं। इससे प्रकृति के प्रति (2) _____ की प्रेम भावना (3) _____ होती है। पर्वतीय दृश्य का (4) _____ मात्र कुछ क्षण के लिए चिन्ता तथा व्याकुलता से (5) _____ प्रदान करता है। गद्यांश के रिक्त स्थान (1) के लिए सर्वाधिक उपयुक्त शब्द होगा -

- (a) मनोरम (b) दिव्य
(c) विशाल (d) आकर्षक
62. गद्यांश के रिक्त स्थान (2) के लिए सर्वाधिक उपयुक्त शब्द होगा -
(a) मानव (b) प्राणियों
(c) पशुओं (d) निसर्ग
63. दिए गए वाक्य का वह भाग ज्ञात करें जिसमें कोई त्रुटि है। यदि कोई त्रुटि नहीं है, तो 'कोई त्रुटि नहीं' है विकल्प को चुनें। तुलसी के वास्ते राम अवतार लिया।
(a) कोई त्रुटि नहीं (b) तुलसी के वास्ते
(c) राम (d) अवतार लिया
64. निम्नलिखित में से शुद्ध वर्तनी वाला शब्द कौन सा है?
(a) हस्तक्षेप (b) हस्तछेप
(c) हस्ताक्षेप (d) हस्तच्छेप
65. रिक्त स्थान को भरने के लिए सबसे उपयुक्त शब्द का चयन करें। तुम्हें स्मरण _____ चाहिए।
(a) कराना (b) दिलाना
(c) आना (d) लेना
66. रिक्त स्थान को भरने के लिए सबसे उपयुक्त विकल्प का चयन करें। मनीष के मुख पर _____ झलकता है।
(a) ओज (b) साहस
(c) पौरुष (d) दंभ
67. 'खग' का पर्यायवाची है -
(a) परिन्दा (b) तनय
(c) विटप (d) विशिख
68. 'फट पड़ना' मुहावरे का सही अर्थ है-
(a) एकदम गुस्से में हो जाना (b) बिखर जाना
(c) आश्चर्यचकित हो जाना (d) पिघल जाना
69. दिये गये वाक्य में रेखांकित अंश को प्रतिस्थापित करने के लिए सबसे उपयुक्त विकल्प का चयन करें। इस पुस्तक का छपित मूल्य कितना है?
(a) मौखिक (b) प्रकाशित
(c) मुद्रित (d) लिखित
70. कौनसा शब्द 'परिणय' का समानार्थी शब्द नहीं है?
(a) शादी (b) विवाह
(c) पाणिग्रहीता (d) पाणिग्रहण
71. दिए गए शब्द का विलोम चुनें। आग्रह
(a) उपग्रह (b) दुराग्रह
(c) विग्रह (d) अनुग्रह
72. मुहावरे और उसके अर्थ युग्म सही युग्म की पहचान कीजिए-
(a) अम्बर के तारे गिनना - (b) अंगूठा दिखाना - मुसीबत
अच्छी नींद आना (c) अंगारे सिर पर धरना - (d) आँखों में धूल झोंकना -
शांति से रहना (d) धोखा देना

HINDI

73. दिए गए वाक्य का वह भाग ज्ञात करें जिसमें कोई त्रुटि है। यदि कोई त्रुटि नहीं है, तो 'कोई त्रुटि नहीं है' चुनें। कामायनी पढ़कर (1)/ आनन्द का (2)/अनुभव होता है (3)/ कोई त्रुटि नहीं है (4)
- (a) 1 (b) 4
(c) 2 (d) 3
74. 'जो पढ़ने में रोचक लगे' वाक्यांश के लिए एक शब्द होगा-
- (a) पद्य (b) गद्य
(c) दर्शनीय (d) पठनीय
75. रिक्त स्थान की पूर्ति के लिए सबसे उपयुक्त विकल्प का चयन करें। इस मशीन में कुछ _____ है।
- (a) झकझक (b) खटपट
(c) गड़बड़ (d) बड़बड़
76. दिए गए शब्द के समानार्थी शब्द का चयन करें। उजास
- (a) उन्नति (b) प्रयास
(c) चमक (d) उत्तमता
77. निम्न मुहावरे का अर्थ व्यक्त करने वाले विकल्प का चयन कीजिए। होश उड़ना
- (a) अयोग्य होना (b) सफल होना
(c) सपने देखना (d) डर जाना
78. दिए गए वाक्य में रेखांकित खंड को प्रतिस्थापित करने के लिए सबसे उपयुक्त विकल्प का चयन करें। यदि इसे प्रतिस्थापित करने की आवश्यकता नहीं है, तो विकल्प 'किसी बदलाव की आवश्यकता नहीं है' का चयन करें। भारत में मासिनराम में सर्वाधिक वर्षा होता है।
- (a) सर्वाधिक वर्षा होती है। (b) किसी बदलाव की आवश्यकता नहीं है।
(c) सर्वाधिक वर्षा हुए है। (d) सर्वाधिक वर्षा हुई है।
79. दिये गये वाक्यांश के लिए एक शब्द दीजिये। किए हुए को मानने वाला
- (a) अकृतज्ञ (b) कृतज्ञ
(c) कृतकार्य (d) कृतज्ञ
80. 'परिचारक' का पर्यायवाची है -
- (a) सेवक (b) चालक
(c) वाहक (d) धावक

English

81. Comprehension: In the following passage, some words have been deleted. Read the passage carefully and select the most appropriate option to fill in each blank. King Priam of Troy was old and weak, but his son Hector was a (1) ___ and noble young man. Hector had sensed (2) ___ when his brother had brought Helen to Troy. He (3) ___ that he must fight for his family but (4) ___ the circumstances that had set her against her. the (5) ___ warriors on the Trojan side were Achilles, Aeneas and Agamemnon. Select the most appropriate option to fill in blank no. 1.
- (a) feeble (b) valiant

- (c) meek (d) timid
82. Select the most appropriate option to fill in blank no. 2.
- (a) limit (b) danger
(c) warning (d) climax
83. Select the most appropriate option that can substitute the underlined segment in the given sentence. If there is no need to substitute it, select 'No substitution required'. An educated lady makes a better mother than an uneducated lady, isn't it?
- (a) does she (b) No substitution required
(c) hasn't she (d) doesn't she
84. The following sentence has been split into four segments, Identify the segment that contains a grammatical error. Had you not / been playing / with a ball / for morning?
- (a) for morning (b) with a ball
(c) been playing (d) Had you not
85. Select the most appropriate option that can substitute the underlined word in the given sentence, if there is no need to substitute it, select 'No substitution required'. Everybody were going to see the circus.
- (a) are (b) No substitution required
(c) has (d) was
86. Select the most appropriate ANTONYM of the given word. Cautious
- (a) Alert (b) Vigilant
(c) Watchful (d) Reckless
87. The following sentence has been divided into parts. One of them may contain an error. Select the part that contains the error from the given options. If you don't find any error, select 'No error' as your answer. he walked so fastly / that I could not / keep pace with him.
- (a) He walked so fastly (b) keep pace with him
(c) No error (d) that I could not
88. Select the option that can be used as a one-word substitute for the given group of words. Run after in order to catch or catch up with
- (a) Race (b) Sprint
(c) Rush (d) Chase
89. Select the INCORRECTLY spelt word.
- (a) zealous (b) joyous
(c) nervous (d) furious
90. Select the option that can be used as a one-word substitute for the given group of words. A list of books available in a library
- (a) Catalogue (b) Document
(c) Bibliography (d) Register

91. Select the option that can be used as a one-word substitute for the given group of words. A small ornament which hangs down especially from a necklace
- (a) Pendant (b) Ring
(c) Diamond (d) Earring
92. Select the most appropriate meaning of the given idiom. Go through the roof
- (a) Find a secret route (b) Rise very high
(c) Be very happy (d) Fall down flat
93. Select the most appropriate option to fill in the blank. We can ____ ourselves from the rain by wearing a raincoat.
- (a) neglect (b) care
(c) protect (d) defend
94. Select the most appropriate ANTONYM of the given word. Innocent
- (a) Cunning (b) Harmless
(c) Honest (d) Simple
95. Select the most appropriate option that can substitute the underlined word in the given sentence. If there is no need to substitute it, select 'No substitution required'. They have been living here during ten years.
- (a) No substitution required (b) by
(c) since (d) for
96. The following sentence has been split into four segments. Identify the segment that contains a grammatical error. I decided to / sang a song / in the interschool / song competition.
- (a) in the interschool (b) song competition
(c) sang a song (d) I decided to
97. Select the most appropriate synonym of the given word. Baffle
- (a) Simplify (b) Clarify
(c) Confuse (d) Distinguish
98. Select the INCORRECTLY spelt word.
- (a) People (b) Render
(c) Together (d) Gnaw
99. Select the most appropriate meaning of the given idiom. Think on you feet
- (a) Be interested in trekking (b) Stand up to be able to and running a race solve a problem
(c) Be ready to take up all (d) Adjust quickly to the challenges that you changes and make fast face decisions
100. Select the most appropriate option to fill in the blank. The car stopped ____ when the brakes were applied.
- (a) boldly (b) immediately
(c) faithfully (d) obediently

Basic Familiarity

101. हरियाणा में जैन धर्म के प्रचार-प्रसार में किस संत की प्रमुख भूमिका थी?
Which saint had a major role in the propagation of Jainism in Haryana?
- (a) संत लोकाचार्य Sant Lokacharya (b) संत रामदास Sant Ramdas
(c) संत राघवेंद्र Sant Raghavendra (d) संत लोहाचार्य Sant Lohacharya
102. मुगल सम्राट अकबर के समय में रेवाड़ी का शासक कौन था?
Who was the ruler of Rewari during the time of Mughal Emperor Akbar?
- (a) Ibrahim Lodi इब्राहीम लोदी (b) Babar बाबर
(c) Ahmad Shah Abdali अहमद शाह अब्दाली (d) Hemchandra (Hemu) हेमचन्द्र (हेमू)
103. प्रशासनिक आधार पर हरियाणा को कितने मण्डलों में विभाजित किया गया था?
Haryana was divided into how many divisions on administrative basis?
- (a) 2 (b) 3
(c) 4 (d) 5
104. भौतिक एवं रासायनिक गुणों के आधार पर राज्य की मिट्टी को कितने भागों में बाँटा गया है?
On the basis of physical and chemical properties the soil of the state is divided into how many parts?
- (a) चार four (b) पाँच five
(c) छह six (d) सात seven
105. सुल्तानपुर राष्ट्रीय उद्यान हरियाणा के किस जिले में है?
Sultanpur National Park is in which district of Haryana?
- (a) गुरुग्राम Gurugram (b) रोहतक Rohtak
(c) पंचकुला Panchkula (d) फरीदाबाद Faridabad
106. आंवला उत्पादन में राज्य का अग्रणी जिला कौन सा है?
Which is the leading district of the state in Amla production?
- (a) गुरुग्राम Gurugram (b) अंबाला Ambala
(c) सिरसा Sirsa (d) फरीदाबाद Faridabad
107. निम्नलिखित कथनों में से सही कथन पहचानिए
1- जल संसाधनों के उचित प्रबंधन के लिए राज्य सरकार 'खेल जल प्रबंधन कार्यक्रम' चला रही है।
2- राज्य में कपास और गन्ने का उत्पादन बढ़ाने के लिए 'हर बूंद खेती के लिए' अभियान शुरू किया गया।
3- स्प्रिंकलर सिंचाई परियोजना के तहत सरकार छोटे और मध्यम किसानों को 60% सब्सिडी प्रदान कर रही है।
4- राज्य के दक्षिण एवं दक्षिण-पश्चिम के रेतीले भागों में सिंचाई हेतु स्प्रिंकलर सिंचाई प्रणाली स्थापित की गई है।
कोड

SCHOLARS ACADEMY

Identify the correct statement from the following statements

1- For proper management of water resources, the State Government is running 'Sports Water Management Programme'.

2- To increase the production of cotton and sugarcane in the state, 'Har drop agriculture ke liye' campaign was started.

3- Under the sprinkler irrigation project, the government is providing 60% subsidy to small and medium farmers.

4- The sprinkler irrigation system has been established for irrigation in the sandy parts of the south and south-west of the state.

code

- (a) 1 और 2 1 and 2 (b) 2 और 3 2 and 3
(c) 3 और 4 3 and 4 (d) ये सभी all of them

108. हरियाणा में हीरो मोटरसाइकिल निर्माण फैक्ट्री किस जिले में स्थित है?

In which district is the Hero motorcycle manufacturing factory located in Haryana?

- (a) फरीदाबाद Faridabad (b) रेवाड़ी Rewari
(c) पलवल Palwal (d) सिरसा Sirsa

109. हरियाणा में गोरखपुर परमाणु ऊर्जा परियोजना किस जिले में स्थित है?

In which district is the Gorakhpur Atomic Power Project located in Haryana?

- (a) मेवात Mewat (b) फतेहाबाद Fatehabad
(c) कुरूक्षेत्र Kurukshetra (d) भिवानी Bhiwani

110. हरियाणा के किस शहर में सबसे पहले मेट्रो पहुंची?

In which city of Haryana did the metro reach first?

- (a) रेवाड़ी Rewari (b) गुरुग्राम Gurugram
(c) हिसार Hisar (d) करनाल Karnal

111. हरियाणा से राज्यसभा के सदस्यों के लिए कितनी सीटें आवंटित की गई हैं?

How many seats are allotted for the members of Rajya Sabha from Haryana?

- (a) 5 (b) 8
(c) 10 (d) 12

112. ई-पंचायत संवाद सेवा शुरू करने का उद्देश्य क्या था?

What was the objective of starting 'e-Panchayat Samvad Seva'?

- (a) पंचायतों को सशक्त बनाना Empowering Panchayats
(b) कामकाज में पारदर्शिता लाना Bringing transparency in functioning
(c) ग्राम पंचायतों का सरकार के साथ सीधा संबंध स्थापित करना Establishing direct relation of village panchayats with the government
(d) पंचायत समिति को सशक्त बनाना Empowering Panchayat Samiti

113. गुरुग्राम जिले का क्षेत्रफल कितना है?

What is the area of Gurugram district?

- (a) 1,253 वर्ग किमी 1,253 sq km (b) 1,260 वर्ग किमी 1,260 sq km
(c) 1,207 वर्ग किमी 1,207 sq km (d) 1,462 वर्ग किमी 1,462 sq km

114. निम्नलिखित में से कौन सा आभूषण हस्तनिर्मित है?

Which of the following jewelry is handmade?

- (a) लंगर Langar (b) पचेली Pacheli
(c) पुनाच Punach (d) ये सभी All of them

115. इब्राहीम लोदी का मकबरा में स्थित है।

The tomb of Ibrahim Lodi is located in

- (a) पिंजौर Pinjore (b) गुरुग्राम Gurugram
(c) रेवाड़ी Rewari (d) पानीपत Panipat

116. राजा नाहर सिंह के किले का निर्माण किस शासक ने करवाया था?

Which ruler completed the construction of Raja Nahar Singh's fort?

- (a) राजा बलराम सिंह Raja Balram Singh (b) राजा नाहर सिंह Raja Nahar Singh
(c) राजा रतन सिंह Raja Ratan Singh (d) राजा धर्मवीर सिंह Raja Dharamvir Singh

117. निम्नलिखित में से कौन सा कथन सही नहीं है?

Which of the following statement is not correct?

- (a) कबीरचरितम माधवाचार्य का मुख्य कार्य है Kabircharitam is the main work of Madhvacharya
(b) आचार्य विद्यानिधि शास्त्री ने सामवेद का हिंदी में अनुवाद किया है Acharya Vidyanidhi Shastri translated Samaveda in Hindi
(c) विष्णु सहस्रनाम पंडित सत्यदेव वशिष्ठ की मुख्य रचना है Vishnu Sahasranama is the main composition of Pandit Satyadev Vashistha
(d) गांधी चरितम पंडित शिवराम शास्त्री की पहली कविता है Gandhi Charitam is the first poetry of Pandit Shivram Shastri

118. साक्षरता के मामले में हरियाणा का देश में कौन सा स्थान है?

What is the rank of Haryana in terms of literacy in the country?

- (a) 22वां 22 th (b) 23वां 23 th
(c) 24वां 24 th (d) 25वां 25 th

119. हरियाणा स्टीलर्स ने राष्ट्रीय स्तर पर प्रो कबड्डी लीग में किस वर्ष भाग लिया था?

In which year did Haryana Steelers participate in the Pro Kabaddi League at the national level?

- (a) वर्ष 2016 year 2016 (b) वर्ष 2017 year 2017
(c) वर्ष 2018 year 2018 (d) वर्ष 2019 year 2019

120. 606-647 ई. तक थानेसर पर शासन करने वाला उत्तर भारत का अंतिम हिंदू सम्राट कौन था?

SCHOLARS ACADEMY

Who was the last Hindu emperor of North India to rule Thanesar from 606-647 AD?

- (a) प्रभाकरवर्धन (b) हर्षवर्द्धन
Prabhakarvardhan Harshavardhana
(c) पुलकेशिन द्वितीय (d) महिपाल Mahipala
Pulakeshin II

121. प्रथम मनोवैज्ञानिक प्रयोगशाला की स्थापना किसने की थी?

Who established the first psychological laboratory?

- (a) गाल्टन (b) हल
galton Plough
(c) वुण्ट (d) वाटसन
wunt watson

122. बच्चे की वृद्धि मुख्यतः सम्बन्धित है-

Child growth is mainly related to -

- (a) शारीरिक विकास से (b) सामाजिक विकास से
By physical development From social development
(c) भावात्मक विकास से (d) नैतिक विकास से
Emotional Development From moral development

123. निम्नलिखित में से कौन सा विज्ञापन लैंगिक रूढ़िवादिता का उदाहरण नहीं है?

Which of the following advertisements is NOT an example of a gender stereotype?

- (a) स्पोर्ट्स शू के विज्ञापन में फुटबॉल खेलती एक लड़की A girl playing football in an advertisement for a sports shoe.
(b) टेनिस रैकेट के विज्ञापन में टेनिस खेलता लड़का A boy playing tennis in an advertisement for tennis racquets.
(c) लिपस्टिक के विज्ञापन में मेकअप करती एक लड़की A girl doing makeup in an advertisement for lipsticks
(d) एक कार के विज्ञापन में 'एक महिला को उसके पति द्वारा कार्यालय में छोड़ना' A woman being dropped by her husband to the office in an advertisement for a car

124. नैतिक तर्क के दौरान, पियाजे ने देखा कि समान उम्र के बच्चे वही गलती करते प्रतीत होते हैं क्योंकि:

During moral reasoning, Piaget observe children at similar ages appeared to be making same mistake because :

- (a) वे एक ही वर्ग के थे। they were belong to same class.
(b) उन्होंने इसी तरह की अवधारणा सीखी। they learnt similar concept.
(c) वे एक ही तर्क का प्रयोग कर रहे थे। they were using the same reasoning.
(d) उनका निम्न आईक्यू था। their low IQ

125. निम्नलिखित में से कौन सा एक समाजीकरण के संदर्भ में सही नहीं है?

Which one of the following is NOT true in context of socialization?

- (a) समाजीकरण का मुख्य (b) हमारे सभी कार्य और

उद्देश्य बच्चे को स्थापित मानदंडों और व्यवहार को सीखाना है। The main aim of socialization is to make the child learn the established norms and behaviour.

व्यवहार समाज के विभिन्न नियमों और विनियमों द्वारा नियन्त्रित होते हैं। All our actions and behaviour are governed by different rules and regulation of the society.

- (c) पुरस्कार और दंड समाजीकरण और सामाजिक नियंत्रण के महत्वपूर्ण कारकों के रूप में कार्य करते हैं। Rewards and punishment operates as important agents of socialization and social control.

- (d) स्कूल और शैक्षणिक संस्थान समाजीकरण के महत्वपूर्ण कारक नहीं हैं। Schools and educational institutions are not important agents of socialization.

126. प्रगतिशील शिक्षा के संदर्भ में, शब्द 'समान शैक्षिक अवसर' से अभिप्राय है कि सभी छात्र

In the context of progressive education, the term 'equal educational opportunity' implies that all students should

- (a) अपनी जाति, पंथ, रंग, क्षेत्र और क्षेत्र के अनुसार शिक्षा प्राप्त करें receive education as per their caste, creed, colour, region and region
(b) एक समान शिक्षा प्राप्त करने के बाद अपनी क्षमताओं को सिद्ध कर सकें। be allowed to prove their capability after receiving an equal education
(c) बिना किसी भेद के समान विधियों और सामग्रियों से शिक्षा प्राप्त करें। be provided education by using the same methods and materials without any distinction
(d) एक ऐसी शिक्षा पायें जो उनके लिए अनुकूलतम हो तथा उनके भविष्य के कार्यों में सहायक हों। be provided with an education that is most appropriate to them and their future life at work

127. किस प्रकार का शिक्षाशास्त्र एक शिक्षक को अपनी कक्षा में व्यक्तिगत विभिन्नताओं का ध्यान रखने में मदद करेगा?

What kind of pedagogy would enable a teacher to cater to individual differences among learners in her class?

- (a) मानकीकृत व एक समान Standard and uniform
(b) पूरी तरह से परीक्षाओं पर केन्द्रित Totally centered around exams
(c) पूरी तरह से पाठ्यपुस्तकों पर केन्द्रित Totally centered around textbooks
(d) संलग्न व संदर्भित Engaging and contextual

128. गतिविधि आधारित शिक्षण कक्षा को _____ बनाते हैं।

Activity based teaching make classroom

- (a) उबाऊ (नीरस) boring (b) आनंदपूर्ण joyful
(c) दुर्बोध difficult (d) तनावपूर्ण stressful

129. निम्नलिखित में से कौन-सी भूमिका शिक्षण प्रक्रिया के दौरान शिक्षकों द्वारा प्रदान नहीं की जाती है?

Which among the following roles is NOT served by teachers during the teaching process?

- (a) एक आदर्श के रूप में शिक्षक Teacher as a model
(b) एक सुगमकर्ता के रूप में शिक्षक Teacher as a facilitator
(c) एक वार्ताकार के रूप में शिक्षक Teacher as a negotiator
(d) एक विशेषज्ञ के रूप में शिक्षक Teacher as an expert

130. कोलबर्ग के नैतिक विकास के सिद्धांत के किस चरण में व्याख्या की गई है कि, "उचित व्यवहार के साथ अपने कर्तव्य का पालन करना, स्थापित या वैध प्राधिकार के प्रति सम्मान दर्शाना एवं स्वयं के लिए सामाजिक व्यवस्था को बनाए रखना शामिल है"? "Right behavior consists of doing one's duty, showing respect for established or lawful authority, and maintaining given social order for its own sake" is explained in which stage of Kohlberg's moral development theory?

- (a) अच्छा लड़का या अच्छी लड़की उन्मुखीकरण Good boy - Nice Girl Orientation
(b) सार्वभौमिक नैतिक सिद्धांत उन्मुखीकरण The Universal Ethical Principle Orientation
(c) सामाजिक अनुबंध, कानूनी उन्मुखीकरण The Social Contract, Legalistic Orientation
(d) कानून एवं व्यवस्था उन्मुखीकरण Law and order orientation

131. एक बार एक शिक्षक को पता चला कि उसके दक्षिण भारतीय अंग्रेजी भाषा के छात्र शिक्षक से प्रश्न पूछना अशिष्ट समझते हैं क्योंकि प्रश्न पूछने का मतलब है कि शिक्षक ने शिक्षण का खराब काम किया है, तो वह निम्नलिखित में से किस धारणा को सामान्य कर सकता है?

Once a teacher learned that his South Indian English-language learners students consider it rude to ask the teacher questions because questioning implies that the teacher has done a poor job of teaching, he could generalize to which one of the following assumptions?

- (a) यदि उसके अंग्रेजी भाषा सीखने वाले छात्र प्रश्न नहीं पूछ रहे हैं, तो उन्हें उनसे यह पूछने की आवश्यकता है कि ऐसा क्यों है। If his English language learners are not asking questions, he needs to ask them why.
(b) उन्हें हमेशा अपने दक्षिण भारतीय छात्रों से प्रश्नोत्तरी करनी चाहिए क्योंकि वे शायद समझ नहीं पाएंगे। He should always quiz his South Indian students because they may not be able to understand.
(c) दक्षिण भारतीय छात्र हमेशा बहुत विनम्र होते हैं, लेकिन उनकी चुप्पी का मतलब यह हो सकता है कि वे एक शिक्षक के रूप में उनका सम्मान नहीं करते हैं। South Indian students are always very polite, but their silence can mean they do not respect him as a teacher.
(d) शिक्षक संस्कृति और सीखने के बारे में कोई सामान्यीकरण नहीं कर सकता है। Teacher cannot make any generalizations about culture and learning.

132. एक बच्चे में संरक्षण करने की क्षमता विकसित हो गई है और वह चीजों को सबसे छोटे से लेकर सबसे बड़े तक और इसके विपरीत व्यवस्थित कर सकता है। विचार प्रक्रियाएं बच्चे द्वारा देखी गई वास्तविक घटनाओं के लिए निर्देशित होती हैं। जब तक समस्याएं अमूर्त नहीं होती हैं, तब तक बच्चा समस्याओं पर जटिल संचालन कर सकता है। बच्चा पियाजे के संज्ञानात्मक विकास के सिद्धांत के निम्नलिखित में से किस चरण में है?

A child has developed the ability to conserve and can arrange things from smallest to largest and vice-versa. The thought processes are directed to real events observed by the child. The child can perform rather complex operations on problems as long as the problems are not abstract. The child is at which one of the following stages of Piaget's theory of Cognitive Development?

- (a) मूर्त संक्रियात्मक चरण Concrete operational stage
(b) औपचारिक संक्रियात्मक चरण Formal operational stage
(c) संवेदी प्रेरक चरण Sensorimotor stage
(d) पूर्व संक्रियात्मक चरण Preoperational stage

133. शिक्षार्थी केंद्रित शिक्षा _____ पर आधारित है।

Learner-centered education based on:

- (a) शिक्षक की शिक्षण शैली Teacher's teaching styles
(b) समान रुचि Same interest
(c) सुविधा-प्राप्त अधिगम शैलियों Preferred learning styles
(d) व्यक्तिगत शिक्षा Individual learning

134. कथन (A): एक शिक्षक हमेशा अपने छात्र को सिखाता है, "अच्छा व्यवहार वह है जो दूसरों को प्रसन्न करता है या उनकी सहायता करता है"

कारण (R) : अच्छा लड़का एवं अच्छी लड़की, वह चरण है जो कोहलबर्ग के नैतिक विकास सिद्धांत में अच्छे व्यवहार की व्याख्या करता है।

Assertion(A): A teacher always teaches their student, "Good behavior is that which pleases or helps others".

Reason(R): Good boy and Nice girl, is the stage that explains good behavior in Kohlberg's moral development theory.

- (a) (A) और (R) दोनों सत्य हैं और (R), (A) की सही व्याख्या है। Both (A) and (R) are true and (R) is the correct explanation of (A).
(b) (A) और (R) दोनों सत्य हैं और (R), (A) की सही व्याख्या नहीं है। Both (A) and (R) are true but (R) is not the correct explanation of (A).
(c) (A) सत्य है लेकिन (R) असत्य है। (A) is true but (R) is false.
(d) (A) और (R) दोनों असत्य हैं। Both (A) and (R) are false.

135. एक छात्र त्रुटि करता है। एक शिक्षक के रूप में आप क्या नहीं करेंगे?

A. छात्र को सही उत्तर देंगे।

B. छात्र को अन्य छात्रों से उत्तर की नकल करने की अनुमति देंगे।

C. छात्र से किसी वैकल्पिक विधि का उपयोग करने या स्वयं त्रुटियों का पता लगाने के लिए इसे फिर से करने के लिए कहेंगे।

D. छात्र को दिखाएँगे कि त्रुटियाँ कहाँ हुई हैं और छात्रों को उसे फिर से करने के लिए कहेंगे।

A student makes errors. As a teacher you should not:

- A. provide the student the correct answer.
B. allow the student to copy answer from other students.
C. ask the student to use an alternative method or redo it to find out errors on his/her own.
D. show the student where the errors were made and ask the student to redo it.

- (a) B और C B and C (b) C और D C and D
(c) D और A D and A (d) A और B A and B

136. एक बच्चा अपसारी चिंतन का उपयोग करके अपनी समस्या को हल करना शुरू कर देता है, तो जीन पियाजे के अनुसार बच्चा किस अवस्था में है ?

A child starts solving the problem by using his divergent thinking, According to Jean Piaget in which stage he is-

- (a) संवेदी पेशीय अवस्था (b) पूर्व संक्रियात्मक अवस्था
Sensory motor stage Pre-operational stage
(c) मूर्त संक्रियात्मक अवस्था (d) औपचारिक संक्रियात्मक अवस्था
Concrete operational stage Formal operational stage

137. निम्नलिखित में से कौन-सा शिक्षण-अधिगम प्रक्रिया का आयाम नहीं है ?

Which one of the following is not the dimension of teaching-learning process?

- (a) अधिगम Learning (b) प्रशिक्षण Training
(c) स्कूली शिक्षा Schooling (d) जाँच करना Inquiry

138. यह देखकर कि उनका बेटा रवि पढ़ने में रुचि रखता है और 3 साल की उम्र में पढ़ सकता है, उसके माता-पिता ने उसे बहुत सारी किताबें दिलवाईं। अपने माता-पिता के प्रोत्साहन के कारण, रवि की पढ़ाई उसकी उम्र के अनुसार बहुत उन्नत थी। उपरोक्त उदाहरण से विकास के किस सिद्धांत का अनुमान लगाया जा सकता है ?

Seeing that their son Ravi was interested in reading and could read at the age of 3, his parents got him a lot of books. Due to his parents' encouragement, Ravi's reading was way advanced as per his age.
Which principle of development can be inferred from the above example?

- (a) विकास पूर्वानुमेय पथ का अनुसरण नहीं करता है।
Development does not follow a predictable path.
(b) विकास समीपस्थ है।
Development is proximodistal.
(c) विकास शीर्षाभिमुख है।
Development is cephalocaudal
(d) विकास आनुवंशिकता और पर्यावरण के बीच परस्पर अंतःक्रिया का परिणाम है।
Development is a result of interaction between heredity and environment.

139. सुदीप्ता बच्चों को अपने क्षेत्र में देखी गई अमानवीय परिस्थितियों से बचने में मदद करने के लिए अथक प्रयास करती हैं। वह ऐसा इसलिए करती है क्योंकि वह मानती है कि

यह करना सही है, भले ही वह अक्सर इन बच्चों की मदद करते समय खुद को जानलेवा स्थितियों में पाती है। सुदीप्ता ने कोलबर्ग के नैतिक विकास के किस चरण को प्रदर्शित किया ?

Sudipta works tirelessly to help children escape the inhuman conditions she had witnessed in her area. She does this because she believes it is the right thing to do even though she often finds herself in life-threatening situations when helping these children. Sudipta demonstrates which of Kohlberg's stages of moral development?

- (a) व्यक्तिवाद, उद्देश्य और विनिमय Individualism, purpose, and exchange (b) आज्ञाकारिता और दंड अभिमुखता The Obedience & Punishment Orientation
(c) सामाजिक अनुबंध Social contract (d) सार्वभौमिक नैतिक सिद्धांत Universal ethical principles

140. निम्नलिखित में से कौन सा/से कथन सही है/हैं ?

- I. वृद्धि और विकास दोनों का एक ही अर्थ है।
II वृद्धि विकास है लेकिन विकास वृद्धि नहीं है।
III विकास वृद्धि है लेकिन वृद्धि विकास नहीं है।

Which of the following statements is/are TRUE?

- I. Both growth and development means the same thing.
II Growth is development but development is not growth.
III Development is growth but growth is not development.

- (a) I और II I and II (b) केवल II Only II
(c) II और III II and III (d) I और III I and III

141. राष्ट्रीय शिक्षा नीति 2020 में राष्ट्रीय मूल्यांकन केंद्र को किस नाम से प्रस्तावित किया गया है ?

By what name is the National Assessment Center proposed in the National Education Policy 2020?

- (a) ज्ञान GYAN (b) परख PARAKH
(c) दिशा DISHA (d) दीक्षा DISKHA

142. सामाजिक-सांस्कृतिक विकास सिद्धांत के अनुसार कौन-सा कथन सही नहीं है ?

Which statement is NOT correct as per the socio-cultural development theory?

- (a) यह सिद्धांत एक बच्चे के विकास में समाज और संस्कृति की भूमिका पर बल देता है। This theory emphasized the role of society and culture in the development of a child.
(b) यह सिद्धांत एक रूसी वैज्ञानिक द्वारा प्रस्तावित किया गया है। This theory is proposed by a Russian Scientist.
(c) इस सिद्धांत ने प्रस्तावित किया कि पाइ स्वयं और दूसरों की सहायता से सीखने में अंतराल है। This theory proposed that scaffolding is the gap in learning by self and with the help of others.
(d) इस सिद्धांत ने प्रस्तावित किया कि बच्चे का भाषाई विकास दूसरों के साथ अंतःक्रिया से होता है। This theory proposed that the language development of the child takes place

through interaction with others.

143. शारीरिक, सामाजिक, भावनात्मक, नैतिक और मानसिक पहलुओं का संयोजन विकास के किस सिद्धांत को दर्शाता है -
The combination of Physical, Social, Emotional, Moral, and Mental aspects refers to the which principle of development -

- (a) दर के विभेदन का सिद्धांत (b) एकीकरण का सिद्धांत
Principle of Differentiation of rate Principle of Integration
(c) अंतर्संबंध का सिद्धांत (d) निरंतरता का सिद्धांत
Principle of Interrelation Principle of continuity

144. लैंगिक अनुकूल कक्षा वातावरण के लिए सुझावात्मक उपाय है-
The suggestive measures for gender friendly classroom environment is-

- (a) कक्षा कर्तव्यों का आवंटन (b) लैंगिक तटस्थता के उदाहरणों को साझा करना
Allocation of classroom duties. Sharing of examples of gender neutrality.
(c) लड़कों और लड़कियों को समान रूप से भाग लेना चाहिए Boys and girls should participate equally.
(d) लड़कों की भागीदारी को प्रोत्साहित करना
Encourage the participation of boys.

145. एक बच्चे ने अपने भौतिक गुणों के आधार पर चीजों को छाँटने की क्षमता विकसित कर ली है। जब तक समस्याएँ अमूर्त न हों, तब तक बच्चा समस्याओं पर जटिल ऑपरेशन भी कर सकता है। पियाजे के संज्ञानात्मक विकास के सिद्धांत के निम्नलिखित चरणों में से कौन सा बच्चा है?

A child has developed the ability to sort things on the basis of their physical properties. The child can perform rather complex operations also on problems as long as the issues are not abstract. The child is at which one of the following stages of Piaget's theory of Cognitive Development?

- (a) मूर्त संक्रियात्मक चरण (b) औपचारिक संक्रियात्मक चरण
Concrete operational stage Formal operational stage
(c) संवेदी प्रेरक चरण (d) पूर्व संक्रियात्मक चरण
Sensorimotor stage Preoperational stage

146. एक शिक्षक के पास बच्चों की मनोवृत्ति में व्यक्तिगत भिन्नता को समझने के लिए किस ज्ञान का होना आवश्यक है?

What knowledge should a teacher possess to understand the individual differences in the psychology of children?

- (a) आनुवंशिकता और पर्यावरण दोनों Both heredity and environment
(b) केवल आनुवंशिकता Only Heredity
(c) केवल पर्यावरण Only Environment
(d) एक पूर्ण चिकित्सा जांच की आवश्यकता होती है। A complete medical check is required.

147. एक कक्षा में तीन पोलियो पीड़ित बच्चे हैं। खेल अवधि के दौरान उन्हें

There are three polio affected children in a class. During the games period, they should be

- (a) एक कोने में बैठाना चाहिए ताकि वे बच्चे खेल का आनंद उठा सकें। seated in a corner so that these children can enjoy the game
(b) अन्य बच्चों के साथ उनके लिए उपयुक्त खेलों में भाग लेने के लिए प्रोत्साहित करना चाहिए। encouraged to take part in the games appropriate for them, with other children
(c) केवल इनडोर (आंतरिक) खेलों में भाग लेने की अनुमति देनी चाहिए। allowed to take part only in indoor games
(d) कक्षा के सभी विद्यार्थियों के साथ खेलने के लिए विवश करना चाहिए। forced to play with all the students of the class

148. बच्चा जिस परिवार से संबंधित है, उसका अधिगम पर काफी प्रभाव पड़ता है। यह कारक किस श्रेणी के अंतर्गत आता है?

The family the child belongs to has a considerable influence on learning. This factor belongs to which category?

- (a) सामाजिक-भावनात्मक कारक Socio-emotional Factors
(b) मनोवैज्ञानिक कारक Psychological Factors
(c) शारीरिक कारक Physiological Factors
(d) शैक्षिक कारक Educational Factor's

149. एक शिक्षक छात्रों को एक वृत्तचित्र वीडियो दिखाता है और उन्हें अपने अवलोकन या राय साझा करने के लिए कहता है। हर छात्र अलग-अलग राय देता है। छात्रों द्वारा दिए गए विचारों में अंतर के पीछे निम्नलिखित में से कौन सा कारण है?

A. क्योंकि जो छात्र अल्पसंख्यक समूह से संबंध रखते हैं उनमें सोचने की प्रक्रिया कम होती है।

B. क्योंकि छात्रों में समझ और क्षमता का अंतर होता है।

C. क्योंकि छात्रों की सीखने में अलग-अलग रुचि होती है।

D. क्योंकि छात्रों की अलग-अलग धारणाएँ होती हैं।

A teacher shows the students a documentary video and tells them to share their observations or opinions. Each and every student give different opinions. Which of the following reason behind the difference of opinions given by students?

- A. Because students who belong to a minority group have low processes of thinking.
B. Because students have the differentiation of understanding and ability.
C. Because students have varying interests in learning.
D. Because students have different perceptions.
(a) B, C और D B, C and D (b) A, B और C A, B and C
(c) A, B और D A, B and D (d) उपरोक्त सभी All of the above

150. निम्नलिखित की गहनता से जाँच कीजिये:
अधिकतम (A): शिक्षण और अधिगम की प्रक्रिया में अभिप्रेरणा महत्वपूर्ण है।
कारण (R): अभिप्रेरणा एक उद्देश्य के प्रति आकर्षण है और इसका अर्थ स्पष्ट करती है।

Critically judge the following:

Assertion (A): Motivation is important in the process of teaching and learning.

Reason (R): Motivation is attraction towards a goal and clarifies its meaning.

- (a) (A) और (R) दोनों गलत हैं। (b) केवल (A) सही है। Only Both (A) and (R) are incorrect. (A) is correct.
- (c) केवल (R) सही है। Only (R) is correct. (d) (A) और (R) दोनों सही हैं। Both (A) and (R) are correct.

151. निम्नलिखित में से कौन सा कथन संज्ञानात्मक विकास से संबंधित वायगोत्सकी की तीन मुख्य अवधारणाओं की रूपरेखा नहीं है?

Which of the following is not the three main concepts outline by Vygotsky related to cognitive development?

- (a) भाषा संस्कृति का आधार है। language is the root of culture (b) व्यक्ति समुदाय में अपनी भूमिका के भीतर सीखते और विकसित होते हैं। individuals learn and develop within their role in the community
- (c) अधिगम में संस्कृति महत्वपूर्ण है। culture is significant in learning (d) संस्कृति मानव व्यवहार से प्रभावित नहीं होती है। culture is not affected by human behaviour

152. निम्नलिखित में से कौन सा सुधार NEP-2020 में शामिल किया गया था?

Which of the following reforms was included in NEP-2020?

- (a) समान और समावेशी शिक्षा Equitable and inclusive education (b) सभी स्तरों पर सार्वभौमिक पहुंच सुनिश्चित करना Ensuring Universal Access at All Levels
- (c) नई पाठ्यचर्या और शैक्षणिक संरचना (5+3+3+4) New Curricular and Pedagogical Structure (5+3+3+4) (d) उपर्युक्त सभी All the above

153. पियाजे के अनुसार, सामान्य विशेषताओं के आधार पर समूह की वस्तुओं को एक साथ रखने की क्षमता को निम्नलिखित में से किस रूप में जाना जाता है?

According to Piaget, the ability to group 'objects' together on the basis of common features is termed as:

- (a) आत्मसात्करण Assimilation (b) समायोजन Accommodation
- (c) वर्गीकरण Classification (d) क्रमबद्धता Seriation

154. आर्यन एक संकल्पना को अवधारणात्मक और सार्थक रूप से सीखने के बाद उस पर प्रश्न बनाने का प्रयास करता है, इस उदाहरण से विकास का कौन सा सिद्धांत संबंधित है?

Aryan tries to create questions on a concept after learning it conceptually and meaningfully, by this example which principle of development is related?

- (a) सामान्य से विशिष्टता का सिद्धांत Principle of Generality to Specificity (b) अंतर्संबंध का सिद्धांत Principle of Interrelation
- (c) व्यक्तिगत विभिन्नता का सिद्धांत Principle of Individual Differences (d) अंतःक्रिया का सिद्धांत Principle of Interaction

155. अभिकथन (A): सतत और व्यापक मूल्यांकन मूल्यांकन की निरंतरता और सीखने के परिणामों के व्यापक मूल्यांकन को महत्व देता है।

तर्क (R): सतत और व्यापक मूल्यांकन में बाल विकास से संबंधित स्कूली गतिविधियों (शैक्षिक और सह-शैक्षिक) के सभी पहलुओं को शामिल किया गया है।

Assertion (A): Continuous and Comprehensive Evaluation gives importance to the continuity of evaluation and the comprehensive assessment of learning outcomes.

Reasoning (R): Continuous and Comprehensive Evaluation covers all aspects of school activities (scholastic and co-scholastic) related to child development.

- (a) (A) और (R) दोनों सत्य हैं। Both (A) and (R) are true (b) (A) और (R) दोनों असत्य हैं। Both (A) and (R) are false
- (c) (A) सत्य है, लेकिन (R) असत्य है। (A) is true, but (R) is false (d) (A) असत्य है, लेकिन (R) सत्य है। (A) is false, but (R) is true

156. अधिगम के बारे में निम्नलिखित में से कौन सा सही है?

Which of the following is correct about learning?

- (a) पाठ्यचर्या में कठोरता छात्रों के अधिगम में सकारात्मक मार्ग बनाती है। Rigidity in the curriculum makes positive way in learning of the students. (b) पाठ्यपुस्तक ही एकमात्र स्रोत है जो अधिगम को सर्वोत्तम बना सकती है। Textbooks are the only source that can make the learning best.
- (c) शिक्षक और छात्र संबंध भी छात्रों के अधिगम को प्रभावित करते हैं। Teacher and students relation also impact the learning of the students. (d) उपर्युक्त सभी All the above

157. नैन्सी के पास वस्तुओं का अवलोकन करने का कौशल है, वह अवलोकन द्वारा बहुत तेजी से सीखती है, आपके अनुसार नैन्सी के इस कौशल पर कौन सा मनोवैज्ञानिक सिद्धांत निर्भर है?

Nancy has a skill of observing things, she learns very fast by observing, according to you which psychologist theory is dependent on this skill of Nancy?

- (a) औसुबेल Ausubel (b) कोहलर Kohler
- (c) बंडुरा Bandura (d) कर्ट लेविन Kurt Lewin

158. समीपस्थ दूरी का क्षेत्र और स्कैफोल्डिंग बाल विकास की कुछ प्रमुख प्रक्रियाएँ हैं। ये शब्द किसने दिए?

Proximal distance zone and scaffolding are some of the major processes of child development. Who gave these words?

- (a) रूसो Rousseau (b) वाइगोत्सकी Vygotsky

- (c) कोहलबर्ग Kohlberg (d) प्याज़े Piaget
159. खेल के प्रत्याशित सिद्धांत के प्रतिपादक कौन थे ?
Who was the propounder of Anticipatory theory of Play ?
- (a) कार्ल ग्रोस Karl Groos (b) जी. स्टेनली हॉल G. Stanley Hall
(c) मैक-डूगल Mc-Daugall (d) लाजासूस Lazarus
160. साइकिल चलाने में संतुलन का ज्ञान स्कूटर चलाना सीखने में सहायता करता है। यहां अधिगम के स्थानान्तरण का प्रकार है
The knowledge of balancing in cycling helps in learning of scooter driving. The type of transfer of learning here is
- (a) सकारात्मक स्थानांतरण (b) नकारात्मक स्थानांतरण
Positive transfer Negative transfer
(c) शून्य स्थानांतरण (d) द्विपक्षीय स्थानांतरण
Zero transfer Bilateral transfer
161. पेडागॉजी (Pedagogy) में कम्प्यूटर का उपयोग होता है—
Computer is used in pedagogy –
- (a) तालीमार्थी को प्रेरित करने (b) फीड बैक देने के लिए
to motivate the trainee to give feedback
(c) तालीमार्थी के साथ (d) उपरोक्त सभी के लिए
प्रतिक्रिया के लिए for all of the above
For feedback with Talimarthi
162. इनसेट-1(B) प्रक्षेपण कब किया गया?
Inset-1(B) When was it launched?
- (a) 30 अप्रैल, 1983 (b) 30 अगस्त, 1983
April 30, 1983 August 30, 1983
(c) 30 दिसम्बर, 1983 (d) 30 जनवरी, 1984
December 30, 1983 January 30, 1984
163. सूचना धोरी मार्ग (Information highway) या नेट (net) है—
Information highway or net is –
- (a) कम्प्यूटर (b) इंटरनेट
Computer Internet
(c) इन्ट्रानेट (d) की-बोर्ड
intranet keyboard
164. 'मनोचिकित्सक डोमेन' से क्या तात्पर्य है?
What is meant by 'psychiatric domain'?
- (a) मानसिक कौशल (b) शारीरिक विकास
mental skills physical development
(c) भावनात्मक विकास (d) मानसिक या शारीरिक कौशल
emotional development mental or physical skills
165. संज्ञानात्मक डोमेन में कितनी श्रेणियां होती हैं?
How many categories are there in cognitive domain?
- (a) 4 (b) 3
(c) 6 (d) 5
166. विवेचन (Thinking) तत्त्वतः (essentially) होती है—
Thinking is essentially –
- (a) मनोप्रेरक प्रक्रिया (b) मनोवैज्ञानिक तथ्य
psychomotor process psychological facts
(c) भावात्मक आचरण (d) संज्ञानात्मक क्रिया
emotional behavior cognitive function
167. वैज्ञानिक चिंतन का निर्णायक पक्ष क्या होता है?
What is the decisive aspect of scientific thinking?
- (a) समस्या (b) परिणाम
Problem result
(c) विधि (d) परिकल्पना
Method hypothesis
168. अभिवृत्ति, अभिरुचि एवं मूल्य निम्न में से किस क्षेत्र में आते हैं?
Attitudes, interests and values come under which of the following areas?
- (a) संज्ञानात्मक क्षेत्र में (b) मनोगत्यात्मक क्षेत्र में
in cognitive domain in the psychodynamic area
(c) भावात्मक क्षेत्र में (d) चिन्तनशील
in the emotional sphere contemplative
169. कोहलबर्ग के नैतिक न्याय के निम्नलिखित चरणों में से किस चरण में पियाजे के चरणों की कई विशेषताएँ हैं?
Which of the following stages of Kohlberg's Moral Judgment share its many features with Piaget's stages.
- (a) चरण 2, चरण 3, चरण 5 (b) चरण 1, चरण 2, चरण 3
Stage 2, Stage 3 and Stage 5 Stage 1, Stage 2 and Stage 3
(c) चरण 2, चरण 4, चरण 6 (d) चरण 1, चरण 2, चरण 5
Stage 2, Stage 4 and Stage 6 Stage 1, Stage 2 and Stage 5
170. निम्नलिखित में से कौन कोहलबर्ग के नैतिक विकास के 6 चरणों में से पहला चरण है?
Which of the following is the first stage of Kohlberg's six stages of moral development?
- (a) सामाजिक व्यवस्था बनाए रखना (b) अच्छे पारस्परिक सम्बन्ध
Maintaining the social order Good Interpersonal Relationships
(c) सामाजिक अनुबन्ध और व्यक्तिगत अधिकार (d) आज्ञाकारिता और दण्ड
Social contract and individual Obedience and punishment
171. एक समावेशी कक्षा में कविता पढ़ाने के लिए आप क्या करेंगे?
What would you do to teach poetry in an inclusive classroom?
- (a) कविता को टेपरिकॉर्डर से सुनाएंगे, ताकि सभी बच्चों पर ध्यान दिया जा सके
The poem will be recited on a tape recorder, so that all the children can pay attention.
(b) कविता को पढ़ाने के लिए एक से अधिक विधियों का प्रयोग करेंगे, ताकि बच्चों को विभिन्न इन्द्रियों से अनुभव प्राप्त करने का अवसर मिल सके
More than one method will be used to teach poetry, so that children get the opportunity to experience it through different senses.
(c) एक ही कविता को पाँच बार सुनाएंगे, पाठ करवाएंगे, ताकि सभी बच्चों की समझ में आ जाए
Will recite the same poem five times and make it recited, so that all the
(d) कविता को चार्ट पेपर पर लिखकर बच्चों की पहुँच से दूर दीवार पर लगा देंगे और उसकी ओर संकेत करके कविता जोर-जोर से पढ़ेंगे
Write the poem on chart paper and put it on the wall

SCHOLARS ACADEMY

children can understand it.

away from the reach of children and point to it and read the poem out loud.

172. समावेशी शिक्षा-

inclusive education-

(a) दाखिले सम्बन्धी कठोर प्रक्रियाओं को बढ़ावा देती है

(b) तथ्यों की शिक्षा (मतारोपण) से सम्बन्धित है

Pertains to the education of facts (indoctrination)

Promotes rigorous admissions processes

(c) हाशिए पर स्थित वर्गों से शिक्षकों को सम्मिति करने से सम्बन्धित है

(d) कक्षा में विविधता का उत्सव मनाती है

celebrates diversity in the classroom

Relates to appointing teachers from marginalized sections

173. एक समावेशी शिक्षा प्रणाली बच्चों को _____ का उचित अवसर प्रदान करती है-

An inclusive education system provides children with appropriate opportunities to _____

(a) खेलने

(b) आनंद उठाने

to play

to enjoy

(c) कार्य करने

(d) सीखने

to work

learning

174. जनजातीय सामाजिक आर्थिक सांस्कृतिक जीवन और बच्चों में कौन सा पेड़ बहुत महत्व रखता है?

Which tree holds great importance in tribal socio-economic cultural life and children?

(a) बरगद का पेड़

(b) माहुल का पेड़

Banyan Tree

Mahul tree

(c) पीपल का पेड़

(d) नारियल का पेड़

Ficus tree

Coconut tree

175. मूल्यांकन का सर्वाधिक अर्थपूर्ण राह है-

The most meaningful way of evaluation is -

(a) निरंतर और विस्तृत मूल्यांकन

(b) टर्म के अंत में हेतुलक्षी परीक्षा लेना

Continuous and detailed evaluation

taking objective exams at the end of term

(c) विद्यार्थियों का क्युमुलेटिव रिकॉर्ड रखना

(d) सेमेस्टर पद्धति मूल्यांकन

Semester Method Evaluation

Maintaining cumulative records of students

176. व्यापक मूल्यांकन के निर्धारण को सूचित करता है।

Comprehensive evaluation informs the determination of.....

(a) सह-अध्यापन प्रवृत्ति

(b) सैद्धांतिक विषयों

co-teaching trend

theoretical subjects

(c) शैक्षिक और सह-शैक्षिक क्षेत्र

(d) संकलित निर्धारण परीक्षण

integrated assessment test

Scholastic and co-scholastic areas

177. छात्रों के अर्जित ज्ञान (acquired knowledge) की जाँच करने के लिए प्रयोग में ली जाने वाली प्रविधि है-

The technique used to check the acquired knowledge of students is -

(a) परीक्षण विधि

(b) प्रयोजन विधि

test method

purpose method

(c) प्रश्नोत्तर विधि

(d) निरीक्षण विधि

question and answer method

Inspection Method

178. किसी का मूल्य व कीमत मालूम करने की प्रक्रिया है-

The process of finding out someone's worth and value is -

(a) परीक्षण

(b) मापन

tests

measurement

(c) आकलन

(d) मूल्यांकन

assessment

Evaluation

179. समाजीकरण की विशेषता कौन-सी है?

What is the characteristic of socialization?

(a) बुनियादी अनुशासन मन में बैठाना

(b) असामान्य तरीके से व्यवहार करना

inculcate basic discipline

behave abnormally

(c) अकेले निर्देश या अध्ययन द्वारा प्राप्त ज्ञान या कौशल

(d) एक विशिष्ट वर्ग के लोगों की विशेषताएं और ज्ञान

knowledge or skill acquired

Characteristics and

by instruction or study alone

knowledge of a specific class of people

180. प्रत्याशित समाजीकरण का क्या अर्थ है?

What does anticipatory socialization mean?

(a) जीवन के प्राथमिक या शुरूआती वर्षों में शिशु का समाजीकरण

(b) पूर्व व्यवहारिक स्वरूप को हटाने और व्यक्ति के जीवन में परिवर्तन के एक हिस्से के रूप में नए लोगों को स्वीकार करने की प्रक्रिया

Socialization of the child in the primary or early years of life

The process of removing former behavioral patterns and accepting new ones as part of a change in a person's life.

(c) प्रक्रिया जिसके द्वारा मनुष्य समूह में शामिल होने की प्रत्याशा से समूह की संस्कृति सीखते हैं।

(d) विकास के चरण के दौरान, एक बच्चा अपने समकक्षों से सामाजिक आचरण में बहुत महत्वपूर्ण पाठ सीखता है।

The process by which humans learn the culture of a group in anticipation of joining the group.

During the developmental stage, a child learns very important lessons in social conduct from his peers.

181. किसी व्यक्ति के विकास में शिक्षा की क्या भूमिका होती है?

I. यह विद्यार्थियों को शिक्षण कौशल प्रदान करता है, जो उन्हें जीवन में कार्य करने के लिए शारीरिक, मानसिक तथा सामाजिक रूप से तैयार करता है।

II. उच्च शिक्षा एक स्वस्थ समाज को बनाए रखने में मदद करती है, जो शिक्षित स्वास्थ्य देखभाल उपभोक्ताओं तथा पेशेवरों को तैयार करती है।

SCHOLARS ACADEMY

What role does education play in the development of the person?

I. It imparts teaching skills to the students which makes them physically, mentally and socially ready to work in life.

II. Higher education helps to maintain a healthy society that education prepares health, care, consumers and professionals

- (a) केवल I (b) न ही I न ही II
Only I Neither I nor II
(c) I तथा II दोनों (d) केवल II
Both I and II Only II

182. निम्नलिखित में से कौन-सा शांति अभिविन्यस्त उन्मुख शिक्षाशास्त्र का केन्द्र बिंदु है?

Which of the following is the focal point of peace orientation in education?

- (a) केवल अवधारणाओं का प्रतिधारण (b) अन्य लोगों के साथ देशद्रोह का अधिगम करना
Retention of concepts only Treason with others
(c) केवल याद करने का परीक्षण (d) व्यक्तिगत लक्ष्यों को प्राप्त करना
Testing only to remember To get personal targets

183. पाठ्यक्रम विकास और सुधार में राष्ट्रीय पाठ्यक्रम फ्रेमवर्क की वर्तमान चिंता क्या है?

What is the current concern of the National Curriculum Framework in curriculum development and reform?

- (a) बच्चों के लिए पाठ्यक्रम समावेशी और सार्थक बनाना (b) बच्चों को पाठ्यपुस्तक के साथ पूरी तरह से सुनिश्चित करना
Making the curriculum inclusive and meaningful for children Ensuring children are fully equipped with textbooks
(c) शिक्षक केंद्रित शिक्षा (d) बच्चों के समाजीकरण पर ध्यान केंद्रित करना
teacher centered education Focusing on the socialization of children

184. ज्ञान का मतलब क्या नहीं है?

What does not mean knowledge?

- (a) सोचना और करना (b) अर्थपूर्ण शिक्षा
think and do meaningful education
(c) जानकारी का संग्रहण और पुनःप्राप्ति (d) स्वयं और दुनिया की भावना बनाना
Information storage and retrieval making sense of self and world

185. सामाजिक रूप से उपयोगी कार्य उत्पादक की अवधारणा वर्ष में लागू की गई थी-

The concept of producing socially useful work was implemented in the year-

- (a) 1977 (b) 1966
(c) 1986 (d) 2005

186. भारत में गृह-शिक्षा निम्नलिखित में से कौन है?

Which of the following is home education in India?

- (a) अलग-अलग लोगों के लिए (b) अलग-अलग लोगों के लिए

औपचारिक शिक्षा

formal education for different people

(c) अलग-अलग लोगों के लिए दूरस्थ शिक्षा

Distance learning for different people

वैकल्पिक शिक्षा

Alternative education for different people

(d) अलग-अलग लोगों के लिए अनौपचारिक शिक्षा

non-formal education for different people

187. सड़क के बच्चों के लिए बाल गृह, घर, प्रायोजित शिक्षा, गरीब विद्यार्थियों के लिए शिक्षा सामग्री का वितरण, शिक्षा प्रयोजक-स्कूल और ट्यूशन फीस और अनाथालय द्वारा चलाए जा रहे विभिन्न कार्यक्रम हैं।

Children's homes, homes for street children, sponsored education, distribution of educational material to poor students, education sponsor-schools and tuition fees and orphanages run by various There are programs.

- (a) सीडब्ल्यू (b) डीसीडब्ल्यू
CW DCW
(c) स्यूडस (d) इनमें से कोई नहीं
SUDS none of these

188. एन.यू.इ.पी.ए. (NUEPA) मुख्यतः किससे संबंधित है? NUEPA (NUEPA) is mainly related to?

- (a) शैक्षणिक देखभाल (b) शैक्षणिक एकता
educational care academic unity
(c) शैक्षणिक योजना (d) शैक्षणिक मूल्यांकन
educational plan academic evaluation

189. इनमें से कौन सा समुदाय आउटरीच गतिविधि नहीं है?

Which of the following is not a community outreach activity?

- (a) वयस्क साक्षरता कार्यक्रम (b) स्वास्थ्य कार्यक्रम
Adult Literacy Program health program
(c) अस्पतालों और मेलों में स्वयंसेवी कार्य (d) शैक्षणिक भ्रमण
Volunteer work in hospitals and fairs educational tour

190. NLM का पूर्ण रूप क्या है?

What is the full form of NLM?

- (a) नेशनल लिटरेसी मिशन (b) नेशनल लो कॉस्ट मिशन
National Literacy Mission National Low Cost Mission
(c) नेशनल लर्निंग मिशन (d) नेशनल लेवल मिशन
National Learning Mission National Level Mission

191. स्कूल में जोखिम कारक क्या हैं?

What are the risk factors in school?

- (a) छात्रों का स्वास्थ्य (b) असुरक्षित पानी, अस्वच्छता और खराब हाइजीन
student health Unsafe water, uncleanliness and poor hygiene
(c) स्कूल परिसर (d) शिक्षकों का रवैया
school campus attitude of teachers

192. निम्न में से सभी निर्णय लेने वाली स्कूल गतिविधियों में भाग लेने के लिए माता-पिता को प्रोत्साहित किया जाना चाहिए, सिवाए- Parents should be encouraged to participate in all of the following decision-making school activities, except:

- (a) सामाजिक रूप से उपयोगी (b) सांस्कृतिक आयोजन के

- गतिविधियों के
socially useful activities
(c) परीक्षा सुधार के
for exam improvement
- of cultural events
(d) स्कूल यूनीफॉर्म के
school uniform
193. सांख्यिकी क्या कर सकती है?
What can statistics do?
(a) कुछ भी साबित कर सकती है
can prove anything
(c) ना तो कुछ भी साबित या असत्य प्रमाणित कर सकती है। वह केवल एक हथियार है
Neither can prove or disprove anything. it's just a weapon
194. माध्य विचलन इसके बराबर होता है-
Mean deviation is equal to -
(a) 1/3 s
(c) 1/5 Q.D.
195. सामाजिक विज्ञान शिक्षण के लिए आप वृत्तांतों का प्रयोग क्यों करेंगे? दिए गए विकल्पों में से सबसे उचित कारण को चुनिए।
Why would you use narratives to teach social science? Choose the most appropriate reason from the given options.
(a) पाठ्यक्रम की पूर्णता को सुनिश्चित कर सकें
ensure completion of the curriculum
(c) कक्षा को मनोरंजक एवं सजीव बना सकें
make the class interesting and lively
196. आप ऐतिहासिक कल्पना का प्रश्न क्यों पूछेंगे? निम्नलिखित में से सबसे उचित विकल्प को चुनिए।
Why would you ask a question of historical imagination? Choose the most appropriate option from the following.
(a) यह तिथि और घटनाओं को याद रखने का रोचक तरीका है
This is an interesting way to remember dates and events
(c) यह वर्तमान की अतीत के साथ तुलना करने में प्रोत्साहित करता है
It encourages comparison of the present with the past
- (b) शिक्षार्थियों को संवेदनशील बना सकें जिससे वे उचित आदर्श का पता कर सकें
To sensitize the learners so that they can know the appropriate role model
(d) अवधारणाओं को सजीव वास्तविकताओं के साथ जोड़ सकें
connect concepts to lived realities
- (b) कुछ भी असत्य प्रमाणित कर सकती है
can disprove anything
(d) इनमें से कोई नहीं
none of these
197. उच्च प्राथमिक स्तर पर सामाजिक एवं राजनीतिक जीवन की पाठ्य-पुस्तकों में निम्नलिखित विषयों में से किससे सम्बन्धित विषयवस्तु सम्मिलित है?
Content related to which of the following subjects is included in the text books of social and political life at the upper primary level?
(a) अंतर्राष्ट्रीय सम्बन्ध
International relations
(c) अर्थशास्त्र
Economics
- (b) मनोविज्ञान
Psychology
(d) दर्शनशास्त्र
philosophy
198. उस शब्द को चुनें जो दिए गए शब्द के समान अर्थ का है-
Active
Choose the word that means the same as the given word.
active
(a) Slothful
(c) Energetic
- (b) Indolent
(d) Lethargic
199. उस शब्द को चुनें जो दिये गए वाक्य को प्रतिस्थापित करता है-
One who attends to the teeth.
Choose the word that can substitute the given sentence.
One who attends to the teeth.
(a) Oculist
(c) Undertaker
- (b) Mercer
(d) Dentist
200. निम्नलिखित में से कौन आत्म अवधारणा के तहत अवधारणा निर्माण को प्रभावित करने में भूमिका निभाता है ?
I. परिवार के सदस्यों के साथ सम्बन्ध
II. संस्मरण कौशल
III. साधारण स्थित
Which of the following plays a role in influencing the concept formation under self concept ?
I. Relationship with the family members
II. Memorization skills
III. Ordinal position
(a) II और III दोनों
Both II and III
(c) I और III दोनों
Both I and III
- (b) I, II और III
I, II and III
(d) I और II दोनों
Both I and II