

DO NOT OPEN THE SEAL OF THE BOOKLET UNTIL YOU ARE TOLD TO DO SO

EXAM ID. - 10252

DSSSB

TEST SERIES

DATE - __/__/__

DAY -

INSTRUCTION FOR CANDIDATE

उम्मीदवारों के लिए अनुदेश

TEST SERIES NO.

A - 102

QUESTION - 200

MARKS - 200

NEGATIVE MARK - 0.25

DURATION - 120 MIN.

- केवल काले या नीले रंग की स्पाही वाले बॉल पेन का ही उपयोग करें
- परीक्षा प्रारंभ होते ही आप इस प्रश्न पुस्तिका की जाँच अवश्य कर ले तथा यदि इसमें कोई बिना छपा कटा-फटा या आंशिक छपा हुआ पृष्ठ अथवा प्रश्न हो, तो इसे अभिजागर के माध्यम से सही प्रश्न पुस्तिका से बदल लीजिए।
- इस प्रश्न पुस्तिका में कुल 200 प्रश्न हैं।
- यह एक वस्तुनिष्ठ परीक्षा है, जिसमें प्रत्येक प्रश्न के उत्तर के लिए चार विकल्प दिए गए हैं, आपको इन चार विकल्पों में से सही उत्तर वाले एक ही विकल्प को चुनना है।
- सभी प्रश्नों के उत्तर अलग अलग से दिए गए उत्तर-पत्रक पर ही अंकित करने हैं।

- उत्तर-पत्रक को भरने हेतु निर्देश उत्तर-पत्रक के पृष्ठ भाग पर अंकित हैं, जिन्हें उत्तर-पत्रक को भरने से पूर्व ध्यान से पढ़ ले।
- इस प्रश्न पुस्तिका में रफ-कार्य के लिए खाली पृष्ठ उपलब्ध हैं।
- परीक्षा समाप्त होने से पूर्व परीक्षार्थी कक्ष से बाहर नहीं जा सकते हैं।
- परीक्षा समाप्त होने के पश्चात् आप उत्तर-पत्रक की ORIGINAL COPY को अभिजागर के पास जमा कराकर उनकी अनुमति से ही बाहर जा सकते हैं।
- परीक्षा समाप्त होने पर प्रश्न पुस्तिका एवं उत्तर-पत्रक की Candidate's Copy को अपने साथ ले जाने की अनुमति है।
- प्रत्येक सही उत्तर पर 1 अंक प्राप्त होगा तथा प्रत्येक गलत उत्तर पर 0.25 अंक काटा जाएगा।

SCHOLARS ACADEMY

SSC | IBPS | NDA | RAILWAY | COMMERCE

Add : H-81, Ind floor, South Extension I, Block H, New Delhi, Delhi 110049

MOB:- 01141676717, 9312712114

General Awareness

1. निम्नलिखित में से कौन सा कथन मिट्टी की विशेषता नहीं है?
Which of the following statements is not a characteristic of soil?
- (a) यह आकार्बनिक पदार्थ से बना है।
It is made of inorganic material.
- (b) यह खनिजों से बना है।
It is made of minerals.
- (c) यह पृथ्वी की सतह को कवर करता है।
It covers the earth's surface.
- (d) यह दानेदार पदार्थ की एक पतली परत होती है।
It is a thin layer of granular material.
2. लॉर्ड रिपन द्वारा हंटर कमीशन की नियुक्ति किस वर्ष में की गई थी?
In which year was Hunter Commission appointed by Lord Ripon?
- (a) 1883
(b) 1881
(c) 1880
(d) 1882
3. 1992 के 73 वें संशोधन अधिनियम ने संविधान में एक नया खंड जोड़कर पंचायतों को संवैधानिक मान्यता प्रदान की।
The 73rd Amendment Act of 1992 provided constitutional recognition to Panchayats by adding a new clause to the Constitution.
- (a) IX
(b) X
(c) XI
(d) XII
4. संयुक्त राष्ट्र के खाद्य और कृषि संगठन (FAO) ने वर्ष में कोरापुट पारंपरिक कृषि को वैश्विक रूप से महत्वपूर्ण कृषि विरासत प्रणाली (GIAHS) के रूप में घोषित किया।
The Food and Agriculture Organization of the United Nations (FAO) declared Koraput traditional agriculture as a 'Globally Important Agricultural Heritage System' (GIAHS) in the year.
- (a) 2014
(b) 2012
(c) 2011
(d) 2013
5. निम्न में से किसे 'तरल आस्तियों' तथा 'मांग एवं आवधिक देयताओं' के अनुपात के रूप में परिभाषित किया जाता है?
Which of the following is defined as the ratio of 'liquid assets' and 'demand and time liabilities'?
- (a) सांविधिक चलनिधि अनुपात
statutory liquidity ratio
- (b) नकदी निधि अनुपात
cash fund ratio
- (c) आरक्षित नकदी निधि अनुपात
Reserve Cash Fund Ratio
- (d) आस्ति देयता अनुपात
asset liability ratio
6. 1991-92 में पहला विश्वनाथन आनंद को प्रदान किया गया था।
The first was awarded to Vishwanathan Anand in 1991-92.
- (a) एकलव्य पुरस्कार
Eklavya Award
- (b) द्रोणाचार्य पुरस्कार
Dronacharya Award

- (c) अर्जुन पुरस्कार
Arjuna Award
- (d) राजीव गांधी खेल रत्न पुरस्कार
Rajiv Gandhi Khel Ratna Award
7. 'शांताराम (Shantaram)' निम्न में से किस लेखक द्वारा रचित उपन्यास है?
'Shantaram' is a novel written by which of the following writers?
- (a) ग्रेगरी डेविड रॉबर्ट्स
Gregory David Roberts
- (b) अमिताव घोष
Amitav Ghosh
- (c) चेतन भगत
Chetan Bhagat
- (d) सलमान रुश्दी
Salman Rushdie
8. वीडियो सहायक रेफरी (VAR) प्रणाली का उपयोग _____ के खेल में किया जाता है।
Video Assistant Referee (VAR) system is used in the game of _____.
- (a) बास्केटबॉल
basketball
- (b) क्रिकेट
Cricket
- (c) हॉकी
Hockey
- (d) फुटबॉल
Football
9. अमीबा एक या एक से अधिक उँगलियों की तरह के प्रक्षेपणों को बाहर धकेलता है जिसे गति और भोजन पर कब्जा कहा जाता है।
The amoeba pushes out one or more finger-like projections called protuberances for locomotion and food capture.
- (a) सिकुड़ा हुआ रिक्तिका
shrunken vacuole
- (b) भोजन रिक्तिका
food vacuole
- (c) एंडोप्लाज्म
endoplasm
- (d) स्पूडोपोडिया
pseudopodia
10. _____ गोवा की पहली महिला राज्यपाल थीं।
_____ was the first woman Governor of Goa.
- (a) पद्मजा नायडू
Padmaja Naidu
- (b) मृदुला सिन्हा
Mridula Sinha
- (c) कुमुदबेन जोशी
Kumudben Joshi
- (d) सरला ग्रेवाल
Sarla Grewal
11. पंडित सारंगदेव कृत 'संगीत रत्नाकर' ग्रंथ में _____ अध्याय हैं।
There are _____ chapters in the book 'Sangeet Ratnakar' written by Pandit Sarangdev.
- (a) 5
(b) 7
(c) 9
(d) 11
12. 'अल्बट्रॉस (Albatross)' शब्द का प्रयोग निम्न में से किस खेल में किया जाता है?
The word 'Albatross' is used in which of the following sports?
- (a) गोल्फ
golf
- (b) रग्बी
rugby
- (c) तलवारबाजी
fencing
- (d) पोलो
polo
13. चौथी से नवीं शताब्दी के बीच, कांचीपुरम किस साम्राज्य की राजधानी थी?

SCHOLARS ACADEMY

Between the 4th to the 9th century, Kanchipuram was the capital of which empire?

- (a) पांड्य (b) पल्लव
Pandya Pallava
(c) चोल (d) चेर
Chola cher

14. निम्नलिखित में से कौन सी पुस्तक सुधा मूर्ति द्वारा लिखित है?
Which of the following books is written by Sudha Murthy?

- (a) द नेमसेक (b) इंटरप्रेटर ऑफ़ मेलोडीज
The Namesake Interpreter of Melodies
(c) अनएकस्टमड अर्थ (d) महाश्वेता
unaccustomed meaning Mahasweta

15. FM रेडियो को पेटेंट कराने का श्रेय निम्नलिखित में से किसे दिया जाता है?

Who among the following is given the credit for patenting FM radio?

- (a) जॉन बेयर्ड (b) एडविन एच. आर्मस्ट्रॉंग
John Baird Edwin H. Armstrong
(c) कार्ल बेन्ज (d) निकोला टेस्ला
carl benz Nikola Tesla

16. शून्य बजट प्राकृतिक खेती में कौन सा राज्य अग्रणी है?

Which state is leading in zero budget natural farming?

- (a) बिहार (b) आंध्र प्रदेश
Bihar Andhra Pradesh
(c) कर्नाटक (d) सिक्किम
Karnataka Sikkim

17. निम्नलिखित में से कौन-सी पुस्तक आर के नारायण द्वारा लिखित है?

Which of the following books is written by RK Narayan?

- (a) एंग्री रीवर (b) स्वामी एंड फ्रेंड्स
angry river Swami and Friends
(c) द ब्लू अम्ब्रेला (d) रोड्स टू मुसोरी
The Blue Umbrella Roads to Mussoorie

18. किस ने रेलवे बोर्ड के अध्यक्ष और सीईओ के रूप में कार्यभार संभाल लिया है?

Who has taken charge as the Chairman and CEO of Railway Board?

- (a) जया वर्मा सिन्हा (b) अन्जलि गोयल
Jaya Verma Sinha Anjali Goyal
(c) अनिल कुमार लाहोटी (d) डॉ. सुगंधा राहा
Anil Kumar Lahoti Dr. Stay fragrant

19. दुनिया की पहली एथनॉल से चलने वाली टोयोटा इनोवा कार किस मंत्री के द्वारा लांच की गयी है।

The world's first ethanol-powered Toyota Innova car has been launched by which minister?

- (a) प्रह्लाद जोशी (b) धर्मेंद्र प्रधान
Prahlad Joshi Dharmendra Pradhan
(c) नितिन गडकरी (d) पीयूष गोयल
Nitin Gadkari Piyush Goyal

20. फिक्की ने किसे अपना नया महासचिव नियुक्त किया है?

Who has been appointed by FICCI as its new Secretary General?

- (a) शैलेश पाठक (b) अरुण कुमार
Shailesh Pathak Arun Kumar
(c) जयंत सिन्हा (d) अजय सिंह परमार
Jayant Sinha Ajay Singh Parmar

Reasoning

21. दिए गए विकल्पों में से उस अक्षर-समूह का चयन करें जो निम्नलिखित श्रृंखला में प्रश्न चिह्न (?) के स्थान पर आ सकता है।
DMI, GNL, JOO, ?

Select the letter-cluster from the given options which can come in place of the question mark (?) in the following series.
DMI, GNL, JOO, ?

- (a) LPQ (b) MPR
(c) NTS (d) OQR

22. उस विकल्प का चयन करें जो तीसरे अक्षर-समूह से ठीक उसी प्रकार से संबंधित है जैसे दूसरा अक्षर-समूह पहले अक्षर-समूह से संबंधित है।

SBQN : UEVU :: LRFH : ?

Select the option which is related to the third letter-cluster in the same way as the second letter-cluster is related to the first letter-cluster.

SBQN : UEVU :: LRFH : ?

- (a) NVLO (b) NUKO
(c) OULO (d) MVKO

23. अक्षरों के उस संयोजन का चयन कीजिए, जिसे नीचे दी गई अक्षर श्रृंखला के रिक्त स्थानों में क्रमिक रूप से रखने पर श्रृंखला पूर्ण हो जाएगी।

D_CT_O_TDOC_DO_T

Select the combination of letters which when placed sequentially in the blank spaces of the letter series given below, will complete the series.





D_CT_O_TDOC_DO_T

- (a) O D C T C (b) O D T T C
(c) O D T T C (d) T D C T C

24. उस विकल्प का चयन करें जिसमें दी गई आकृति अंतर्निहित है (घुमाने की अनुमति नहीं है)।

Select the option in which the given shape is embedded (rotation is not allowed).

E

- (a)  (b) 
(c)  (d) 

25. किसी निश्चित कूट भाषा में, TURTLE को RWPVJG के रूप में लिखा जाता है। उसी भाषा में OCTOPUS को किस रूप में लिखा जाएगा?

In a certain code language, TURTLE is written as RWPVJG. How will OCTOPUS be written in that language?

- (a) MEVMRSU (b) QARQNWQ
(c) MERQMSU (d) MERQNWQ

26. दिए गए विकल्पों में से उस संख्या का चयन कीजिए जो निम्न श्रृंखला में प्रश्न चिह्न (?) के स्थान पर आ सकती है।

25, 150, 145, 580, 577, ?

Select the number from the given options which can come in place of the question mark (?) in the following series.

25, 150, 145, 580, 577, ?

- (a) 1020 (b) 980
(c) 1731 (d) 1154

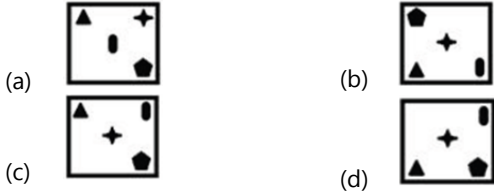
27. एक निश्चित कूट भाषा में, PLACARD को 29-3-23 लिखा जाता है, और DORMATS को 37-13-40 लिखा जाता है। उसी कूट भाषा में CONFUSE को किस प्रकार लिखा जाएगा?

In a certain code language, PLACARD is written as 29-3-23, and DORMATS is written as 37-13-40. How will CONFUSE be written in that code language?

- (a) 30-6-44 (b) 35-6-42
(c) 32-7-40 (d) 32-6-45

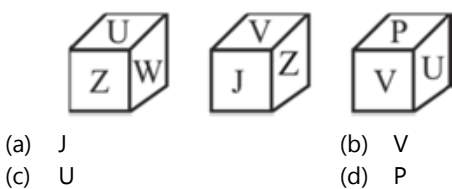
28. उस आकृति का चयन कीजिए जो निम्न आकृति श्रृंखला में प्रश्नचिह्न (?) के स्थान पर आएगी।

Select the figure that will come in place of the question mark (?) in the following figure series.



29. नीचे एक ही पासे की तीन भिन्न भिन्न स्थितियाँ दी गई हैं। उस अक्षर का चयन करें जो 'Z' अक्षर वाले पृष्ठ के विपरीत पृष्ठ पर है।

Given below are three different positions of the same dice. Select the letter which is on the page opposite to the page containing the letter 'Z'.



30. रंजन, रितेश के पिता हैं, जो सनी के नाना हैं। दक्षिता, रीमा की पुत्री है। शिखा रीमा की सास है। रितेश, शिखा का इकलौता पुत्र है। पल्लवी, सनी की बहन है। दक्षिता का सनी से क्या संबंध है?

Ranjan is the father of Ritesh, who is the maternal grandfather of Sunny. Dakshita is the daughter of Reema. Shikha is Reema's mother-in-law. Ritesh is the only son of Shikha. Pallavi is Sunny's sister. How is Dakshita related to Sunny?

- (a) चाची (b) माँ

Aunt (c) बहन (d) पुत्र
Sister (d) पुत्र
Son

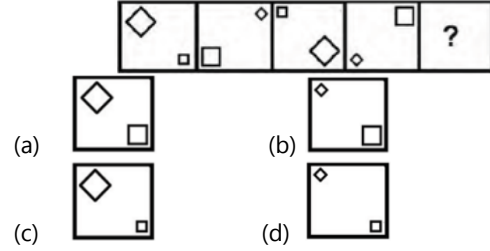
31. दो क्रमागत संख्याओं और उनमें से बड़ी संख्या के तीन गुने का योग 64 है। सबसे छोटी संख्या ज्ञात कीजिए।

The sum of two consecutive numbers and three times their larger number is 64. Find the smallest number.

- (a) 11 (b) 10
(c) 13 (d) 12

32. निम्नांकित आकृति श्रृंखला में प्रश्नचिह्न के स्थान पर आने वाली आकृति का चयन कीजिए।

Select the figure that comes in place of the question mark in the following figure series.



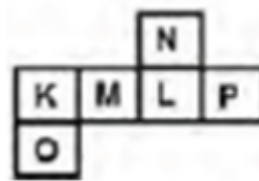
33. एक निश्चित कूट भाषा में 'BROKEN' को 'EUSOJS' और 'RASHES' को 'UDWLJX' के रूप में लिखा जाता है। उसी कूट भाषा में 'CONFER' किस रूप में लिखा जाएगा?

In a certain code language 'BROKEN' is written as 'EUSOJS' and 'RASHES' is written as 'UDWLJX'. How will 'CONFER' be written in that code language?

- (a) FSRKJW (b) FRSJJV
(c) FQRIJX (d) FRRJJW

34. जब दी गई शीट को मोड़कर एक घन बनाया जाता है, तो अक्षरों का कौन-सा युग्म विपरीत फलकों पर नहीं होगा?

When the given sheet is folded to form a cube, which pair of letters will not be on opposite faces?



- (a) M और P (b) L और O
M and P L and O
(c) N और O (d) K और L
N and O K and L

35. दिए गए समीकरण को सही करने के लिए किन दो चिन्हों को आपस में बदला जाना चाहिए?

$$15 - 14 \div 21 \times 27 + 9 = 64$$

Which two signs should be interchanged to make the given equation correct?

$$15 - 14 \div 21 \times 27 + 9 = 64$$

- (a) × और ÷ (b) + और ÷
× and ÷ + and ÷
(c) ÷ और - (d) + और ×
÷ and - + and ×

36. चार अक्षर-समूह दिए गए हैं, जिनमें से तीन किसी तरह से संगत हैं और एक असंगत है। उस अक्षर-समूह का चयन करें, जो अन्य से असंगत है।

Four letter-clusters have been given, out of which three are consistent in some manner and one is incongruent. Select the letter-cluster which is inconsistent with the others.

- (a) DBZX (b) TRPN
(c) NLJH (d) CAYV
37. A, B, C, D, E और F छः मित्र, तीन तीन करके दो पंक्तियों में बैठे हुए हैं। दोनों पंक्तियों में बैठे हुए मित्रों के मुंह आमने-सामने हैं। C के सामने F है। F ठीक B और E के बीच में है। A के सामने B है। सभी मित्रों में से कौन चारों छोरों में किसी भी छोर पर नहीं बैठा है?

A, B, C, D, E and F are six friends sitting in two rows of three. The friends sitting in both the rows are facing each other. F is in front of C. F is exactly between B and E. B is in front of A. Who among all the friends is not sitting at any of the four ends?

- (a) A (b) B
(c) D (d) C
38. दिए गए विकल्पों में से उस संख्या का चयन करें, जो निम्नलिखित श्रृंखला में प्रश्नवाचक चिन्ह (?) के स्थान पर आ सकती है।

86, 90, 106, 170, ?
Select the number from the given options which can come in place of the question mark (?) in the following series.

- 86, 90, 106, 170, ?
(a) 522 (b) 345
(c) 426 (d) 380
39. एक निश्चित कूट भाषा में TABLET को 20-1-2-12-5-40 लिखा जाता है। उसी कूट भाषा में RHESUS को किस प्रकार लिखा जाएगा?

In a certain code language, TABLET is written as 20-1-2-12-5-40. How will RHESUS be written in that code language?

- (a) 19-8-5-19-21-38 (b) 18-8-5-19-21-38
(c) 18-8-5-19-20-19 (d) 18-9-5-18-21-36
40. दिए गए संयोजन के सही दर्पण प्रतिबिंब का चयन कीजिए, जबकि दर्पण को इसकी दाईं ओर रखा गया है।
Select the correct mirror image of the given combination, while the mirror is placed on its right side.

4 8 7 3 2 1

- (a) 1 2 3 4 8 7 3 2 1 (b) 1 2 3 4 8 7 3 2 1
(c) 4 8 7 3 2 1 (d) 1 2 3 4 8 7 3 2 1

Arithmetical & Numerical Ability

41. एक शहर की आबादी में लगातार दो वर्षों में 10% और 20% की वृद्धि हुई, किन्तु तीसरे वर्ष इसमें 25% की कमी हुई। तीसरे वर्ष में जनसंख्या और 3 वर्ष पूर्व की जनसंख्या का अनुपात ज्ञात कीजिए।

The population of a city increased by 10% and 20% in two consecutive years, but in the third year it decreased by 25%. Find the ratio of the population in the third year to the population 3 years ago.

- (a) 100 : 99 (b) 99 : 100
(c) 2 : 1 (d) 1 : 1
42. किसी उत्पाद की बिक्री पर हुआ लाभ 25% है। यदि क्रय मूल्य और विक्रय मूल्य के मानों को परस्पर बदल दिया जाए, तो कितने प्रतिशत की हानि होगी?

The profit made on the sale of a product is 25%. If the values of purchase price and selling price are interchanged, what will be the percentage loss?

- (a) 12% की हानि (b) 16% की हानि
12% loss 16% loss
(c) 20% की हानि (d) 25% की हानि
20% loss 25% loss

43. एक दुकानदार हर 4 महीने में एक बार 10% की छूट देता है। यदि कोई व्यक्ति इस योजना के तहत एक वस्तु को दिसम्बर में 25515 में खरीदता है, तो जनवरी में उस वस्तु का प्रारम्भिक मूल्य क्या था?

A shopkeeper gives a discount of 10% once every 4 months. If a person buys an item under this scheme for Rs 25,515 in December, what was the initial price of that item in January?

- (a) 45000 (b) 35000
(c) 36000 (d) 40000
44. एक थैले में लाल, हरे और गुलाबी टोकन थे। लाल और हरे टोकनों के बीच अनुपात 15 : 32 था जबकि गुलाबी और लाल टोकनों के बीच अनुपात 18 : 25 था। हरे और गुलाबी टोकनों के बीच कितना अनुपात था?

A bag contained red, green and pink tokens. The ratio between red and green tokens was 15 : 32 while the ratio between pink and red tokens was 18 : 25. What was the ratio between green and pink tokens?

- (a) 80 : 27 (b) 192 : 125
(c) 16 : 9 (d) 25 : 28
45. X और Y ने एक व्यवसाय आरंभ किया। X ने 8,000 का निवेश किया और Y ने 10,000 का निवेश किया। 6 महीने बाद, Z भी 6,000 के निवेश के साथ उस व्यवसाय में शामिल हो गया। यदि 3 वर्षों में 9,660 का लाभ होता है, तो Z का हिस्सा कितना है? X and Y started a business. X invested Rs 8,000 and Y invested Rs 10,000. After 6 months, Z also joined the same business with an investment of Rs.6,000. If there is a profit of Rs 9,660 in 3 years, what is Z's share?

- (a) 1500 (b) 2100
(c) 1900 (d) 1200

SCHOLARS ACADEMY

46. P किसी कार्य को 10 दिनों में कर सकता है। 4 दिन काम करने के बाद, P काम छोड़ देता है और Q शेष कार्य को 9 दिनों में पूरा करता है। यदि उन्होंने शुरूआत से एक साथ काम किया होता, तो कार्य पूरा करने में उन्हें कितने दिन लगे होते?

P can do a work in 10 days. After working for 4 days, P leaves the work and Q completes the remaining work in 9 days. If they had worked together from the beginning, how many days would it have taken them to complete the work?

- (a) 9 दिन
9 days
(c) 6 दिन
6 days
- (b) 7 दिन
7 Days
(d) 8 दिन
8 days

47. 50 लीटर शुद्ध दूध वाले एक वॉटेनर से, 10 लीटर दूध निकालकर 10 लीटर पानी डाला जाता है। यदि इस प्रक्रिया को तीन बार दोहराया जाता है, तो अंततः पानी और दूध के बीच क्या अनुपात है ?

From a container containing 50 liters of pure milk, 10 liters of milk is taken out and 10 liters of water is added. If this process is repeated three times, what is the final ratio between water and milk?

- (a) 7: 16
(c) 61 : 64
- (b) 9: 16
(d) 1 : 4

48. एक टंकी को दो पाइपों द्वारा एक साथ 45/4 मिनट में भरा जा सकता है। बड़ा पाइप छोटे पाइप के मुकाबले टंकी को 12 मिनट कम समय में भर सकता है। बड़े पाइप द्वारा टंकी को अकेले भरने में कितना समय लगेगा?

A tank can be filled by two pipes together in 45/4 minutes. The larger pipe can fill the tank in 12 minutes less time than the smaller pipe. How much time will it take to fill the tank through the bigger pipe alone?

- (a) 30 मिनट
30 minute
(c) 18 मिनट
18 minutes
- (b) 12 मिनट
12 minutes
(d) 24 मिनट
24 minutes

49. 4.5% प्रति वर्ष की दर से 4 वर्ष 6 महीने में 2400 पर प्राप्त होने वाला साधारण ब्याज क्या है?

What is the simple interest received on Rs 2400 in 4 years 6 months at the rate of 4.5% per annum?

- (a) 486
(c) 796
- (b) 816
(d) 926

50. 16400 की राशि उधार ली जाती है और इसे 5% चक्रवृद्धि ब्याज की दर से समान वार्षिक किश्तों में 2 वर्षों में चुकाया जाना है। वार्षिक भुगतान की राशि ज्ञात कीजिए।

A sum of Rs 16400 is borrowed and is to be repaid in 2 years in equal annual installments at the rate of 5% compound interest. Find the amount of the annual payment.

- (a) 7590
(c) 7600
- (b) 7495
(d) 8820

51. एक माँ और पुत्री की आयु में 20 वर्ष का अंतर है। पाँच वर्ष बाद पुत्री की आयु, उसकी माँ की वर्तमान आयु से आधी होगी। पुत्री की आयु कितनी है?

There is a difference of 20 years in the age of a mother and daughter. After five years the daughter's age will be half her mother's present age. What is the age of the daughter?

- (a) 15 वर्ष
15 years
(c) 10 वर्ष
10 years
- (b) 12 वर्ष
12 years
(d) 8 वर्ष
8 years

52. चार संख्याओं a, b, c और d का कुल औसत 26 है। यदि a और b का औसत 19.5 है तो c और d का औसत होगा:

The overall average of four numbers a, b, c and d is 26. If the average of a and b is 19.5 then the average of c and d will be:

- (a) 33
(c) 31.5
- (b) 35.5
(d) 32.5

53. 14 मीटर प्रति सेकंड की गति के समान है।

The speed of 14 meters per second is equal to.....

- (a) 46.6 किमी/घंटा
46.6 km/h
(c) 70 किमी/घंटा
70 km/h
- (b) 50.4 किमी/घंटा
50.4 km/h
(d) 28 किमी/घंटा
28 km/h

54. एक बुलेट ट्रेन रुके बिना 12 घंटों में अपनी यात्रा पूरी करती है। अगर यह 30 किमी./घंटा तेजी से यात्रा करे तो 10 घंटा 40 मिनट में यात्रा पूरी कर लेगी, यात्रा पूरी करने में 12 घंटे लगने पर ट्रेन की गति क्या थी?

A bullet train completes its journey in 12 hours without stopping. If it travels 30 km/hr faster then it will complete the journey in 10 hours 40 minutes. What was the speed of the train if it took 12 hours to complete the journey?

- (a) 320 किमी./घंटा
320 km/h
(c) 320 किमी./घंटा
320 km/h
- (b) 180 किमी./घंटा
180 km/h
(d) 240 किमी./घंटा
240 km/h

55. एक नाव को धारा की दिशा में 16 किमी की दूरी तय करने में 2 घंटे लगते हैं और धारा की विपरीत दिशा में वही दूरी तय करने में 4 घंटे लगते हैं। धारा की चाल ज्ञात करें।

A boat takes 2 hours to cover a distance of 16 km downstream and 4 hours to cover the same distance upstream. Find the speed of the stream.

- (a) 12 किमी/घंटा
12 km/h
(c) 4 किमी/घंटा
4 km/h
- (b) 2 किमी/घंटा
2 km/h
(d) 6 किमी/घंटा
6 km/h

56. यदि किसी त्रिभुज का परिमाण 28 सेमी है। इसकी अन्तःत्रिज्या 3.5 सेमी है। इसका क्षेत्रफल ज्ञात कीजिए।

If the perimeter of a triangle is 28 cm. Its inner radius is 3.5 cm. Find its area.

- (a) 49 सेमी²
49 cm²
(c) 35 सेमी²
35 cm²
- (b) 28 सेमी²
28 cm²
(d) 42 सेमी²
42 cm²

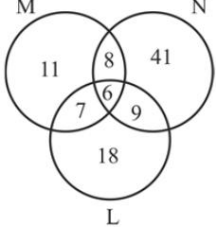
57. तीन अंकों वाली कितनी संख्याएं 9 से विभाजित होती हैं?

How many three-digit numbers are divisible by 9?

- (a) 100 (b) 95
(c) 90 (d) 105

58. उपर्युक्त वेन आरेख उन छात्रों को दर्शाता है, जो एक कक्षा में 3 खेल M, N और L खेलते हैं। खेल N खेलने वाले छात्रों की कुल संख्या है-

The above Venn diagram shows students who play 3 games M, N and L in a class. The total number of students playing game N is-



- (a) 64 (b) 41
(c) 9 (d) 23

59. यदि $\operatorname{cosec}\theta - \sin\theta = P$ और $\sec\theta - \cos\theta = q$ हैं, तो निम्न में से कौन सही है?

If $\operatorname{cosec}\theta - \sin\theta = P$ and $\sec\theta - \cos\theta = q$, then which of the following is correct?

- (a) $(p^2q)^{\frac{2}{3}} - (pq^2)^{\frac{2}{3}} = 1$ (b) $\sin\theta\sec\theta = \frac{1}{P}$
(c) $\sin\theta\tan\theta = \frac{1}{q}$ (d) $(p^2q)^{\frac{2}{3}} + (pq^2)^{\frac{2}{3}} = 1$

60. वह अनुपात ज्ञात कीजिए, जिसमें रेखा $4x + y = 13$, दो बिन्दुओं (1, 6) और (6, 1) को जोड़ने वाले रेखाखण्ड को विभाजित करती है।

Find the ratio in which the line $4x + y = 13$ divides the line segment joining the two points (1, 6) and (6, 1).

- (a) 1:3 (b) 2:5
(c) 2:3 (d) 1:4

HINDI

61. गद्यांश : दिए गए गद्यांश में से कुछ शब्द हटा दिए गए हैं। नीचे दिए विकल्पों की सहायता से प्रत्येक संख्या के लिए सबसे उपयुक्त विकल्प का चयन करें। हमें विचार नहीं चाहिए। (1) _____ हमारे पास बहुत हैं। हमें विचारों को (2) _____ करने वाले लोगों की आवश्यकता है। इंजीनियरों, मिस्त्रियों, कलाकारों, कारीगरों की, जो देश का (3) _____ कर सकें। हमें पुल बनाने वालों, सड़के बनाने वालों इमारतें खड़ी करने वालों, कारखाने खोलने वालों की जरूरत है। हमें (4) _____ की जरूरत है। उद्योग (5) _____ की जरूरत है। गद्यांश के रिक्त स्थान (1) के लिए सर्वाधिक उपयुक्त शब्द होगा-

- (a) विचार (b) सोच
(c) अचार (d) आचार

62. गद्यांश के रिक्त स्थान (2) के लिए सर्वाधिक उपयुक्त शब्द होगा-

- (a) कार्यान्वित (b) क्रियावित

- (c) कार्यान्वित (d) कार्यावित

63. दिए गए वाक्य में रेखांकित खंड को प्रतिस्थापित करने के लिए सबसे उपयुक्त विकल्प का चयन करें। यदि इसे प्रतिस्थापित करने की आवश्यकता नहीं है, तो विकल्प बदलाव की आवश्यकता नहीं है का चयन करें। शनैः-शनैः उसकी दिशा बिगड़ती गई।

- (a) किसी बदलाव की आवश्यकता नहीं है। (b) दशा
(c) दीशा (d) दिसा

64. दिये गये वाक्य के किस भाग में त्रुटि है? ऐसी स्थिति में कुछ काम नहीं हो सकता।

- (a) में कुछ (b) ऐसी स्थिति
(c) हो सकता। (d) काम नहीं

65. _____ भविष्य की ओर बढ़ना चाहिए। रिक्त स्थान के पूर्ति उचित शब्द से कीजिए-

- (a) उजला (b) कलंकीय
(c) अंधेरे (d) उज्वल

66. नीचे दिए वाक्यांश के लिए एक शब्द दिए गए विकल्पों में से चुनिए- जो निगाह से परे हो

- (a) प्रत्यक्ष (b) निगाहहीन
(c) निगेबान (d) परोक्ष

67. दिये गये वाक्यांश के लिए एक शब्द चुनिए। गोद लिया पुत्र

- (a) दत्तक (b) दत्तचित्त
(c) दन्तक (d) बालक

68. दिए गए वाक्य का वह भाग ज्ञात करें जिसमें कोई त्रुटि है। यदि कोई त्रुटि नहीं है, तो 'कोई त्रुटि नहीं है' विकल्प को चुनें। शिकारी ने शेर पर गोली चलाया।

- (a) शेर पर (b) गोली चलाया
(c) कोई त्रुटि नहीं है (d) शिकारी ने

69. दिए गए वाक्य में रेखांकित खंड को प्रतिस्थापित करने के लिए सबसे उपयुक्त विकल्प का चयन करें। यदि इसे प्रतिस्थापित करने की आवश्यकता नहीं है, तो विकल्प किसी बदलाव की आवश्यकता नहीं है का चयन करें। सरोजनी नायडू भारत की कोकिला कहा जाता थीं।

- (a) भारत की कोकिला कही जाती थीं। (b) किसी बदलाव की आवश्यकता नहीं है।
(c) भारत के कोकिला कही जाती थीं। (d) भारत की कोकिला कही जाता थीं।

70. 'अनन्त' किसका पर्यायवाची है?

- (a) आकाश (b) समुद्र
(c) देव (d) पर्वत

71. 'आँख लगना' मुहावरे का सही अर्थ है-

- (a) किसी के प्रति आकर्षित होना (b) ईशारा करना
(c) धोखा खाना (d) नींद आ जाना

72. दिए गए वाक्य का वह भाग ज्ञात करें जिसमें कोई त्रुटि है। यदि कोई त्रुटि नहीं है, तो 'कोई त्रुटि नहीं है' चुनें। राम की (1)/ दाहिनी दिशा में (2) / गोविन्द बैठा है (3) / कोई त्रुटि नहीं है (4)

SCHOLARS ACADEMY

- (a) 1 (b) 4
(c) 3 (d) 2
73. दिए गए शब्द के समानार्थी शब्द का चयन करें। पृथ्वी
(a) धराधर (b) अटवी
(c) भार्गवी (d) धरित्री
74. दिये गये वाक्य के किस भाग में त्रुटि है ? महात्मा गाँधी को राष्ट्रपिता कहा जाता है।
(a) कौ राष्ट्रपिता (b) महात्मा गाँधी
(c) कहा (d) जाता है।
75. जिससे बढ़कर ऊँचा कोई न हो' वाक्यांश के लिए एक शब्द होगा -
(a) महत्तम (b) लघुत्तम
(c) उच्चतम (d) निम्नतम
76. दिये गये वाक्यांश के लिए एक शब्द दीजिये। एक ही माँ की कोख से पैदा हुए बच्चे
(a) सहूदर (b) सगोत्र
(c) सउदर (d) सहोदर
77. सही वर्तनी वाले शब्द का चयन करें।
(a) परिणती (b) परिणति
(c) परिनति (d) पक्रणति
78. 'मुँह धो आना' मुहावरे का सही अर्थ क्या है?
(a) धोखा खाना (b) सफाई पसंद होना
(c) नींद से जागना (d) आशा न रखना
79. दिए गए वाक्य में रेखांकित खंड को प्रतिस्थापित करने के लिए सबसे उपयुक्त विकल्प का चयन करें। यदि इसे प्रतिस्थापित करने की आवश्यकता नहीं है, तो विकल्प किसी बदलाव की आवश्यकता नहीं है' का चयन करें। अपने उज्वल भविष्य के लिए, हमारा उद्देश्य सफलता प्राप्ति होनी चाहिए।
(a) सफलता प्राप्ति होना (b) सफलता को प्राप्त होनी चाहिए।
(c) किसी बदलाव की आवश्यकता नहीं है। (d) सफलता प्राप्त होनी चाहिए।
80. 'लुप्त' का विलोम शब्द होगा -
(a) जाग्रत (b) सुप्त
(c) व्यक्त (d) लिप्त

English

81. Comprehension : In the following passage, some words have been deleted. Read the passage carefully and select the most appropriate option to fill in each blank. Technology has made our lives simple and fast. The biggest (1)_____ has been the development of the internet. The internet is a (2)_____ of technology. It has brought us closer and people sitting at (3)_____ corners of the world can easily communicate. It facilitates shopping, money (4)_____, online learning etc. Cybercrimes are a result of the misuse of the internet. Children's (5)_____ to online games is another major

- problem faced by parents today. Select the most appropriate option to fill in blank no. 1.
(a) contribution (b) value
(c) hindrance (d) supply
82. Select the most appropriate option to fill in blank no. 2.
(a) asset (b) favour
(c) burden (d) boon
83. The following sentence has been split into four segments. Identify the segment that contains a grammatical error. The penalty for / not wear masks / in public places / should be increased.
(a) The penalty for (b) should be increased
(c) not wear masks (d) in public places
84. Select the most appropriate option to fill in the blank. The situation became _____ after the scuffle between the farmers and the police.
(a) smooth (b) serious
(c) sad (d) funny
85. Select the most appropriate option that can substitute the underlined segment in the given sentence. If there is no need to substitute it, select 'No substitution required'. Please don't confuse me by giving so many different directions.
(a) with giving so many (b) No substitution required
(c) by give so many (d) by giving so much
86. Select the option that can be used as a one-word substitute for the given group of words. An area where fruit trees are grown
(a) Farm (b) Orchard
(c) Field (d) Garden
87. Select the most appropriate option to fill in the blank. War and Peace is a _____ written by Leo Tolstoy.
(a) notable (b) distinguished
(c) celebrated (d) masterpiece
88. The following sentence has been divided into parts. One of them may contain an error. Select the part that contains the error from the given options. If you don't find any error, mark 'No error' as your answer. By this time tomorrow / we will have / reached to Delhi.
(a) By this time tomorrow (b) No error
(c) we will have (d) reached to Delhi
89. Select the most appropriate synonym of the given word. Remedial
(a) Harmful (b) Medicinal
(c) Corrective (d) Superficial
90. Select the option that can be used as a one-word substitute for the given group of words. To reduce to a shorter form intended to stand for the whole
(a) Abbreviate (b) Shrink

- (c) Protract (d) Extend
91. Select the most appropriate synonym of the given word.
Recover
(a) Remain (b) Retain
(c) Refrain (d) Regain
92. Select the INCORRECTLY spelt word.
(a) Fright (b) Freind
(c) Freeze (d) Frigid
93. Select the option that can be used as a one-word substitute for the given group of words. A means of altering one's appearance to conceal one's identity
(a) Dress (b) Drape
(c) Distort (d) Disguise
94. Select the most appropriate option to fill in the blank.
Mother's back was too _____ to work any longer, so she lay down to rest.
(a) sore (b) sick
(c) sour (d) soft
95. Select the most appropriate meaning of the given idiom.
A dime a dozen
(a) Something which is not expensive (b) Something which costs a dime
(c) Something which can be bought only in dozens (d) Something very common or of little value
96. Select the most appropriate option that can substitute the underlined segment in the given sentence. If there is no need to substitute it, select 'No substitution required'.
If we are not clear about the exact meaning of a word, we should look into a dictionary.
(a) look of (b) look to
(c) look up (d) look on
97. Select the most appropriate ANTONYM of the given word. Dispute
(a) Trouble (b) Doubt
(c) Agreement (d) Confusion
98. Select the most appropriate meaning of the given idiom.
Maiden speech
(a) Unprepared speech (b) Last speech
(c) First speech (d) Madam's speech
99. The following sentence has been split into four segments. Identify the segment that contains a grammatical error. The children were / bubbling with excitement / at the thought of / seeing sea.
(a) bubbling with excitement (b) seeing sea
(c) The children were (d) at the thought of

100. Select the most appropriate option that can substitute the underlined segment in the given sentence. If there is no need to substitute it, select 'No substitution required'.
The farmer walked beside his bulls, isn't it?
(a) did he (b) No substitution required
(c) didn't they (d) didn't he

Basic Familiarity

101. अग्रोहा किस धर्म का प्रसिद्ध केंद्र था?
Agroha was the famous center of which religion?
(a) बौद्ध Buddhist (b) सिख Sikh
(c) ईसाई Christian (d) इनमें से कोई नहीं none of these
102. कौन सी रियासत 1857 ई. की क्रांति में शामिल नहीं थी, लेकिन इस रियासत को अंग्रेजों ने छीन लिया था?
Which princely state was not involved in the revolution of 1857 AD, but this princely state was snatched by the British?
(a) दुजाना Dujana (b) पटौदी Pataudi
(c) बहादुरगढ़ Bahadurgarh (d) जींद Jind
103. हरियाणा में तरंगित रेत के मैदान का निर्माण किस प्रकार होता है?
What is the formation of the Tarangit sand plain in Haryana?
(a) वायु का जमाव deposition (b) वायु का अपरदन erosion of air
(c) जल अपरदन water erosion (d) जल तरंग water wave erosion
104. हल्की मिट्टी में कौन सी मिट्टी पाई जाती है?
Which soil is present in light soil?
(a) रेत-दोमट sand-loam (b) अपेक्षाकृत रेत-दोमट relatively sand-loam
(c) ए' और 'बी' दोनों Both 'a' and 'b' (d) खादर Khadar
105. राज्य की किस झील पर वाटर पोलो खेल केन्द्र बनाया गया है?
Water polo sports center has been built on which lake of the state?
(a) बडखल झील Badkhal Lake (b) दमदमा झील Damdama Lake
(c) कर्ण झील Karna Lake (d) कोटला झील Kotla Lake
106. सुल्तानपुर राष्ट्रीय उद्यान को अन्य किस नाम से जाना जाता है?
By what other name is Sultanpur National Park known?
(a) आगा खान पक्षी अभयारण्य (b) सलीम अली पक्षी अभयारण्य
Aga Khan Bird Sanctuary Dr. Salim Ali Bird Sanctuary
(c) मुस्ताक अली पक्षी अभयारण्य (d) उपरोक्त में से कोई नहीं none of the above
Mustaq Ali Bird Sanctuary

SCHOLARS ACADEMY

107. हरियाणा में आम का सबसे अधिक उत्पादक जिला कौन सा है?
Which is the most productive district of Mango in Haryana?
(a) करनाल Karnal (b) यमुनानगर Yamunanagar
(c) अंबाला Ambala (d) पंचकुला Panchkula
108. राज्य सरकार किस कार्यक्रम के तहत किसानों को खेतों में पाइपलाइन बिछाने को प्रोत्साहित करने के लिए वित्तीय सहायता प्रदान कर रही है?
Under which program the state government is providing financial assistance to farmers to encourage laying of pipelines in the fields?
(a) खेत जल प्रबंधन पर On Farm Water Management (b) पाइपलाइन योजना Pipeline planning
(c) ए' और 'बी' दोनों 'a' and 'b' both (d) उपरोक्त में से कोई नहीं none of the above
109. हरियाणा में लिबर्टी जूते कहाँ बनते हैं?
Where are Liberty shoes made in Haryana?
(a) अंबाला Ambala (b) पानीपत Panipat
(c) धारूहेड़ा Dharuhera (d) करनाल Karnal
110. गोरखपुर परमाणु ऊर्जा परियोजना की कुल क्षमता कितनी है?
What is the total capacity of Gorakhpur Atomic Power Project?
(a) 2000 मेगावाट 2000 MW (b) 2300 मेगावाट 2300 MW
(c) 2800 मेगावाट 2800 MW (d) 3200 मेगावाट 3200 MW
111. दिल्ली-जींद-फिरोजपुर रेलवे लाइन का मुख्य जंक्शन कौन सा है?
Which is the main junction of Delhi-Jind-Firozpur railway line?
(a) रोहतक Rohtak (b) जींद Jind
(c) जाखल Jakhal (d) ये सभी All of them
112. मिलान सूची I (विधानसभा) सूची II (स्पीकर)
A. चौथी विधानसभा 1. स्वरूप सिंह
B. पांचवीं विधानसभा 2. कर्नल राम सिंह
C. छठी विधानसभा 3. हरमोहिंदर सिंह चड्ढा
D. सातवीं विधानसभा 4. सरदार तारा सिंह
कोड ABCDABCD
Match List I (Assembly) List II (Speaker)
A. Fourth Assembly 1. Swaroop Singh
B. Fifth Assembly 2. Col. Ram Singh
C. Sixth Assembly 3. Harmohinder Singh Chaddha
D. Seventh Assembly 4. Sardar Tara Singh
code ABCDABCD
(a) 1 2 3 4 (b) 1 2 4 3
(c) 3 2 4 1 (d) 4 1 2 3
113. भारतीय संविधान के अनुच्छेद 165 के अनुसार, महाधिवक्ता की नियुक्ति किसके द्वारा की जाती है?
According to Article 165 of the Indian Constitution, the Advocate General is appointed by?
(a) मुख्यमंत्री Chief Minister (b) राज्यपाल Governor
(c) राष्ट्रपति President (d) मुख्य सचिव Chief
114. निम्नलिखित में से कौन सा गुरुग्राम का मुख्य उद्योग है?
Which of the following is the main industry of Gurugram?
(a) मारुति कार Maruti Car (b) बर्तन Utensils
(c) फार्मास्यूटिकल्स pharmaceuticals (d) ये सभी all of them
115. हरियाणा में किस त्यौहार पर पतंग उड़ाने का प्रचलन है?
On which festival kite flying is practiced in Haryana?
(a) दशहरा Dussehra (b) कार्तिक पूर्णिमा Kartik Purnima
(c) बसंत पंचमी Basant Panchami (d) होली Holi
116. मुगल काल की सबसे पुरानी धार्मिक इमारत कौन सी है?
Which is the oldest religious building of the Mughal period?
(a) काबुलीबाग मस्जिद Kabulibagh Mosque (b) लाहौरी मस्जिद Lahori Mosque
(c) दिल्ली मस्जिद Delhi mosque (d) इनमें से कोई नहीं none of these
117. हरियाणा सरकार द्वारा नाहर सिंह किले को हेरिटेज होटल का दर्जा किस वर्ष दिया गया था?
In which year Nahar Singh Fort was given the status of heritage hotel by Haryana Government?
(a) वर्ष 2003 year 2003 (b) वर्ष 2005 year 2005
(c) वर्ष 2007 year 2007 (d) वर्ष 2009 year 2009
118. श्रीकालेश्वर महादेव मठ कहाँ स्थित है?
Where is Srikaleshwar Mahadev Math located?
(a) अंबाला Ambala (b) पानीपत Panipat
(c) यमुनानगर Yamunanagar (d) सोनीपत Sonipat
119. हरियाणा वैभवम किसकी पहली कविता है?
Whose first poem is 'Haryana Vaibhavam'?
(a) पं. सत्यदेव वशिष्ठ Pt. Satyadev Vashisht (b) पं. शिवराम शास्त्री Pt. Shivram Shastri
(c) पं. विद्याधर शुक्ल Pt. Vidyadhar Shukla (d) माधवाचार्य Madhvacharya
120. निम्नलिखित में से कौन राष्ट्रमंडल खेलों में स्वर्ण पदक (मुक्केबाजी) जीतने वाला सबसे कम उम्र का खिलाड़ी है?
Who among the following is the youngest player to win a gold medal (boxing) in the Commonwealth Games
(a) सुनील कुमार Sunil Kumar (b) जीतेन्द्र कुमार Jitendra Kumar
(c) गौरव सोलंकी Gaurav Solanki (d) अमित पंगाल Amit Panghal
121. कैरोल गिलिगन का तर्क क्या है?
What is the argument of Carol Gilligan?
(a) कोलबर्ग ने अपने नैतिक विचारों को स्पष्ट करने के लिए केवल पुरुषों के उदहारणों का अध्ययन (b) नैतिकता पर विचारों को जानने के लिए कोलबर्ग ने केवल महिलाओं के उदहारण लिए। Only

- किया। Kohlberg studied only male samples to catch their moral views.
- (c) कोहलबर्ग ने सिर्फ उन व्यक्तियों के उदहारण लिए जिनकी उम्र 18 वर्ष से अधिक थी। Kohlberg took the samples of only the people who are more than 18.
- (d) कोहलबर्ग के पास कोई उदहारण नहीं था, उन्होंने अपने सिद्धांत को अपने संज्ञान से प्रस्तावित किया। Kohlberg doesn't have any sample, he proposed his theory by his cognition.
122. श्रवण बाधितों के लिए कक्षा व्यवस्था का कौन सा स्थान सर्वाधिक प्रभावी है?
Which space of classroom arrangement is most effective for hearing impaired?
- (a) वृत्ताकार Circular (b) अर्ध वृत्ताकार Semi circular
- (c) आयताकार Rectangular (d) वर्गाकार Square shape
123. निम्नलिखित में से कौन सा कथन पियाजे के विश्वास के बारे में असत्य है?
Which of the following statement is incorrect about Piaget's belief?
- (a) एक अवस्था अगली अवस्था के विकास का अनुमान नहीं लगाती है। One stage does not infer the development of to next stage.
- (b) संज्ञानात्मक प्रदर्शन तब तक प्राप्त नहीं किया जा सकता जब तक कि परिपक्वता और पर्यावरणीय प्रेरकों द्वारा संज्ञानात्मक तत्परता नहीं लाई जाती है। Cognitive performance cannot be attained unless cognitive readiness is brought about by maturation and environmental stimuli.
- (c) प्रत्येक अवस्था में प्राप्त की गई जानकारी की मात्रा और गुणवत्ता दोनों में अवस्थाएं भिन्न होती हैं। The stages differ in both quantity and quality of information acquired at each stage.
- (d) उपरोक्त में से कोई नहीं None of the above
124. श्री शुभम ने चौथी कक्षा में लैंगिक पूर्वाग्रह से बचने के लिए लिंग-मुक्त भाषा का प्रयोग किया, सकारात्मक प्रेरणा स्त्रोत प्रदान किए और यह सुनिश्चित किया कि सभी छात्रों को कक्षा में उपलब्ध अवसरों और विभिन्न गतिविधियों में बारी-बारी से संलग्न होने का अवसर मिले। उनका विद्यालय एकल लिंग कक्षा के साथ भी प्रयोग कर रहा था। अगले वर्ष, श्री शुभम ने सोचा कि वह उन कक्षाओं में से एक में पढ़ाने का विकल्प चुन सकते हैं। एकल-लिंग कक्षाओं के संबंध में निम्नलिखित में से कौन सा कथन सत्य नहीं है?
To avoid gender bias in his fourth-grade classroom, Mr. Shubham used gender-free language, provided positive role models, and ensured that all students had opportunities to engage in various activities by rotating
- classroom jobs and activities. His school was also experimenting with single-sex classrooms. Next year, Mr. Shubham thought he might opt to teach in one of those classrooms. Which of the following statements concerning single-sex classrooms is NOT true?
- (a) कुछ शर्तों को पूर्ण करने पर एकल-लिंग कक्षाओं का अधिगम, प्रेरणा और जुड़ाव पर सकारात्मक प्रभाव पड़ता है। Single-sex classrooms have positive effects on learning, motivation, and engagement if certain conditions are met.
- (b) एकल-लिंग कक्षा में शिक्षण एक मिश्रित-लिंग कक्षा की तुलना में आसान नहीं है। Teaching is not easier in a single-sex classroom than it is in a mixed-sex classroom.
- (c) शिक्षकों को विशेष रूप से एक विशेष लिंग के छात्रों के लिए तैयार शिक्षण रणनीतियों का उपयोग करना चाहिए। Teachers must use teaching strategies that are geared specifically for students of a particular sex.
- (d) एकल-लिंग कक्षाओं में छात्र अक्सर साथियों पर प्रभाव डालने के बारे में कम चिंतित होते हैं। Students in single-sex classrooms are often less concerned about making impressions on peers.
125. एक प्रगतिशील कक्षा की स्थापना में, शिक्षक एक ऐसा वातावरण प्रदान करके अधिगम की सुविधा प्रदान करता है जो
In a progressive classroom set up, the teacher facilitates learning by providing an environment that
- (a) खोज को बढ़ावा देता है। (b) प्रतिबंधात्मक है। is restrictive
- (c) समावेश को हतोत्साहित करता है। discourages inclusion (d) दोहराव को प्रोत्साहित करता है। encourages repetition
126. इस रिक्त स्थान को भरने के लिए सबसे अच्छा विकल्प क्या है? निम्नलिखित में से कौन बच्चों को उन्हें अपने ज्ञान का उपयोग करके समस्या का समाधान करने की अनुमति देते हैं।
What is the best option to fill in this blank?
_____ of the children allowed him to cater with the problem by using their knowledge.
- (a) पूर्व अनुभव Previous experiences (b) शिक्षक Teacher
- (c) सहपाठी Peers of children (d) पाठ्यपुस्तकें Textbooks
127. बाल केन्द्रित कक्षा में:
In a child-centered classroom:
- (a) सीखने की पूरी प्रक्रिया का केंद्र बिंदु शिक्षक होता है न कि बच्चा। The teacher and not the child is the focus of the entire process of teaching.
- (b) बच्चा निष्क्रिय नहीं होता है बल्कि कक्षा प्रक्रिया में सक्रिय भागीदार होता है। The child is not a passive but an active participant in the classroom process.
- (c) यहां लोकतांत्रिक माहौल (d) शिक्षण-अधिगम का लक्ष्य

- नहीं बल्कि निरंकुश माहौल होता है ताकि बच्चे को कक्षा में अन्य बच्चों के साथ अंतःक्रिया के अधिकतम अवसर मिलें। There is not a democratic climate but an autocratic climate so that the child gets maximum opportunities for interaction with other children in the class.
- केवल बच्चों को ज्ञान प्राप्त करने में मदद करना है न कि व्यक्तित्व के सर्वांगीण विकास को बढ़ावा देना है। The goal of teaching-learning is merely helping children to acquire knowledge and not to promote all-round development of personality
128. भावना पिछले चार हफ्तों में एक ही पाठ परीक्षण में एक नियत अंक (3/10) प्राप्त करकर अनुत्तीर्ण होती है, वह अगली परीक्षा में अपना सर्वश्रेष्ठ प्रदर्शन करने के लिए अपनी अवधारणाओं को बेहतर बनाने की कोशिश कर रही है, उसे क्या करना चाहिए? Bhawna is failed with having a constant score(3/10) from last four weeks in same lesson test, she is trying to improve her concepts to perform her best in next examination, what should she do?
- (a) अपनी गलतियों और त्रुटियों को कम करने और उन पर ध्यान देने की कोशिश करनी चाहिए। Catering and trying to reduce her mistakes and errors
- (b) पाठ को छोड़ देना चाहिए और अगले पाठ की तरफ बढ़ना चाहिए। Leave the lesson and move to the next lesson.
- (c) उसे अच्छे अंक देने के लिए शिक्षक से अनुरोध करना चाहिए। She should have to request the teacher to give her good marks.
- (d) भावना बुद्धिमान लड़की नहीं है और उसे अपनी पढ़ाई छोड़ देनी चाहिए। Bhawna is not a intelligent girl and she should have to leave her study.
129. अभिकथन (A): निखिल ने विभिन्न गतिविधियों, आकलनों और आलोचनात्मक और तार्किक चिन्तन वाले प्रश्नों का उपयोग करके अपने सीखने वाले छात्रों के स्तर को जानने के लिए अपनी कक्षा के छात्रों की मासिक परीक्षा लेने का निर्णय किया। कारण (R): रचनात्मक मूल्यांकन छात्रों के अधिगम में सुधार करने के लिए अच्छा है, यह हमेशा अधिगम का अवलोकन होना चाहिए न कि अंकों द्वारा निर्णय लिया जाना चाहिए। Assertion (A): Nikhil decided to take the monthly tests of the students of his class to know the level of their learning students using different activities, assessments, and critical and logical thinking questions. Reason (R): Formative assessment is good to improve the learning of the students, it should always be the observation of learning not judgemental by marks.
- (a) (A) और (R) दोनों सत्य हैं, और (R), (A) की सही व्याख्या है। (A) and (R) both are true, and (R) is the correct explanation of (A).
- (b) (A) और (R) दोनों सत्य हैं, लेकिन (R), (A) की सही व्याख्या नहीं है। (A) and (R) both are true, but (R) is not a correct explanation of (A).
- (c) (A) सत्य है लेकिन (R) असत्य है। (A) is true but
- (d) (A) और (R) दोनों असत्य हैं। Both (A) and (R) are
- (R) is false false.
130. राधा एकान्त गतिविधि को साझा करने और पसंद करने के लिए बेहद अनिच्छुक है। यह इंगित करता है कि वह है Radha is extremely unwilling to share and prefers solitary activity. This indicates that she is
- (a) एक लोकप्रिय बालक A popular child
- (b) एक अस्वीकृत बालक A rejected child
- (c) एक ईर्ष्यालु बालक A jealous child
- (d) एक प्रशन्न बालक A happy child
131. बार-बार पलक झपकना किस अक्षमता का लक्षण हो सकता है? Frequent blinking may be a symptom of which impairment?
- (a) श्रवण दोष Hearing impairment
- (b) अधिगम अक्षमता Learning disability
- (c) दृश्य दोष Visual impairment
- (d) वाक दोष Speech impairment
132. एक बच्चे को उसके माता-पिता एक कार्य करने के लिए कहते हैं। बच्चा पूछता है "इसमें मेरे लिए क्या है?" और माता-पिता बच्चे को छूट देकर प्रोत्साहन प्रदान करते हैं। यह _____ को व्यक्त करता है। A child is asked by his parents to do a chore. The child asks "what's in it for me?" and the parents offer the child an incentive by giving him an allowance. This expresses
- (a) आज्ञाकारिता और दंड अभिविन्यास Obedience-and-Punishment Orientation
- (b) निर्देशात्मक अभिविन्यास Instrumental Orientation
- (c) कानून और व्यवस्था अभिविन्यास Law-and-Order Orientation
- (d) अच्छा लड़का, अच्छी लड़की अभिविन्यास Good Boy, Nice Girl Orientation
133. अनु घर का काम करने से कतराती है। समस्या को दूर करने के लिए निम्नलिखित में से किस रणनीति का उपयोग किया जा सकता है? Anu is reluctant to do homework. Which of the following strategies can be used to overcome the problem?
- (a) विशेष कोचिंग प्रदान करें Provide special coaching
- (b) कारण का विश्लेषण करें और उपचारात्मक उपाय करें Analyse the reason and take remedial measures
- (c) समस्या की उपेक्षा करें Neglect the problem
- (d) माता-पिता को सूचित करें Inform parents
134. एक शिक्षक बच्चों के विचारों को नैतिकता के प्रति कैसे आकर्षित कर सकता है? A teacher can catch the thoughts of children towards morality by-
- (a) हेन्ज दुविधा की वही कहानी बताकर और फिर बच्चों से उनकी राय पूछकर telling the same story of Heinz dilemma and ask their opinion.
- (b) उन्हें शिक्षाविदों में शामिल करके by engaging them into academics

SCHOLARS ACADEMY

- (c) उन्हें उनके नैतिक विचारों को प्राप्त करने के लिए भावनात्मक बनाकर making them emotional to get their moral views. (d) छात्रों को दंडित करके punishing the students.
135. अधिगम को प्रभावित करने वाला निम्नलिखित में से कौन-सा कारक पर्यावरणीय कारक है? Which of the following is an environmental factor which impact learning?
(a) मनोभाव Attitude (b) प्रेरणा Motivation
(c) व्यक्तित्व लक्षण Personality traits (d) विद्यालय School
136. Which of the following is not an aim of teaching ? निम्नलिखित में से कौन शिक्षण का उद्देश्य नहीं है?
(a) Pre - active stage पूर्व - सक्रिय अवस्था (b) Inter - active stage अंतर - सक्रिय चरण
(c) Post - active stage पद - सक्रिय चरण (d) None of these इनमें से कोई नहीं
137. Education as an investment aims at निवेश के रूप में शिक्षा का उद्देश्य है
(a) enhancing productivity उत्पादकता में वृद्धि (b) cultural development सांस्कृतिक विकास
(c) development of democratic outlook लोकतांत्रिक दृष्टिकोण का विकास (d) satisfaction of learners शिक्षार्थियों की संतुष्टि
138. A teacher can identify a stressed child when the child shows the following behaviour. एक शिक्षक एक तनावग्रस्त बच्चे की पहचान कर सकता है जब बच्चा निम्नलिखित व्यवहार दिखाता है।
(a) aggressive behaviour आक्रामक व्यवहार (b) Full concentration in studies पढ़ाई में पूरी एकाग्रता
(c) Excessive talking अत्यधिक बात करना (d) Hyperactivity सक्रियता
139. Parents of Raju says that he is introvert. But his class teacher says that Raju talks a lot in the school. What does this mean ? राजू के माता-पिता का कहना है कि वह अंतर्मुखी है। लेकिन उनके क्लास टीचर का कहना है कि राजू स्कूल में बहुत बातें करता है। इसका क्या मतलब है ?
(a) School provides opportunities to children to talk a lot स्कूल बच्चों को बहुत सारी बातें करने के अवसर प्रदान करता है (b) Children feel no restriction in school बच्चों को लगता है कि स्कूल में कोई प्रतिबंध नहीं है
(c) It is compulsory for children to talk a lot in the school बच्चों के लिए स्कूल में बहुत सारी बातें करना अनिवार्य है (d) Children thought get acknowledged in school बच्चों ने सोचा कि स्कूल में दाखिला लिया जाए
140. A teacher finds some of his students exceptionally bright and intelligent. How will he teach them ? एक शिक्षक अपने कुछ छात्रों को असाधारण रूप से उज्वल और बुद्धिमान पाता है। वह उन्हें कैसे सिखाएगा?
(a) Along with higher classes उच्च कक्षाओं के साथ (b) Using enriched curriculum समृद्ध पाठ्यक्रम का उपयोग करना
(c) As per his wish उसकी इच्छानुसार (d) Along with rest of the class बाकी वर्ग के साथ
141. What should be the goal of a teacher ? शिक्षक का लक्ष्य क्या होना चाहिए?
(a) Help children in learning बच्चों को सीखने में मदद करें (b) Understand individual differences and learning styles व्यक्तिगत अंतर और सीखने की शैली को समझें
(c) Develop knowledge and skills in all areas of development सभी क्षेत्रों में ज्ञान और कौशल विकसित करें (d) All of the above ऊपर के सभी
142. To enable children to learn on their own and sharpen observation skills, which of the following is the best way ? बच्चों को अपने दम पर सीखने और अवलोकन कौशल को तेज करने में सक्षम करने के लिए, निम्नलिखित में से कौन सबसे अच्छा तरीका है?
(a) Simple demonstration and experiments सरल प्रदर्शन और प्रयोग (b) To ensure discipline in the class कक्षा में अनुशासन सुनिश्चित करने के लिए
(c) To follow what is being done in the senior class वरिष्ठ वर्ग में जो किया जा रहा है, उसका पालन करना (d) To organise guest lecture अतिथि व्याख्यान का आयोजन करना
143. As a teacher you always say that students should play game also. Why do you say so ? एक शिक्षक के रूप में आप हमेशा कहते हैं कि छात्रों को खेल भी खेलना चाहिए। आप ऐसा क्यों कहते हैं ?
(a) It makes them physically strong यह उन्हें शारीरिक रूप से मजबूत बनाता है (b) It makes work easier for teacher यह शिक्षक के लिए काम को आसान बनाता है
(c) It makes work easier for teacher यह शिक्षक के लिए काम को आसान बनाता है (d) It develops co - operation and physical balance यह सह-संचालन और शारीरिक संतुलन विकसित करता है
144. Which of the following is a better way of teaching ? निम्नलिखित में से कौन सा शिक्षण का एक बेहतर तरीका है?
(a) To persuade मनाने के लिए (b) To raise a question एक सवाल उठाने के लिए
(c) Blackboard writing (d) All of the above ऊपर के

- ब्लैकबोर्ड लेखन** **सभी**
145. The emphasis from teaching to learning can be shifted to learning can be shifted by **शिक्षण से शिक्षण पर जोर दिया जा सकता है और शिक्षण को शिफ्ट किया जा सकता है**
- (a) focusing on examination results **परीक्षा परिणामों पर ध्यान केंद्रित करना** (b) adopting child - centred pedagogy **बच्चे को गोद लेना - केंद्रित शिक्षाशास्त्र**
- (c) encouraging rote learning **रटे सीखने को प्रोत्साहित करना** (d) adopting frontal teaching **ललाट शिक्षण को अपनाना**
146. When a child 'fails', it means **जब कोई बच्चा 'फेल' होता है, तो इसका मतलब है**
- (a) the child is not fit for studies **बच्चा पढ़ाई के लायक नहीं है** (b) the child is not memorised the answers properly **बच्चे को उत्तर ठीक से याद नहीं है**
- (c) the child should have taken private tuition **बच्चे को निजी ट्यूशन लेना चाहिए था** (d) the system has failed **सिस्टम विफल हो गया है**
147. In the context of education, socialisation means **शिक्षा के संदर्भ में, समाजीकरण का मतलब है**
- (a) always following social norms **हमेशा सामाजिक मानदंडों का पालन करना** (b) creating one's own social norms **अपने स्वयं के सामाजिक मानदंडों का निर्माण**
- (c) respecting elders in society **समाज में बड़ों का सम्मान करना** (d) adapting and adjusting to social environment **सामाजिक वातावरण में अनुकूलन और समायोजन**
148. The qualities which children get from their parents are called **वे गुण जो बच्चों को उनके माता-पिता से प्राप्त होते हैं, उन्हें कहा जाता है**
- (a) clan **वंश** (b) heredity **आनुवंशिकता**
- (c) atmosphere **वायुमंडल** (d) None of these **इनमें से कोई नहीं**
149. In a teaching learning process, factors related to content are **एक शिक्षण सीखने की प्रक्रिया में, सामग्री से संबंधित कारक हैं**
- (a) nature of contents **सामग्री की प्रकृति** (b) selection of contents **सामग्री का चयन**
- (c) organisation of contents **सामग्री का संगठन** (d) All of these **ये सभी**
150. Motivated behaviour of a learner **एक शिक्षार्थी का प्रेरित व्यवहार**
- (a) motivates the learner **कमाने वाले को प्रेरित करता है** (b) acts as an energiser **एक एनर्जाइज़र के रूप में कार्य करता है**
- (c) it is a goal directed **यह एक निर्देशित लक्ष्य है** (d) All of these **ये सभी**
151. The term 'curriculum' in the field of education refers to **शिक्षा के क्षेत्र में 'पाठ्यक्रम' शब्द का अर्थ है**
- (a) methods of teaching and content to be taught **शिक्षण के तरीके और सामग्री को पढ़ाया जाना है** (b) overall programmes of the school which students experience on a day - to - day basis **स्कूल के समग्र कार्यक्रम जो छात्रों को दिन के आधार पर अनुभव होते हैं**
- (c) evaluation process **मूल्यांकन प्रक्रिया** (d) text material to be used in the class **कक्षा में उपयोग की जाने वाली पाठ्य सामग्री**
152. Mind mapping refers to **माइंड मैपिंग से तात्पर्य है**
- (a) a technique to enhance comprehension **समझ बढ़ाने के लिए एक तकनीक** (b) a plan of action for an adventure **एक साहसिक कार्य के लिए एक योजना**
- (c) drawing the picture of mind **मन की तस्वीर खींचना** (d) researching the function of mind **मन के कार्य पर शोध करना**
153. Which of the following is considered a sign of motivated teaching ? **निम्नलिखित में से किसे प्रेरित शिक्षण का एक गाना माना जाता है?**
- (a) Maximum attendance in the class **कक्षा में अधिकतम उपस्थिति** (b) Remedial work given by the teacher **शिक्षक द्वारा दिया गया उपचारात्मक कार्य**
- (c) Questioning by students **छात्रों से पूछताछ** (d) Pin drop silence in the class **कक्षा में पिन ड्रॉप साइलेंस**
154. What is the importance of religion in the socialisation of any child ? **किसी भी बच्चे के समाजीकरण में धर्म का क्या महत्व है?**
- (a) To motto **आदर्श वाक्य के लिए** (b) To follow **पीछा करना**
- (c) To rite **संस्कार करना** (d) All of these **ये सभी**
155. According to Piaget's theory, children learn by **पियागेट के सिद्धांत के अनुसार, बच्चे सीखते हैं**
- (a) memorising information by paying due attention **ध्यान देकर सूचना को याद रखना** (b) scaffolding provided by more able members of the society **समाज के अधिक सक्षम सदस्यों द्वारा प्रदान की गई मंचान**
- (c) the processes of adaption **अनुकूलन की प्रक्रियाएं** (d) changing their behaviour when offered appropriate rewards **उचित पुरस्कार की पेशकश करते समय उनके व्यवहार को बदलना**

156. Teachers use real objects to teach young learners new words because
युवा सीखने वाले नए शब्दों को सिखाने के लिए शिक्षक वास्तविक वस्तुओं का उपयोग करते हैं क्योंकि
- (a) it helps in teaching the correct spelling of words यह शब्दों की सही वर्तनी सिखाने में मदद करता है
- (b) teacher can teach vocabulary only through objects शिक्षक केवल वस्तुओं के माध्यम से शब्दावली सिखा सकते हैं
- (c) young learners are not capable of abstract thinking युवा सीखने वाले अमूर्त सोच के लिए सक्षम नहीं हैं
- (d) it helps learners associate words with objects they see in real life. यह सीखने वालों को उन वस्तुओं से जुड़ने में मदद करता है जिन्हें वे वास्तविक जीवन में देखते हैं।
157. A teacher can identify a stressed child when the child shows the following behaviour.
एक शिक्षक एक तनावग्रस्त बच्चे की पहचान कर सकता है जब बच्चा निम्नलिखित व्यवहार दिखाता है।
- (a) Aggressive behaviour आक्रामक व्यवहार
- (b) Full concentration in study अध्ययन में पूर्ण एकाग्रता
- (c) Excessive talking अत्यधिक बात करना
- (d) Hyperactivity सक्रियता
158. A student comes late in your class. Then, you will do
आपकी कक्षा में एक छात्र देर से आता है। फिर, आप करेंगे
- (a) do nothing कुछ मत करो
- (b) say thanks to him उसे धन्यवाद कहें
- (c) inform to parents माता-पिता को सूचित करें
- (d) try to know the reason कारण जानने की कोशिश करें
159. If students are unable to follow you, you should
यदि छात्र आपका अनुसरण करने में असमर्थ हैं, तो आपको चाहिए
- (a) give them prompt उन्हें शीघ्र दे
- (b) make the matter easy बात आसान करो
- (c) illustrate with example उदाहरण सहित बताइए
- (d) All of these ये सभी
160. While teaching a complex thing, which of the following will be the best way to do it?
एक जटिल बात सिखाते समय, निम्न में से कौन सा तरीका इसे करने का सबसे अच्छा तरीका होगा?
- (a) To use notes only केवल नोट्स का उपयोग करने के लिए
- (b) Present picture पेश है तस्वीर
- (c) Show a chart of human skeletal system मानव कंकाल प्रणाली का एक चार्ट दिखाएं
- (d) To organise a discussion एक चर्चा आयोजित करने के लिए
161. भारत में सामुदायिक विकास के लिए बहु-स्तरीय आयोजना ढांचे में उच्चतम स्तर क्या है?
- What is the highest level in the multi-level planning framework for community development in India?
- (a) राष्ट्र Nation
- (b) गांव Village
- (c) जिला District
- (d) राज्य State
162. शिक्षा का निष्पंदन सिद्धांत किसके द्वारा दिया गया था?
By whom was the efficiency theory of education given?
- (a) मैकाले Macaulay
- (b) चार्ल्स वुड charles wood
- (c) सार्जेन्ट sergeant
- (d) एबॉट Abbott
163. यूनेस्को (UNESCO) सेटेलाइट निर्देशित टेलीविजन कार्यक्रम प्रथम बार कब उपयोग किया गया?
When was UNESCO satellite directed television program first used?
- (a) 1926
- (b) 1959
- (c) 1961
- (d) 1965
164. शैक्षणिक कम्प्यूटर का मुख्य कार्य है-
The main function of educational computer is -
- (a) उत्तरों का हिसाब calculation of answers
- (b) सूचनाओं का संग्रह collection of information
- (c) डेटा का विश्लेषण Analysis of data
- (d) उपरोक्त सभी All of the above
165. कम्प्यूटर लैंग्वेज किस पर आधारित है?
What is computer language based on?
- (a) संख्या पद्धति number system
- (b) चिन्ह पद्धति Sign system
- (c) शृंखला पद्धति chain method
- (d) इनमें से कोई नहीं none of these
166. ज्ञान उद्देश्य क्या है?
What is knowledge objective?
- (a) यह संबंध, भेदभाव, उद्धारण, उदाहरण और सामान्यीकरण को देखने की क्षमताओं को विकसित करके हासिल किया जाता है।
This is achieved by developing the abilities to see relationships, discrimination, citation, examples and generalization.
- (b) यह किसी व्यक्ति की उच्चतम आवश्यकताओं को पूरा करके आंतरिक प्रेरणा को नियोजित करके हासिल किया जा सकता है।
This can be achieved by employing intrinsic motivation by satisfying the highest needs of an individual.
- (c) यह याद और अभिज्ञान क्षमताओं को विकसित करने के लिए हासिल किया जाता है।
This is achieved to develop memory and recognition abilities.
- (d) यह तर्क, परिकल्पना, अनुमान और पूर्वानुमान की क्षमताओं को विकसित करके हासिल किया जाता है।
This is achieved by developing the abilities to reason, hypothesize, infer and predict.

167. अनुकरण, अभिव्यक्ति और प्राकृतिकरण सीखने में निम्नलिखित में से किस डोमेन से संबंधित है?

Imitation, expression and naturalization are related to which of the following domains in learning?

- (a) संज्ञानात्मक डोमेन (क्षेत्र) (b) कौशल क्षेत्र
cognitive domain skill area
(c) भावात्मक क्षेत्र (d) मनोचालक क्षेत्र
emotional sphere psychomotor field

168. कोल्ब के सीखने की पद्धति में, कौन-सी संक्षिप्त संकल्पनात्मकता/प्रत्यक्ष प्रयोगकर्ता को दर्शाती है?

In Kolb's method of learning, which brief represents conceptualization/direct experimentation?

- (a) अभिसारक (b) अपसारक
convergent divergent
(c) शिष्ट (d) समायोजक
elegant adjuster

169. कोल्ब के सीखने की पद्धति के अनुसार, सर्वाधिक संज्ञानात्मक तरीका में पाया जाता है-

According to Kolb's method of learning, the most cognitive method is found in...

- (a) समायोजन (b) अपसारक
Adjustment divergent
(c) शिष्ट (d) अभिसारक
elegant convergent

170. निम्नलिखित में से कौन-सी स्थायीकरण युक्ति दीर्घकालिक धारणाशक्ति के लिए उपयोगी है?

Which of the following stabilization strategies is useful for long term retention?

- (a) प्रश्न पूछना (b) सहभागिता
quiz Participation
(c) अभ्यास (d) मूल्यांकन
Study Evaluation

171. लेव वाइगोत्स्की के अनुसार निम्नलिखित में से किस चरण के माध्यम से एक बच्चा भाषा के विकास में प्रगति करता है।

- I. उदासीन भाषण
II. सामाजिक भाषण
III. आंतरिक भाषण

According to Lev Vygotsky, which of the following stages help a child to progress the developing language functions?

- I. Egocentric speech
II. Social speech
III. Inner speech

- (a) I और III (b) I और II
I and III I and II
(c) II और III (d) I, II और III
II and III I, II and III

172. प्री-स्कूल वर्षों के दौरान यानि वर्ष की आयु से पहले मेल खाने, छोटने, तुलना करने, क्रमबद्ध करने और सब्सिडी देने की अवधारणाएँ विकसित होती है।

Pre-number concepts of matching, sorting, comparing, ordering and subsidizing develop during pre-school years i.e. before the age of year

- (a) 9 (b) 12
(c) 10 (d) 6

173. 'चक्षु-बाधित' V- श्रेणी के छात्र को

'Visually Impaired' V- Category student

- (a) निम्न स्तर के कार्यों से छूट मिलनी चाहिए (b) अभिभावकों/मित्रों द्वारा उसके दैनिक कार्यों में मदद मिलनी चाहिए
Should be exempted from low level work Parents/friends should help in his/her daily activities
(c) कक्षा में सामान्य व्यवहार किया जाना चाहिए तथा ऑडियो सीडी के माध्यम से सहायता दी जानी चाहिए (d) कक्षा में विशेष व्यवहार किया जाना चाहिए
deserve special treatment in class
There should be normal behavior in the class and assistance should be given through audio CDs.

174. विशेष आवश्यकता वाले बच्चों को शिक्षा प्रदान की जानी चाहिए-

Education should be provided to children with special needs -

- (a) विशेष विद्यालयों में शिक्षा (b) विशेष विद्यालयों में विशेष शिक्षकों द्वारा
in special schools by special teachers in special schools
(c) अन्य सामान्य बच्चों के साथ (d) विशेष विद्यालयों में विशेष बच्चों के लिए विकसित पद्धतियों द्वारा
with other normal children By methods developed for special children in special schools.

175. किशोर अपराध का मतलब है-

Juvenile delinquency means-

- (a) युवा बच्चों को शिक्षित करना। (b) प्रौढ़ व्यक्तियों द्वारा आदतन आपराधिक कृत्य करना।
Educating young children. Habitual criminal acts by adults.
(c) युवा बच्चों द्वारा आदतन आपराधिक कृत्य करना। (d) प्रौढ़ लोगों को शिक्षित करना।
Habitual criminal behavior by young children. Educating adults.

176. यदि कोई छात्र ठीक से चलने और बात करने में असमर्थ है, तो इसे कहा जाता है-

If a student is unable to walk and talk properly, it is called-

- (a) गत्यात्मक अक्षमता (b) मानसिक अक्षमता
motor disability mental disability
(c) अधिगम अक्षमता (d) चलने की अक्षमता
learning disability inability to walk

177. शिक्षा का स्तर बढ़ाने के लिए क्या जरूरी है?

What is necessary to increase the level of education?

- (a) विद्यार्थियों का लगातार मूल्यांकन (b) शिक्षक को बेहतर वेतन देना

SCHOLARS ACADEMY

- continuous assessment of students
students
- (c) पाठ्यक्रम में संशोधन करना
to revise the curriculum
- pay teachers better salaries
improving school buildings
- (d) स्कूली इमारतों को बेहतर बनाना
178. छात्रों के सही मूल्यांकन के लिए निम्नलिखित में से किस विधि का प्रयोग किया जाना चाहिए?
Which of the following methods should be used for proper assessment of students?
- (a) रचनात्मक (विकासशील) मूल्यांकन
Formative (Developmental) Assessment
- (b) सतत् मूल्यांकन
Continuous evaluation
- (c) कोर्स के अंत में मूल्यांकन
End of course evaluation
- (d) प्रत्येक छमाही पर मूल्यांकन
Assessment every half year
179. एक चयनित प्रतिक्रियात्मक प्रश्न को छात्रों द्वारा की आवश्यकता होती है।
A selected response question requires students to
- (a) सही जवाब का निर्माण करने
to construct the correct answer
- (b) कई संभावनाओं से सही
correct from many possibilities
- (c) सही जवाब पहचानने
identify the correct answer
- (d) सही जवाब को विस्तृत करने
to elaborate on the correct answer
180. छात्रों के अर्जित ज्ञान (acquired knowledge) की जाँच करने के लिए प्रयोग में ली जाने वाली प्रविधि है—
The technique used to check the acquired knowledge of students is –
- (a) परीक्षण विधि
test method
- (b) प्रयोजन विधि
purpose method
- (c) प्रश्नोत्तर विधि
question and answer method
- (d) निरीक्षण विधि
Inspection Method
181. अन्य स्कूलों से जुड़ना और विभिन्न देशों के छात्रों के साथ जुड़ना तकनीकी का प्रभाव है, जिसे कहा जाता है—
Connecting with other schools and connecting with students from different countries is the effect of technology, which is called –
- (a) वैश्वीकरण
globalization
- (b) राष्ट्रीयकरण
nationalization
- (c) दूरस्थ शिक्षा
distance education
- (d) अनुसंधान
Research
182. 'समस्त शिक्षण सहयोगी समूहों में होना चाहिए' इसकी वकालत निम्नलिखित में से किस विचारधारा द्वारा की जाती है?
'All learning should take place in cooperative groups' is advocated by which of the following ideologies?
- (a) वैयक्तिक संरचनावाद
individual structuralism
- (b) सामाजिक संरचनावाद
social constructionism
- (c) समाज-विरोधी संरचनावाद
anti-social structuralism
- (d) मूलभूत संरचनावाद
fundamental structuralism
183. निम्नलिखित में से क्या उचित प्रकार की शिक्षा के सन्दर्भ में सही नहीं है?
Which is not correct in the context of education of higher level?
- (a) प्रत्येक छात्र को उसके स्वयं के प्रस्तावित मूल्यों को अवलोकन तथा समझने में मदद करता है।
Helps each student to observe and understand his/her own proposed values
- (b) प्रत्येक छात्र को सभी चीजों के सम्बन्ध में स्वयं का अवलोकन करने तथा समझने में मदद करता है।
Helps every student to observe and understand them-selves in relation to all things
- (c) प्रत्येक व्यक्ति को उसके अनुबन्धन प्रभावों के बारे में जागरूक होने में मदद करता है।
Helps everyone to become aware of its contracting effects
- (d) प्रत्येक छात्र को शिक्षक जीवन के बारे में पूर्वकल्पित विचारों से ज्ञान प्राप्त करने में मदद करता है।
Helps students to get knowledge from conceived ideas about teacher life
184. गाँधी के अनुसार निम्नलिखित में से कौन-सा कथन सही है?
I. अधिगम को बच्चों को शारीरिक रूप से सक्रिय होने के अवसर प्रदान करने चाहिए।
II. बच्चों को दुनिया के बारे में ज्ञान के अपने मॉडल बनाने की स्वतन्त्रता होनी चाहिए।
Which of the following statement is correct according to Gandhi?
- I. Providing learning opportunities to children to be physically active .
- II. Children should have the freedom to create their own models of knowledge about the world .
- (a) केवल II
Only II
- (b) केवल I
Only I
- (c) I तथा II दोनों
I and II both
- (d) न ही I न ही II
Neither I nor II
185. प्राथमिक स्तर के लिए कौन सा पाठ्यक्रम लागू होता है?
Which curriculum is applicable for primary level?
- (a) अकादमिक
academic
- (b) सामान्य अकादमिक
general academic
- (c) पेशेवर
professional
- (d) व्यवसायिक
professional
186. ज्ञान विस्फोट से क्या मतलब है?
What is meant by knowledge explosion?
- (a) इस प्रकार के मानव समाजों का विकास जहाँ बहुसंख्यक मनुष्यों के लिए पर्याप्त मात्रा में गुणवत्तापूर्ण ज्ञान उपलब्ध है।
The development of such human societies where sufficient quantity of quality knowledge is available to the majority of humans.
- (b) ज्ञान प्राप्त करने के लिए प्रौद्योगिकी का दुरुपयोग
Abuse of technology to gain knowledge
- (c) हर जगह ज्ञान की उपलब्धता
availability of knowledge
- (d) शिक्षा में ज्ञान का अत्यधिक उपयोग
excessive use of knowledge

everywhere

in education

187. **राष्ट्रीय शिक्षा नीति (NPE), 1986 ने निम्नलिखित में से किसके लिए 'एकीकृत कार्यक्रम' विकसित करने का सुझाव दिया था?**
The National Policy on Education (NPE), 1986 suggested developing 'Integrated Programme' for which of the following?
- (a) लड़के और लड़कियों की सहशिक्षा के लिए
For co-education of boys and girls
- (b) मानसिक रूप से विकलांगों की शिक्षा के लिए
For the education of the mentally handicapped
- (c) विकलांग बच्चों के नियमित स्कूलों में पढ़ने के लिए
For children with disabilities to study in regular schools
- (d) विकलांग बच्चों के विशेष स्कूलों में पढ़ने के लिए
For children with disabilities to study in special schools
188. **उच्च प्राथमिक स्तर पर सामाजिक विज्ञान के स्वरूप पर (A), (B) और (C) कथनों पर विचार कीजिए- (A) यह अपने वातावरण में लोगों का अध्ययन है (B) यह लोगों के सम्बन्धों और उनकी अंतःनिर्भरता का अध्ययन है (C) यह अतीत और वर्तमान के साथ सम्बन्धों का अध्ययन है। उपर्युक्त कथनों में से सबसे उचित विकल्प का चयन कीजिए।**
Consider the statements (A), (B) and (C) on the nature of social science at the upper primary level: (A) It is the study of people in their environment (B) It is the study of people's relationships and their interdependence. (C) It is the study of relationships with the past and present. Select the most appropriate option from the above statements.
- (a) (A), (B) और (C)
(A), (B) and (C)
- (b) (A) और (B)
(A) and (B)
- (c) (B) और (C)
(B) and (C)
- (d) (A) और (C)
(A) and (C)
189. **NCF-2005 के अनुसार, बच्चों/बच्चे :**
As per NCF-2005, children/children :
- (a) में एक सहजता (जन्म से) भाषा हासिल करने की क्षमता होती है।
There is an inborn ability to acquire language.
- (b) परिवेश से सीखते हैं।
Learn from the environment.
- (c) साथियों से सीखते हैं।
Learn from peers.
- (d) को शिक्षित किया जाना चाहिए।
should be educated.
190. **मिड-डे मील प्रोग्राम का महत्व क्या था?**
What was the importance of mid-day meal programme?
- (a) यह एक परोपकारी अधिनियम था।
It was a charitable act.
- (b) कुपोषण से निपटना और पोषण शिक्षा के लिए आधार भी प्रदान करना।
Tackle malnutrition and also provide the basis for nutrition education.
- (c) छात्र ड्रॉप आउट को कम करना।
To reduce student drop out.
- (d) छात्रों की संख्या बढ़ाना।
Increasing the number of students.

191. **अभिभावक शिक्षक संघ के कार्य निम्नलिखित में से सभी हैं, सिवाए-**
The functions of Parent Teacher Association are all of the following, except -
- (a) माता-पिता की भागीदारी के विभिन्न पहलुओं को प्रोत्साहित करने के।
To encourage various aspects of parental involvement.
- (b) स्कूल नीतियों पर परामर्श देने के।
To advise on school policies.
- (c) पाठ्यक्रम में संशोधन का सुझाव देने के।
To suggest amendments in the curriculum.
- (d) स्कूल अनुशासन से संबंधित विषयों पर चर्चा आयोजित करने के।
To organize discussions on topics related to school discipline.
192. **निम्नलिखित में से सभी स्कूल प्रशासन में एक शिक्षक की जिम्मेदारियां हैं, सिवाए-**
All of the following are the responsibilities of a teacher in school administration, except:
- (a) आत्म विकास के लिए वित्तीय लाभ सुनिश्चित करने के।
To ensure financial benefits for self development.
- (b) अन्य सदस्यों के साथ संचार, परामर्श और सह-संचालन करने के।
To communicate, consult and co-operate with other members.
- (c) स्कूल असेंबली में भाग लेने के।
To attend school assembly.
- (d) कर्मचारियों, समूह या अन्य बैठकों में भाग लेने के।
Attend staff, group or other meetings.
193. **निम्न में से कौन-सा अ-प्राचलिक सांख्यिकीय परीक्षण का लाभ नहीं है?**
Which of the following is not an advantage of non-parametric statistical testing?
- (a) उसका उपयोग तभी होता है जब आँकड़े श्रेणी या वर्ग के रूप में होता है।
It is used only when the data is in the form of a category or class.
- (b) उनका उपयोग वहीं होता है जहाँ प्राचलिक परीक्षण उपयुक्त होते हैं।
They are used where parametric tests are appropriate
- (c) जनसंख्या बण्टन के प्रारूप के बावजूद वे सटीक संभाव्यकताओं का विवरण प्राप्त कराते हैं।
They provide accurate probabilities regardless of the shape of the population distribution.
- (d) वे प्राचरिक परीक्षण से कम शक्तिशाली होते हैं।
Are they less powerful than parameter tests?
194. **लोकतांत्रिक संस्थानों की समझ को विकसित करने के लिए निम्नलिखित में से सबसे उचित पाठ्यक्रम सम्बन्धी उपागम को चुनिए।**
Choose the most appropriate curricular approach from the following to develop understanding of democratic institutions.
- (a) वास्तविक स्थितियों के साथ आदर्श स्थिति में उदाहरणों
(b) आदर्श स्थितियों को दर्शाना represent ideal conditions

SCHOLARS ACADEMY

को प्रस्तुत करना

Presenting examples in ideal situation along with real situations

(c) मुख्य रूप से राष्ट्रीय उदाहरणों को प्रस्तुत करना
presenting primarily national examples

(d) शिक्षार्थियों को कठोर वास्तविक स्थितियों से परिचित कराना
exposing learners to harsh real-world situations

195. किसी क्रियाकलाप के लिए समूह बनाते हुए सामाजिक अध्ययन के शिक्षक को चाहिए कि वह-

While forming groups for any activity, the social studies teacher should -

(a) केवल दो समूह बनाए और प्रत्येक में बहुत से विद्यार्थी हो

Form only two groups with many students in each

(b) सभी प्रतिभागियों की सहभागिता और सहयोग सुनिश्चित करें

Ensure participation and cooperation of all participants

(c) सुनिश्चित करें कि लड़के-लड़कियों के समूह अलग-अलग हों

Make sure there are separate groups of boys and girls

(d) उनके अंकों के अनुसार समूह बनाए

make groups according to their marks

196. प्राथमिक स्तर के शिक्षार्थियों में मानचित्र बनाने और समझने के लिए निम्नलिखित में से किन कौशल/कौशलों के विकास की आवश्यकता है? 1. स्थानों की सापेक्ष स्थिति की समझ। 2. स्थानों की सापेक्ष दूरी और दिशाओं की समझ। 3. प्रतीकों और स्केल/पैमाने की समझ। 4. स्केल/पैमाने के अनुसार स्पष्ट ड्राइंग बनाना

Which of the following skills/skills need to be developed in primary level learners to make and understand maps?

1. Understanding the relative positions of places. 2. Understanding of relative distances and directions of places. 3. Understanding symbols and scale 4. Making clear drawings according to scale

(a) केवल 4
only 4

(b) 1 और 2
1 and 2

(c) केवल 3
only 3

(d) 1, 2 और 3
1, 2 and 3

197. उस शब्द को चुने जो दिए गए वाक्य को प्रतिस्थापित कर सकता है।

जो एक भगवान पर विश्वास करता है-

Choose the word that can substitute the given sentence.

One who believes in one God.

(a) शिष्टजन

Aristocracy

(c) एकेश्वरवादी

Monotheist

(b) जनमत संग्रह

Referendum

(d) निन्दा

Blasphemey

198. उस शब्द को चुने जो दिये गए शब्द के विपरीतार्थक है-

Proficient

Choose the word that is opposite in meaning to the given word.

proficient

(a) Able

(c) Fit

(b) Incompetent

(d) Competent

199. कला की एक महत्वपूर्ण विशेषता है-

An important feature of art is-

(a) यह समाज की संस्कृति को दर्शाता है।

It reflects the culture of the society.

(c) यह कुछ चीज के बारे में है।
It's about something.

(b) यह व्यक्तिगत कौशल के बारे में है।

It's about individual skills.

(d) यह प्रकृति के बारे में सब कुछ है।
It's all about nature.

200. ओलंपिक खेलों का उद्देश्य क्या है?

What is the purpose of Olympic Games?

(a) स्वर्ण पदक सर्वोच्च है और हासिल किया जाना चाहिए।

The gold medal is the highest and should be achieved.

(c) प्रतिस्पर्धी देशों की रैंकिंग।
Ranking of competing countries.

(b) संघर्ष जीत से अधिक महत्वपूर्ण है।

Struggle is more important than victory.

(d) लोगों को जीतने के महत्व को महसूस कराना।

To make people feel the importance of winning.