

DO NOT OPEN THE SEAL OF THE BOOKLET UNTIL YOU ARE TOLD TO DO SO

EXAM ID. - 10253

# DSSSB

## TEST SERIES

DATE - \_\_/\_\_/\_\_

DAY -

INSTRUCTION FOR CANDIDATE

उम्मीदवारों के लिए अनुदेश

TEST SERIES NO.

**A – 103**

QUESTION – 200

MARKS – 200

NEGATIVE MARK – 0.25

DURATION – 120 MIN.

- केवल काले या नीले रंग की स्पाही वाले बॉल पेन का ही उपयोग करें
- परीक्षा प्रारंभ होते ही आप इस प्रश्न पुस्तिका की जाँच अवश्य कर ले तथा यदि इसमें कोई बिना छपा कटा-फटा या आंशिक छपा हुआ पृष्ठ अथवा प्रश्न हो, तो इसे अभिजागर के माध्यम से सही प्रश्न पुस्तिका से बदल लीजिए।
- इस प्रश्न पुस्तिका में कुल 200 प्रश्न हैं।
- यह एक वस्तुनिष्ठ परीक्षा है, जिसमें प्रत्येक प्रश्न के उत्तर के लिए चार विकल्प दिए गए हैं, आपको इन चार विकल्पों में से सही उत्तर वाले एक ही विकल्प को चुनना है।
- सभी प्रश्नों के उत्तर अलग अलग से दिए गए उत्तर-पत्रक पर ही अंकित करने हैं।

- उत्तर-पत्रक को भरने हेतु निर्देश उत्तर-पत्रक के पृष्ठ भाग पर अंकित हैं, जिन्हें उत्तर-पत्रक को भरने से पूर्व ध्यान से पढ़ ले।
- इस प्रश्न पुस्तिका में रफ-कार्य के लिए खाली पृष्ठ उपलब्ध हैं।
- परीक्षा समाप्त होने से पूर्व परीक्षार्थी कक्ष से बाहर नहीं जा सकते हैं।
- परीक्षा समाप्त होने के पश्चात् आप उत्तर-पत्रक की ORIGINAL COPY को अभिजागर के पास जमा कराकर उनकी अनुमति से ही बाहर जा सकते हैं।
- परीक्षा समाप्त होने पर प्रश्न पुस्तिका एवं उत्तर-पत्रक की Candidate's Copy को अपने साथ ले जाने की अनुमति है।
- प्रत्येक सही उत्तर पर 1 अंक प्राप्त होगा तथा प्रत्येक गलत उत्तर पर 0.25 अंक काटा जाएगा।

# SCHOLARS ACADEMY

SSC | IBPS | NDA | RAILWAY | COMMERCE

Add : H-81, Ind floor, South Extension I, Block H, New Delhi, Delhi 110049

MOB:- 01141676717, 9312712114

## General Awareness

1. छत्तीसगढ़ पर वर्षा जल संचयन को अनिवार्य बनाने वाला भारत का पहला और एकमात्र राज्य निम्नलिखित में से कौन सा है ?

Which of the following is the first and only state in India to make rooftop rainwater harvesting mandatory?

- (a) मेघालय (b) आंध्र प्रदेश  
Meghalaya Andhra Pradesh  
(c) मिज़ोरम (d) तमिलनाडु  
Mizoram Tamil Nadu

2. निम्नलिखित में कौन सी मादा मच्छर डेंगू वायरस के वाहक के रूप में कार्य करती है?

Which of the following female mosquitoes acts as a carrier of dengue virus?

- (a) मैसोनाइड (b) एडीज  
Mansonia aedes  
(c) एनाफिलीज (d) क्यूलेक्स  
Anopheles Culex

3. कृषि उत्पादों के परिवहन के लिए 'कृषि उड़ान योजना' का शुभारंभ वर्ष \_\_\_\_\_ के बजट में घोषित किया गया था।

The launch of 'Krishi Udaan Yojana' for transportation of agricultural products was announced in the budget of the year \_\_\_\_\_.

- (a) 2019 (b) 2017  
(c) 2018 (d) 2020

4. निम्नलिखित व्यक्तियों में से कौन 1870 में भारतीय लोक सेवा के पहले भारतीय सदस्य थे ?

Who among the following personalities was the first Indian member of the Indian Civil Service in 1870?

- (a) निबरन चंद्र मुखर्जी (b) पिंगली वेंकैया  
Nibaran Chandra Mukherjee Pingali Venkayya  
(c) बिपिन चंद्र पाल (d) सत्येंद्रनाथ टैगोर  
Bipin Chandra Pal Satyendranath Tagore

5. 1722 में आगरा की सूबेदारी निम्नलिखित में से किस व्यक्ति को दी गई थी ?

To which of the following persons was the governorship of Agra given in 1722?

- (a) सवाई राजा जगत सिंह (b) जहांदार शाह  
Sawai Raja Jagat Singh Jahandar Shah  
(c) शाहजहाँ (d) सवाई राजा जय सिंह  
Shahjahan Sawai Raja Jai Singh

6. जनरल इंश्योरेंस कॉर्पोरेशन ऑफ इंडिया किस वर्ष कंपनी के रूप में निगमित हुई थी ?

In which year was General Insurance Corporation of India incorporated as a company?

- (a) 1972 (b) 1965  
(c) 1988 (d) 1981

7. निम्नलिखित में से कौन सा खेल 'यू थैंट कप' से संबंधित है ?

Which of the following sports is related to 'You Thant Cup'?

- (a) टेबल टेनिस (b) लॉन टेनिस  
table tennis lawn tennis  
(c) घुड़दौड़ (d) हॉकी  
horse race Hockey

8. निम्नलिखित में से किस वर्ष ताशकंद में भारतीय कम्युनिस्ट पार्टी (मार्क्सवादी) की स्थापना हुई थी ?

In which of the following years was the Communist Party of India (Marxist) established in Tashkent?

- (a) 1912 (b) 1909  
(c) 1934 (d) 1920

9. निम्नलिखित में से कौन सी पहाड़ियाँ आंध्र प्रदेश में स्थित हैं ?  
Which of the following hills are located in Andhra Pradesh?

- (a) पालकोंडा की पहाड़ियाँ (b) महाबलेश्वर की पहाड़ियाँ  
Palakonda Hills hills of mahabaleshwar  
(c) अन्नामलाई की पहाड़ियाँ (d) नीलगिरि की पहाड़ियाँ  
Annamalai Hills nilgiri hills

10. 'व्हाई आई एम अ हिन्दू' नामक पुस्तक के लेखक निम्नलिखित में से कौन हैं ?

Who among the following is the author of the book titled 'Why I am a Hindu'?

- (a) शशि थरूर (b) विक्रम सेठ  
Shashi Tharoor Vikram Seth  
(c) मनमोहन सिंह (d) सत्यार्थ नायक  
Manmohan Singh satyarth hero

11. निम्नलिखित में से कौन सा कथन गलत है?

Which of the following statements is incorrect?

- (a) राजकोषीय नीति, सरकार के कराधान और व्यय निर्णयों से संबंधित है।  
Fiscal policy deals with the taxation and spending decisions of the government.  
(b) मौद्रिक नीति, अर्थव्यवस्था में धन की आपूर्ति और ब्याज की दर से संबंधित है।  
Monetary policy is concerned with the money supply and interest rates in the economy.  
(c) राजकोषीय नीति में कर नीति, व्यय नीति, निवेश या विनिवेश रणनीति और ऋण या अधिशेष प्रबंधन शामिल है।  
Fiscal policy includes tax policy, expenditure policy, investment or disinvestment strategy and debt or surplus management.  
(d) अधिकांश आधुनिक अर्थव्यवस्थाओं में, केन्द्रीय बैंक राजकोषीय नीति से संबंधित है, जबकि सरकार मौद्रिक नीति के लिए उत्तरदायी है।  
In most modern economies, the central bank is concerned with fiscal policy, while the government is responsible for monetary policy.

12. निम्नलिखित में से कौन, भारत के सर्वोच्च नागरिक सम्मान, भारत रत्न से सम्मानित होने वाले/वाली पहले/पहली संगीतकार थे/थी?

Who among the following was the first musician to be awarded the Bharat Ratna, India's highest civilian honour?

- (a) पंडित भीमसेन गुरुराज जोशी (b) बी.एम बालमुरलीकृष्ण  
Pandit Bhimsen Gururaj Joshi B.M Balamuralikrishna  
(c) लता मंगेशकर (d) एम.एस. सुब्बुलक्ष्मी  
Lata Mangeshkar M / s. Subbulakshmi

# SCHOLARS ACADEMY

13. अमेरिकी भूविज्ञानी चार्ल्स वेल्ड और दोराबजी टाटा ने लोहे के अयस्कों की खोज कहाँ की थी?

Where did American geologists Charles Weld and Dorabji Tata discover iron ores?

- (a) राजहारा की पहाड़ियाँ (b) बैलाडिला  
The hills of Rajhara Bailadila  
(c) बोरिया टिब्बू (d) एकलामा  
boriya tibhu in single

14. राष्ट्रीय विज्ञान दिवस 2023 का थीम क्या है?

What is the theme of National Science Day 2023?

- (a) ग्लोबल साइंस फॉर यूथ (b) ग्लोबल साइंस फॉर ग्लोबल  
Global Science for Youth वेल्बीइंग  
Global Science for Global  
Wellbeing  
(c) न्यू टेक्नोलॉजी फॉर फ्यूचर (d) ग्लोबल इनोवेशन फॉर फ्यूचर  
New Technology for Future Global Innovation for Future

15. 1 अप्रैल 2023 को किस राज्य के मुख्यमंत्री ने "स्कूल चलो अभियान 2023" का शुभारंभ किया ?

The Chief Minister of which state launched "School Chalo Abhiyan 2023" on 1 April 2023?

- (a) महाराष्ट्र (b) राजस्थान  
Maharashtra Rajasthan  
(c) त्रिपुरा (d) उत्तर प्रदेश  
Tripura Uttar Pradesh

16. केंद्र सरकार ने कितने वर्ष से ऊपर के लोगों को साक्षर करने के लिए एक नई योजना 'न्यू इंडिया लिटरेसी प्रोग्राम' शुरू की ?

The Central Government launched a new scheme 'New India Literacy Programme' to make people above how many years of age literate?

- (a) 15 (b) 14  
(c) 13 (d) 18

17. लेनीज ने किस अभिनेत्री को भारत के लिए फर्स्ट ब्रांड फेस के रूप में साइन किया?

Which actress was signed by Laneige as the first brand face for India?

- (a) अथिया शेटी (b) सोनाक्षी सिन्हा  
Athiya Shetty Sonakshi Sinha  
(c) सोनम कपूर (d) शमिता शेटी  
Sonam Kapoor Shamita Shetty

18. महाराष्ट्र सरकार ने किसे 'स्माइल एंबेसडर' के रूप में नामित किया है?

Who has been named as 'Smile Ambassador' by the Maharashtra Government?

- (a) सचिन तेंदुलकर (b) सुनील गावस्कर  
Sachin Tendulkar Sunil Gavaskar  
(c) एम एस धोनी (d) विराट कोहली  
m s dhoni Virat Kohli

19. एक लाख करोड़ रुपये का बाज़ार पूंजीकरण हासिल करने वाली पहली भारतीय एयरलाइन कौन बनी है?

Which has become the first Indian airline to achieve market capitalization of Rs 1 lakh crore?

- (a) स्पाइस जेट  
Spice Jet  
(c) विस्तारा  
Vistara

- (b) एयर इंडिया  
Air India  
(d) इंडिगो एयरलाइन  
indigo airline

20. भारत का पहला मत्स्य पालन अटल इन्क्यूबेशन सेंटर किस राज्य में स्थापित करने की घोषणा की है?

In which state has it been announced to establish India's first Fisheries Atal Incubation Center?

- (a) केरल (b) कर्नाटक  
Kerala Karnataka  
(c) तमिलनाडू (d) आंध्रप्रदेश  
tamilnadu Andhra Pradesh

## Reasoning

21. दिए गए विकल्पों में से उस अक्षर-समूह का चयन कीजिए जो निम्न श्रृंखला में प्रश्न चिह्न (?) के स्थान पर आ सकता है।

EFJ, FGK, GHL, HIM, ?

From the given options, select the letter-cluster which can come in place of the question mark (?) in the following series.

EFJ, FGK, GHL, HIM, ?

- (a) IJM (b) IJN  
(c) IKN (d) IKM

22. दिए गए कथनों और निष्कर्षों को ध्यानपूर्वक पढ़ें। यह मानते हुए कि कथनों में दी गई जानकारी सही है, भले ही वह सामान्य रूप से ज्ञात तथ्यों से भिन्न प्रतीत होती हो, निर्धारित करें कि दिए गए निष्कर्षों में से कौन-से निष्कर्ष कथनों का तार्किक रूप से अनुसरण करते हैं।

कथन :

सभी बाघ शेर हैं।

सभी शेर जानवर हैं।

निष्कर्ष :

I. सभी बाघ जानवर हैं।

II. कोई भी बाघ पक्षी नहीं है।

Read the given statements and conclusions carefully.

Assuming that the information given in the statements is correct even if it seems to be at variance from commonly known facts, decide which of the given conclusions logically follow from the statements.

Statement:

All tigers are lions.

All lions are animals.

Conclusions:

I. All tigers are animals.

II. No tiger is bird.

- (a) केवल निष्कर्ष II अनुसरण करता है।

- (b) या तो निष्कर्ष I या निष्कर्ष II अनुसरण करता है।

Only conclusion II follows.

Either conclusion I or conclusion II follows.

- (c) दोनों निष्कर्ष अनुसरण करते हैं।

- (d) केवल निष्कर्ष I अनुसरण करता है।

Both conclusions follow.

Only conclusion I follows.

23. 'कुर्सी' का जो संबंध 'लकड़ी' से है 'कंबल' का वही संबंध \_\_\_\_\_ से है।

The relation that 'chair' has to 'wood' is the same as 'blanket' is to \_\_\_\_\_.

- |               |          |
|---------------|----------|
| (a) प्लास्टिक | (b) कागज |
| plastic       | Paper    |
| (c) बिस्तर    | (d) ऊन   |
| Bed           | the heat |

24. उस विकल्प का चयन कीजिए जिसमें निम्न शब्दों का वह क्रम दिया गया है, जिस क्रम में ये शब्द अंग्रेजी शब्दकोश में मौजूद होते हैं।

Select the option which gives the order in which the following words appear in the English dictionary.

- 1-Certain
- 2-Certify
- 3-Cerebral
- 4- Ceramic
- 5-Ceremony

- |                   |                   |
|-------------------|-------------------|
| (a) 4, 3, 2, 5, 1 | (b) 3, 4, 5, 1, 2 |
| (c) 4, 3, 5, 2, 1 | (d) 4, 3, 5, 1, 2 |

25. जब एक संख्या को उसकी पिछली संख्या में जोड़ा जाता है और दूसरी संख्या जो उसकी पिछली संख्या की दुगुनी है। तो तीन संख्याओं का योग 61 होता है। संख्या ज्ञात कीजिए।

When a number is added to its previous number and another number is added which is double of its previous number. So the sum of three numbers is 61. Find the number.

- |        |        |
|--------|--------|
| (a) 16 | (b) 14 |
| (c) 15 | (d) 13 |

26. उस विकल्प का चयन कीजिए, जिसका चौथी संख्या से वही संबंध है, जो पहली संख्या का दूसरी संख्या से है और पांचवीं संख्या का छठी संख्या से है।

153 : 12 :: ? : 17 :: 205 : 14

Select the option which has the same relationship with the fourth number as the first number has with the second number and the fifth number has with the sixth number.

153 : 12 :: ? : 17 :: 205 : 14

- |         |         |
|---------|---------|
| (a) 298 | (b) 307 |
| (c) 290 | (d) 218 |

27. चार अक्षर-समूह दिए गए हैं, जिनमें से तीन किसी तरह से एक समान हैं और एक भिन्न है। उस अक्षर-समूह का चयन करें जो भिन्न है।

Four letter-clusters have been given, out of which three are alike in some manner and one is different. Select the letter set that is different.

- |         |         |
|---------|---------|
| (a) GCY | (b) OKG |
| (c) JFB | (d) UQN |

28. पांच मित्र एक पंक्ति में उत्तर दिशा की ओर मुंह करके बैठे हुए हैं। G, I के दाईं ओर बगल में बैठा है। F, H के बाईं ओर और E के दाईं ओर बगल में बैठा है। यदि H और I एक-दूसरे के बगल में बैठे हैं, तो बीच में कौन बैठा है ?

Five friends are sitting in a row facing north. G is sitting next to the right of I. F sits to the left of H and to the

right of E. If H and I are sitting adjacent to each other, then who is sitting in the middle?

- |       |       |
|-------|-------|
| (a) F | (b) H |
| (c) I | (d) E |

29. दिए गए समीकरण को संतुलित करने के लिए किन दो संख्याओं को आपस में बदला जाना चाहिए ?

$$30 + 28 - 34 \div 2 \times 4 = 2$$

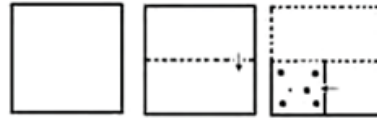
Which two numbers should be interchanged to balance the given equation?

$$30 + 28 - 34 \div 2 \times 4 = 2$$

- |              |              |
|--------------|--------------|
| (a) 30 और 34 | (b) 34 और 4  |
| 30 and 34    | 34 and 4     |
| (c) 4 और 2   | (d) 28 और 34 |
| 4 and 2      | 28 and 34    |

30. निम्नांकित चित्रों में एक कागज को मोड़ने का क्रम और मुड़े हुए कागज को काटने का तरीका दर्शाया गया है। मुड़े हुए कागज को खोलने पर यह कैसा दिखाई देगा ?

The following pictures show the sequence of folding a paper and the method of cutting the folded paper. What will the folded paper look like when it is opened?



- |     |     |
|-----|-----|
| (a) | (b) |
| (c) | (d) |

31. दिए गए विकल्पों में से उस अक्षर-समूह का चयन करें जो निम्नलिखित श्रेणी में प्रश्नवाचक चिह्न (?) के स्थान पर आ सकता है।

TH, VJ, YM, ?, HV

Select the letter-cluster from the given options which can come in place of the question mark (?) in the following series.

TH, VJ, YM, ?, HV

- |        |        |
|--------|--------|
| (a) DR | (b) BR |
| (c) HS | (d) CQ |

32. दिए गए कथनों और निष्कर्षों को ध्यानपूर्वक पढ़ें। यह मानते हुए कि कथनों में दी गई सूचना सही है, भले ही वह सामान्य रूप से ज्ञात तथ्यों से भिन्न प्रतीत होती हो, और यह निर्धारित करें कि दिए गए निष्कर्षों में से कौन-सा/से निष्कर्ष कथनों का तार्किक रूप से अनुसरण करता है/करते हैं।

कथन:

सभी पुस्तकें रजिस्टर हैं।

सभी रजिस्टर पेंसिल हैं।

निष्कर्ष:

- |                                 |                            |
|---------------------------------|----------------------------|
| (a) सभी पुस्तकें पेंसिल हैं।    | (b) All books are pencils. |
| ii. कोई भी रजिस्टर कलम नहीं है। | ii. No register is pen.    |

Read the given statements and conclusions carefully.

Assuming that the

information given in the

statements is true even if it seems to be at variance from commonly known facts, and decide which of the given conclusions logically follows from the statements /do.

Statements:

All books are registers.

All registers are pencils.

Conclusion:

- (c) केवल निष्कर्ष i अनुसरण करता है। (d) केवल निष्कर्ष ii अनुसरण करता है।
- Only conclusion i follows. Only conclusion ii follows.
- (e) या तो निष्कर्ष i या निष्कर्ष ii अनुसरण करता है। (f) दोनों निष्कर्ष अनुसरण करते हैं।
- This follows from conclusion i and conclusion ii. Both conclusions follow.

33. निम्नलिखित विकल्पों में से उस विकल्प का चयन करें, जो दिए गए शब्दों के सही क्रम को दर्शाता है, जिस क्रम में ये शब्द अंग्रेजी शब्दकोश में दिखाई देते हैं।

Select the option from the following options that shows the correct order of the given words, the order in which these words appear in the English dictionary.

- 1-Prelude
- 2- Pressure
- 3-Presume
- 4-Product
- 5- Professor

- (a) 1, 2, 3, 5, 4 (b) 1, 2, 4, 3, 5  
(c) 1, 2, 3, 4, 5 (d) 1, 4, 2, 3, 5

34. उस विकल्प का चयन करें जो तीसरी संख्या से उसी प्रकार संबंधित है जिस प्रकार दूसरी संख्या पहली संख्या से संबंधित है।  
9 : 107 :: 8 : ?

Select the option which is related to the third number in the same way as the second number is related to the first number.

9 : 107 :: 8 : ?

- (a) 112 (b) 96  
(c) 100 (d) 98

35. एक निश्चित कूट भाषा में, CHAMPION को NIMHOPAC के रूप में लिखा जाता है। उसी भाषा में CHILDREN को किस रूप में लिखा जाएगा?

In a certain code language, CHAMPION is written as NIMHOPAC. How will CHILDREN be written in the same language?

- (a) RENDLIHC (b) DLIHCNER  
(c) NRLHEDIC (d) IENRDLHC

36. यदि 'P' जोड़' को निर्दिष्ट करता है, 'D'. घटाने' को निर्दिष्ट करता है, 'S' गुणा को निर्दिष्ट करता है, और 'V' 'भाग' को निर्दिष्ट करता है, तो निम्नलिखित व्यंजक का मान क्या होगा?

5 (7 S 3) D 3 (8 P 6) V 7 D 11 (3 S 13 S 2) P 2 (41 S 9)

If 'P' specifies 'Addition', 'D'. denotes 'subtraction', 'S' denotes multiplication, and 'V' denotes 'division', then what will be the value of the following expression?

5 (7 S 3) D 3 (8 P 6) V 7 D 11 (3 S 13 S 2) P 2 (41 S 9)

- (a) 39 (b) -93  
(c) 21 (d) -21

37. जब एक संख्या को उसकी अगली संख्या में जोड़ा जाता है और उनको अन्य एक संख्या में जोड़ा जाता है जो कि उस अगली संख्या की 2 गुनी है, तो इन तीनों संख्याओं का योग 35 होता है। वह संख्या बताइए।

When a number is added to its next number and they are added to another number which is 2 times that next number, the sum of these three numbers is 35. Tell me that number.

- (a) 8 (b) 6  
(c) 7 (d) 9

38. एक निश्चित कूट भाषा में, ANGER को 45 के रूप में कूटबद्ध किया जाता है। उसी भाषा में CRUEL को किस रूप में कूटबद्ध किया जाएगा?

In a certain code language, ANGER is coded as 45. How will CRUEL be coded in that language?

- (a) 58 (b) 56  
(c) 59 (d) 55

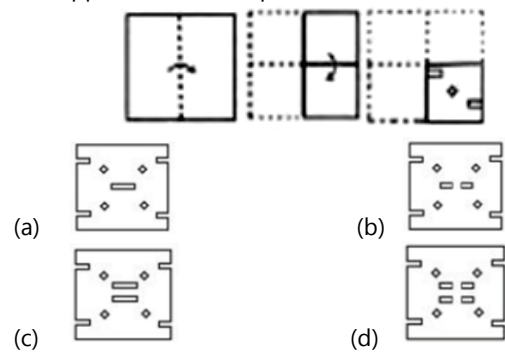
39. दिए गए पैटर्न का ध्यानपूर्वक अध्ययन करें और उस संख्या का चयन करें जो इसमें प्रश्न चिह्न (?) के स्थान पर आ सकती है।

14 10 38 15 20 50 16 30 ?

Study the given pattern carefully and select the number which can come in place of the question mark (?) in it.  
14 10 38 15 20 50 16 30 ?

- (a) 64 (b) 60  
(c) 58 (d) 62

40. नीचे दी गई आकृतियों में कागज के एक टुकड़े को मोड़ने और मोड़े गए कागज को काटने के तरीके का क्रम दर्शाया गया है। कागज को खोले जाने पर वह कैसे दिखाई देगा? The figures given below show the sequence of folding a piece of paper and the method of cutting the folded paper. How will the paper appear when it is opened?



## Arithmetical & Numerical Ability

41. एक शहर की 62% जनसंख्या शिक्षित है। यदि शहर में अशिक्षित लोगों की संख्या 24567 है, तो शिक्षित लोगों की संख्या कितनी है?  
62% of the population of a city is educated. If the number of illiterate people in the city is 24567, then what is the number of educated people?  
(a) 41823 (b) 64650  
(c) 35688 (d) 40083
42. दो वस्तुओं जिनमें प्रत्येक का क्रय मूल्य 2500 है। एक को 5% लाभ पर बेचा जाता है। यदि कुल मिलाकर 20% का लाभ हुआ हो, तो अन्य दूसरी वस्तु की बिक्री पर हुआ प्रतिशत लाभ ज्ञात कीजिए।  
Two articles each having cost price of Rs.2500. One is sold at 5% profit. If overall profit is 20%, then find the percentage profit on sale of other items.  
(a) 20% (b) 25%  
(c) 30% (d) 35%
43. इनमें से कौन सा बेहतर है? (1) 10% और 20% की क्रमिक छूट। (2) 20% और 10% की क्रमिक छूट।  
Which one is better? (1) Successive discount of 10% and 20%. (2) Successive discount of 20% and 10%.  
(a) दोनों समान हैं। (b) निर्धारित नहीं किया जा सकता है।  
Both are similar. Cannot be determined.  
(c) 20% और 10% की क्रमिक छूट। (d) 10% और 20% की क्रमिक छूट।  
Sequential discount of 20% and 10%. Sequential discount of 10% and 20%.
44. तुलप और देवांश के पास जो कंचे थे उनकी संख्या का अनुपात 7 : 9 था जबकि शीतल और देवांश के पास कंचों की संख्या का अनुपात 7 : 15 था। तुलप और शीतल के पास उपलब्ध कंचों की संख्या का अनुपात बताएं।  
The ratio of the number of marbles possessed by Tulip and Devansh was 7 : 9 while the ratio of the number of marbles possessed by Sheetal and Devansh was 7 : 15. Find the ratio of the number of marbles available with Tulip and Sheetal.  
(a) 5 : 3 (b) 5 : 7  
(c) 7 : 5 (d) 2 : 3
45. X, Y और Z 415 के वार्षिक किराये पर एक खेत लेते हैं। यदि X उस खेत में 25 गायों को 6 महीने, Y 40 गायों को 8 महीने और Z 30 गायों को पूरे वर्ष घास चराते हैं, तो दिए गए किराये में Y का हिस्सा कितना है?  
X, Y and Z take a farm at an annual rent of Rs 415. If X grazes 25 cows in that field for 6 months, Y 40 cows for 8 months and Z 30 cows for the whole year, then what is Y's share in the rent given?  
(a) 120 (b) 154  
(c) 150 (d) 160
46. D एक कार्य को 18 दिन में कर सकता है और E उसी कार्य को आधे समय में कर सकता है। यदि दोनों एक साथ कार्य करें तो वे कार्य समाप्त करने में कितना समय लेंगे।  
D can do a work in 18 days and E can do the same work in half the time. If both work together, how much time will they take to complete the work?  
(a) 5 (b) 4  
(c) 7 (d) 6
47. 10% पानी युक्त 16 लीटर दूध को इतना पतला करने के लिए उसमें कितने लीटर पानी मिलाया जाना चाहिए, कि मिश्रण में पानी की मात्रा 20% हो?  
How many liters of water should be added to 16 liters of milk containing 10% water to dilute it so that the amount of water in the mixture is 20%?  
(a) 2 लीटर (b) 4 लीटर  
2 liters 4 liters  
(c) 1 लीटर (d) 3 लीटर  
1 liter 3 liters
48. दो पाइप A और B एक टैंक को क्रमशः 45 तथा 36 घंटों में भर सकते हैं। यदि दोनों पाइपों को एक साथ खोल दिया जाता है, तो टैंक को भरने में कितना समय लगेगा ?  
Two pipes A and B can fill a tank in 45 and 36 hours respectively. If both the pipes are opened together, how much time will it take to fill the tank?  
(a) 10 घंटे (b) 20 घंटे  
10 hours 20 hours  
(c) 2 घंटे (d) 5 घंटे  
2 hours 5 hours
49. एक निश्चित दर पर किसी विशेष राशि के लिए, 4 वर्ष और 8 वर्ष के साधारण ब्याजों का अनुपात ज्ञात कीजिए।  
Find the ratio of simple interests of 4 years and 8 years, for a particular sum at a certain rate.  
(a) 1 : 2 (b) 2 : 1  
(c) 2 : 3 (d) 1 : 4
50. एक महिला प्रत्येक वर्ष के प्रारंभ में 5% चक्रवृद्धि ब्याज दर पर 200 का निवेश किया। दूसरे वर्ष के अन्त में उसकी कुल निवेश राशि हो जाएगी।  
A woman invested Rs 200 at the beginning of each year at 5% compound interest. At the end of the second year his total investment amount will be  
(a) 431 (b) 430.5  
(c) 435 (d) 430
51. चार वर्ष बाद एक परिवार के दो सदस्यों की कुल आयु 64 वर्ष होगी। चार वर्ष पहले उनकी आयु का अनुपात 3 : 1 था। उन दोनों में से छोटे वाले की आयु ज्ञात कीजिए।  
After four years the total age of two members of a family will be 64 years. Four years ago the ratio of their ages was 3 : 1. Find the age of the younger one among those two.  
(a) 10 (b) 16  
(c) 12 (d) 15

52. चार संख्याओं W, X, Y और Z को आरोही क्रम में व्यवस्थित किया गया है। सबसे छोटी तीन संख्याओं का औसत 22 है, जबकि सबसे बड़ी तीन संख्याओं का औसत 28 है। आंकड़ों का परास ज्ञात कीजिए?

Four numbers W, X, Y and Z are arranged in ascending order. The average of the smallest three numbers is 22, while the average of the largest three numbers is 28. Find the range of the data?

- (a) 19 (b) 18  
(c) 17 (d) 16

53. पृथी राजधानी एक्सप्रेस से दिल्ली जा रही है जो छः मिनट की देरी से चल रही है। ड्राइवर इसकी गति को 4 Km/hr बढ़ाता है। ऐसा करने से ट्रेन अगले स्टेशन जोकि 36 Km दूर है, पर समय से पहुँचती है। ट्रेन की वास्तविक गति ज्ञात कीजिए?

Prithi is going to Delhi by Rajdhani Express which is running late by six minutes. The driver increases its speed by 4 Km/hr. By doing this the train reaches the next station which is 36 Km away on time. Find the actual speed of the train?

- (a) 20 Km/hr (b) 26 Km/hr  
(c) 36 Km/hr (d) 30 Km/hr

54. एक रेलगाड़ी, 48 किमी./घंटा की तेजी से दौड़ने पर 10 घंटों में अपनी यात्रा पूरी कर सकती है। यदि उसी दूरी को 8 घंटों में पूरा किया जाना हो तो रेलगाड़ी की गति क्या होनी चाहिए?

A train running at a speed of 48 km/hr can complete its journey in 10 hours. What should be the speed of the train if the same distance is to be covered in 8 hours?

- (a) 50 किमी./घंटा (b) 55 किमी./घंटा  
50 km/h 55 km/h  
(c) 45 किमी./घंटा (d) 60 किमी./घंटा  
45 km/h 60 km/h

55. राम स्थान A से B तक 12 किमी./घंटा की एक समान चाल से साइकिल चलाते हुए जाता है और फिर साइकिल चलाते हुए स्थान A तक वापस आता है। उसका दोस्त गोपी स्थान A से B तक नाव से यात्रा करता है और स्थान A पर वापस आता है, जहाँ उसकी शांत जल में चाल 10 किमी./घंटा है और नदी का प्रवाह 4 किमी./घंटा है। स्थान A पर पहले कौन वापस आयेगा?

Ram goes from place A to B by bicycle at a uniform speed of 12 km/hr and then returns to place A by bicycle. His friend Gopi travels by boat from point A to B and comes back to point A, where his speed in still water is 10 km/hr and the flow of the river is 4 km/hr. Who will return to position A first?

- (a) गोपी (b) राम  
Gopi Ram  
(c) दोनों एक ही समय पर (d) निर्धारित नहीं किया जा  
पहुँचेंगे सकता  
both will arrive at the same cannot be determined  
time

56. दो समरूप त्रिभुजों में उनकी संगत भुजाओं का अनुपात 1:3 है और बड़े त्रिभुज का क्षेत्रफल 72 वर्ग सेमी है। छोटे त्रिभुज का क्षेत्रफल ज्ञात कीजिए।

In two similar triangles, the ratio of their corresponding sides is 1:3 and the area of the larger triangle is 72 square cm. Find the area of the smaller triangle.

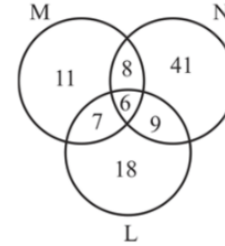
- (a) 18 वर्ग सेमी (b) 8 वर्ग सेमी  
18 square cm 8 square cm  
(c) 14 वर्ग सेमी (d) 9 वर्ग सेमी  
14 square cm 9 square cm

57. 16, 32, 64, 128, ..... इस क्रम का 11वाँ अंक ..... होगा:  
16, 32, 64, 128, ..... the 11th digit of this sequence will be:

- (a) 16348 (b) 16384  
(c) 16834 (d) 13684

58. उपर्युक्त वेन आरेख उन छात्रों को दर्शाता है, जो एक कक्षा में 3 खेल M, N और L खेलते हैं। एक खेल खेलने वाले छात्रों की कुल संख्या है-

The above Venn diagram shows students who play 3 games M, N and L in a class. The total number of students playing a game is-



- (a) 71 (b) 75  
(c) 70 (d) 72

59. यदि  $\sec\theta + \tan\theta = 12.5$ , तो  $\sec\theta - \tan\theta = ?$   
If  $\sec\theta + \tan\theta = 12.5$ , then  $\sec\theta - \tan\theta = ?$

- (a) 1 (b) 0.08  
(c) 0.8 (d) 0.4

60. बिन्दुओं (-1, 0) और (2, 6) से जुड़े हुए रेखाखंड को आंतरिक रूप से 2 : 1 के अनुपात में बिंदु पर विभाजित किया जाता है:

The line segment joining the points (-1, 0) and (2, 6) is divided internally at the point in the ratio 2 : 1:

- (a) (0, 4) (b) (1, 3)  
(c) (1, 4) (d) (0, 5)

## HINDI

61. भावना की अतिशयता जिस प्रका अंधविश्वास को उत्पन्न करती है, बुद्धि की (1) \_\_\_\_\_ "ठीक उसी प्रकार मनुष्य को दानव बना देती है और आज हम जिस युग में जी रहे हैं, वह सचमुच ही (2) \_\_\_\_\_ बर्बरता का युग है। जीवन के सारे (3) \_\_\_\_\_ उलट-पुलट गये हैं और मनुष्य यह भूल गया है कि उसका (4) \_\_\_\_\_ केवल अपने आप को ही जिलाना नहीं बल्कि समस्त मानव समाज को जीवित रखने में (5) \_\_\_\_\_ होना है। निम्न प्रश्नों के उत्तर उपरोक्त गद्यांश के आधार पर दीजिए। गद्यांश के रिक्त स्थान (1) के लिए सर्वाधिक उपयुक्त शब्द होगा-

- (a) हीनता (b) न्यूनता  
(c) महानता (d) अतिशयता

62. गद्यांश के रिक्त स्थान (2) के लिए सर्वाधिक उपयुक्त शब्द होगा-

# SCHOLARS ACADEMY

- (a) भौतिक (b) मानसिक  
(c) शारीरिक (d) बौद्धिक
63. रिक्त स्थान की पूर्ति के लिए सबसे उपयुक्त शब्द का चयन करें।  
सादा जीवन \_\_\_\_\_ विचार ही जीने का मूल मंत्र होना चाहिए।  
(a) उच्च (b) निम्न  
(c) विचित्र (d) सरल
64. 'पल्ला पकड़ना' मुहावरे का सही अर्थ है—  
(a) नकल करना (b) सहारा लेना  
(c) समर्थन करना (d) याचना करना
65. सही वर्तनी वाले शब्द का चयन करें।  
(a) शुसमा (b) सूसमा  
(c) सुसमा (d) सुषमा
66. दिए गए शब्द का विलोम चुनें। स्वस्थ  
(a) शुष्क (b) नीरोगी  
(c) साधर्म्य (d) रुग्ण
67. पर्यायवाची शब्द की सही जोड़ी बताइए।  
(a) भौरा-अलि (b) कवि-कविता  
(c) लड़का-लड़के (d) अनुकूल-प्रतिकूल
68. कौन-सा वाक्य शुद्ध है?  
(a) मैंने मोसमी को बुलाई (b) मैं मोसमी को बुलाता हूँ।  
(c) मैं मोसमी को बुलाया (d) मैंने मोसमी को बुलाया
69. सही वर्तनी वाले शब्द का चयन करें।  
(a) स्वामीभक्ती (b) स्वामीभक्ति  
(c) स्वमिभक्ति (d) स्वमीभक्ती
70. दिये गये वाक्य के किस भाग में त्रुटि है? तुम्हे इस बात को अच्छी तरह बूझना-समझना चाहिए।  
(a) अच्छी तरह (b) बात को  
(c) बूझना-समझना चाहिए। (d) तुम्हें इस
71. रिक्त स्थान की पूर्ति के लिए सबसे उपयुक्त शब्द का चयन करें।  
हरे-भरे खेत \_\_\_\_\_ हुए अत्यंत सुन्दर दिखाई देते हैं।  
(a) लहराते (b) लहलहाते  
(c) फहराते (d) चमचमाते
72. दिए गए शब्द के विलोम शब्द का चयन करें- न्यून  
(a) थोड़ा (b) अल्प  
(c) नूतन (d) अधिक
73. बिना विचारे किया गया विश्वास-वाक्यांश के लिए एक शब्द दीजिये-  
(a) गोपनीय (b) विश्वासू  
(c) अन्धविश्वास (d) विश्वास
74. दिए गए वाक्य में रेखांकित खंड को प्रतिस्थापित करने के लिए सबसे उपयुक्त विकल्प का चयन करें। यदि इसे प्रतिस्थापित करने की आवश्यकता नहीं है, तो विकल्प 'किसी बदलाव की आवश्यकता नहीं है' का चयन करें। हमारे धर्मशास्त्रों में बहुत कुछ पड़ा है।  
(a) मैं बहुत कुछ संकलित है। (b) किसी बदलाव की आवश्यकता नहीं है।  
(c) के अंदर बहुत पड़ा है। (d) के अंदर बहुत कुछ है।

75. दिए गए वाक्य का वह भाग ज्ञात करें जिसमें कोई त्रुटि है। यदि कोई त्रुटि नहीं है, तो 'कोई त्रुटि नहीं है' चुनें। तितली के पास (1)/ पंख सुन्दर (2)/ होते हैं (3)/ कोई त्रुटि नहीं है (4)  
(a) 2 (b) 4  
(c) 3 (d) 1
76. दिए गए शब्द के समानार्थी शब्द का चयन करें। पक्षी  
(a) केकी (b) पन्नग  
(c) खग (d) अलि
77. दिये गये वाक्य के किस भाग में त्रुटि है? वहाँ घमासान का युद्ध हो रहा था।  
(a) वहाँ (b) रहा था।  
(c) युद्ध हो (d) घमासान का
78. दिये गये वाक्य में रेखांकित अंश को प्रतिस्थापित करने के लिए सबसे उपयुक्त विकल्प का चयन करें। महेश चित्रकला का व्यायाम कर रहा है।  
(a) चिंतन (b) लेखन  
(c) अभ्यास (d) प्रयास
79. निम्न में से किस वाक्यांश के लिए 'कालातीत' शब्द का उपयोग किया जाता है?  
(a) जिसका समय आया। (b) जिसका समय आनेवाला है।  
(c) जिसका समय बीत गया हो। (d) जिसका समय चल रहा है।
80. अशुद्ध वर्तनी वाला निम्न में से कौन सा है?  
(a) पुरस्कार (b) आशिवाद  
(c) मयंक (d) प्रामाणिक

## English

81. Comprehension : In the following passage, some words have been deleted. Read the passage carefully and select the most appropriate option to fill in each blank.  
Listening to Mozart can significantly increase your intelligence, (1) \_\_\_\_\_ to a research in America, Unfortunately, (2) \_\_\_\_\_ effect is temporary. It only (3) \_\_\_\_\_ for 15 minutes. Dr Frances Rauscher (4) \_\_\_\_\_ his colleagues at the University of California (5) \_\_\_\_\_ the findings in the journal 'Nature'. Select the most appropriate option to fill in blank no. 1.  
(a) allowing (b) according  
(c) awarding (d) acceding
82. Select the most appropriate option to fill in blank no. 2.  
(a) the (b) a  
(c) one (d) an
83. Select the most appropriate option that can substitute the underlined word in the given sentence. He suddenly stopped the car and the conjuring of the brakes irritated us.  
(a) beseeching (b) stacking  
(c) screeching (d) snarling



# SCHOLARS ACADEMY

84. The following sentence has been divided into parts. One of them may contain an error. Select the part that contains the error the given options. If you don't find any error, mark 'No error' as your answer. Rajeev has/ extended his leave/at one more week.
- (a) No error (b) at one more week  
(c) extended his leave (d) Rajeev has
85. Select the most appropriate antonym of the given word. Specific
- (a) General (b) Exact  
(c) Limited (d) Different
86. Select the most appropriate option to fill in the blank. Unemployment has been the most ——— result of recession.
- (a) public (b) eminent  
(c) obvious (d) awkward
87. Select the most appropriate meaning of the given idiom. Odd man out
- (a) Person having no knowledge (b) Person with a hereditary disease  
(c) Person who is useless (d) Person who doesn't fit into a group
88. Select the option that can be used as a one-word substitute for the given group of words. A disease which affects large populations at the same time.
- (a) Epidemic (b) Equinox  
(c) Endemic (d) Contagious
89. The following sentence has been split into four segments. Identify the segment that contains a grammatical error. Treasure Island is/always been/ my favourite book/ right from my childhood days.
- (a) my favourite book (b) right from my childhood days  
(c) Treasure Island is (d) always been
90. Select the most appropriate synonym of the given word. Concise
- (a) Lengthy (b) Short  
(c) Fine (d) Abrupt
91. Select the most appropriate option to fill in the blank. Preparing for an examination needs good planning and ———.
- (a) arrogance (b) mortality  
(c) lethargy (d) confidence
92. Select the most appropriate meaning of the given idiom. To be off the hook
- (a) To be in trouble (b) To be trapped  
(c) To be close to the target (d) To escape a difficult situation
93. The following sentence has been divided into parts. One of them may contain an error. Select the part that contains the error from the given options. If you don't find any error, select 'No error' as your answer. I am wanting/to give Avika/a book on her birthday.
- (a) to give Avika (b) No error  
(c) a book on her birthday (d) I am wanting
94. Select the incorrectly spelt word.
- (a) Pityful (b) Tactful  
(c) Guilty (d) Plead
95. Select the option that can be used as a one-word substitute for the given group of words. The doctor who specialises in the study or treatment of heart diseases and heart abnormalities.
- (a) Ophthalmologist (b) Neurologist  
(c) Cardiologist (d) Dermatologist
96. Select the most appropriate synonym of the given word. Amalgam
- (a) Distance (b) Monograph  
(c) Mixture (d) Telegram
97. Select the option that will improve the underlined part of the given sentence. In case no improvement is needed, select 'No improvement required'. The captain and his sailors was surrounding by pirates.
- (a) was surround (b) were surrounded  
(c) were surrounding (d) No improvement required
98. Select the option that can be used as a one-word substitute for the given group of words. An animal that preys on other animals
- (a) Hostile (b) Predator  
(c) Omnivore (d) Victim
99. Select the most appropriate option to fill in the blank. Too much of television watching can ——— the thinking process of a child.
- (a) hamper (b) interrogate  
(c) instigate (d) horrify
100. Select the most appropriate option that can substitute the underlined word in the given sentence. If there is no need to substitute it, select 'No substitution required'. I'm going to Mumbai next week. A friend of myself has invited me to her wedding.
- (a) friend of me (b) one of friend  
(c) No substitution required (d) friend of mine

## Basic Familiarity

101. बुद्ध के समय हरियाणा में किस स्थान पर पाँच बौद्ध विहार थे? At which place in Haryana were there five Buddhist viharas during the time of Buddha?

# SCHOLARS ACADEMY

- (a) Rohtak (b) Kalanaur  
(c) Sugh (d) Topra
102. मुगल सम्राट अकबर का जन्म कब हुआ था?  
When was the Mughal Emperor Akbar born?  
(a) जनवरी, 1430 January, (b) अप्रैल, 1484 April, 1484  
1430  
(c) जुलाई 1530 July 1530 (d) अक्टूबर 1542 October  
1542
103. हरियाणा के भौगोलिक क्षेत्रों का सबसे निचला भाग कौन सा है?  
Which is the lowest part of the geographical regions of Haryana?  
(a) रेत के टीले का मैदान sand (b) अरावली चट्टानी क्षेत्र Aravalli  
dune plain rocky region  
(c) लहरदार रेत का मैदान (d) अंकाई दलदल Ankai  
undulating sand plain swamp
104. हरियाणा का कौन सा भाग रेतीला है?  
Which part of Haryana is sandy?  
(a) उत्तर-पूर्वी भाग North- (b) उत्तर-पश्चिमी भाग North-  
Eastern part Western part  
(c) दक्षिण-पश्चिमी भाग South- (d) दक्षिण-उत्तरी भाग South-  
Western part North part
105. साइबेरिया से आने वाला बरहेडीह नामक पक्षी किस झील में देखा जा सकता है?  
In which lake can a bird named Barhedih coming from Siberia be seen?  
(a) सुल्तानपुर झील Sultanpur (b) कोटला झील Kotla Lake  
Lake  
(c) खलीलपुर झील Khalilpur (d) चाँदनी झील Chandni Lake  
Lake
106. हरियाणा में किस जिले में आम की बागवानी नहीं है?  
In which district there is no mango horticulture in Haryana?  
(a) यमुनानगर Yamunanagar (b) कुरूक्षेत्र Kurukshetra  
(c) करनाल Karnal (d) महेंद्रगढ़ Mahendragarh
107. हरियाणा के किस जिले में किसानों को स्प्रींकलर सिंचाई प्रणाली अपनाने के लिए राज्य सरकार द्वारा वित्तीय सहायता दी जा रही है?  
In which district of Haryana, farmers are being given financial assistance by the state government to adopt sprinkler irrigation system?  
(a) रेवाड़ी Rewari (b) महेंद्रगढ़ Mahendragarh  
(c) भिवानी Bhiwani (d) ये सभी All these
108. हरियाणा में महेंद्रगढ़ किस लिए प्रसिद्ध है?  
What is Mahendragarh famous for in Haryana?  
(a) लाख की चूड़ियाँ lac (b) लुंगी lungi  
bangles  
(c) चमड़े का काम Leather (d) धातु का काम Metal work  
work
109. सूची I (विद्युत परियोजना) सूची II (उत्पादन क्षमता) का मिलान करें  
A. महात्मा गांधी थर्मल पावर प्रोजेक्ट 1. 660 मेगावाट  
B. पश्चिमी यमुनानगर परियोजना 2. 2 मेगावाट  
C. मुसापुर सूक्ष्म जलविद्युत परियोजना 3. 1.4 मेगावाट  
D. दादूपुर जलविद्युत परियोजना 4. 4 मेगावाट  
कोड एबीसीडीएबीसीडी  
Match the List I (Power Project) List II (Production Capacity)  
A. Mahatma Gandhi Thermal Power Project 1. 660 MW  
B. Western Yamunanagar Project 2. 2 MW  
C. Musapur Micro Hydroelectric Project 3. 1.4 MW  
D. Dadupur Hydroelectric Project 4. 4 MW  
Code ABCDABCD  
(a) 1 2 3 4 (b) 2 3 4 1  
(c) 3 4 1 2 (d) 4 1 2 3
110. हरियाणा में कितने प्रमुख लिंक रेलवे हैं?  
How many major link railways are there in Haryana?  
(a) तीन three (b) चार four  
(c) पांच five (d) सात seven
111. सूची I (विधानसभा) सूची II (पहली बैठक) का मिलान करें  
A. दूसरी विधानसभा 1. 17 मार्च 1967  
B. तीसरी विधानसभा 2. 15 जुलाई 1968  
C. चौथी विधानसभा 3. 3 अप्रैल, 1972  
D. छठी विधानसभा 4. 24 जून, 1982  
को ABCDABCD के रूप में कोडित किया गया  
Match the List I (Assembly) List II (First sitting)  
A. Second Assembly 1. 17 March 1967  
B. Third Assembly 2. 15 July 1968  
C. Fourth Assembly 3. April 3, 1972  
D. Sixth Assembly 4. June 24, 1982  
coded as ABCDABCD  
(a) 1 2 3 4 (b) 2 3 1 4  
(c) 3 2 4 1 (d) 1 4 3 2
112. हरियाणा के प्रथम महाधिवक्ता कौन थे?  
Who was the first Advocate General of Haryana?  
(a) बलदेव राज महाजन Baldev (b) बाबू आनंदस्वरूप Babu  
Raj Mahajan Anandswaroop  
(c) हवा सिंह हुडा Hawa Singh (d) इनमें से कोई नहीं None of  
Hooda these
113. भारत का वह कौन सा राज्य था जहां पंचायत चुनाव में पहली बार इलेक्ट्रॉनिक वोटिंग मशीन (ईवीएम) का इस्तेमाल किया गया था?  
Which was the state in India where Electronic Voting Machine (EVM) was first used in Panchayat elections?  
(a) राजस्थान Rajasthan (b) हरियाणा Haryana  
(c) हिमाचल प्रदेश Himachal (d) गुजरात Gujarat  
Pradesh
114. मकर संक्रांति किस माह में आती है?  
In which month does Makar Sankranti come?  
(a) जनवरी January (b) दिसंबर December  
(c) फरवरी February (d) मार्च March
115. महिलाएं कदुल्ला आभूषण किस अंग में पहनती हैं? In which part do women wear Kadulla jewelry?  
(a) उंगली में in the finger (b) गर्दन में in the neck  
(c) बगल में on the side (d) पैर में in the foot

# SCHOLARS ACADEMY

116. इब्राहिम सूरी का मकबरा कब बनाया गया था?  
When was the tomb of Ibrahim Suri built?  
(a) 1540 ई. 1540 AD (b) 1532 ई. 1532 AD.  
(c) 1538 ई. 1538 AD (d) 1545 ई. 1545 AD.
117. सोहना किला बनाया गया था  
Sohna Fort was built in  
(a) 17वीं शताब्दी 17th century (b) 18वीं शताब्दी 18th century  
(c) 16वीं शताब्दी 16th century (d) 19वीं शताब्दी 19th century
118. निम्नलिखित में से किस स्थल की खुदाई से शिव-पार्वती और काली की मूर्तियाँ और राजा मांधाता की मुहर प्राप्त हुई है?  
The excavations of which of the following sites have yielded the idols of Shiva-Parvati and Kali and the seal of King Mandhata?  
(a) श्रीकालेश्वर महादेव मठ (b) कपालमोचन Kapalmochan Srikaleshwar Mahadev Math  
(c) तोशाम का पंचतीर्थ (d) पुष्कर तीर्थ Pushkar Teerth Panchtirtha of Tosham
119. बाणभट्ट के समकालीन कवि मयूर भट्ट की प्रमुख कृति कौन सी है?  
Which is the main work of the contemporary poet of Banabhatta, Mayur Bhatt?  
(a) मयूराष्टक Mayurashtak (b) सूर्याष्टक Suryashtak  
(c) ए' और 'बी' दोनों Both 'a' and 'b' (d) चंडिष्टकम Chandishtakam and 'b'
120. हरियाणा में गुरुकुलों की स्थापना कब हुई?  
When were Gurukuls established in Haryana?  
(a) 1875 ई. 1875 AD (b) 1876 ई. 1876 AD.  
(c) 1840 ई. 1840 AD (d) 1890 ई. 1890 AD
121. Which of the following is not a cognition ?  
निम्नलिखित में से कौन संज्ञान नहीं है?  
(a) Retreat पीछे हटना (b) Anger गुस्सा  
(c) Fear डर (d) Hunger भूख
122. Which of the following is a better way of teaching ?  
निम्नलिखित में से कौन सा शिक्षण का एक बेहतर तरीका है?  
(a) To persuade मनाने के लिए (b) To raise a question एक सवाल उठाने के लिए  
(c) Blackboard writing ब्लैकबोर्ड लेखन (d) All of these ये सभी
123. Which of the following is / are a component of human development ?  
निम्नलिखित में से कौन मानव विकास का एक घटक है / हैं?  
(a) Continuity निरंतरता (b) Sequentiality श्रृंखलामयता  
(c) Differentiability (d) All of these. ये सभी।  
Differentiability
124. Child development is marked by three inter - related processes. Which of the following is not a process ?  
बाल विकास तीन अंतर-संबंधित प्रक्रियाओं द्वारा चिह्नित है। निम्नलिखित में से कौन एक प्रक्रिया नहीं है?  
(a) Differentiation भेदभाव (b) Integration एकीकरण  
(c) Learning सीखना (d) None of these इनमें से कोई नहीं
125. ....is the process by which children and adults learn from others.  
..... वह प्रक्रिया है जिसके द्वारा बच्चे और वयस्क दूसरों से सीखते हैं।  
(a) Socialisation समाजीकरण (b) intermingling परस्पर  
(c) Friendship मित्रता (d) All of these ये सभी
126. Which of the following statement about pedagogy is / are correct ?  
शिक्षाशास्त्र के बारे में निम्नलिखित में से कौन सा कथन सही है / है?  
(a) Pedagogy is art as well as science शिक्षाशास्त्र कला के साथ-साथ विज्ञान भी है (b) Pedagogy is system which deals with the schools management system, of curriculum development and system of instructional procedure शिक्षाशास्त्र वह प्रणाली है जो स्कूलों के प्रबंधन प्रणाली, पाठ्यक्रम विकास और निर्देशात्मक प्रक्रिया की प्रणाली से संबंधित है  
(c) It explains teaching tasks in terms of presentation and यह प्रस्तुति के संदर्भ में शिक्षण कार्यों की व्याख्या करता है और (d) All of the above ऊपर के सभी
127. Which of the following is one of the three type of analysis of pedagogy in education ?  
शिक्षा में शिक्षाशास्त्र के तीन प्रकार के विश्लेषणों में से कौन सा एक है?  
(a) Pedagogical analysis of beliefs मान्यताओं का शैक्षणिक विश्लेषण (b) Pedagogical analysis of subject विषय का शैक्षणिक विश्लेषण  
(c) Pedagogical analysis of emotions भावनाओं का शैक्षणिक विश्लेषण (d) None of the above इनमें से कोई भी नहीं
128. Roli is unable to pronounce the worlds ' study' and society clearly. AS her teacher what will you do ?  
रोली दुनिया के अध्ययन और समाज को स्पष्ट रूप से उच्चारण करने में असमर्थ है। उसके शिक्षक के रूप में आप क्या करेंगे?  
(a) Humiliate Roli by isolating her and asking her to repeat the words रोली को अलग-थलग करके और उसे शब्दों को दोहराने के लिए कहकर अपमानित किया (b) Asking the entire class to repeat the words and appreciating Roli when she repeats them correctly पूरी कक्षा को शब्दों को दोहराने के लिए कहना और रोली की सराहना करना जब वह उन्हें सही ढंग से दोहराती है  
(c) You will just ignore it (d) You will ask the class to

- आप बस इसे नजरअंदाज करेंगे
- laugh at her आप कक्षा से उसे हंसने के लिए कहेंगे
- सहायता प्रदान की जाती है
- 129.** A teacher makes use of a variety of tasks to cater to the different learning styles of her learners. She is influenced by एक शिक्षिका अपने शिक्षार्थियों की विभिन्न शिक्षण शैलियों को पूरा करने के लिए कई प्रकार के कार्यों का उपयोग करती है। वह इससे प्रभावित है
- (a) Piaget's Cognitive Development Theory पियागेट का संज्ञानात्मक विकास सिद्धांत
- (b) Kohlberg's Moral Development Theory कोहलबर्ग का नैतिक विकास सिद्धांत
- (c) Gardner's Multiple Intelligence Theory गार्डनर की मल्टीपल इंटेलिजेंस थ्योरी
- (d) Vygotsky's Social - cultural Theory वायगोत्स्की का सामाजिक - सांस्कृतिक सिद्धांत
- 130.** A teacher can identify a stressed child when the child shows the following behaviour. एक शिक्षक एक तनावग्रस्त बच्चे की पहचान कर सकता है जब बच्चा निम्नलिखित व्यवहार दिखाता है।
- (a) Aggressive behaviour आक्रामक व्यवहार
- (b) Full concentration in studies पढ़ाई में पूरी एकाग्रता
- (c) Excessive talking अत्यधिक बात करना
- (d) Hyperactivity सक्रियता
- 131.** The major purpose of periodic parent - teacher interaction is to समय-समय पर माता-पिता का मुख्य उद्देश्य - शिक्षक बातचीत करना है
- (a) share the information about ongoing events in the school स्कूल में चल रही घटनाओं के बारे में जानकारी साझा करें
- (b) discuss the child's strengths and weaknesses for reinforcement and improvement सुदृढीकरण और सुधार के लिए बच्चे की ताकत और कमजोरियों पर चर्चा करें
- (c) develop a social relationship with each other एक दूसरे के साथ एक सामाजिक संबंध विकसित करना
- (d) highlight each other's shortcomings. एक-दूसरे की कमियों को उजागर करें।
- 132.** A student of fifth class with visual deficiency should be - दृश्य की कमी वाले पांचवीं कक्षा का छात्र होना चाहिए -
- (a) excused to do a lower level of work निचले स्तर के काम करने के लिए बहाना
- (b) helped in routine work by parents and friends माता-पिता और दोस्तों द्वारा नियमित काम में मदद की
- (c) treated normally in the classroom and provided support through audio CDs सामान्य रूप से कक्षा में व्यवहार किया जाता है और ऑडियो सीडी के माध्यम से
- (d) given special treatment in the classroom कक्षा में विशेष उपचार दिया गया
- 133.** At lower classes, play way method of teaching is based on निम्न कक्षाओं में, शिक्षण के तरीके पर आधारित है
- (a) theory of physical education programmes शारीरिक शिक्षा कार्यक्रमों का सिद्धांत
- (b) principal of methods of teaching शिक्षण के तरीकों के प्रमुख
- (c) psychological principles of development and growth विकास और विकास के मनोवैज्ञानिक सिद्धांत
- (d) sociological principles of teaching शिक्षण के समाजशास्त्रीय सिद्धांत
- 134.** According to John Bowl children become depressed as a result of जॉन बाउल के अनुसार किस के परिणामस्वरूप बच्चे उदास हो जाते हैं
- (a) self - devaluing cognitive scheme स्व - अवमूल्यन संज्ञानात्मक योजना
- (b) exposure to prolonged, uncontrollable negative experiences लंबे समय तक, बेकाबू नकारात्मक अनुभवों के संपर्क में
- (c) insecure attachments असुरक्षित अटैचमेंट
- (d) living with depressed parents उदास माता-पिता के साथ रहना
- 135.** What is the main purpose of 'Operation Blackboard'? ' ऑपरेशन ब्लैकबोर्ड' का मुख्य उद्देश्य क्या है?
- (a) Improvement of school facilities स्कूल सुविधाओं में सुधार
- (b) making education result - oriented शिक्षा परिणाम - उन्मुख बनाना
- (c) Making teaching effective शिक्षण को प्रभावी बनाना
- (d) making teaching accountable for result परिणाम के लिए शिक्षण को जवाबदेह बनाना
- 136.** When does the most intense and crucial socialisation takes place in a human being ? मनुष्य में सबसे गहन और महत्वपूर्ण समाजीकरण कब होता है?
- (a) During early childhood शुरुआती बचपन के दौरान
- (b) During adulthood वयस्कता के दौरान
- (c) Throughout the life of a person एक व्यक्ति के जीवन भर
- (d) During adolescence किशोरावस्था के दौरान
- 137.** Which of the following is the most important quality of a good primary teacher ? निम्नलिखित में से कौन एक अच्छे प्राथमिक शिक्षक का सबसे महत्वपूर्ण गुण है?
- (a) Enthusiasm of teaching पढ़ाने का उत्साह
- (b) Patience and determination धैर्य और दृढ़ संकल्प
- (c) Efficiency in the knowledge of subjects विषयों के ज्ञान में दक्षता
- (d) Efficiency in teaching methods शिक्षण विधियों में दक्षता
- 138.** The theory of constructivism states

रचनावाद का सिद्धांत बताता है

- |  |   |
|--|---|
| (a) to memorise the information and testing through recall याद के माध्यम से सूचना और परीक्षण को याद रखना | (b) to focus on the role of imitation नकल की भूमिका पर ध्यान केंद्रित करने के लिए   |
| (c) to emphasise on the dominant role of the teacher शिक्षक की प्रमुख भूमिका पर जोर देना                 | (d) to emphasise the role of the learner in constructing his own view of the world दुनिया के अपने दृष्टिकोण के निर्माण में सीखने वाले की भूमिका पर जोर देना |

139. In a child - centered classroom, children generally learn एक बच्चे में केंद्रित कक्षा में, बच्चे आमतौर पर सीखते हैं

- |   |                                 |
|---|---------------------------------|
| (a) individually व्यक्तिगत रूप से                               | (b) in groups समूह में          |
| (c) under the guidance of a teacher एक शिक्षक के मार्गदर्शन में | (d) All of the above ऊपर के सभी |

140. Young learners should be encouraged to interact with peers in the classroom so that युवा शिक्षार्थियों को कक्षा में साथियों के साथ बातचीत करने के लिए प्रोत्साहित किया जाना चाहिए ताकि

- |  |  |
|--|--|
| (a) they can learn answers to questions from each other वे एक दूसरे से सवालों के जवाब सीख सकते हैं | (b) the syllabus can be covered quickly पाठ्यक्रम को जल्दी से कवर किया जा सकता है                  |
| (c) they learn social skills in the course of study वे अध्ययन के दौरान सामाजिक कौशल सीखते हैं      | (d) the teacher can control the classroom better शिक्षक कक्षा को बेहतर ढंग से नियंत्रित कर सकता है |

141. Pankhuri odes not talk much at home but talks a lot at school. It shows that पंखुड़ी घर पर ज्यादा बातें नहीं करती है लेकिन स्कूल में बहुत बातें करती है। यह दिखाता है कि

- |   |   |
|---|---|
| (a) the school provides opportunities to children to talk a lot स्कूल बच्चों को बहुत सारी बातें करने के अवसर प्रदान करता है | (b) teachers demand that children should talk a lot at school शिक्षकों की मांग है कि बच्चों को स्कूल में बहुत सारी बातें करनी चाहिए |
| (c) she does not like her home at all उसे अपना घर बिल्कुल पसंद नहीं है  | (d) her thoughts get acknowledged at school उसके विचारों को स्कूल में स्वीकार किया जाता है  |

142. Four distinctive stages of children's cognitive development are identified by बच्चों के संज्ञानात्मक विकास के चार विशिष्ट चरणों की पहचान की जाती है

- |             |              |
|-------------|--------------|
| (a) Piaget  | (b) Erikson  |
| (c) Skinner | (d) Kohlberg |

143. The stage in which a child begins to think logically about objects and events s known as वह चरण जिसमें कोई बच्चा तार्किक रूप से उन वस्तुओं और घटनाओं के बारे में सोचना शुरू करता है जिन्हें ज्ञात किया जाता है

- |  |  |
|--|--|
| (a) sensory - motor stage संवेदी - मोटर अवस्था | (b) formal operational stage औपचारिक परिचालन चरण |
| (c) pre - operational stage पूर्व परिचालन चरण  | (d) concrete operational stage ठोस परिचालन चरण   |

144. Which of the following is the first step in the scientific method of problem - solving ? निम्नलिखित में से कौन सा वैज्ञानिक में पहला कदम है। समस्या का तरीका - हल करना?

- |  |  |
|--|--|
| (a) Formation of hypothesis परिकल्पना का गठन | (b) VErification of hypothesis परिकल्पना की समाप्ति                |
| (c) Problem of awareness जागरूकता की समस्या  | (d) Collection of relevant information प्रासंगिक जानकारी का संग्रह |

145. Human personality is the result of which f the following ? मानव व्यक्तित्व निम्नलिखित में से किस f का परिणाम है?

- |   |   |
|---|---|
| (a) Only heredity केवल आनुवंशिकता   | (b) Upbringing and education परवरिश और शिक्षा |
| (c) Interaction between heredity and environment आनुवंशिकता और पर्यावरण के बीच सहभागिता | (d) Only environment केवल पर्यावरण            |

146. Which of the following is a domain of learning ? निम्नलिखित में से कौन सा सीखने का एक डोमेन है?

- |                         |                                   |
|-------------------------|-----------------------------------|
| (a) Professional पेशेवर | (b) Experiential अनुभवात्मक       |
| (c) Affective उत्तेजित  | (d) Spiritual आध्यात्मिक करनेवाला |

147. It is advantage of giving homework that students यह होमवर्क देने का लाभ है कि छात्र

- |   |  |
|---|--|
| (a) remain busy at home घर में व्यस्त रहते हैं                              | (b) study at home घर पर पढ़ाई करो  |
| (c) may be checked for their progress उनकी प्रगति के लिए जाँच की जा सकती है | (d) may develop habit of self - study स्वयं अध्ययन की आदत विकसित कर सकते हैं |

148. In which of the following age a child is affected by atmosphere ? निम्नलिखित में से किस उम्र में एक बच्चा वायुमंडल से प्रभावित होता है?

- |                         |                          |
|-------------------------|--------------------------|
| (a) Adult age वयस्क आयु | (b) Teen age किशोर उम्र  |
| (c) Childhood बचपन      | (d) Early childhood बचपन |

149. Child development is defined as a field of study that बाल विकास को अध्ययन के एक क्षेत्र के रूप में परिभाषित किया गया है

- |   |  |
|---|--|
| (a) examines change in human abilities मानव | (b) seeks to explain behaviour across the life |
|---|--|

# SCHOLARS ACADEMY

- क्षमताओं में परिवर्तन की जांच करता है
- (c) compares children to adults to senior citizens बच्चों की तुलना वयस्कों से लेकर वरिष्ठ नागरिकों तक
- (d) span जीवन काल में व्यवहार की व्याख्या करना चाहता है
- (d) account for the gradual evolution of the child's cognitive, social and other aspects of development बच्चे के संज्ञानात्मक, सामाजिक और विकास के अन्य पहलुओं के क्रमिक विकास के लिए खाता
- 150.** A problem child is generally who has एक समस्या बच्चे को आमतौर पर होती है
- (a) an unsolvable problem एक बेकार समस्या
- (b) an over protective parent एक सुरक्षात्मक माता-पिता पर
- (c) a poor home environment एक गरीब घर का माहौल
- (d) a poor heredity एक गरीब आनुवंशिकता
- 151.** Punishment is a सजा एक है
- (a) negative reinforce नकारात्मक सुदृढीकरण
- (b) positive reinforce सकारात्मक सुदृढीकरण
- (c) not a reinforce at all एक मजबूत नहीं है
- (d) Both 1 and 2 दोनों 1 और 2
- 152.** The current view of childhood assumes that बचपन का वर्तमान दृश्य मानता है कि
- (a) children are similar to adults in most ways बच्चे ज्यादातर तरीकों से वयस्कों के समान हैं
- (b) children are best treated as young adults बच्चों को युवा वयस्कों के रूप में सबसे अच्छा माना जाता है
- (c) childhood is basically a waiting period बचपन मूल रूप से एक प्रतीक्षा अवधि है
- (d) Childhood is a unique period of growth and change बचपन विकास और परिवर्तन की एक अनूठी अवधि है
- 153.** The Big five personality factors in child psychology are बाल मनोविज्ञान में बिग पाँच व्यक्तित्व कारक हैं
- (a) neuroticism, openness, introversion, sociability, locus of control, खुलापन, अंतर्मुखता, समाजक्षमता, नियंत्रण का स्थान
- (b) neuroticism, extraversion, openness, emotional stability, sensitivity न्यूरोटिकिज़्म, एक्सट्रोवर्शन, खुलापन, भावनात्मक स्थिरता, संवेदनशीलता
- (c) neuroticism, gregariousness, extraversion, impulsiveness, conscientiousness, विक्षिप्तता, असभ्यता, अपव्यय, आवेग, कर्तव्यनिष्ठता
- (d) neuroticism, extraversion, openness, agreeableness, conscientiousness, न्यूरोटिसिज़्म, एक्सट्रोवर्शन, ओपननेस, एग्रेब्लिसिटी, कॉन्शियसनेस
- 154.** Effective teaching, by and large, is a function of
- प्रभावी शिक्षण, द्वारा और बड़े, एक फ़ंक्शन ओएस है
- (a) teacher's scholarship शिक्षक की छात्रवृत्ति
- (b) teacher's honesty शिक्षक की ईमानदारी
- (c) teachers making students learn and understand छात्रों को सीखने और समझने वाले शिक्षक
- (d) teachers liking for the job of teaching शिक्षकों को पढ़ाने का काम पसंद है
- 155.** Learning which involves motor organ is called सीखना जिसमें मोटर अंग शामिल होते हैं, कहा जाता है
- (a) sensory learning संवेदी सीख
- (b) motor learning मोटर सीखना
- (c) verbal learning मौखिक सीख
- (d) sensory motor learning संवेदी मोटर शिक्षा
- 156.** बालक के संवेगों की विशेषता नहीं है
- The child's emotions are not characteristic
- (a) संवेगों की उग्रता intensity
- (b) संवेगों में शीघ्रता quickness of emotions
- (c) संवेगों का बार-बार प्रकटीकरण frequent manifestation of emotions
- (d) संवेगों की स्थायी प्रकृति permanent nature of emotions
- 157.** इनमें से कौन सी एक प्रकार की आदत नहीं है? Which of these is not a type of habit ?
- (a) तंत्रिका संबंधी आदतें Neurotic habits
- (b) व्युत्पन्न आदतें Derived habits
- (c) यांत्रिक आदतें Mechanical habits
- (d) ये सभी All of these habits
- 158.** स्टेनफोर्ड बिनो बुद्धि-लब्धि परीक्षण के लिए तय मानक के अनुसार 'सामान्य मंदित' बालकों का बुद्धि-लब्धि प्रसार क्या है ? According to the Norms prescribed for Stanford-Binet I.Q. Scale, what is the I.Q. Range of Moderate Mentally Retarded children?
- (a) 50-55 से लगभग 70 50-55 to approximately 70
- (b) 35-40 से 50-55 35-40 to 50-55
- (c) 20-25 से 35-40 20-25 to 35-40
- (d) 20 से नीचे Below 20
- 159.** गैग्रे ने अपने सीखने के चरण में किस प्रकार के अधिगम को निम्नतम स्थान पर रखा है? Which type of learning has Gagne placed at the lowest position in his learning step?
- (a) शाब्दिक अधिगम Lexical learning
- (b) संकेत अधिगम Signal learning
- (c) श्रृंखला अधिगम Series Learning
- (d) प्रत्यय अधिगम suffix learning
- 160.** किशोरावस्था के वैज्ञानिक अध्ययन का जनक किसे वर्णित किया जाता है? Who is described as the father of the scientific study of adolescence?
- (a) मार्गरेट मीड Margaret Mead
- (b) जी. स्टेनली हॉल G. Stanley Hall
- (c) लेटा हॉलिंगवर्थ Leta
- (d) अरस्तू Aristotle

Hollingworth

- 161.** भाषा का व्यावहारिक ज्ञान सिखाया जाता है—  
Practical knowledge of language is taught –
- |   |  |
|---|--|
| (a) स्कूल में (School)<br>In school                             | (b) भाषा प्रयोगशाला में<br>(Language laboratory)<br>In the language laboratory |
| (c) भाषा शिक्षण में (Language teaching)<br>In language teaching | (d) भाषा सूचना में (Language instruction)<br>Language instruction              |
- 162.** कम्प्यूटर प्रोग्राम में एक क्षति जो उनको सही चलने से रोकती है, वह कहलाती है—  
A defect in computer programs that prevents them from running properly is called –
- |                                |                            |
|--------------------------------|----------------------------|
| (a) बग (Bug)<br>Bug            | (b) एरर (Error)<br>Error   |
| (c) बू-बू (Boo-Boo)<br>Boo-Boo | (d) वायरस (Virus)<br>Virus |
- 163.** श्राव्य-भाषीय (Audio-lingual) पद्धति (जो सेना पद्धति भी जानी जाती है) ..... को त्वरित ग्रहण (Rapid Acquisition) करने में फलित (result) होती है।  
Audio-lingual method (also known as Sena method) results in rapid acquisition of .....
- |   |  |
|---|--|
| (a) पढ़ने और बोलने का कौशल<br>reading and speaking skills   | (b) पढ़ने और सुनने का कौशल<br>reading and listening skills |
| (c) बोलने और सुनने का कौशल<br>speaking and listening skills | (d) लिखने और पढ़ने का कौशल<br>writing and reading skills   |
- 164.** डॉ बेंजामिन ब्लूम किस चीज को बढ़ावा देना चाहते थे?  
What did Dr. Benjamin Bloom want to promote?
- |   |   |
|---|---|
| (a) उपयुक्त दृष्टिकोण<br>appropriate approach | (b) उच्च प्रकार का चिंतन<br>higher thinking     |
| (c) बुद्धि<br>Intelligence                    | (d) व्यवहार का विकास<br>development of behavior |
- 165.** संज्ञानात्मक क्षेत्र (डोमेन) में स्मरण से आप क्या समझते हैं?  
What do you understand by memory in cognitive domain?
- |   |   |
|---|---|
| (a) विचारों या सामग्रियों के मूल्य के बारे में निर्णय लेना।<br>Making judgments about the value of ideas or materials.  | (b) एक नई स्थिति में या तन्मयता के अनुत्तेजित उपयोग में अवधारणा का उपयोग करना।<br>Using the concept in a new situation or in unstimulated use of immersion. |
| (c) अर्थ, अनुवाद, क्षेपक और व्याख्या को समझना।<br>Understanding meaning, translation, interpolation and interpretation. | (d) पहले सीखी गई जानकारी को स्मरण करना या पुनः प्राप्त करना।<br>Recalling or retrieving previously learned information.                                     |
- 166.** वह चिन्तन क्या कहलाता है जिसमें व्यक्ति बहुत सारे विचारों से आरंभ कर "एकल" समाधान पर पहुँचाता है?  
What is that thinking called in which a person starts from many ideas and reaches a "single" solution?

- |   |  |
|---|--|
| (a) विचारावेश<br>should be asked          | (b) अपसारी चिंतन<br>divergent thinking |
| (c) अभिसारी चिन्तन<br>convergent thinking | (d) उर्ध्व चिन्तन<br>Upward thinking   |

- 167.** मि. साजिद एक सामाजिक अध्ययन शिक्षक है। उन्होंने अपने छात्रों को एक एसाइनमेंट दिया 'शहर में ट्रैफिक जाम से कैसे बचें? वे — सोच को बढ़ावा दे रहे हैं।  
Mr. Sajid is a social studies teacher. He gave an assignment to his students 'How to avoid traffic jam in the city? They are promoting —— thinking.
- |  |                                 |
|--|---------------------------------|
| (a) अपसारी और अभिसारी दोनों<br>both divergent and convergent | (b) अभिसारी<br>convergent       |
| (c) अपसारी<br>divergent                                      | (d) बुद्धिमत्ता<br>Intelligence |
- 168.** अपसारी चिंतन क्या परीक्षण करता है ?  
What does divergent thinking test?
- |  |   |
|--|---|
| (a) बुद्धि<br>Intelligence             | (b) एक व्यक्ति की विशिष्टता<br>uniqueness of a person |
| (c) एक सही उत्तर<br>one correct answer | (d) स्मृति<br>Commemoration                           |
- 169.** निम्नलिखित में से कौन-सा वृद्धि एवं विकास का सिद्धांत है?  
I. विकास कभी एक विधि का पालन नहीं करता है।  
II. व्यक्तिगत अंतर का सिद्धांत  
III. एकीकरण का सिद्धांत  
IV. विकास समान्य से लेकर विशिष्ट प्रतिक्रियाओं तक होता है।  
Which of the following is/ are principle(s) of growth and development?
- |  |   |
|--|---|
| I. Development never follows and pattern | II. Principle of Individual difference.                     |
| III. Principle of integration.           | IV. Development proceeds from general to specific responses |
- |                   |                      |
|-------------------|----------------------|
| (a) II, III और IV | (b) I, II, III और IV |
| II, III and IV    | I, II, III and IV    |
| (c) I, II और III  | (d) I, III और IV     |
| I, II and III     | I, III and IV        |
- 170.** समायोजन और आत्मसात के बीच संतुलन बनाने की प्रक्रिया को ..... कहा जाता है, यह पियाजे के संज्ञानात्मक विकास के सिद्धांत में बहुत महत्वपूर्ण है।  
I. अनुकूलन  
II. संतुलन  
The process of striking a balance between accommodation and assimilation is called ..... It is very important in Piaget's theory of Cognitive development.
- |               |                   |
|---------------|-------------------|
| I. Adaptation | II. Equilibration |
|---------------|-------------------|
- |             |                      |
|-------------|----------------------|
| (a) Only I  | (b) Both I and II    |
| (c) Only II | (d) Neither I nor II |
- 171.** विकलांग बच्चों के लिए केन्द्र प्रायोजित एकीकृत योजना का उद्देश्य विकलांग बच्चों को शिक्षा के अवसर उपलब्ध कराना है—

# SCHOLARS ACADEMY

The objective of the Centrally Sponsored Integrated Scheme for Disabled Children is to provide educational opportunities to disabled children –

- (a) नियमित विद्यालयों में in regular schools  
(b) विशेष विद्यालयों में in special schools  
(c) खुले विद्यालयों में in open schools  
(d) अंधजन मंडल विद्यालयों में in Andhajan Mandal schools

172. एक शिक्षिका अपनी कक्षा के जन्मजात प्रतिभा के धनी बच्चों को उनकी क्षमता प्राप्त कराना चाहती है। उसे अपने उद्देश्य की प्राप्ति के लिए निम्नलिखित में से क्या नहीं करना चाहिए?

A teacher wants to help the innately talented children of her class achieve their potential. Which of the following should he not do to achieve his objective?

- (a) उन्हें गैर-अकादमिक गतिविधियों का आनन्द लेने की शिक्षा देना  
(b) उन्हें दबाव से निपटने की शिक्षा देना  
(c) उन्हें उनके समवयस्कों से अलग करना  
(d) उन्हें उनकी सृजनात्मकता बढ़ाने की चुनौती देना
- Teaching them to enjoy non-academic activities  
Teaching them to deal with pressure  
Separating them from their peers  
Challenging them to enhance their creativity

173. ADHD का विस्तारित रूप है-

The extended form of ADHD is-

- (a) आटिज्म डेफिसिट हाइपरएक्टिविटी डिसऑर्डर  
(b) आटो डेफिसिट हाइपरएक्टिविटी डिसऑर्डर  
(c) अटेंशन डेफिसिट हाई डीसीज  
(d) अटेंशन डेफिसिट हाइपरएक्टिविटी डिसऑर्डर
- autism deficit hyperactivity disorder  
auto deficit hyperactivity disorder  
Attention Deficit High Disease  
attention deficit hyperactivity disorder

174. आईईपी (IEP) का पूर्ण रूप क्या है?

What is the full form of IEP?

- (a) इंडिविडुअलाइज्ड एजुकेशनल प्लान  
(b) इंस्ट्रक्शनल एजुकेशनल प्लान  
(c) इंडियन एजुकेशनल प्लान  
(d) इंडिविडुअलाइज्ड इंगेज प्लान
- Individualized Educational Plan  
Instructional Educational Plan  
Indian Educational Plan  
Individualized Engage Plan

175. किसी व्यवसाय में सफलता के सम्भावित चिह्न दृष्टिगोचर होते हैं-  
Possible signs of success in any business are visible –

- (a) व्यक्तिगत क्षमता के मूल्यांकन में  
(b) व्यवसाय के मूल्यांकन में  
(c) व्यवसायों की सामाजिक मान्यता में  
(d) व्यवसाय सम्बन्धी उपलब्धता में
- In evaluating personal ability  
in business valuation  
In social recognition of professions  
in business availability

176. यदि किसी परीक्षा में आपकी कक्षा के अधिकांश विद्यार्थी असफल हो जाएं तो आप इसका दायित्व किस पर डालेंगे?

If most of the students in your class fail in an examination, then on whom will you blame it?

- (a) विद्यालय में उपलब्ध कमजोर सुविधाएं  
(b) अधिकारी की कमजोर योजना  
(c) आपकी अपनी शिक्षण-विधि your own teaching method  
(d) बच्चों की पढ़ाई में लापरवाही Negligence in children's education
- Poor facilities available in the school  
officer's poor planning

177. प्रोत्साहन, संलग्नक, ग्रहण/अवलोकन और अध्ययन पर्यटन क्या प्रदान करता है?

What does stimulation, engagement, reception/observation and study tourism provide?

- (a) प्रबंधकों को कठिन परिस्थितियों का सामना करने के समय विकल्प तलाशने में मदद करता है  
(b) व्यावहारिक शिक्षा और आपके जैसी परिस्थितियों का सामना दूसरे कैसे करते हैं, उसके उदाहरण प्रदान करता है  
(c) मुद्दों पर चर्चा और प्रबंधन प्रणाली को विकसित करने या बेहतर बनाने में मदद करता है  
(d) इनमें से कोई नहीं
- Helps managers find alternatives when facing difficult situations  
Provides practical lessons and examples of how others cope with situations similar to yours  
Discusses issues and helps develop or improve management systems  
none of these

178. मापन का पहला चरण क्या है?  
What is the first step of measurement?

- (a) निर्णय लेना कि क्या मापना है  
(b) परीक्षण का विकास  
(c) परीक्षण का प्रबंधन  
(d) इनमें से कोई नहीं
- deciding what to measure  
test development  
test management  
none of these

179. प्राथमिक स्तर के स्कूल में समाजीकरण की व्याख्या करें।

Explain socialization at primary level school.

- (a) बच्चे ऐसे कौशल सीखते हैं जो भविष्य में सह-पाठ्यचर्या गतिविधियों में सक्रिय रूप से भाग लेने में उनकी मदद करते हैं।  
(b) सीखने के लिए कोई सख्त नियम नहीं है, लेकिन शिक्षा खेल के माध्यम से सीखी जाती है।  
(c) शिक्षक बच्चों को अच्छी आदतें, नागरिक जिम्मेदारी और समाज के साथ मिलना-जुलना सीखाता है।  
(d) शिक्षक बच्चों को धार्मिक मूल्यों पर व्याख्यान सुनने के लिए प्रोत्साहित करता है।
- There are no strict rules for learning, but education is learned through play.  
Children learn skills that help them to actively participate in co-curricular activities in future.  
The teacher encourages the children to listen to lectures on religious values.  
Teachers teach children good habits, civic responsibility and interaction with society.

180. कुछ भारतीय यह तर्क क्यों देते हैं कि भारतीय दस्तूर मांग करती हैं कि यौन शिक्षा की कोई आवश्यकता नहीं है?



Why do some Indians argue that Indian customs demand that there is no need for sex education?

- (a) किशोरों को मीडिया से सेक्स के बारे में जानकारी मिलती है, इसलिए यौन शिक्षा की कोई आवश्यकता नहीं है।  
 (b) हमारे देश में यौन संबंधी कोई समस्या नहीं है, इसलिए यौन शिक्षा की कोई आवश्यकता नहीं है।

Teenagers get information about sex from the media, so there is no need for sex education.

There is no sex related problem in our country, hence there is no need for sex education.

- (c) हमारी परंपराएं और सांस्कृतिक मूल्य ऐसी परिस्थितियों को नियंत्रित करने के लिए पर्याप्त है।  
 (d) यौन शिक्षा देना उतना महत्वपूर्ण नहीं है जितना हमारे देश में भावी पेशे के लिए ज्ञान प्राप्त करना।

Our traditions and cultural values are enough to control such situations.

Giving sex education is not as important as gaining knowledge for future profession in our country.

181. 'जीवनपर्यंत शिक्षा' की अवधारणा से आप क्या समझते हैं?

What do you understand by the concept of 'lifelong education'?

- (a) विश्वविद्यालयों में सीखना learning in universities  
 (b) जीवनपर्यंत सीखना lifelong learning  
 (c) कॉलेजों में सीखना learning in colleges  
 (d) शिक्षण स्कूल teaching school

182. 'शिक्षा वह चीज है जो मनुष्य को आत्मनिर्भर और निःस्वार्थ बनाती है।' यह विचार किसने दिया है?

'Education is that thing which makes a man self-reliant and selfless.' Who gave this idea?

- (a) साम वेद Sam Veda  
 (b) अथर्ववेद Atharvaveda  
 (c) ऋग्वेद Rigveda  
 (d) यजुर्वेद yajurveda

183. पाठ्यक्रम के निर्धारक क्या हैं?

What are the determinants of curriculum?

- (a) उद्देश्य, पद्धति, मूल्यांकन Objective, Method, Evaluation  
 (b) बुनियादी जरूरतें, सामाजिक पहलू, सांस्कृतिक कारक Basic needs, social aspects, cultural factors  
 (c) संरचना, विकास, कार्यान्वयन Structure, development, implementation  
 (d) व्यक्तिगत ध्यान और सामाजिक जरूरतें Personal attention and social needs

184. सामाजिक पाठ्यक्रम का मुख्य उद्देश्य क्या है?

What is the main objective of social curriculum?

- (a) छात्रों के बीच समाजीकरण socialization among students  
 (b) सामाजिक जरूरतों को पूरा करना meeting social needs  
 (c) समाज में बदलाव लाना bring about change in society  
 (d) सामाजिक विज्ञान सिखाना teaching social sciences

185. 'बच्चे के शारीरिक कल्याण की गारंटी' का क्या अर्थ है?

What does 'guarantee the physical well-being of the child' mean?

- (a) भावनात्मक सुरक्षा, समाजीकरण, पोषण और स्नेह प्रदान करना।  
 Providing emotional security, socialization, nurturing and affection.

- (b) बच्चे को सुरक्षित और नुकसान से मुक्त रखना, आश्रय और कपड़े प्रदान करना, बीमारी से बचाव करना और देखभाल करना।  
 Keeping the child safe and free from harm, providing shelter and clothing, protecting against illness, and providing care.

(c) परस्पर-संवाद, प्रेरण और खेलना।  
 Interaction, inspiration and play.

(d) समुदाय के अंदर, स्कूल में, स्वास्थ्य क्लीनिक में बातचीत।  
 Conversations within the community, at school, in health clinics.

186. राष्ट्रीय शिक्षा नीति (एनपीई) 1986 द्वारा निम्नलिखित में से कौन सी अवधारणा दी गई है?

Which of the following concepts has been given by the National Policy on Education (NPE) 1986?

- (a) शिक्षण तत्व teaching elements  
 (b) शिक्षण सीखना तत्व teaching learning elements  
 (c) मूल तत्व basic element  
 (d) पाठ योजना तत्व lesson plan elements

187. भारतीय संसद की भूमिका एवं कार्यप्रणाली की समझ को विकसित करने के लिए निम्नलिखित में से कौन-सा सबसे उचित क्रियाकलाप है?

Which of the following is the most appropriate activity to develop understanding of the role and functioning of the Indian Parliament?

- (a) विषय वस्तु का गठन Formation of subject matter  
 (b) कार्यो एवं जिम्मेदारियों का प्रवाह अरिख Flow diagram of tasks and responsibilities  
 (c) संसद के अवरोध पर समाचार पत्र के लेखन पर चर्चा Discussion on newspaper writing on obstruction of Parliament  
 (d) युवा संसद का आयोजन Youth Parliament organized

188. सामाजिक विज्ञान के शिक्षण में चित्रपट कथा के प्रयोग के लिए सबसे महत्वपूर्ण कारण क्या है?

What is the most important reason for using film stories in teaching social sciences?

- (a) दिए गए वृत्तांत पर चर्चा को प्रोत्साहित करना encourage discussion on a given story  
 (b) घटनाओं का वर्णन करना describe events  
 (c) पाठ्य-पुस्तकों को आकर्षक बनाना making textbooks attractive  
 (d) एकपक्षीय सूचना प्रदान करना Providing unilateral information

189. निम्नलिखित सिफारिश किसने दी? 'प्राथमिक से माध्यमिक चरणों तक स्वास्थ्य और शारीरिक शिक्षा अनिवार्य विषय होना जारी रखना चाहिए।'

# SCHOLARS ACADEMY

Who gave the following recommendation? 'Health and physical education should continue to be compulsory subjects from primary to secondary stages.'

- (a) एनकेसी (b) एनसीएफ 2000  
nkc NCF 2000  
(c) एनपीई 1986 (d) एनसीएफ 2005  
NPE 1986 NCF 2005

190. राष्ट्रीय पाठ्यचर्या की रूपरेखा (2005) के लिए राष्ट्रीय संचालन समिति के अध्यक्ष कौन थे ?

Who was the Chairman of the National Steering Committee for the National Curriculum Framework (2005)?

- (a) प्रो. यशपाल (b) श्री गोपाल गुरु  
Pro. Yashpal Shri Gopal Guru  
(c) डॉ. डी.एस. कोठारी (d) प्रो. कृष्णकान्त  
Dr. D.S. closet Pro. Krishna Kant

191. स्कूल प्रबन्धन प्रक्रिया में प्राथमिक विद्यालय के शिक्षकों की प्रत्यक्ष भागीदारी निम्नलिखित तरीके से अपेक्षित है, सिवाए—  
Direct participation of primary school teachers in the school management process is expected in the following ways, except –

- (a) नीति निर्माण (b) पाठ्यक्रम प्रबन्धन  
policy making course management  
(c) प्रवेश एवं नामंकन (d) संचार एवं सहयोग  
Admission and Enrollment communication and collaboration

192. स्कूल शिक्षा के पेशेवर लोग माता-पिता को निम्न सभी तरीकों से उनकी बदलती भूमिकाओं के बारे में मदद कर सकते हैं, सिवाए—  
School education professionals can help parents navigate their changing roles in all of the following ways, except:

- (a) विशेषज्ञता प्रदान करने के (b) परामर्श प्रदान करने के  
to provide expertise to provide consultation  
(c) शैक्षणिक समर्थन प्रदान करने के (d) भोजन और दवाएं प्रदान करने के  
to provide academic support to provide food and medicines

193. शिक्षण अनुसंधान में किस प्रकार के आँकड़ों का उपयोग होता है?  
What types of data are used in educational research?

- (a) विवरणात्मक सांख्यिकीय विश्लेषण (b) अनुमानिक सांख्यिकीय विश्लेषण  
descriptive statistical analysis inferential statistical analysis  
(c) यह दोनों (d) इनमें से कोई नहीं  
both of these none of these

194. सामाजिक विज्ञान के विषयों के अध्ययन का महत्त्व इसलिए है, क्योंकि बच्चे इससे .....  
The study of social science subjects is important because children learn from it...

- (a) समाज और उसके पर्यावरण को समझ सकते हैं (b) भूत की घटनाओं का मूल्यांकन कर सकते हैं  
Can understand society and its environment Can evaluate ghost incidents  
(c) प्राकृतिक संसाधनों को (d) लोकतंत्र के बारे में विस्तार से

संरक्षित कर सकते हैं  
can conserve natural resources

सीख सकते हैं  
Can learn about democracy in detail

195. सामाजिक समस्याओं की समझदारी को विकसित करने के लिए निम्नलिखित में से सबसे उचित विधि कौन-सी है?  
Which of the following is the most appropriate method for developing understanding of social problems?

- (a) चित्र निबंध (b) भूमिका निर्वाह  
photo essay role play  
(c) वृत्त अध्ययन (d) चलचित्र प्रदर्शन  
case study movie screening

196. क्रिया-कलाप आधारित प्रश्न सामाजिक विज्ञान के पाठ को—  
Activity based questions on social science lesson –

- (a) विवादास्पद बनाते हैं (b) लम्बा बनाते हैं  
make controversial make longer  
(c) विस्तृत बनाते हैं (d) आनंददायी बनाते हैं  
make detailed make enjoyable

197. रिक्त स्थान के साथ एक वाक्य दिया गया है, जिसमें उचित शब्द की पूर्ति करें—  
A lot of people ..... turned up for the show.

A sentence has been given with a blank to be filled with an appropriate word. Choose the correct alternative.  
A lot of people ..... turned up for the show.

- (a) Have (b) Was  
(c) Is (d) Has

198. निम्नलिखित प्रश्न में चार विकल्प दिये गए हैं, उस विकल्प को चुनिए जो वाक्यांश के अर्थ को सर्वोत्तम रूप से व्यक्त करता है?  
In the following question, out of the given four alternatives, select the alternative which best expresses the meaning of the Idiom/Phrase. To be all ears.

- (a) दण्ड से पलायन (b) के लिए योगदान के रूप में कार्य करना  
Escape punishment Serve as contribution for  
(c) उत्सुकता से सुनने के लिए (d) स्थानान्तरण  
To listen eagerly or curiously Transfer

199. जीवन कौशल शिक्षा किशोरों की ——— में सहायता करती है।  
Life skills education helps adolescents to ———.

- (a) शारीरिक विकास, मोटर विकास और भाषा विकास (b) स्वस्थ संबंध बनाने तथा स्वस्थ और उत्पादक तरीके से जीवन का प्रबंध करने  
Physical development, motor development and language development To build healthy relationships and manage life in a healthy and productive way  
(c) उनकी शक्तियों और कमजोरियों की पहचान करने (d) व्यावसायिक जीवन में जमने  
to identify their strengths and weaknesses settling into professional life

200. प्राचीन कला में सबसे सम्मानित रूप था—  
The most respected form in ancient art was—

- (a) नृत्य रूप (b) दीवार पर चित्रकारी  
dance form painting on the wall  
(c) हस्तशिल्प (d) गीत एवं संगीत

# SCHOLARS ACADEMY

---

Handicraft

songs and music