

DO NOT OPEN THE SEAL OF THE BOOKLET UNTIL YOU ARE TOLD TO DO SO

EXAM ID. - 10256

DSSSB

TEST SERIES

DATE - __/__/__

DAY -

INSTRUCTION FOR CANDIDATE

उम्मीदवारों के लिए अनुदेश

TEST SERIES NO.

A – 106

QUESTION – 200

MARKS – 200

NEGATIVE MARK – 0.25

DURATION – 120 MIN.

- केवल काले या नीले रंग की स्याही वाले बॉल पेन का ही उपयोग करें
- परीक्षा प्रारंभ होते ही आप इस प्रश्न पुस्तिका की जाँच अवश्य कर ले तथा यदि इसमें कोई बिना छपा कटा-फटा या आंशिक छपा हुआ पृष्ठ अथवा प्रश्न हो, तो इसे अभिजागर के माध्यम से सही प्रश्न पुस्तिका से बदल लीजिए।
- इस प्रश्न पुस्तिका में कुल 200 प्रश्न हैं।
- यह एक वस्तुनिष्ठ परीक्षा है, जिसमें प्रत्येक प्रश्न के उत्तर के लिए चार विकल्प दिए गए हैं, आपको इन चार विकल्पों में से सही उत्तर वाले एक ही विकल्प को चुनना है।
- सभी प्रश्नों के उत्तर अलग अलग से दिए गए उत्तर-पत्रक पर ही अंकित करने हैं।

- उत्तर-पत्रक को भरने हेतु निर्देश उत्तर-पत्रक के पृष्ठ भाग पर अंकित हैं, जिन्हें उत्तर-पत्रक को भरने से पूर्व ध्यान से पढ़ ले।
- इस प्रश्न पुस्तिका में रफ-कार्य के लिए खाली पृष्ठ उपलब्ध हैं।
- परीक्षा समाप्त होने से पूर्व परीक्षार्थी कक्ष से बाहर नहीं जा सकते हैं।
- परीक्षा समाप्त होने के पश्चात् आप उत्तर-पत्रक की ORIGINAL COPY को अभिजागर के पास जमा कराकर उनकी अनुमति से ही बाहर जा सकते हैं।
- परीक्षा समाप्त होने पर प्रश्न पुस्तिका एवं उत्तर-पत्रक की Candidate's Copy को अपने साथ ले जाने की अनुमति है।
- प्रत्येक सही उत्तर पर 1 अंक प्राप्त होगा तथा प्रत्येक गलत उत्तर पर 0.25 अंक काटा जाएगा।

SCHOLARS ACADEMY

SSC | IBPS | NDA | RAILWAY | COMMERCE

Add : H-81, Ind floor, South Extension I, Block H, New Delhi, Delhi 110049

MOB:- 01141676717, 9312712114

General Awareness

1. नॉर्थ ईस्ट स्मॉल फाइनेंस बैंक का कॉर्पोरेट कार्यालय निम्नलिखित में से किस शहर में स्थित है?

The corporate office of North East Small Finance Bank is located in which of the following cities?

- (a) शिलांग (b) अगरतला
Shillong Agartala
(c) इंफाल (d) गुवाहाटी
Imphal Guwahati

2. कश्मीर के पुरुषों और महिलाओं द्वारा पहनी जाने वाली पारंपरिक पोशाक निम्नलिखित में से कौन सी है?

Which of the following is the traditional dress worn by men and women of Kashmir?

- (a) रिकुटु गमचा (b) फानेक
Rikutu Gumcha Fanek
(c) फेरन (d) मेखला चादर
feron belt sheet

3. भारत के आर्थिक सर्वेक्षण को भारत में पहली बार केंद्रीय बजट के एक भाग के रूप में किस वर्ष में पेश किया गया था?

In which year was the Economic Survey of India introduced for the first time in India as a part of the Union Budget?

- (a) 1947-48 (b) 1949-52
(c) 1950-51 (d) 1952-53

4. शहरी क्षेत्रों के लिए स्थानीय सरकारी निकायों को किस नाम से जाना जाता है?

What are the local government bodies for urban areas known as?

- (a) नगर पालिका (b) राज्य परिषद
Municipality state Council
(c) जिला परिषद (d) पंचायत समितियां
District Council panchayat committees

5. दो या इससे अधिक समाजों की तुलना के लिए निम्नलिखित में से आय के किस मानक का उपयोग नहीं हो सकता है?

Which of the following standards of income cannot be used to compare two or more societies?

- (a) आय का समान वितरण (b) रोजगार
equal distribution of income employment
(c) क्रय शक्ति समता (d) प्रति व्यक्ति आय
purchasing power parity per capita income

6. निम्नलिखित में से कौन सा उपवेद ऋग्वेद से संबंधित है?

Which of the following Upveda belongs to Rigveda?

- (a) शिल्पवेद (b) गंधर्ववेद
Shilpaveda Gandharvaveda
(c) आयुर्वेद (d) धनुर्वेद
Ayurveda Dhanurveda

7. किसी व्यक्ति का वजन जमीन पर वजन 60 kg है। एक समान त्वरण के साथ लंबवत ऊपर की ओर गतिमान एक लिफ्ट में जब उसका वजन मापा जाता है, तो उस व्यक्ति के वजन पर क्या प्रभाव पड़ेगा?

The weight of a person on the ground is 60 kg. What will be the effect on the weight of a person when his weight is measured in an elevator moving vertically upward with uniform acceleration?

- (a) नहीं बदलेगा (b) शून्य हो जाएगा
do not very will be zero
(c) 60 kg कम मापा जाएगा (d) 60 kg से ज्यादा मापा जाएगा
60 kg less will be measured More than 60 kg will be measured

8. डिएगो माराडोना (Diego Maradona) का संबंध निम्नलिखित में से किस खेल से था?

Diego Maradona was associated with which of the following sports?

- (a) टेनिस (b) क्रिकेट
Tennis Cricket
(c) हॉकी (d) फुटबॉल
Hockey Football

9. भूकम्पों को पहचानने और उन्हें रिकॉर्ड करने के लिए निम्नलिखित में से किस उपकरण का उपयोग किया जाता है?

Which of the following instruments is used to detect and record earthquakes?

- (a) क्रोनोमीटर (b) सीस्मोग्राफ
chronometer seismograph
(c) बैरोग्राफ (d) ऐमीटर
barograph ammeter

10. निम्नलिखित में से क्या, किसी बीज का बीजावरण (सीड कोट) बनाता है?

Which of the following forms the seed coat of a seed?

- (a) युग्मनज (b) नाभिका
Zygote Hilum
(c) अध्यावरण (d) भ्रूण
Integument Embryo

11. टाटा आयरन एंड स्टील कंपनी (TISCO) की स्थापना किस वर्ष हुई थी?

In which year was Tata Iron and Steel Company (TISCO) established?

- (a) 1907 (b) 1913
(c) 1932 (d) 1927

12. विकासवाद का सिद्धांत (Theory of Evolution) निम्नलिखित में से किसने दिया था?

Who among the following gave the Theory of Evolution?

- (a) ग्रेगर जॉन मेंडल (b) चार्ल्स रॉबर्ट डार्विन
gregor john mendel Charles Robert Darwin
(c) अल्बर्ट आइंस्टीन (d) मैरी क्यूरी
Albert Einstein Marie Curie

13. उमानंद, असम में स्थित एक _____ है।

Umanand is a _____ located in Assam.

- (a) द्वीप (b) घाटी
island valley
(c) झील (d) नदी
Lake River

14. प्रसिद्ध तवांग मठ निम्नलिखित में से किस राज्य में स्थित है?
The famous Tawang Monastery is located in which of the following states?

- | | |
|------------------------------------|---|
| (a) असम
Assam | (b) सिक्किम
Sikkim |
| (c) आंध्र प्रदेश
Andhra Pradesh | (d) अरुणाचल प्रदेश
Arunachal Pradesh |

15. लेलाह फर्नांडीज _____ की एक पेशेवर टेनिस खिलाड़ी हैं।
Laylah Fernandez is a professional tennis player from

- | | |
|-----------------------|---------------------|
| (a) जर्मनी
Germany | (b) कनाडा
Canada |
| (c) जापान
Japan | (d) यूएसए
usa |

16. किस राज्य सरकार ने ग्रामीण गरीबों के लिए 'मो घर आवास योजना शुरू करने की घोषणा की है?

Which state government has announced to launch 'Mo Ghar Awas Yojana' for the rural poor?

- | | |
|---------------------------------|---------------------------|
| (a) तमिलनाडु
Tamil Nadu | (b) ओडिशा
Odisha |
| (c) पश्चिम बंगाल
West Bengal | (d) राजस्थान
Rajasthan |

17. किसे इंडियन मेडिकल एसोसिएशन (IMA) पुरस्कार 2023 के लिए चुना गया है?

Who has been selected for the Indian Medical Association (IMA) Award 2023?

- | | |
|-------------------------------------|---------------------------------|
| (a) के. वेणुगोपाल
who. Venugopal | (b) अजय सिन्हा
Ajay Sinha |
| (c) विवेक कसाना
Vivek Kasana | (d) जी वेणुगोपाल
G Venugopal |

18. वर्ल्ड टेबल टेनिस कंटेंडर टूर्नामेंट में विमेंस डबल कैटेगरी का टाइटल जीतने वाली पहली भारतीय जोड़ी बन गई?

Who became the first Indian pair to win the women's double category title in the World Table Tennis Contender Tournament?

- | | |
|--|---|
| (a) मनिका बत्रा और नेहा अग्रवाल
Manika Batra and Neha Agarwal | (b) सुतीर्था मुखर्जी और अयहिका मुखर्जी
Sutirtha Mukherjee and Ayhika Mukherjee |
| (c) पौलोमी घटक और मौमा दास
Paulomi Ghatak and Mouma Das | (d) अंकिता दास और भाविना पटेल
Ankita Das and Bhavina Patel |

19. 'मेरी माटी मेरा देश अभियान' अभियान किस मंत्रालय की एक पहल है?

'Meri Mati Mera Desh Abhiyan' campaign is an initiative of which ministry?

- | | |
|--|---|
| (a) पंचायती राज मंत्रालय
Ministry of Panchayati Raj | (b) ग्रामीण विकास मंत्रालय
Ministry of Rural Development |
| (c) खान मंत्रालय
Ministry of Mines | (d) स्वास्थ्य एवं परिवार कल्याण मंत्रालय
Ministry of Health and Family |

Welfare

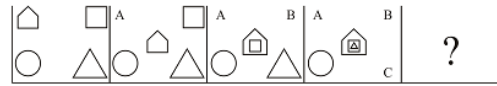
20. राज्यसभा के सभापित जगदीप धनखड़ ने किसे गृह मामलों संबंधी स्थायी समिति का सदस्य मनोनीत किया है?

Who has been nominated by Rajya Sabha Chairman Jagdeep Dhankhar as a member of the Standing Committee on Home Affairs?

- | | |
|---------------------------------|--------------------------------|
| (a) राहुल गांधी
Rahul Gandhi | (b) वरुण गांधी
Varun Gandhi |
| (c) पी चिदंबरम
P Chidambaram | (d) संजय राउत
Sanjay Raut |

Reasoning

21. दिए गए विकल्पों में से उस आकृति का चयन कीजिए जो दी गई श्रृंखला में प्रश्न चिह्न (?) के स्थान पर आ सकती है।
Select the figure from the given options that can come in place of the question mark (?) in the given series.



- | | |
|-----|-----|
| (a) | (b) |
| (c) | (d) |

22. उस सही विकल्प का चयन करें जो नीचे दिए गए शब्दों का वह व्यवस्थित क्रम दर्शाता है जिस क्रम में वे एक अंग्रेजी शब्दकोश में मौजूद होते हैं।

Select the correct option that shows the systematic arrangement of the words given below in the order in which they exist in an English dictionary.

- 1-Commander
- 2- Command
- 3-Commandment
- 4- Commemorate
- 5- Commandant

- | | |
|--------------------|-------------------|
| (a) 2, 5, 3, 4, 1, | (b) 2, 5, 1, 3, 4 |
| (c) 3, 5, 1, 4, 2 | (d) 2, 5, 1, 4, 3 |

23. पाँच व्यक्ति A, B, C, D और E एक पंक्ति में पश्चिम की ओर मुँह करके बैठे हैं। A और B एक साथ बैठे हैं। C दक्षिणी सिरे पर बैठा है और D उत्तरी सिरे पर बैठा है। E, B और C के बीच में बैठा है। दक्षिण से तीसरे स्थान पर कौन बैठा है?

Five persons A, B, C, D and E are sitting in a row facing west. A and B are sitting together. C sits at the southern end and D sits at the northern end. E is sitting between B and C. Who is sitting third from the south?

- | | |
|-------|-------|
| (a) E | (b) B |
| (c) A | (d) C |

24. 'K % L' का अर्थ है कि 'K, L का भाई है', 'K \$ L' का अर्थ है कि 'K, L का पति है', 'K @ L' का अर्थ है कि 'K, L की बहन है', 'K # L' का

अर्थ है कि 'K, L की माँ है'। व्यंजक 'X @ P % T # M \$ Y # J @ H' में H, M से किस प्रकार संबंधित है?

'K % L' means 'K is brother of L', 'K \$ L' means 'K is husband of L', 'K @ L' means 'K is brother of L is sister', 'K # L' means 'K is the mother of L'. How is H related to M in the expression 'X @ P % T # M \$ Y # J @ H'?

- | | |
|-------------------|------------------|
| (a) भाई या बहन | (b) पिता |
| Brother or sister | Father |
| (c) चाचा | (d) बेटा या बेटा |
| Uncle | son or daughter |

25. यदि '+' का अर्थ '÷', '-' का अर्थ '+', 'x' का अर्थ '-', और '÷' का अर्थ 'x' है, तो दिए गए व्यंजक का मान कितना होगा?

$$85 - 55 \div 75 + 25 \times 50$$

If '+' means '÷', '-' means '+', 'x' means '-', and '÷' means 'x', then what will be the value of the given expression?

$$85 - 55 \div 75 + 25 \times 50$$

- | | |
|---------|---------|
| (a) 200 | (b) 300 |
| (c) 250 | (d) 150 |

26. निम्नांकित चित्रों में एक कागज को मोड़ने के क्रम और मुड़े हुए कागज को काटने का तरीका दर्शाया गया है। मुड़े हुए कागज को खोलने पर यह कैसा दिखाई देगा?

The following pictures show the order of folding a paper and the method of cutting the folded paper. What will a folded paper look like when it is opened?



- | | |
|-----|-----|
| (a) | (b) |
| (c) | (d) |

27. दिए गए विकल्पों में से वह संख्या चुनें जो निम्नलिखित श्रृंखला में प्रश्नवाचक चिह्न (?) के स्थान पर आ सकती है।

6, 11, 20, 37, 70, ?

Select the number from the given alternatives that can come in place of the question mark (?) in the following series.

6, 11, 20, 37, 70, ?

- | | |
|---------|---------|
| (a) 145 | (b) 130 |
| (c) 140 | (d) 135 |

28. तीन संख्याओं A, B और C का योगफल 187 है। B, A की 1.5 गुनी है। C, B की दोगुनी है। तो C का मान कितना है?

The sum of three numbers A, B and C is 187. B is 1.5 times of A. C is twice that of B. Then what is the value of C?

- | | |
|--------|---------|
| (a) 85 | (b) 100 |
| (c) 99 | (d) 102 |

29. यदि 'पूर्व' को 'पश्चिम', 'पश्चिम' को 'उत्तर', 'उत्तर' को 'दक्षिण' और 'दक्षिण' को 'उत्तर' माना जाता है, तो भारत में सूर्योदय किस दिशा में होता है ?

If 'East' is considered as 'West', 'West' is considered as 'North', 'North' is considered as 'South' and 'South' is considered as 'North', then in which direction does sunrise occur in India?

- | | |
|------------|------------|
| (a) उत्तर | (b) पूर्व |
| Answer | East |
| (c) पश्चिम | (d) दक्षिण |
| West | South |

30. दिए गए कथनों और निष्कर्षों को ध्यानपूर्वक पढ़ें। कथनों में दी गई जानकारी को सत्य मानते हुए, भले ही वो सामान्य रूप से ज्ञात तथ्यों से भिन्न प्रतीत होती हो, बताइए कि निम्न में से कौन से निष्कर्ष कथनों का तार्किक रूप से अनुसरण करते हैं।

कथन:

- 1- सभी धागे, पिन हैं।
- 2- कुछ पिन, कुशन हैं।

निष्कर्ष:

- I- कुछ कुशन, पिन हैं।
- II- कुछ पिन, धागे हैं।

Read the given statements and conclusions carefully. Considering the information given in the statements to be true even if it seems to be at variance from commonly known facts, state which of the following conclusions logically follow from the statements.

Statements:

- 1- All threads are pins.
- 2- Some pins are cushions.

Conclusions:

- I- Some cushions are pins.
- II- Some pins are threads.

- | | |
|--------------------------------------|---|
| (a) केवल निष्कर्ष II अनुसरण करता है। | (b) या तो निष्कर्ष I या निष्कर्ष II अनुसरण करता है। |
| Only conclusion II follows. | Either conclusion I or conclusion II follows. |
| (c) केवल निष्कर्ष I अनुसरण करता है। | (d) निष्कर्ष I और II दोनों अनुसरण करते हैं। |
| Only conclusion I follows. | Both conclusions I and II follow. |

31. एक विशिष्ट कूट भाषा में, 'BEHIND' को 'BLGJGD' लिखा जाता है। इस भाषा में 'ORANGE' को क्या लिखा जाएगा?

In a certain code language, 'BEHIND' is written as 'BLGJGD'. How will 'ORANGE' be written in this language?

- | | |
|-------------|------------|
| (a) PLCETQ | (b) CELCTQ |
| (c) CLECCQT | (d) NQCLTF |

32. A, B का भाई है। C, B का पति है। C, E का बेटा है। S, E की पत्नी है। S, B से किस प्रकार संबंधित है?

A is brother of B. C is husband of B. C is son of E. S is wife of E. How is S related to B?

- | | |
|-----------------|-----------|
| (a) सास | (b) मामी |
| Mother in law | aunty |
| (c) बहू | (d) भतीजी |
| Daughter in law | Niece |

33. उस सही विकल्प का चयन करें, जो दिए गए शब्दों को उस क्रम में दर्शाता है जिस क्रम में वे अंग्रेजी शब्दकोश में दिखाई पड़ते हैं।
Select the correct option that shows the given words in the order in which they appear in the English dictionary.

1-Tackle
2- Topper
3- Topic
4-Terminal
5-Termite

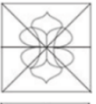



- (a) 4,1,5,3,2 (b) 1,5,4,3,2
(c) 1,4,5,3,2 (d) 1,4,5,2,3

34. ब्रोंकाइटिस का जो संबंध 'फेफड़ों से है, वही संबंध 'ग्लूकोमा' का _____ से है।
As bronchitis is related to lungs, glaucoma is related to _____.

- (a) त्वचा (b) आँखों
skin eyes
(c) जिह्वा (d) अग्राशय
tongue pancreas

35. उस विकल्प का चयन करें जिसमें दी गई आकृति अंतर्निहित है (घुमाने की अनुमति नहीं है)।
Select the option in which the given shape is embedded (rotation is not allowed).



- (a)  (b) 
(c)  (d) 

36. उस विकल्प का चयन करें जो तीसरे पद से उसी प्रकार संबंधित है, जिस प्रकार दूसरा पद पहले पद से संबंधित है।

ROCK : OGSV :: LAST : ?

Select the option that is related to the third term in the same way as the second term is related to the first term.

ROCK : OGSV :: LAST : ?

- (a) XWEP (b) PETV
(c) XVID (d) ODVX

37. चार संख्या-त्रय (नंबर-ट्रायड) दिए गए हैं, जिनमें से तीन किसी तरह से एक समान हैं और एक भिन्न है। उस संख्या-त्रय (नंबर-ट्रायड) का चयन करें जो भिन्न है।

Four number-triads have been given, out of which three are alike in some manner and one is different. Select the number-triad which is different.

- (a) (42,79,126) (b) (27,64,101)
(c) (35,72,109) (d) (54,91,128)

38. दिए गए विकल्पों में से उस संख्या का चयन कीजिए, जो निम्नलिखित श्रेणी में प्रश्नवाचक चिन्ह (?) के स्थान पर आ सकती है।
29, 38, 63, 112, 193, ?

Select the number from the given alternatives which can come in place of the question mark (?) in the following series.

29, 38, 63, 112, 193, ?

- (a) 327 (b) 385
(c) 303 (d) 314

39. सात व्यक्ति, A, B, C, D, E, F और G, सात तलों वाले एक भवन में विभिन्न तलों पर रह रहे हैं। B और D के तलों के बीच चार तल हैं, और B, D से ऊपर वाले तल पर रहता है। E और A के तलों के बीच दो तल हैं, और A, E से नीचे वाले तल पर रहता है। C भू-तल पर रहता है। G और F पड़ोसी तल पर रहते हैं। C और F के तलों के बीच दो तल हैं, और F, C से ऊपर वाले तल पर रहता है। सबसे ऊपर वाले तल पर कौन रह रहा है?

Seven persons, A, B, C, D, E, F and G, are living on different floors in a building with seven floors. There are four floors between the floors of B and D, and B lives above D. There are two floors between the floors of E and A, and A lives below E. C lives on the ground floor. G and F live on neighboring floors. There are two floors between the floors of C and F, and F lives on the floor above C. Who is living on the top floor?

- (a) G (b) D
(c) A (d) B

40. निम्नलिखित समीकरण को सही करने के लिए किन दो गणितीय चिन्हों को आपस में बदलने की आवश्यकता है?

$$106 \div 3 \times 2 + 70 - 7 = 110$$

Which two mathematical symbols need to be interchanged to make the following equation correct?

$$106 \div 3 \times 2 + 70 - 7 = 110$$

- (a) - और ÷ (b) + और -
- and ÷ + and -
(c) × और - (d) × और +
× and - × and +

Arithmetical & Numerical Ability

41. एक शहर की जनसंख्या 8000 है। यदि पुरुषों की संख्या में 8% और महिलाओं की संख्या में 12% की वृद्धि होती है तो जनसंख्या 8680 हो जाएगी। शहर में महिलाओं की संख्या ज्ञात करें।

The population of a town is 8000. If the number of males increases by 8% and the number of females increases by 12% then the population will become 8680. Find the number of women in the city.

- (a) 2500 (b) 1500
(c) 2000 (d) 1000

42. एक पेन को 144 में बेचने पर अनुराग को क्रय मूल्य पर 1/7 की हानि होती है। यदि पेन 189 में बेचा जाता है, तो लाभ प्रतिशत क्या होगा?

By selling a pen for Rs 144, Anurag suffers a loss of 1/7 on the cost price. If the pen is sold at Rs 189, what will be the profit percentage?

- (a) 11% (b) 12.5%
(c) 11.5% (d) 14%

SCHOLARS ACADEMY

43. किसी शोरूम में किसी वस्तु का सूची मूल्य 2000 है, और इसे 20% और 10% के क्रमागत छूटों पर बेचा जा रहा है। इसका शुद्ध बिक्री मूल्य ज्ञात कीजिए।

The list price of an article in a showroom is Rs.2000, and it is being sold at successive discounts of 20% and 10%. Find its net selling price.

- (a) 1520 (b) 1400
(c) 1440 (d) 1700
44. एक मिश्रण में रेत और रोड़ी का अनुपात 41 : 30 है, जबकि रोड़ी और सीमेंट का अनुपात 6 : 7 है। मिश्रण में रेत और सीमेंट का अनुपात क्या है?
In a mixture the ratio of sand and gravel is 41 : 30, while the ratio of gravel and cement is 6 : 7. What is the ratio of sand and cement in the mixture?
(a) 8 : 6 (b) 11 : 7
(c) 77 : 48 (d) 41 : 35
45. सुरभि ने किसी उद्योग में 5 महीने के लिए 6000 और उर्बा ने 6 महीने के लिए 5000 निवेश किये। लाभ में दोनों का अनुपात क्या होगा?
Surbhi invested Rs 6000 for 5 months and Urba invested Rs 5000 for 6 months in an industry. What will be the ratio of both in profit?
(a) 36 : 25 (b) 6 : 5
(c) 5 : 6 (d) 1 : 1
46. A, B से चार गुना अधिक तेज काम करता है, इसलिए वह एक काम को B की तुलना में 60 दिन पहले पूरा कर सकता है। यदि वे साथ काम करें तो कितने दिनों में काम पूरा कर सकते हैं?
A works four times faster than B, hence he can complete a piece of work in 60 days before B. If they work together, in how many days can they complete the work?
(a) 21 दिन 21 days (b) 22.5 दिन 22.5 days
(c) 16 दिन 16 days (d) 25 दिन 25 days
47. 35 लीटर के एक मिश्रण में दूध और पानी का अनुपात 4:1 है। इस मिश्रण में 7 लीटर पानी और मिलाने पर दूध और पानी का अनुपात ज्ञात कीजिए?
The ratio of milk and water in a mixture of 35 liters is 4:1. Find the ratio of milk and water when 7 liters of water is added to this mixture?
(a) 2 : 7 (b) 2 : 1
(c) 2 : 3 (d) 1 : 3
48. पाइप A, किसी खाली हौद को 14 घंटे में भर सकता है। पाइप B के साथ मिलकर यह खाली हौद को 12 घंटे में भर सकता है। इसीलिए, पाइप B अकेले खाली हौद को ----- घंटे में भर सकता है।
Pipe A can fill an empty cistern in 14 hours. Together with pipe B it can fill the empty tank in 12 hours. Therefore, pipe B alone can fill the empty tank in ----- hours.
(a) 84 (b) 75
(c) 78 (d) 77
49. एक निश्चित साधारण ब्याज की दर पर 800 की राशि 3 वर्षों में 956 हो जाती है। यदि दर को 4% बढ़ा दिया जाए, तो निवेश में कितनी वृद्धि होगी ?

At a certain rate of simple interest a sum of Rs 800 becomes Rs 956 in 3 years. If the rate is increased by 4%, what will be the increase in investment?

- (a) 108 (b) 96
(c) 1052 (d) 72
50. एक निश्चित राशि, चक्रवृद्धि ब्याज की किसी दर पर दो वर्षों में 2420 और तीन वर्षों में 2662 हो जाती है, ब्याज का आंकलन वार्षिक चक्रवृद्धि आधार पर किया गया था। राशि और वार्षिक ब्याज की दर ज्ञात कीजिए।
A certain sum amounts to Rs. 2420 in two years and Rs. 2662 in three years at some rate of compound interest. The interest was calculated on annual compound basis. Find the amount and annual interest rate.
(a) 1000 और 12% (b) 2000 और 10%
1000 and 12% 2000 and 10%
(c) 2250 और 15% (d) 2500 और 5%
2250 and 15% 2500 and 5%
51. अपने पुत्र के जन्म के समय पिता की आयु पुत्र की वर्तमान आयु के बराबर थी। यदि पुत्र की आयु 20 वर्ष है, तो पिता की वर्तमान आयु ज्ञात कीजिए।
The father's age at the time of his son's birth was equal to the son's present age. If the age of the son is 20 years, then find the present age of the father.
(a) 39 वर्ष (b) 30 वर्ष
39 years 30 years
(c) 60 वर्ष (d) 40 वर्ष
60 years 40 years
52. तीन संख्याओं का औसत 8 है। पहली दो संख्याओं का औसत 6 और अंतिम दो संख्याओं का औसत 9 है। वे तीन संख्याएँ ज्ञात कीजिए।
The average of three numbers is 8. The average of the first two numbers is 6 and the average of the last two numbers is 9. Find those three numbers.
(a) 4, 9, 2009 (b) 4, 8, 12
(c) 5, 7, 12 (d) 6, 6, 12
53. एक 200 m लंबी दौड़ में धावक A धावक B को 3s से हरा देता है। यदि A और B की गति में 1.5 m/s का अंतर है, तो A की गति m/s में ज्ञात करें
In a 200 m long race, runner A beats runner B by 3s. If the difference in speed of A and B is 1.5 m/s, then find the speed of A in m/s.
(a) 10.778 (b) 10.5
(c) 8.728 (d) 9.728
54. यदि एक ट्रेन 8/9 घंटे में 152 किमी. की दूरी तय करती है, तो ट्रेन की गति ज्ञात कीजिए?
If a train travels 152 km in 8/9 hours. If it covers distance of 100 km, then find the speed of the train?
(a) 170 km/h (b) 171 m/s
(c) 171 km/h (d) 170 m/s
55. एक नाव को धारा की दिशा में एक निश्चित दूरी तय करने में 12 घंटे लगते हैं और वापस लौटने में 24 घंटे लगते हैं। नाव द्वारा शांत जल में समान दूरी तय करने में कितना समय लगेगा?

A boat takes 12 hours to cover a certain distance downstream and 24 hours to return. How much time will the boat take to cover the same distance in still water?

- (a) 15 घंटा (b) 10 घंटा
15 hours 10 hours
(c) 18 घंटा (d) 16 घंटा
18 hours 16 hours

56. एक समकोण त्रिभुज के कर्ण की लम्बाई, सबसे छोटी भुजा की दुगुनी लम्बाई से 2 मीटर कम है। यदि तीसरी भुजा सबसे छोटी भुजा से 2 मीटर अधिक लम्बी हो, तो त्रिभुज के कर्ण की लंबाई क्या है?

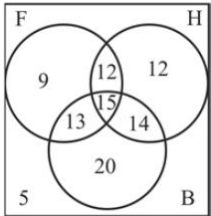
The length of the hypotenuse of a right triangle is 2 meters less than twice the length of the shortest side. If the third side is 2 meters longer than the shortest side, then what is the length of the hypotenuse of the triangle?

- (a) 10 मी. (b) 13 मी.
10 m. 13 m.
(c) 12 मी. (d) 7 मी.
12 m. 7 m.

57. 17, 22, 27, 32, इस श्रृंखला में 20वाँ पद यह होगा—
17, 22, 27, 32, the 20th term in this series will be –

- (a) 107 (b) 117
(c) 112 (d) 115

58. दिया गया आरेख उन छात्रों की संख्या को प्रदर्शित करता है, जो कक्षा में फुटबॉल (F) हॉकी (H) और बास्केटबॉल (B) खेलते हैं। उन छात्रों की संख्या कितनी है जो कक्षा में बास्केटबॉल खेलते हैं? The given diagram represents the number of students who play Football (F), Hockey (H) and Basketball (B) in the class.



What is the number of students who play basketball in the class?

- (a) 20 (b) 62
(c) 49 (d) 53

59. यदि $(\tan\theta + \cot\theta) = 5$ है, तो $(\tan^2\theta + \cot^2\theta)$ का मान ज्ञात कीजिए?

If $(\tan\theta + \cot\theta) = 5$, then find the value of $(\tan^2\theta + \cot^2\theta)$?

- (a) 23 (b) 27
(c) 25 (d) 21

60. उस बिंदु के निर्देशांक क्या हैं जो बिंदुओं $(-3,7)$ और $(9, -1)$ को आंतरिक रूप से मिलाने वाली रेखा को 3 : 1 के अनुपात में विभाजित करती है?

What are the coordinates of the point which internally divides the line joining the points $(-3,7)$ and $(9, -1)$ in the ratio 3 : 1?

- (a) (0, 5) (b) (6, 1)
(c) (3, 3) (d) (9, 2)

HINDI

61. गद्यांश: दिए गए गद्यांश में से कुछ शब्द हटा दिए गए हैं। संबंधित प्रश्नों में प्रत्येक संख्या के लिए सबसे उपयुक्त विकल्प का चयन करें। वायु प्रदूषण सबसे बड़ा (1) — है। यह मानव जीवन की (2) — से जुड़ा हुआ है। कल-कारखाने की (3) — हलवाइयों की भट्टियाँ, रात-दिन दौड़-भाग कर रही गाड़ियाँ, घंटों में जलने वाली अंगीठियाँ आदि अपने (4) — तत्त्वों से पूरे वायुमंडल को (5) — कर देते हैं। गद्यांश के रिक्त स्थान (1) के लिए सर्वाधिक उपयुक्त शब्द होगा-

- (a) क्रिया-कलाप (b) खतरा
(c) संपद (d) चाहत

62. गद्यांश के रिक्त स्थान (2) के लिए सर्वाधिक उपयुक्त शब्द होगा-

- (a) जिंदगी (b) शरीर
(c) क्रिया-कलाप (d) वक्त

63. दिए गए वाक्यांश के लिए एक शब्द दीजिए। जो पुरुष लोहे की तरह बलिष्ठ है।

- (a) सज्जन पुरुष (b) राक्षस
(c) दानव (d) लौह पुरुष

64. रिक्त स्थान की पूर्ति के लिए सबसे उपयुक्त शब्द का चयन करें। परीक्षा की — बदलनी चाहिए।

- (a) तरीका (b) प्रणाली
(c) उपाय (d) ढाँचा

65. दिए गए वाक्य में रेखांकित खंड को प्रतिस्थापित करने के लिए सबसे उपयुक्त विकल्प का चयन करें। यदि इसे प्रतिस्थापित करने की आवश्यकता नहीं है, तो विकल्प किसी बदलाव की आवश्यकता नहीं है का चयन करें। हमारी संस्कृति में गुरु और शिष्य का संबंध बहुत सुन्दर और मधुर हुआ करती थी।

- (a) सुन्दर और मधुर हुआ करती थी। (b) सुन्दर और मधुर होते थे।
(c) सुन्दर और मधुर हुआ करता था। (d) किसी बदलाव की आवश्यकता नहीं है।

66. दिये गये वाक्य में रेखांकित अंश को प्रतिस्थापित करने के लिए सबसे उपयुक्त विकल्प का चयन करें। भाइयों के झगड़े का हेतू क्या हो सकता है ?

- (a) लक्ष्य (b) कारण
(c) उद्देश्य (d) प्रयोजन

67. दिए गए वाक्य का वह भाग ज्ञात करें जिसमें कोई त्रुटि है। यदि कोई त्रुटि नहीं है, तो 'कोई त्रुटि नहीं है' विकल्प को चुनिए। (1) दस आदमियों ने (2) नाव से (3) नदी को पार किया (4) कोई त्रुटि नहीं है।

- (a) नदी को पार किया (b) नाव से
(c) कोई त्रुटि नहीं है। (d) दस आदमियों ने

68. दिए गए वाक्य का वह भाग ज्ञात करें जिसमें कोई त्रुटि है। यदि कोई त्रुटि नहीं है, तो 'कोई त्रुटि नहीं है' चुनें। कोई किसी को (1)/ सिखाता नहीं कि (2)/ ऐसी उच्चारण करो (3)/ कोई त्रुटि नहीं है (4)

- (a) 3 (b) 2
(c) 1 (d) 4

SCHOLARS ACADEMY

69. दिए गए शब्द के समानार्थी शब्द का चयन करें। बिजली
(a) दामिनी (b) यामिनी
(c) शर्वरी (d) अटवी
70. दिए गए वाक्यांश के लिए एक शब्द चुनिए। इस लोक से संबंधित
(a) अलौकिक (b) विलौकिक
(c) अवलौकिक (d) लौकिक
71. दिए गए वाक्यांश के लिए एक शब्द दीजिए। जिसका दमन करना कठिन है।
(a) दुर्बोध (b) दृष्टव्य
(c) दुर्दम्य (d) दुर्गम
72. दिये गये वाक्य के किस भाग में त्रुटि है ? उसने इस बात पर कड़ी आपत्ति प्रकट की।
(a) उसने (b) पर कड़ी
(c) आपत्ति प्रकट की (d) इस बात
73. निम्नलिखित प्रश्न में, दिए गए चार विकल्पों में से, उस विकल्प का चयन करें जो मुहावरे का अर्थ व्यक्त करता है। पहाड़ टूटना
(a) भूकंप होना (b) प्रकृति का प्रकोप होना
(c) बहुत भारी कष्ट आपड़ना (d) डर जाना
74. रिक्त स्थान की पूर्ति के लिए सबसे उपयुक्त विकल्प का चयन करें। कवि कविता का — करता है।
(a) निर्माण (b) सृजन
(c) व्यापार (d) उत्पादन
75. दिये गये वाक्य में रेखांकित अंश को प्रतिस्थापित करने के लिए सबसे उपयुक्त विकल्प का चयन करें। अधिकतर लोगों का यही विचार है।
(a) अधिकतम (b) अधिक
(c) अधिकांश (d) सर्वाधिक
76. दिए गए शब्द का समानार्थी शब्द बताइए - सरस्वती
(a) शारदा (b) पार्वती
(c) काली (d) चंडी
77. दिए गए वाक्य में रेखांकित खंड को प्रतिस्थापित करने के लिए सबसे उपयुक्त विकल्प का चयन करें। यदि इसे प्रतिस्थापित करने की आवश्यकता नहीं है, तो विकल्प 'किसी बदलाव की आवश्यकता नहीं है' का चयन करें। मेरा बेटा बकरी को घुमाया।
(a) मेरे बेटे ने (b) किसी बदलाव की आवश्यकता नहीं है।
(c) मेरी बेटा ने (d) मेरा बेटा ने
78. निम्न मुहावरे का अर्थ व्यक्त करने वाले विकल्प का चयन कीजिए। टस से मस ना होना
(a) तनिक भी प्रभावित न होना (b) शक्ति पर विश्वास करना
(c) रुक जाना (d) स्थिर चित्त होना
79. रिक्त स्थान की पूर्ति के लिए सबसे उपयुक्त शब्द का चयन करें। सफलता के मार्ग में बहुत — है।
(a) संकट (b) मेहनत
(c) बाधाएँ (d) छाँव
80. 'सूर्य जिस पर्वत के पीछे निकलता है' वाक्यांश के लिए एक शब्द होगा-
(a) दूर्वाचल (b) गगनांचल

- (c) उदयाचल (d) अस्ताचल

English

81. Comprehension: In the following passage, some words have been deleted. Read the passage carefully and select the most appropriate option to fill in each blank. It was a cloudy morning. I had just left for school (1)_____I was caught in a heavy storm. I (2)_____as it started pouring and I got all (3)_____.The clouds were blaring with thunder and lightning. (4) _____all this, I managed to find a shelter and (5) _____whether I should go the school or return home. Select the most appropriate option to fill in blank no. 1.
(a) since (b) though
(c) then (d) when
82. Select the most appropriate option to fill in blank no. 2.
(a) confused (b) panicked
(c) alarmed (d) frightened
83. Select the option that will improve the underlined part of the given sentence. In case no improvement is needed, select 'No improvement required'. If I were late on the first day, it will make me look bad for the rest of the year.
(a) it would make (b) No improvement required
(c) it makes (d) would have made
84. Select the INCORRECTLY spelt word.
(a) Shedule (b) Sheath
(c) Shade (d) Sheet
85. Select the most appropriate ANTONYM of the given word. Lenient
(a) Furious (b) Mild
(c) Strict (d) Tolerant
86. Select the most appropriate option to fill in the blank. You have _____much but do not lose hope.
(a) Suffered (b) Settled
(c) Supported (d) Stood
87. Select the most appropriate ANTONYM of the given word. Immune
(a) Eager (b) Exposed
(c) Sensitive (d) Excused
88. Select the option that will improve the underlined part of the given sentence. In case no improvement is needed, select 'No improvement required'. Having white hair make him look wise.
(a) making him lood (b) makes him look
(c) make him looking (d) No improvement required

SCHOLARS ACADEMY

89. Select the option that is closest in meaning to the underlined idiom/phrase in the given sentence. My room is always spick and span.
- (a) used and dirty (b) neat and tidy
(c) bright and well-ventilated (d) dark and messy
90. Select the most appropriate SYNONYM of the given word. Adapt
- (a) Reject (b) Adjust
(c) Disturb (d) Neglect
91. Select the most appropriate synonym of the given word. Level (adj)
- (a) Rough (b) Matched
(c) Frequent (d) Flat
92. Select the most appropriate option to fill in the blank. The leader is popular because of his _____ and devotion towards the cause of the poor villagers.
- (a) dynamism (b) listlessness
(c) demonism (d) decoction
93. Select the most appropriate option that can substitute the underlined segment in the given sentence. If there is no need to substitute it, select 'No substitution required'. Aparna will need a bigger bag than I will to pack her things.
- (a) No substitution required (b) a big bag than me
(c) bigger bag than I (d) a biggest bag than I
94. Select the INCORRECTLY spelt word.
- (a) Neccessary (b) Separate
(c) Ability (d) Definitely
95. Select the option that can be used as a one-word substitute for the given group of words. Detailed examination of something complex
- (a) Experiment (b) Invention
(c) Analysis (d) Discovery
96. The following sentence has been split into four segments. Identify the segment that contains a grammatical error. The teacher/handled the/mischief child/quite easily.
- (a) quite easily (b) mischief child
(c) The teacher (d) handled the
97. Select the option that can be used as a one- word substitute for the given froup of words. An edged, blanded weapon that is longer than a knife
- (a) Spear (b) Sword
(c) Rifle (d) Arrow
98. The following sentence has been split into four segments. Identify the segment that contains a grammatical error. A mother has / a greatest / influence / over the children.

- (a) A mother has (b) over the children
(c) influence (d) a greatest

99. Select the most appropriate option to fill in the blank. The latch is _____, I cannot open the window.

- (a) crammed (b) congested
(c) packed (d) jammed

100. The following sentence has been split into four segments. Identify the segment that contains a grammatical error. As the moon came up / over Himalayan peaks I saw / that the road looked /like a ribbon of moonlight.

- (a) over Himalayan peaks I (b) As the moon came up saw
(c) that the road looked (d) like a ribbon of moonlight

Basic Familiarity

101. निम्नलिखित में से किसे पवित्र जिला माना जाता है?
Which of the following is considered a holy district?
- (a) पंचकुला Panchkula (b) कुरूक्षेत्र Kurukshetra
(c) अंबाला Ambala (d) हिसार Hisar
102. पानीपत की दूसरी लड़ाई किसने जीती?
Who won the second battle of Panipat?
- (a) Akbar अकबर (b) Hemu हेमू
(c) Babur बाबर (d) Ahmad Shah Abdali अहमद शाह अब्दाली
103. किलफोर्ड के बाद निम्नलिखित में से किसने मेवात पर आक्रमण किया?
Who among the following attacked Mewat after Kilford?
- (a) जनरल शॉवर्स General (b) मैकनील McNeil
Showers
(c) कर्नल जेरार्ड Colonel (d) ये सभी All of them
Gerard
104. हरियाणा में मैदानी क्षेत्र किससे बना है?
The plain area in Haryana is made up of?
- (a) रेत sand (b) गाद silt
(c) कठोर बजरी hard gravel (d) ये सभी all of them
105. दमदमा झील जिले में स्थित है।
Damdama Lake is located in district.
- (a) फरीदाबाद Faridabad (b) गुरुग्राम Gurugram
(c) रोहतक Rohtak (d) हिसार Hisar
106. हरियाणा के किस जिले में पर्यावरण न्यायालय स्थापित किया गया है, जो पर्यावरण अधिनियमों के तहत मामलों की सुनवाई करता है?
In which district of Haryana, Environment Court has been established, which deals with cases under Environmental Acts?
- (a) गुरुग्राम G (b) रोहतक

SCHOLARS ACADEMY

- urugram Rohtak
(c) हिसार (d) भिवानी
Hisar Bhiwani
107. हरियाणा में सर्वाधिक क्षेत्र में किस फल की खेती की जाती है?
Which fruit is cultivated in maximum area in Haryana?
(a) आम Mango (b) अमरूद Guava
(c) आंवला Amla (d) संतरा Orange
108. हरियाणा के किस भाग में ट्यूबवेलों की सहायता से फव्वारों द्वारा सिंचाई की जाती है?
Which part of Haryana is irrigated by fountains with the help of tube wells?
(a) मध्यवर्ती भाग Intermediate part (b) रेतीला भाग sandy part
(c) उत्तर-पूर्वी भाग North-Eastern part (d) उपरोक्त सभी All of the above
109. काकरोई सूक्ष्म जलविद्युत परियोजना का कार्य कब प्रारम्भ हुआ?
When did the work of Kakaroi Micro Hydroelectric Project started?
(a) वर्ष 1960 the year 1960 (b) वर्ष 1976 the year 1976
(c) वर्ष 1987 year 1987 (d) वर्ष 1992 year 1992
110. उत्तर रेलवे जोन का मुख्यालय कहाँ स्थित है?
Where is the headquarters of Northern Railway Zone located?
(a) करनाल Karnal (b) पलवल Palwal
(c) अंबाला Ambala (d) गुरूग्राम Gurugram
111. विधानसभा अध्यक्ष के रूप में उनका कार्यकाल सबसे लंबा रहा
He had the longest tenure as Speaker of the Legislative Assembly
(a) बनारसी दास गुप्ता Banarasi Das Gupta (b) सरदार तारा सिंह Sardar Tara Singh
(c) ईश्वर सिंह Ishwar Singh (d) सतबीर सिंह कादियान Satbir Singh Kadian
112. हरियाणा ने पंचायती राज चुनाव में शैक्षणिक योग्यता कब से लागू की?
From when did Haryana implement educational qualification in Panchayati Raj elections?
(a) 7 सितंबर 2015 7th September 2015 (b) 6 दिसंबर 2015 6th December 2015
(c) 7 सितंबर 2016 7th September, 2016 (d) 2 नवंबर 2017 2nd November, 2017
113. महर्षि दयानंद विश्वविद्यालय की स्थापना रोहतक में किस वर्ष हुई थी? In which year Maharishi Dayanand University was established in Rohtak?
(a) वर्ष 1972 year 1972 (b) वर्ष 1976 year 1976
(c) वर्ष 1970 year 1970 (d) वर्ष 1974 year 1974
114. कामदेव के जन्मदिन के रूप में कौन सा त्योहार मनाया जाता है? Which festival is celebrated as the birthday of Kamadeva?
(a) मकर संक्रांति Makar Sankranti (b) बसंत पंचमी Basant Panchami
- (c) बैसाखी crutches (d) पैर feet
115. निम्नलिखित में से कौन सा आभूषण चांदी से बना है? Which of the following jewelry is made of silver?
(a) न्योरी Nyori (b) पगपैन Pagpan
(c) कठोर गोले hard shells (d) ये सभी all of them
116. लाट की मस्जिद कहाँ स्थित है? Where is 'Laat Ki Masjid' located?
(a) हिसार Hisar (b) रोहतक Rohtak
(c) अंबाला Ambala (d) भिवानी Bhiwani
117. निम्नलिखित में से किस तीर्थ को शास्त्र घाट के नाम से भी जाना जाता है? Which of the following pilgrimage is also known as Shastra Ghat?
(a) कपालमोचन गुरुद्वारा Gurdwara Kapalmochan (b) सूर्यकुंड Suryakund
(c) जामनी Jamni (d) बारह Barah
118. बाणभट्ट निम्नलिखित में से किस राजा के दरबार में कवि थे? Banabhatta was a poet in the court of which of the following kings?
(a) हर्ष वर्धन Harsh Vardhan (b) राज्यवर्धन Rajyavardhan
(c) प्रभाकर वर्धन (d) चंद्रगुप्त Chandragupta Prabhakarvardhana
119. 1860 ई. तक हरियाणा में एंग्लो मिडिल स्कूल कहाँ था? Where was the Anglo Middle School in Haryana till 1860 AD?
(a) हिसार Hisar (b) भिवानी Bhiwani
(c) ए' और 'बी' दोनों 'a' and 'b' both (d) उपरोक्त में से कोई नहीं none of the above
120. विकास यादव का नाम किस खेल से जुड़ा है? Vikas Yadav's name is associated with which sport?
(a) कुश्ती Wrestling (b) गोला फेंक Shot Throw
(c) मुक्केबाजी Boxing (d) पोल वोल्ट Pole Volt
121. एरिकसन के अनुसार 12 से 20 वर्ष के आयु वर्ग के व्यक्ति की मनोसामाजिक अवस्था होती है: According to Erickson the psychosocial stage of a person in the age group of 12 to 20 is
(a) नेतृत्व बनाम अपराधबोध Initiative Vs Guilt (b) पहचान बनाम पहचान भ्रम Identity Vs Identity confusion
(c) अंतरंगता बनाम अलगाव Intimacy Vs Isolation (d) विश्वास बनाम अविश्वास Trust Vs Mistrust
122. लड़कियों के पितृ प्रेमभाव को फ्रायड ने किससे सम्बोधित किया है? What did Freud consider the paternal love of girls?
(a) ओडीपस भावना ग्रन्थि Oedipus complex (b) इलेक्ट्रा भावना ग्रन्थि Electra complex
(c) स्वप्रेम भावना Narcissism (d) निर्भरता की भावना Feeling of dependence
123. सूझ/अंतर्दृष्टि द्वारा अधिगम' मनोविज्ञान के किस संप्रदाय की देन है?

which school of psychology introduced the concept of learning by insight?

- (a) संज्ञात्मक विचारधारा/संप्रदाय cognitive school
(b) व्यवहारवाद संप्रदाय behaviourist school
(c) गेस्टाल्ट संप्रदाय gestalt school
(d) प्रकार्यवाद functionalism school

124. किन परीक्षणों में ऐसे प्रश्न या कार्य शामिल होते हैं जो यह दिखाने वाले होते हैं कि किसी व्यक्ति के पास मापी गई कितनी क्षमताएँ हैं? Which tests include questions or tasks that are supposed to show how many measured abilities a person has?

- (a) मंदता परीक्षण Retardation Test
(b) सरलता परीक्षण Simplicity Test
(c) घनत्व परीक्षण Density Test
(d) बुद्धि परीक्षण Intelligence Test

125. हममें होनेवाले अवांछनीय लक्षणों को दूसरों पर आरोपित करना इस प्रकार ररक्षात्मक प्रतिक्रिया है -

The defense mechanism in which we attribute our undesirable qualities to others is called

- (a) तादात्म्यकरण Identification
(b) प्रक्षेपण Projection
(c) विस्थापन Displacement
(d) प्रतीपगमन Regression

126. व्यक्तित्व आकलन की प्रक्षेपी तकनीकों में _____ व्यवहार का मूल्यांकन किया जाता है। In projective techniques of personality assessment, _____ behaviour is evaluated.

- (a) अपराधी criminal
(b) सचेत conscious
(c) प्रकट overt
(d) अप्रकट covert

127. रेवेन प्रोग्रेसिव मैट्रिस एक है-

Raven's standard progressive matrices is a

- (a) बुद्धि का व्यक्तिगत परीक्षण Individual test of intelligence
(b) बुद्धि का समूह परीक्षण Group test of intelligence
(c) बुद्धि का प्रदर्शन परीक्षण Performance test of intelligence
(d) बुद्धि का मौखिक परीक्षण Verbal test of intelligence

128. राज्यों और उनसे संबंधित राजधानियों के नामों को सीखना किस के अंतर्गत आता है?

Learning the names of the states and their corresponding capital cities comes under

- (a) संकल्पनात्मक अधिगम Conceptual learning
(b) प्रक्रियात्मक अधिगम Procedural learning
(c) सामान्यीकरण अधिगम Generalisation learning
(d) तथ्यात्मक अधिगम Factual learning

129. निम्नलिखित में से कौन एक किशोर की संज्ञानात्मक क्षमता पर महत्वपूर्ण प्रभाव डाल सकता है?

Which of the following can have a significant impact on the cognitive competence of an adolescent?

- (a) स्थितियों पर प्रतिक्रिया Response to situations
(b) मनोरंजक गतिविधियाँ Recreational activities
(c) माता-पिता के साथ संबंध Relationship with parents
(d) कक्षाओं में तर्क Reasoning in classrooms

130. इस प्रकार की बुद्धि वाले लोगों को 'सामाजिक बुद्धिमान' कहा जाता है। People having this type of intelligence are called 'Social smart'

- (a) स्थानिक बुद्धि Spatial intelligence
(b) अंतर्व्यक्तिक बुद्धि Interpersonal intelligence
(c) शारीरिक गतिज बुद्धि Bodily kinaesthetic intelligence
(d) अंतराव्यक्तिक बुद्धि Intrapersonal intelligence

131. If student wears some odd dress and attends your class, you will do यदि छात्र कुछ अजीब पोशाक पहनता है और आपकी कक्षा में जाता है, तो आप करेंगे

- (a) ask the student not to attend the class छात्र को कक्षा में उपस्थित न होने के लिए कहें
(b) make a joke of him उसका मजाक बनाओ
(c) communicate him not to wear such clothes उसे ऐसे कपड़े न पहनने के लिए संवाद करें
(d) not give any attention on it उस पर कोई ध्यान न दें

132. As a teacher , you always say that students should play game also. Why do you say so ? एक शिक्षक के रूप में, आप हमेशा कहते हैं कि छात्रों को खेल भी खेलना चाहिए। आप ऐसा क्यों कहते हैं ?

- (a) It makes them physically strong यह उन्हें शारीरिक रूप से मजबूत बनाता है
(b) It makes work easier for teacher यह शिक्षक के लिए काम को आसान बनाता है
(c) It helps in passing time यह समय गुजरने में मदद करता है
(d) It develops co - operation and physical balance यह सह-संचालन और शारीरिक संतुलन विकसित करता है

133. You are given the topic of social value among student . How will you teach them ? आपको छात्र के बीच सामाजिक मूल्य का विषय दिया जाता है। आप उन्हें कैसे सिखाएंगे?

- (a) By telling them about good people उन्हें अच्छे लोगों के बारे में बताकर
(b) By developing sense of sense of discipline अनुशासन की भावना विकसित करके
(c) By behaving ideally आदर्श व्यवहार करके
(d) By telling them good stories उन्हें अच्छी कहानियाँ सुनाकर

134. While teaching the concept of circle which one of the following would be the best way to do it ? सर्कल की अवधारणा को पढ़ाने के दौरान निम्नलिखित में से कौन सा सबसे अच्छा तरीका होगा?

- (a) Present a picture of circle वृत्त का चित्र प्रस्तुत करें
(b) To draw a picture of circle on blackboard ब्लैकबोर्ड पर वृत्त का चित्र बनाना

SCHOLARS ACADEMY

- (c) Give definition of circle only सर्कल की परिभाषा ही दें
(d) Present pictures of circle of various sizes विभिन्न आकारों के सर्कल की तस्वीरें पेश करें
135. If you are a teacher, what will you do in leisure time ? यदि आप एक शिक्षक हैं, तो आप खाली समय में क्या करेंगे?
(a) Take rest in staff room स्टाफ रूम में आराम करें
(b) Read magazines in the library पुस्तकालय में पत्रिकाओं को पढ़ें
(c) Talk to your colleagues अपने सहयोगियों से बात करें
(d) Check home work of students छात्रों के गृह कार्य की जाँच करें
136. Learning which involves motor organ is called सीखना जिसमें मोटर अंग शामिल होता है, कहा जाता है
(a) sensory learning संवेदी सीखने
(b) motor leaning मोटर झुक जाना
(c) verbal learning मौखिक सीख
(d) sensory motor learning संवेदी मोटर शिक्षा
137. A teacher learns maximum from the एक शिक्षक अधिकतम से सीखता है
(a) students छात्रों
(b) internet इंटरनेट
(c) books पुस्तकें
(d) discussion विचार-विमर्श
138. When a child 'fails', it means जब कोई बच्चा 'फेल' होता है, तो इसका मतलब है
(a) the child is not fit for studies रिवट ट्यूशन बच्चा ट्यूशन पढ़ते पढ़ाई के लिए फिट नहीं है
(b) the child has not memori sed the answers बच्चे ने उत्तरों को ठीक से याद नहीं किया है
(c) the child should have taken p बच्चे को पी लेना चाहिए था
(d) the system has failed सिस्टम विफल हो गया है
139. In the context of education, socialisation means शिक्षा के संदर्भ में, समाजीकरण का मतलब है
(a) always following social norms हमेशा सामाजिक मानदंडों का पालन करना
(b) creating one's own social norms अपने स्वयं के सामाजिक मानदंडों का निर्माण
(c) respecting elders in society समाज में बड़ों का सम्मान करना
(d) adapting and adjusting to social environment सामाजिक वातावरण में अनुकूलन और समायोजन
140. When a child with a disability first comes to school, the teacher should जब विकलांगता वाला बच्चा पहली बार स्कूल में आता है, तो शिक्षक को चाहिए
(a) conduct an admission test प्रवेश परीक्षा आयोजित करें
(b) refer the child to a special school according to disability विकलांगता के अनुसार एक विशेष स्कूल में बच्चे को देखें
(c) secludes him from other students उसे अन्य छात्रों से अलग करता है
(d) discuss with the child's parents to evolve collaborative plans सहयोगात्मक योजनाओं को विकसित करने के लिए बच्चे के माता-पिता के साथ चर्चा करें
141. Which of the following is not included in the educational system? निम्नलिखित में से कौन शैक्षिक प्रणाली में शामिल नहीं है?
(a) School स्कूल
(b) Family परिवार
(c) Parents माता-पिता
(d) None of these इनमें से कोई नहीं
142. Rule of learning is सीखने का नियम है
(a) rule of practice अभ्यास का नियम
(b) rule of continuity निरंतरता का नियम
(c) Both 1 and 2 दोनों 1 और 2
(d) None of these इनमें से कोई नहीं
143. Which of the following describes the best way to deal, with at primary level? निम्नलिखित में से कौन प्राथमिक स्तर पर, सौदा करने का सबसे अच्छा तरीका बताता है?
(a) Picturesque book सुरम्य पुस्तक
(b) Story telling method कहानी कहने की विधि
(c) Teaching methods to suit disability: विकलांगता के लिए शिक्षण विधियाँ:
(d) Activity work गतिविधि का काम
144. Which is considered as the most important quality of a teacher at primary level? प्राथमिक स्तर पर शिक्षक का सबसे महत्वपूर्ण गुण कौन सा माना जाता है?
(a) Eagerness to teach सिखाने की उत्सुकता
(b) Patience and perseverance धैर्य और दृढ़ता
(c) Competence in teaching methods शिक्षण विधियों में योग्यता
(d) Strict and discipline कड़ा और अनुशासन
145. Which is the least important factor in teaching? शिक्षण में सबसे कम महत्वपूर्ण कारक कौन सा है?
(a) Punishing the students छात्रों को सजा देना
(b) Maintaining discipline in the class कक्षा में अनुशासन बनाए रखना
(c) Lecturing in impressive way प्रभावशाली तरीके से व्याख्यान
(d) Drawing sketches and diagrams on the black-board ब्लैक-बोर्ड पर रेखाचित्र और आरेख खींचना
146. What will you do for inculcating the value of cooperation among children ? बच्चों के बीच सहयोग के मूल्य को बढ़ाने के लिए आप क्या करेंगे?
(a) All teacher will work together सभी शिक्षक मिलकर काम करेंगे
(b) Present and example related to this इससे संबंधित उदाहरण और उदाहरण

SCHOLARS ACADEMY

- (c) Organise co - curricular activities in school स्कूल में सह पाठ्यक्रम गतिविधियों को व्यवस्थित करें
- (d) All of the above ऊपर के सभी
- 147.** Which of the following can be taken as a reflection of meaningful learning ?
निम्नलिखित में से किसे सार्थक सीखने के प्रतिबिंब के रूप में लिया जा सकता है?
- (a) A good score in the examination परीक्षा में एक अच्छा स्कोर
- (b) A high degree of retention प्रतिधारण की एक उच्च डिग्री
- (c) The capability of transferring using learning in different situations विभिन्न स्थितियों में सीखने का उपयोग करके स्थानांतरित करने की क्षमता
- (d) The ability to recall as and when needed जरूरत पड़ने पर याद करने की क्षमता
- 148.** A student comes late in your class. Then , you will do आपकी कक्षा में एक छात्र देर से आता है। फिर, आप करेंगे
- (a) do nothing कुछ मत करो
- (b) say thanks to him उसे धन्यवाद कहें
- (c) inform to parents माता-पिता को सूचित करें
- (d) try to know the reason कारण जानने की कोशिश करें
- 149.** The best education programme is that which is according to the सबसे अच्छा शिक्षा कार्यक्रम वह है जो उसके अनुसार है
- (a) need of student छात्र की जरूरत
- (b) ability of the student छात्र की क्षमता
- (c) interest of student छात्र की रुचि
- (d) All of these ये सभी
- 150.** While dealing with juvenile delinquents, as a teacher, you should एक शिक्षक के रूप में, किशोर अपराधी से निपटने के दौरान आपको चाहिए
- (a) play them filthy jokes उन्हें गंदे चुटकुले खेलते हैं
- (b) talk to them frankly and guide and channelise them उनसे खुलकर बात करें और उन्हें गाइड और चैनलाइज़ करें
- (c) complain to the principle against them उनके खिलाफ सिद्धांत से शिकायत करें
- (d) None of the above इनमें से कोई भी नहीं
- 151.** In assessment , the weightage of formative, assessment is मूल्यांकन में, प्रारंभिक का मूल्यांकन, मूल्यांकन है
- (a) 33%
- (b) 40%
- (c) 45%
- (d) 60%
- 152.** A teacher in the class is कक्षा में एक शिक्षक है
- (a) president of the group
- (b) director of the group
- समूह का अध्यक्ष
- (c) leader and guide of the group नेता और समूह का मार्गदर्शक
- समूह के निदेशक
- (d) All of the above ऊपर के सभी
- 153.** While teaching a complex thing, which of the following will be the best way to do ?
एक जटिल बात सिखाते समय, निम्नलिखित में से कौन सा तरीका सबसे अच्छा होगा?
- (a) To use notes only केवल नोट्स का उपयोग करने के लिए
- (b) Present picture पेश है तस्वीर
- (c) Show a chart of human skeletal system मानव कंकाल प्रणाली का एक चार्ट दिखाएं
- (d) To organise a discussion. एक चर्चा आयोजित करने के लिए।
- 154.** Which of the following is not a cognition ?
निम्नलिखित में से कौन संज्ञान नहीं है?
- (a) retreat पीछे हटना
- (b) Anger गुस्सा
- (c) Fear डर
- (d) Hunger भूख
- 155.** Which of the following is not a factor of cognition ?
निम्नलिखित में से कौन संज्ञान का कारक नहीं है?
- (a) Knowledge ज्ञान
- (b) Rules नियम
- (c) Problem संकट
- (d) Disintegration विघटन
- 156.** Which of the following intelligence refers to the ability to adapt changing environment ?
निम्नलिखित में से कौन सी बुद्धि बदलते पर्यावरण को अनुकूलित करने की क्षमता को संदर्भित करती है?
- (a) Analytical विश्लेषणात्मक
- (b) Creative रचनात्मक
- (c) Practical व्यावहारिक
- (d) Logical तार्किक
- 157.** Teacher use aid to make learning more शिक्षक अधिक सीखने के लिए सहायता का उपयोग करते हैं
- (a) simple सरल
- (b) interesting दिलचस्प
- (c) easy आसान
- (d) dull कुंठित
- 158.** Effective teaching , by and large, is a function of प्रभावी शिक्षण, द्वारा और बड़े, का एक कार्य है
- (a) teacher's scholarship शिक्षक की छात्रवृत्ति
- (b) teacher's honesty शिक्षक की ईमानदारी
- (c) teacher's making students learn and understand शिक्षक बनाने वाले छात्र सीखते और समझते हैं
- (d) teacher's liking for the job of teaching अध्यापन के कार्य के लिए शिक्षक की पसंद
- 159.** The insight theory of learning is promoted by सीखने के अंतर्दृष्टि सिद्धांत को बढ़ावा दिया जाता है
- (a) Gestalt' theorists. गेस्टाल्ट के सिद्धांतकार।
- (b) Pavlov पावलोव
- (c) Jean Piaget जीन पियागेट
- (d) vygotsky वाइगोत्स्की
- 160.** In lower classes, play - way method of teaching is based on निम्न कक्षाओं में, खेलने का तरीका शिक्षण का तरीका है

SCHOLARS ACADEMY

- (a) theory of physical education Programes शारीरिक शिक्षा का सिद्धांत
(b) principles of methods of teaching शिक्षण के तरीकों के सिद्धांत
(c) psychological principles of development and growth. विकास और विकास के मनोवैज्ञानिक सिद्धांत।
(d) Sociological principles of teaching शिक्षण के समाजशास्त्रीय सिद्धांत
161. निम्नलिखित में से किसे एक प्रोजेक्टर सहायक-सामग्री नहीं माना जाता?
Which of the following is not considered a projector accessory?
(a) स्लाइड प्रोजेक्टर slide projector
(b) ब्लैक बोर्ड Blackboard
(c) ओवरहेड प्रोजेक्टर overhead projector
(d) एपिडियास्कोप (परिचित्रदर्शी) epidiascope
162. अनुसंधान से पता चलता है कि हमारी पढ़ाई का दृश्य और श्रवण अंगों के माध्यम से ग्रहण किया जाता है-
Research shows that of our studies are received through visual and auditory organs -
(a) 60% (b) 85%
(c) 50% (d) 95%
163. शिक्षक के लिए शिक्षण संबंधी सहायक-सामग्री का उपयोग करते हैं-
Teachers use teaching aids for:
(a) छात्रों को प्रभावित करने to impress students
(b) शिक्षण को रोचक बनाने make learning interesting
(c) छात्रों को एकाग्रचित बनाने make students concentrate
(d) छात्रों के समझ स्तर के भीतर शिक्षण को रखने keeping teaching within the students' understanding level
164. जायंस तथा मार्शवेल (1980) ने विभिन्न उपलब्ध अध्यापन प्रतिरूपों को चार स्पष्ट वर्गों (समूहों) में बाँटा। निम्नलिखित में से कौन-सा वर्ग, उन वर्गों में से एक नहीं है?
Joyce and Marshwell (1980) divided the various available teaching models into four clear categories (groups).
Which of the following classes is not one of those classes?
(a) वैयक्तिक वर्ग Individual classes
(b) उदार अधिगम वर्ग liberal learning class
(c) व्यवहार रूपांतरण वर्ग Transaction conversion classes
(d) सूचना प्रक्रमण वर्ग Instruction processing class
165. अध्यापन के विषय में निम्नलिखित में से कौन-सा कथन सही नहीं है?
Which of the following statements about teaching is not correct?
(a) अध्यापन में यह भावना निहित होती है कि कोई कुछ न कुछ सीखता ही है
Teaching involves the feeling that one learns something.
(b) अध्यापन की यह विशेषता है कि अध्यापक और अध्येता के मध्य एक विशेष संबंध होता है
The specialty of teaching is that there is a special relationship between the teacher and the student.
(c) अध्यापन शिक्षा की एक आवश्यक शर्त तो होती है परंतु पर्याप्त नहीं
Teaching is a necessary condition of education but not sufficient.
(d) अध्यापन के परिणाम स्वरूप बच्चे अनिवार्यतः सीखते ही हैं
As a result of teaching, children inevitably learn.
166. सिक्स थिंकिंग हैट्स के अनुसार निम्नलिखित में से कौन-सा रंग भावनाओं, अंतर्ज्ञान, भावना पर केन्द्रित के लिए नियुक्त है?
According to "Six Thinking Hats" which of the following color emotions is employed to focus on intuition?
(a) लाल Red
(b) सफेद White
(c) पीला Yellow
(d) नीला Blue
167. जीवन की प्रक्रियाओं की अवहेलना करते हुए एक स्तर पर जीना का कारण बनता है।
To live at one level, disregarding the total process of life invites.....
(a) दुःख और विनाश Misery and destruction
(b) खुशी और पैसा Happiness and money
(c) महान ज्ञान Great knowledge
(d) आत्मज्ञान Enlightenment
168. निम्नलिखित में से कौन-सी अपसारी चिंतन को उत्प्रेरित करने की एक विधि नहीं है?
Which of the following is not a method to evoke divergent thinking?
(a) स्वतंत्र लेखन Independent writing
(b) मन अशांकन Performing mind calibration
(c) एक पत्रिका बनाना Making a magazine
(d) बुद्धिशीलता (ब्रेनस्टोरमिंग) Brainstorming
169. पियाजे के सिद्धांत के अनुसार बच्चे निम्नलिखित में से किस चरण में सोच सकते हैं?
According to Piaget, in which of the following stages can a child think abstractly ?
(a) ठोस संचालन चरण Concrete operations stage
(b) पूर्व-संचालन चरण Pre-operational stage
(c) औपचारिक संचालन चरण Formal operations stage
(d) संवेदी मोटर चरण Sensory motor stage
170. बच्चों का भाषा विकास-----से शुरू होता है।
The language development of the children begins from
(a) 2 वर्ष की आयु the age of 2 years
(b) 1 वर्ष की आयु the age of 1 year
(c) जन्म का रोना the birth's cry
(d) 5 वर्ष की आयु the age of 5 years
171. 'ब्रेल पद्धति' के बारे में पढ़ाने के बाद, विद्यार्थियों को दृष्टि विकलांग छात्रों के विद्यालय में ले जाया गया। यह विद्यार्थियों की सहायता करेगा-
After being taught about the 'Braille method', the students were taken to a school for visually handicapped students. It will help students to -

SCHOLARS ACADEMY

- (a) दोस्तों के साथ मजा और आनंद लेने में
having fun and enjoyment with friends
- (b) सभी प्रकार के विकलांग छात्रों के प्रति सम्मान विकसित करने में
To develop respect for students with all types of disabilities
- (c) कक्षा के अधिगम को वास्तविक जीवन परिस्थितियों के साथ जोड़ने में
Relating classroom learning to real life situations
- (d) दृष्टि विकलांग छात्रों के प्रति सकारात्मक अभिवृत्ति का विकास करने में
To develop positive attitude towards visually handicapped students

172. हस्तशिल्प की शिक्षा (Education of Handicraft) दी जानी चाहिए—
Education of Handicraft should be given –

- (a) प्रतिभावान बालक को
A gifted child
- (b) सृजनशील बालक को
to the creative child
- (c) पिछड़े बालक को
backward child
- (d) अपराधी बालक को
to the delinquent child

173. लोकप्रिय असामाजिक बच्चों को आम तौर पर क्यों ऐसा नाम दिया जाता है?

Why are popular antisocial children usually given this name?

- (a) अकादमिक और सामाजिक क्षमता दिखाने के लिए
To show academic and social ability
- (b) समकक्षों के साथ संवेदनशील होते हैं।
Are sensitive with peers.
- (c) एथलेटिक और शारीरिक रूप से सुगठित
athletic and physically fit
- (d) वयस्कों के अधिकार को चुनौती देना
challenging the authority of adults

174. एस.ई.एन. (SEN) का क्या अर्थ है?

S.E.N. What does (SEN) mean?

- (a) सोशल एजुकेशन स्टैंडर्ड
Social Education Standard
- (b) स्पेशल एजुकेशन नीड्स
Special Education Needs
- (c) सोशल एजुकेशन नीड्स
Social Education Needs
- (d) सोसाइटील एक्सेप्शनल नीड्स
Societal Exceptional Needs

175. सतत और व्यापक मूल्यांकन के अंतर्गत मूल्यांकित किए जाने वाले सामाजिक-व्यक्तिगत गुणों में, निम्नांकित में से क्या नहीं आता है?

Which of the following does not come among the social-personal qualities evaluated under continuous and comprehensive evaluation?

- (a) स्वच्छता
Cleanliness
- (b) चित्रकला
drawing
- (c) सहयोग
support
- (d) अनुशासन
Discipline

176. पाठांत प्रश्नों का सबसे उपयुक्त उपयोग है—

The most appropriate use of post-examination questions is—

- (a) परीक्षा के लिए प्रश्न सुझाना
suggest questions for exam
- (b) अध्याय से महत्वपूर्ण भागों की पहचान करना
Identifying important parts from the chapter
- (c) सीखे हुए को समझने में तथा
(d) विद्यार्थियों के लिए अध्याय का

अपने शब्दों में व्यक्त करने में विद्यार्थियों को सक्षम करना

To enable students to understand and express in their own words what they have learned

सारांश प्रस्तुत करने में शिक्षकों की सहायता करना

Helping teachers present chapter summaries for students

177. 'प्रयोग करना' आकलन का एक संकेतक है। निम्नलिखित में से कौन-सा प्रयोग करने सम्बन्धी संकेतक का आकलन करने का सबसे उपयुक्त तरीका है?

'To experiment' is an indicator of assessment. Which of the following is the most appropriate way to estimate a usability indicator?

- (a) सृजनात्मक लेखन
creative writing
- (b) निदर्शन/प्रदर्शन
demonstration/demonstration
- (c) हस्तपरक गतिविधि
Manual activity
- (d) चित्र-पठन
picture reading

178. एक शिक्षक शिक्षार्थियों को कुछ मानदण्ड देते हैं और कहते हैं कि वे उन पर आधारित अपनी परियोजना का आकलन करें। निम्नलिखित में से कौन-से आकलन के तरीके का प्रयोग शिक्षक द्वारा किया गया है?

A teacher gives some criteria to the learners and asks them to assess their project based on them. Which of the following assessment methods has been used by the teacher?

- (a) रचनात्मक आकलन (Formative assessment)
- (b) समकक्षी आकलन (Peer assessment)
- (c) स्व आकलन (Self assessment)
- (d) संकल्पनात्मक आकलन (Summative assessment)

179. 'समाजीकरण' शब्द का क्या अर्थ है?

What is the meaning of the word 'socialization'?

- (a) यह बातचीत की प्रक्रिया को संदर्भित करता है जिसके माध्यम से व्यक्ति, जिसमें वह पैदा हुआ है की सामाजिक समूह की आदतों, दृष्टिकोण, मूल्यों और मान्यताओं को सीखता है।
- (b) यह उस प्रक्रिया को संदर्भित करता है जिसमें कोई या कुछ बढ़ता या बदलता है और अधिक उन्नत हो जाता है।

It refers to the process of interaction through which the individual learns the habits, attitudes, values and beliefs of the social group into which he is born.

It refers to the process in which someone or something grows or changes and becomes more advanced.

- (c) यह लोगों के एक विशेष समूह की विशेषताओं और ज्ञान को संदर्भित करता है, जिसमें भाषा, धर्म, व्यंजन, सामाजिक आदतें, संगीत और कला शामिल हैं।
- (d) यह निर्देश या अध्ययन द्वारा प्राप्त ज्ञान या कौशल को संदर्भित करता है।

It refers to the characteristics and knowledge of a particular group of people, including language, religion,

SCHOLARS ACADEMY

cuisine, social habits, music, and art.

180. मध्यम स्तर स्कूल (मिडल लेवल स्कूल) में समाजीकरण से आप क्या समझते हैं?

What do you understand by socialization in middle level school?

- (a) सीखने के लिए कोई सख्त नियम नहीं है, और सीखने के तरीके से सीखना होता है।
There are no strict rules for learning, and learning happens as you learn.
- (b) शिक्षक बच्चों को अच्छी आदतें, नागरिक जिम्मेदारियों और समाज के साथ मिलकर रहना सीखाता है।
Teachers teach children good habits, civic responsibilities and living together with society.

(c) बच्चे वे कौशल सीखते हैं, जो भविष्य में सह-पाठ्यचर्या गतिविधियों में सक्रिय रूप से भाग लेने में उनकी सहायता करते हैं।
Children learn skills that help them to actively participate in co-curricular activities in the future.

(d) शिक्षक सहकर्मी समूह के साथ आपसी समझ को प्रोत्साहित करते हुए चर्चाओं और गतिविधियों का संचालन करके समाजीकरण में सुधार के अवसर प्रदान करता है।
The teacher provides opportunities to improve socialization by conducting discussions and activities encouraging mutual understanding with the peer group.

181. शैक्षिक दर्शन को इस रूप में परिभाषित किया जा सकता है-

Educational philosophy can be defined as-

- (a) छात्रों के लिए दिशानिर्देश
Guidelines for students
- (b) टीम द्वारा निर्धारित विश्वासों और मूल्यों का एक सेट
A set of beliefs and values set by the team
- (c) शिक्षा का अत्यधिक लक्ष्य
overarching goal of education
- (d) शिक्षा के सामान्य विचार
general ideas of education

182. प्लेटो के अनुसार, कला है-

According to Plato, art is-

- (a) एक कौशल या शिल्प
a skill or craft
- (b) कोई चीज नहीं, यह एक तरीका है।
It's not a thing, it's a way.
- (c) प्रकृति की एक प्रतिकृति
a replica of nature
- (d) एक झूठ जो हमें सच्चाई का एहसास देता है।
A lie that gives us a sense of the truth.

183. अव्यक्त अथवा अन्तर्निहित संदेश जो विद्यार्थियों को विद्यालय में प्राप्त होते हैं निम्नलिखित में से कौन-सी पाठ्यचर्या कहलाती है?

The latent or implicit messages that students receive in school are called which of the following curriculum?

- (a) सुनिश्चित पाठ्यचर्या
fixed curriculum
- (b) समेकित पाठ्यचर्या
integrated curriculum
- (c) प्रच्छन्न या गुप्त पाठ्यचर्या
hidden curriculum
- (d) कुण्डलित पाठ्यचर्या
coiled curriculum

184. पाठ्यचर्या के सन्दर्भ में निम्नलिखित में से कौन-सा कथन सही नहीं है?

Which of the following statements is not correct regarding curriculum?

- (a) पाठ्यचर्या का सम्बन्ध उस समस्त पाठ्यवस्तु से है, जो किसी शैक्षिक संस्था में पढ़ाई जानी है।
The scope of curriculum is wide.
- (b) पाठ्यचर्या का क्षेत्र व्यापक होता है।
Curriculum is related to the entire subject matter that is to be taught in an educational institution.

(c) पाठ्यचर्या विभिन्न अध्यापकों के लिए भिन्न-भिन्न होती है।
The curriculum is different for different teachers.

(d) पाठ्यचर्या आदेशात्मक होता है।
Curriculum is prescriptive.

185. _____ अवधारणा सभी के लिए यूनेस्को की वैश्विक शिक्षा अवसरों के लक्ष्यों को समायोजित कर सकती है, जबकि आनलाइन शिक्षा मोड तकनीकियाँ 21वीं सदी की शिक्षा को संबोधित कर सकती है।

_____The concept can accommodate the goals of UNESCO's Global Education Opportunities for All, while online education mode technologies can address 21st century education.

- (a) दूरस्थ शिक्षा
distance education
- (b) पत्राचार शिक्षा
correspondence education
- (c) मुक्त विश्वविद्यालय
open university
- (d) मुक्त एवं दूरस्थ शिक्षा
open and distance education

186. एनपीई (NPE) के अनुसार शिक्षा का सार और एक महत्वपूर्ण भूमिका है-

According to NPE the essence and an important role of education is-

- (a) उत्संस्करण
de-processing
- (b) राष्ट्रीय साक्षरता मिशन
National Literacy Mission
- (c) व्यावसायिक शिक्षा
vocational education
- (d) धार्मिक भूमिका
religious role

187. आपके प्रधानाचार्य ने आपको कहा कि कक्षा V के विद्यार्थियों को शैक्षिक अवलोकन यात्रा के लिए ले जाएँ। इस अवलोकन यात्रा को सार्थक बनाने के लिए आप अपनी योजना में क्या सम्मिलित करेंगे?

Your Principal asked you to take the students of Class V on an educational observation trip. What will you include in your plan to make this observation trip worthwhile?

- (a) जहाँ जाना हो उसके बारे में जानकारी प्राप्त करने और पढ़ने के लिए विद्यार्थियों को कहना
Asking students to read and find information about where to go
- (b) आनंद के लिए पर्याप्त भोजन और खेलौनों को साथ ले जाना
Bring along enough food and toys to enjoy

(c) यह सुनिश्चित करना कि विद्यार्थी अनुशासित रहें और उस स्थान का शांतिपूर्वक अवलोकन करें
To ensure that students remain disciplined and observe the place peacefully

(d) क्रियाकलापों की एक स्तरीकृत शीट उस स्थान के बारे में तैयार करना और प्रमाणिक तथा सार्थक अध्ययन के लिए उसे विद्यार्थियों के साथ यात्रा से पूर्व साझा करना

Preparing a stratified sheet of activities about the place and sharing it with students before the trip for authentic and meaningful learning.

188. प्राथमिक स्तर पर 'मानचित्रांकन' सिखाने से शिक्षार्थियों में निम्नलिखित में से किस कौशल को बढ़ावा मिलता है?
Teaching 'Mapping' at the primary level promotes which of the following skills in the learners?
- (a) गणनाएँ और अनुमान Calculations and Estimates
(b) माप के अनुसार चित्रण करना drawing to scale
(c) सापेक्ष स्थिति की जानकारी relative position information
(d) साफ सुथरा रेखांकन clean drawing
189. 1986-87 में किए गए राष्ट्रीय प्रतिदर्श सर्वेक्षण के अनुसार, का नामांकन विद्यार्थियों के रूप में नहीं हो पाया क्योंकि उनकी प्राथमिकताएँ घर के कामों में शामिल होती थीं?
According to the National Sample Survey conducted in 1986-87, were not enrolled as students because their priorities included household chores. used to happen?
- (a) शहरी क्षेत्रों के पुरुषों और महिलाओं men and women of urban areas
(b) केवल शहरी क्षेत्रों के पुरुषों Only men from urban areas
(c) केवल ग्रामीण क्षेत्रों के महिलाओं Only women from rural areas
(d) शहरी और ग्रामीण क्षेत्रों के पुरुषों और महिलाओं Men and women from urban and rural areas
190. निम्न में से क्या 1978 में, शुरू किए गए राष्ट्रीय वयस्क शिक्षा कार्यक्रम {National Adult Education Programme (NAEP)} का उद्देश्य नहीं है?
Which of the following is not the objective of the National Adult Education Program (NAEP) launched in 1978?
- (a) रोजगार सृजन employment generation
(b) कार्यात्मक क्षमताओं को बढ़ावा देना promote functional abilities
(c) साक्षरता को बढ़ावा देना promote literacy
(d) जागरूकता को बढ़ावा देना promote awareness
191. प्राथमिक स्कूल शिक्षक की प्रमुख जिम्मेदारी प्रभावी ढंग से संवाद करना है, ताकि- a. प्रबंधन से संबंधित मुद्दों के बारे में स्कूल प्रबंधन की कठिनाइयों और समस्याओं को सूचित करना b. माता-पिता के साथ प्रभावी और विश्वसनीय बंधन बनाने के लिए c. स्कूल और घर के बीच दो-तरफा माध्यम बनाने के लिए d. स्कूल कार्यक्रमों और छात्र प्रगति के बारे में परिवारों के साथ
The major responsibility of the primary school teacher is to communicate effectively, so that- a. To inform the difficulties and problems of the school management regarding management related issues. b. To build effective and trusting bond with parents c. To create a two-way medium between school and home d. With families about school programs and student progress
- (a) सभी सत्य है। All are true.
(b) a, c और d सत्य है। a, c and d are true.

- (c) b, c और d सत्य है। b, c and d are true.
(d) a, b और c सत्य है। a, b and c are true.

192. स्कूल में स्वस्थ शारीरिक वातावरण बनाने के लिए किसकी सहभागिता आवश्यक है?
Whose participation is necessary to create a healthy physical environment in the school?
- (a) शिक्षक, छात्र और समाज teachers, students and society
(b) स्कूल प्रशासक, माता-पिता, छात्र और स्वास्थ्य विशेषज्ञ School administrators, parents, students and health experts
(c) समुदाय नेता community leader
(d) स्वास्थ्य मंत्री Health Minister
193. शिक्षण अनुसंधान का उद्देश्य क्या है?
What is the purpose of teaching research?
- (a) प्रमुख समस्याओं को पहचानना जिनका समाधान करता है Identifying key problems that it solves
(b) शिक्षा प्रक्रिया के अंतर्गत नये तथ्य और सिद्धांतों का अनुसंधान करना To research new facts and principles within the education process.
(c) शिक्षा के उद्देश्यों को अभिमान करना to state the objectives of education
(d) छात्रों के मन बैठाने वाले मूल्यों को पहचाना Recognize the values that students inculcate
194. कक्षा VIII के किसी विद्यार्थी का यह कथन है, "हम पृथ्वी में रहते हैं और यह गोल है और यही कारण है कि कोलम्बस का जहाज अपने आरम्भिक बिन्दु पर लौट आया।" कक्षा VIII के विज्ञान शिक्षक के लिए इस पर प्रतिक्रिया के लिए सर्वोत्तम सलाह क्या होगी?
A student of class VIII says, "We live in the Earth and it is round and that is why Columbus's ship returned to its starting point." For a Class VIII Science Teacher's response to this What would be the best advice?
- (a) अन्तरिक्ष से लिए गए चित्रों को प्रस्तुत करके बच्चे की संकल्पना को चुनौती दीजिए और उसे यह समझने में सहायता कीजिए कि पृथ्वी की त्रिज्या कितनी अधिक बड़ी है Challenge the child's concept by presenting images taken from space and help him understand how large the Earth's radius is
(b) उसे यह स्पष्ट कीजिए कि यद्यपि पृथ्वी गेंद की भाँति गोल है, परन्तु यह तश्तरी (प्लेट) की भाँति वृत्ताकार प्रतीत होती है Make it clear to him that although the Earth is round like a ball, it appears circular like a plate.
(c) इस कथन को स्वीकार कर लिया जाए, क्योंकि यह बच्चे की संकल्पना को इंगित करता है, जिसे आदर दिया जाना चाहिए This statement should be accepted because it indicates the concept of the child, which should be respected
(d) इस कथन का निराकरण करिए और बच्चे से कहिए कि पृथ्वी ग्लोब की भाँति है और हम गोल पृथ्वी की सतह पर रहते हैं Solve this statement and tell the child that the earth is like a globe and we live on the surface of the round earth.

SCHOLARS ACADEMY

195. S.st में सारांशित मूल्यांकन (Summative assessment) निम्नलिखित के लिए अनुपयुक्त है—
Summative assessment in S.st is inappropriate for –
- (a) ग्रेड का निर्धारण करना
determining grades
- (b) सत्र के अंत में मूल्यांकन
evaluation at the end of the session
- (c) सीखने का सारांशीकरण
summarizing learning
- (d) शिक्षण अधिगम प्रक्रिया के दौरान प्रगति का आकलन
Assessment of progress during teaching learning process
196. लोकतांत्रिक संस्थानों पर प्रोजेक्ट करके दिखाया जा सकता है कि—
By projecting on democratic institutions it can be shown that –
- (a) इनका विश्लेषण करके इनकी विशेषताओं और चुनौतियों को पहचाना जा सकता है
By analyzing these, their characteristics and challenges can be identified.
- (b) वे जैसे पाठ्य-पुस्तकों में वर्णित हैं उसी प्रकार के हैं
They are similar to those described in textbooks.
- (c) यह संस्थान प्रभावशाली नहीं है
This institute is not impressive
- (d) विद्यार्थियों को इन संस्थानों को जैसे हैं वैसे स्वीकार करना चाहिए
Students should accept these institutions as they are

197. वे कौन से कार्य है जिन्हें श्रोता सुनते हुए पूरा करते हैं?
I. सुनना तथा अनुमान लगाना
II. सुनना तथा रटना
What are those takes that listeners complete while listening?
I. Listen and guess
II. Listen and mug up
- (a) दोनों I और II
Both I and II
- (b) न तो I न ही II
Neither I nor II
- (c) केवल II
Only II
- (d) केवल I
Only I

198. निम्नलिखित में से कौन-सी सुनने की गतिविधियों में, एक शिक्षक कहानी कहता है और छात्र तथा शिक्षक क्रिया करते हैं?
In which of the following listening activities, a teacher tells the story and the pupils and teacher do the actions?
- (a) सुनना और करना
Listen and do
- (b) सुनना और बनाना
Listen and draw
- (c) कहानी बनाना
Mime stories
- (d) अपना हाथ बढ़ाना
Put up your hand

199. निष्पादन कला कैसे छात्रों की मदद करती है?
How does performing arts help students?
- (a) यह सिखाती है कि मंच पर प्रदर्शन कैसे करें।
It teaches how to perform on stage.
- (b) यह छात्रों का अंक बढ़ाती है।
It increases the marks of the students.
- (c) यह स्वयं अभिव्यक्ति, रचनात्मकता और छात्रों के
- (d) यह छात्रों को करियर विकल्प देता है।

बीच कौशल की खोज
विकसित करती है।

It gives career options to students.

It develops self-expression, creativity and exploration of skills among students.

200. शिक्षकों के लिए सेवाकालीन प्रशिक्षण किस लिए डिजाइन किया जाता है?
What is in-service training for teachers designed for?
- (a) शिक्षा की बढ़ती जरूरतों के लिए।
For the increasing needs of education.
- (b) पेशेवर कौशल, ज्ञान और रुचि का उन्नयन के लिए।
To upgrade professional skills, knowledge and interest.
- (c) स्कूल सिस्टम और शैक्षिक उद्यम का जनशक्ति विकास के लिए।
For manpower development of school system and educational enterprise.
- (d) नौकरी की संतुष्टि और करियर की संभावना में वृद्धि के लिए।
To increase job satisfaction and career prospects.