

DO NOT OPEN THE SEAL OF THE BOOKLET UNTIL YOU ARE TOLD TO DO SO

EXAM ID. - 10257

# DSSSB

## TEST SERIES

DATE - \_\_/\_\_/\_\_

DAY -

INSTRUCTION FOR CANDIDATE

उम्मीदवारों के लिए अनुदेश

TEST SERIES NO.

A – 107

QUESTION – 200

MARKS – 200

NEGATIVE MARK – 0.25

DURATION – 120 MIN.

- केवल काले या नीले रंग की स्याही वाले बॉल पेन का ही उपयोग करें
- परीक्षा प्रारंभ होते ही आप इस प्रश्न पुस्तिका की जाँच अवश्य कर ले तथा यदि इसमें कोई बिना छपा कटा-फटा या आंशिक छपा हुआ पृष्ठ अथवा प्रश्न हो, तो इसे अभिजागर के माध्यम से सही प्रश्न पुस्तिका से बदल लीजिए।
- इस प्रश्न पुस्तिका में कुल 200 प्रश्न हैं।
- यह एक वस्तुनिष्ठ परीक्षा है, जिसमें प्रत्येक प्रश्न के उत्तर के लिए चार विकल्प दिए गए हैं, आपको इन चार विकल्पों में से सही उत्तर वाले एक ही विकल्प को चुनना है।
- सभी प्रश्नों के उत्तर अलग अलग से दिए गए उत्तर-पत्रक पर ही अंकित करने हैं।

- उत्तर-पत्रक को भरने हेतु निर्देश उत्तर-पत्रक के पृष्ठ भाग पर अंकित हैं, जिन्हें उत्तर-पत्रक को भरने से पूर्व ध्यान से पढ़ ले।
- इस प्रश्न पुस्तिका में रफ-कार्य के लिए खाली पृष्ठ उपलब्ध हैं।
- परीक्षा समाप्त होने से पूर्व परीक्षार्थी कक्ष से बाहर नहीं जा सकते हैं।
- परीक्षा समाप्त होने के पश्चात् आप उत्तर-पत्रक की ORIGINAL COPY को अभिजागर के पास जमा कराकर उनकी अनुमति से ही बाहर जा सकते हैं।
- परीक्षा समाप्त होने पर प्रश्न पुस्तिका एवं उत्तर-पत्रक की Candidate's Copy को अपने साथ ले जाने की अनुमति है।
- प्रत्येक सही उत्तर पर 1 अंक प्राप्त होगा तथा प्रत्येक गलत उत्तर पर 0.25 अंक काटा जाएगा।

# SCHOLARS ACADEMY

SSC | IBPS | NDA | RAILWAY | COMMERCE

Add : H-81, Ind floor, South Extension I, Block H, New Delhi, Delhi 110049

MOB:- 01141676717, 9312712114

## General Awareness

1. निम्नलिखित में से किसे 'उस बिंदु के रूप में निर्धारित किया गया है जहां संतुलित मूल्य के साथ किसी उत्पाद हेतु आपूर्ति, मांग Which of the following has been determined as 'the point where supply and demand for a product meet with equilibrium price?'

- |                                               |                                        |
|-----------------------------------------------|----------------------------------------|
| (a) मांग प्रत्यास्थता<br>elasticity of demand | (b) आपूर्ति वक्र<br>supply curve       |
| (c) मांग वक्र<br>demand curve                 | (d) बाजार संतुलन<br>market equilibrium |

2. निम्नलिखित में से किस फसल के उत्पादन के लिए प्रति हेक्टेयर अधिकतम पानी की आवश्यकता होती है? For the production of which of the following crops, maximum water is required per hectare?

- |                        |                           |
|------------------------|---------------------------|
| (a) आलू<br>Potato      | (b) सूरजमुखी<br>Sunflower |
| (c) गन्ना<br>Sugarcane | (d) कपास<br>Cotton        |

3. — का वंश नाम कुकुर्बिता है। The genus name of — is Cucurbita.

- |                       |                     |
|-----------------------|---------------------|
| (a) कद्दू<br>Pumpkin  | (b) आलू<br>Potato   |
| (c) बैंगन<br>Eggplant | (d) टमाटर<br>Tomato |

4. 'लाइफ मंत्रास' — द्वारा लिखित एक पुस्तक है। 'Life Mantras' is a book written by —.

- |                                     |                                            |
|-------------------------------------|--------------------------------------------|
| (a) रामलिंगा राजू<br>Ramalinga Raju | (b) सुब्रत रॉय सहारा<br>Subrata Roy Sahara |
| (c) नरेश गोयल<br>Naresh Goyal       | (d) सुभाष चंद्र<br>Subhash Chandra         |

5. भारतीय संविधान का निम्नलिखित में से कौन सा अनुच्छेद, राज्य को अंतरराष्ट्रीय शांति और सुरक्षा की अभिवृद्धि का निर्देश देता है? Which of the following articles of the Indian Constitution directs the State to promote international peace and security?

- |                               |                               |
|-------------------------------|-------------------------------|
| (a) अनुच्छेद 48<br>Article 48 | (b) अनुच्छेद 51<br>Article 51 |
| (c) अनुच्छेद 50<br>Article 50 | (d) अनुच्छेद 40<br>Article 40 |

6. पानीपत की तीसरी लड़ाई — को लड़ी गई थी। The Third Battle of Panipat was fought on —.

- |                                       |                                     |
|---------------------------------------|-------------------------------------|
| (a) 14 जनवरी 1761<br>14 January 1761  | (b) 31 अगस्त 1796<br>31 August 1796 |
| (c) 26 नवंबर 1773<br>26 November 1773 | (d) 8 अप्रैल 1782<br>8 April 1782   |

7. भारतीय रिजर्व बैंक के आधिकारिक चिन्ह में — शामिल है। The official symbol of the Reserve Bank of India consists of —.

- |                   |                   |
|-------------------|-------------------|
| (a) ताड़ का वृक्ष | (b) पीपल का वृक्ष |
|-------------------|-------------------|

- |                                 |                                  |
|---------------------------------|----------------------------------|
| Palm tree                       | peepal tree                      |
| (c) गुलाब का वृक्ष<br>rose tree | (d) बरगद का वृक्ष<br>Banyan tree |

8. किन्नौर में हंगरंग घाटी के शैलखार और चांगो के साथ स्पीति घाटी के अंतिम दक्षिण-पूर्वी छोर को निम्नलिखित में से कौन-सा दर्रा Which of the following passes connects the last south-eastern end of Spiti Valley with Shaillkhar and Chango of Hangrang Valley in Kinnaur?

- |                                 |                           |
|---------------------------------|---------------------------|
| (a) सिरमा ला<br>Sirma la        | (b) कुली ला<br>kuli la    |
| (c) चक्षचन ला<br>chakshachan la | (d) लेपचा ला<br>lepcha la |

9. 1982 में, दिल्ली में आयोजित हुए एशियाई खेलों में शुभंकर के रूप में निम्न में से किसका उपयोग किया गया था? In 1982, which of the following was used as the mascot for the Asian Games held in Delhi?

- |                                                                             |                                               |
|-----------------------------------------------------------------------------|-----------------------------------------------|
| (a) भिन भिन - स्वर्ग का रंगीन पक्षी<br>Different - colorful birds of heaven | (b) अतुंग-बावन हिरण<br>atung-bawan deer       |
| (c) काका-एक सींग वाला जवन राइनो<br>Kaka-One Horned Javan Rhino              | (d) अप्पू-हाथी का बच्चा<br>appu-elephant baby |

10. बौद्ध त्यौहार 'सोंगक्रान' निम्न में से किस भारतीय राज्य में प्रमुखतः मनाया जाता है? The Buddhist festival 'Songkran' is mainly celebrated in which of the following Indian states?

- |                                         |                            |
|-----------------------------------------|----------------------------|
| (a) अरुणाचल प्रदेश<br>Arunachal Pradesh | (b) झारखंड<br>Jharkhand    |
| (c) हिमाचल प्रदेश<br>Himachal Pradesh   | (d) तमिलनाडु<br>Tamil Nadu |

11. निम्नलिखित में से किस राज्य में नाहरगढ़ किला स्थित है? In which of the following states is Nahargarh Fort located?

- |                               |                           |
|-------------------------------|---------------------------|
| (a) महाराष्ट्र<br>Maharashtra | (b) राजस्थान<br>Rajasthan |
| (c) पंजाब<br>Punjab           | (d) गुजरात<br>Gujarat     |

12. मुगल बादशाह अकबर की मृत्यु निम्नलिखित में से किस वर्ष में हुई थी? In which of the following years did Mughal emperor Akbar die?

- |          |          |
|----------|----------|
| (a) 1666 | (b) 1789 |
| (c) 1605 | (d) 1540 |

13. किसी देश का संविधान कई उद्देश्यों की पूर्ति करता है। निम्नलिखित में से कौन सा विकल्प उनमें से एक नहीं हो सकता? The constitution of a country serves many purposes. Which of the following options cannot be one of them?

- |                                                                                   |                                                        |
|-----------------------------------------------------------------------------------|--------------------------------------------------------|
| (a) यह उस नियमों और सिद्धांतों के समुच्चय के रूप में कार्य करता है, जिनके आधार पर | (b) यह हमें हमारे समाज की मौलिक प्रकृति उजागर करता है। |
|-----------------------------------------------------------------------------------|--------------------------------------------------------|

# SCHOLARS ACADEMY

- देश को नियंत्रित किया जा सकता है। It exposes us to the fundamental nature of our society.
- It serves as a set of rules and principles on the basis of which the country can be governed.
- (c) इसमें यह शामिल है कि देश को सरकार के अध्यक्षीय स्वरूप को बरकरार रखना चाहिए। (d) यह कुछ आदर्शों को सहमति देता है जिन्हें देश में बरकरार रखा जाना चाहिए। It gives consent to certain ideals that should be maintained in the country.
- This includes that the country should retain its presidential form of government.
14. पौधों के विभिन्न पहलुओं के वैज्ञानिक अध्ययन को \_\_\_\_\_ कहा जाता है। Scientific study of various aspects of plants is called
- (a) ब्रायोफाइट विज्ञान bryology (b) जंतु विज्ञान Zoology  
(c) वनस्पति विज्ञान botany (d) जैव प्रौद्योगिकी biotechnology
15. निम्नलिखित में से कौन-सी, ब्रिटिश भारत में नील की खेती से संबंधित एक प्रणाली थी? Which of the following was a system related to indigo cultivation in British India?
- (a) बाली Bali (b) निज Nij  
(c) वणिकपथ Vanikpath (d) जब्त Zabt
16. कान्स फिल्म फेस्टिवल 2023 किसे सर्वश्रेष्ठ अभिनेता के पुरस्कार से सम्मानित किया गया है? Who has been awarded the Best Actor Award at Cannes Film Festival 2023?
- (a) कोजी याकुशो Koji Yakusho (b) क्रिस इवान Chris Evans  
(c) रॉबर्ट डाउनी Robert Downey (d) जेनिफर लॉरेंस Jennifer Lawrence
17. कौन भारत के 83वें शतरंज ग्रैंडमास्टर बन गए हैं? Who has become the 83rd Chess Grandmaster of India?
- (a) पृथु गुप्ता Prithu Gupta (b) अधिबान भास्करन Adhiban Bhaskaran  
(c) आदित्य सामंत Aditya Samant (d) निहाल सरीन Nihal Sarin
18. कौन सा बैंक लगातार पांचवें वर्ष राज्य सार्वजनिक उपक्रमों और निगमों का प्रमुख ऋणदाता रहा है? Which bank has been the major lender to state public undertakings and corporations for the fifth consecutive year?
- (a) केनरा बैंक Canara Bank (b) पंजाब नेशनल बैंक Punjab National Bank  
(c) भारतीय स्टेट बैंक state Bank of India (d) बैंक ऑफ इंडिया Bank of India

19. फीफा ने किस देश के फुटबॉल महासंघ से तत्काल प्रभाव से बैन हटा दिया है? FIFA has lifted the ban from which country's football federation with immediate effect?
- (a) श्रीलंका Sri Lanka (b) पाकिस्तान Pakistan  
(c) जापान Japan (d) कनाडा Canada
20. हाल ही में महिला T20 वर्ल्ड कप 2023 का खिताब किस देश की टीम ने जीता? Which country's team recently won the title of Women's T20 World Cup 2023?
- (a) भारत India (b) इंग्लैंड England  
(c) दक्षिण अफ्रीका South Africa (d) ऑस्ट्रेलिया Australia

## Reasoning

21. जब निम्नलिखित आकृति को मोड़कर एक बॉक्स बनाया जाता है, तो कौन सा पृष्ठ, पृष्ठ R से सटा हुआ नहीं हो सकता है? When the following figure is folded to form a box, which page cannot be adjacent to page R?
- (a) P (b) T  
(c) U (d) S
22. उस विकल्प का चयन करें जो तीसरी संख्या से उसी प्रकार संबंधित है, जिस प्रकार दूसरी संख्या पहली संख्या से संबंधित है। 38 : 6 :: 83 : ? Select the option which is related to the third number in the same way as the second number is related to the first number. 38 : 6 :: 83 : ?
- (a) 10 (b) 8  
(c) 9 (d) 7
23. यदि 'H', 'x' को, 'J', '-' को, 'D', '+' को और 'Y', '÷' को निरूपित करता है, तो निम्नलिखित व्यंजक का मान क्या होगा? 105 J 29 H 96 Y 16 D 84 If 'H' represents 'x', 'J' represents '-', 'D' represents '+' and 'Y' represents '÷', then what will be the value of the following expression? 105 J 29 H 96 Y 16 D 84
- (a) 108 (b) 15  
(c) 78 (d) 69
24. 'गरम' का संबंध 'ठंडे' से ठीक उसी तरह है, जिस प्रकार 'भारी' का संबंध \_\_\_\_\_ से है। 'Hot' is related to 'cold' in the same way as 'heavy' is related to \_\_\_\_\_.
- (a) कम Less (b) हल्के mild  
(c) छोटे small (d) बड़े elder

25. एक निश्चित कूट भाषा में, RAMP को 3611332 के रूप में कूटबद्ध किया जाता है। उसी कूट भाषा में, DELL को किस रूप में कूटबद्ध किया जाएगा ?

In a certain code language, RAMP is coded as 3611332.  
In the same code language, how will DELL be coded?

- (a) 851214 (b) 852424  
(c) 851224 (d) 810224

26. चार अक्षर-समूह दिए गए हैं, जिनमें से तीन एक निश्चित तरीके से संगत हैं और एक असंगत है। असंगत अक्षर-समूह का चयन कीजिए।

Four letter-clusters have been given, out of which three are congruent in a certain way and one is incongruent.  
Select the incongruous letter-cluster.

- (a) WYCI (b) HJNT  
(c) BDHN (d) ZAEJ

27. किसी निश्चित कूट भाषा में, MELON को TCSKU के रूप में लिखा जाता है और CHAMP को JFHIW के रूप में लिखा जाता है। उसी कूट भाषा में FAMISH को किस रूप में लिखा जाएगा ?

In a certain code language, MELON is written as TCSKU and CHAMP is written as JFHIW. How will FAMISH be written in that code language?

- (a) MYTEZB (b) NZSFYH  
(c) MYTEBZ (d) NXTEBY

28. उस विकल्प का चयन करें, जो तीसरे अक्षर-समूह से उसी प्रकार संबंधित है, जिस प्रकार दूसरा अक्षर-समूह पहले अक्षर-समूह से संबंधित है। FELT : PAVP :: SACK : ?

Select the option which is related to the third letter-cluster in the same way as the second letter-cluster is related to the first letter-cluster. FELT : PAVP :: SACK : ?


- (a) CXNG (b) BWNH  
(c) CWMG (d) BXMH

29. एक परिवार में सात व्यक्ति हैं। अभय, मोनू का पुत्र है। निकुंज, अंजलि का पुत्र है। मेघा और श्रेया राकेश की पुत्रियाँ हैं, राकेश की शादी अंजलि से हुई है। मोनू की शादी श्रेया से हुई है। अभय का राकेश से क्या संबंध है?

There are seven persons in a family. Abhay is the son of Monu. Nikunj is the son of Anjali. Megha and Shreya are daughters of Rakesh, Rakesh is married to Anjali. Monu is married to Shreya. How is Abhay related to Rakesh?

- (a) बहनोई (b) नाती  
Brother-in-law grandson  
(c) पुत्र (d) दामाद  
Son son in law

30. उस वेन आरेख का चयन करें, जो निम्नलिखित वर्गों के बीच के संबंध को सबसे अच्छे तरीके से दर्शाता है। पुरुष, पिता, डॉक्टर  
Select the Venn diagram that best represents the relationship between the following classes. man, father, doctor

- (a)  (b)   
(c)  (d) 

31. एक निश्चित कूट भाषा में, DERMATOLOGY को 10 लिखा जाता है, और MAXIMUM को 6 लिखा जाता है। उसी कूट भाषा में NOCTURNAL को किस प्रकार लिखा जाएगा?

In a certain code language, DERMATOLOGY is written as 10, and MAXIMUM is written as 6. How will NOCTURNAL be written in that code language?

- (a) 9 (b) 8  
(c) 7 (d) 10

32. यदि 'x' और '÷' चिह्नों को तथा '6' और '5' अंकों को परस्पर बदल दिया जाए, तो निम्नलिखित व्यंजक का मान क्या होगा?

$$48 \times 5 + 9 \div 6 - (32 - 7) + 9$$

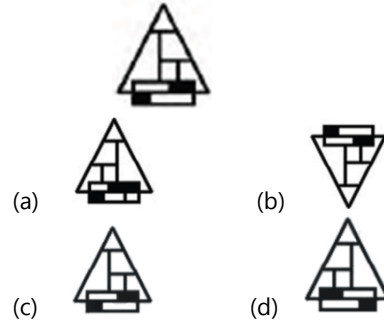
If the signs 'x' and '÷' and the digits '6' and '5' are interchanged, then what will be the value of the following expression?

$$48 \times 5 + 9 \div 6 - (32 - 7) + 9$$

- (a) 86 (b) 44  
(c) 57 (d) 37

33. दी गई आकृति के सही दर्पण प्रतिबिंब का चयन कीजिए, जबकि दर्पण को इसकी दाईं ओर रखा गया है।

Select the correct mirror image of the given figure, while the mirror is placed on its right side.



34. दिए गए विकल्पों में से उस संख्या का चयन कीजिए जो दी गई श्रृंखला में प्रश्न चिह्न (?) के स्थान पर प्रतिस्थापित हो सकती है।

$$42, 24, 34, 43, ?, 89$$

Select the number from the given options which can replace the question mark (?) in the given series.

$$42, 24, 34, 43, ?, 89$$

- (a) 53 (b) 78  
(c) 98 (d) 86



35. छह बच्चे आनंद, बद्री, छाया, ध्रुव, श्रीकर और उमेश उत्तर दिशा की ओर अभिमुख होकर एक पंक्ति में खड़े हैं। उमेश, श्रीकर के दाईं ओर दूसरे स्थान पर है और छाया के बाएं पड़ोस में खड़ा है। बद्री ठीक ध्रुव और छाया के बीच में है। ध्रुव के बाईं ओर चौथे स्थान पर कौन है?


Six children Anand, Badri, Chhaya, Dhruv, Shrikar and Umesh are standing in a line facing north. Umesh is second to the right of Shrikar and stands to the left neighbor of Chhaya. Badri is exactly between the pole and the shadow. Who is fourth to the left of Dhruv?


- (a) छाया (b) उमेश  
Shadow Umesh  
(c) श्रीकर (d) आनंद  
Shrikar happiness


36. स्थानक A से B के दो ट्रेन टिकटों और स्थानक A से C के तीन टिकटों का मूल्य 8,750 है, लेकिन स्थानक A से B के तीन टिकटों और स्थानक A से C के दो टिकटों का मूल्य 9,825 है। स्थानक A से स्थानक B और C का किराया कितना-कितना है?

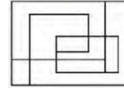
The cost of two train tickets from station A to B and three tickets from station A to C is 8,750, but the cost of three tickets from station A to B and two tickets from station A to C is 9,825. What is the fare from place A to place B and C?

- (a) 1,965 और 1,890  
1,965 and 1,890  
(c) 2,225 और 1,635  
2,225 and 1,635
- (b) 2,320 और 1,395  
2,320 and 1,395  
(d) 2,395 और 1,320  
2,395 and 1,320
37. दिए गए विकल्पों में से उस आकृति का चयन कीजिए जो निम्नांकित पैटर्न में प्रश्नवाचक चिह्न (?) के स्थान पर आ सकती है और पैटर्न को पूरा कर सकती है। (आकृति को घुमाने की अनुमति नहीं है)  
Select the figure from the given options which can come in place of the question mark (?) in the following pattern and complete the pattern. (Rotation of the shape is not allowed)
- 
- (a) 

(b) 

(c) 

(d) 
38. एक निश्चित कूट भाषा में, PLACE को QMZZD लिखा जाता है और BEAUTY को CDZTUZ लिखा जाता है। उसी कूट भाषा में MANSION को किस प्रकार लिखा जाएगा?
- In a certain code language, PLACE is written as QMZZD and BEAUTY is written as CDZTUZ. How will MANSION be written in that code language?
- (a) NAMSNOI (b) NOISNAM  
(c) NBOTJPO (d) NZOTHNO
39. P, Q, R, S, T और U छह मित्र हैं, वे एक पंक्ति में दक्षिण की ओर मुँह किए हुए बैठे हैं। P, R के ठीक बाएँ और E के दाएँ दूसरे स्थान पर बैठा है। T, R के ठीक दाएँ बैठा है। U, R के बाएँ दूसरे स्थान पर बैठा है। Q, S के ठीक बाएँ बैठा है। पंक्ति के एकदम दाएँ छोर पर कौन बैठा है?
- P, Q, R, S, T and U are six friends, sitting in a row facing south. P sits immediate left of R and second to the right of A. T is sitting to the immediate right of R. U sits second to the left of R. Q is sitting to the immediate left of S. Who is sitting at the extreme right end of the row?
- (a) Q (b) U  
(c) T (d) R
40. निम्नांकित आकृति में कितने आयत हैं?  
How many rectangles are there in the following figure?



- (a) 7 (b) 6  
(c) 8 (d) 9

## Arithmetical & Numerical Ability

41. 112, 72 और 90 का लघुत्तम समापवर्त्य (LCM) है-  
The least common multiple (LCM) of 112, 72 and 90 is-
- (a) 3780 (b) 7560  
(c) 2520 (d) 5040
42. यदि 15 संतरोँ का क्रय मूल्य 20 संतरोँ के विक्रय मूल्य के बराबर है तो हानि प्रतिशत है :  
If the cost price of 15 oranges is equal to the selling price of 20 oranges then the loss percentage is:
- (a) 30% (b) 75%  
(c) 25% (d) 40%
43. बाजार मूल्य में 25% की कमी के साथ, सीता रु. 30 में 1 किग्रा अधिक चीनी खरीद सकती है। चीनी का वास्तविक मूल्य ज्ञात कीजिए।  
With 25% reduction in market price, Sita sells for Rs. Can buy 1 kg more sugar for Rs 30. Find the actual price of sugar.
- (a) 7.5 (b) 10  
(c) 16.5 (d) 7.3
44. एक थैली में लाल, हरे एवं गुलाबी रंग के टोकन रखे गए हैं, लाल एवं हरे टोकन का अनुपात 5:11 है जबकि गुलाबी एवं लाल टोकन का अनुपात 7:15 है। हरे एवं गुलाबी टोकन का अनुपात कितना होगा?  
Red, green and pink tokens are kept in a bag, the ratio of red and green tokens is 5:11 while the ratio of pink and red tokens is 7:15. What will be the ratio of green and pink tokens?
- (a) 77 : 75 (b) 11 : 7  
(c) 33 : 7 (d) 75 : 77
45. P और Q ने एक व्यवसाय में 5 : 13 के अनुपात में निवेश किया। Q ने 6 महीने बाद अपनी पूंजी निकाल ली। यदि उन्होंने अपना लाभ 25 : 26 के अनुपात में साझा किया हो, तो इसी राशि को कितने समय तक उपयोग की गई थी ?  
P and Q invested in a business in the ratio 5 : 13. Q withdrew his capital after 6 months. If they shared their profits in the ratio 25 : 26, then for how long was the amount used?
- (a) 8 महीने (b) 15 महीने  
8 months 15 months  
(c) 18 महीने (d) 12 महीने  
18 months 12 months
46. ब्रिज अकेला एक दीवार को 7.2 दिनों में पेंट कर सकता है जबकि मधु को वही काम करने में 10.8 दिन लगते हैं। एक साथ काम करने पर दीवार के 5/6 भाग को पेंट करने में कितने दिन लगेंगे?



Bridge alone can paint a wall in 7.2 days while Madhu takes 10.8 days to do the same work. Working together, how many days will it take to paint  $\frac{5}{6}$  of the wall?

- (a) 4.2 (b) 3.6  
(c) 3.9 (d) 4.8

47. एक बाल्टी में दो तरल पदार्थ A और B 7 : 5 के अनुपात में मिश्रित है। यदि मिश्रण के 9 लीटर को 10 लीटर B तरल से प्रतिस्थापित किया जाता है, तो दोनों तरल पदार्थों का अनुपात 7:9 हो जाता है। बाल्टी में तरल A कितने लीटर था ?

Two liquids A and B are mixed in a bucket in the ratio 7 : 5. If 9 liters of the mixture is replaced by 10 liters of liquid B, the ratio of the two liquids becomes 7:9. How many liters of liquid A were in the bucket?

- (a) 25 (b) 22.75  
(c) 31 (d) 21

48. एक पाइप एक टंकी को 12 घंटे में भर सकता है और दूसरा पाइप इसे 15 घंटे में भर सकता है। यदि दोनों पाइपों को एक साथ खोला जाता है, तो टंकी को आधा भरने के लिए कितना समय लगेगा?

One pipe can fill a tank in 12 hours and another pipe can fill it in 15 hours. If both the pipes are opened together, how much time will it take to fill the tank half?

- (a)  $4\frac{2}{3}$  घंटे (b)  $3\frac{1}{3}$  घंटे  
(c)  $6\frac{2}{3}$  घंटे (d)  $2\frac{1}{3}$  घंटे

49. 3680 पर 4% वार्षिक साधारण ब्याज की दर 2.5 साल में कितना ब्याज प्राप्त होगा?

How much interest will be received on Rs. 3680 at 4% annual simple interest in 2.5 years?

- (a) 368 (b) 92  
(c) 184 (d) 274

50. मि० मर्थी एक योजना में 16000 निवेश किया। वह वयस्क होने पर कितना धन प्राप्त करेगा यदि वह इसे 9 महीने के लिए प्रतिवर्ष 20% चक्रवृद्धि आज की दर से निवेश किया।

Mr. Marthi invested Rs. 16000 in a scheme. How much money will he get when he becomes an adult if he invests it at 20% compounded today for 9 months?

- (a) 18523 (b) 18521  
(c) 18524 (d) 18522

51. P, Q से 2 वर्ष बड़ा है; Q, R से 4 वर्ष छोटा है। यदि उनकी आयु का योग 27 है, तो Q की आयु कितनी है?

P is 2 years elder than Q; Q is 4 years younger than R. If the sum of their ages is 27, then what is the age of Q?

- (a) 8 वर्ष (b) 9 वर्ष  
8 years 9 years  
(c) 11 वर्ष (d) 7 वर्ष  
11 years 7 years

52. तीन संख्याओं का औसत 28 है। यदि सबसे छोटी संख्या में 2 जोड़ दिया जाए और सबसे बड़ी संख्या में से 5 घटा दिया जाए तो मध्य का अंक समांतर माध्य हो जाता है, जबकि आंकड़ों के इस नए समुच्चय का परास 36 हो जाता है। इन तीन संख्याओं के मूल समुच्चय की सबसे बड़ी संख्या क्या है?

The average of three numbers is 28. If 2 is added to the smallest number and 5 is subtracted from the largest number, the middle number becomes the arithmetic mean, while the range of this new set of data becomes 36. What is the largest number in the original set of these three numbers?

- (a) 50 (b) 48  
(c) 47 (d) 45

53. कोहरे में चलने वाली गाड़ी एक व्यक्ति को पार करती है, जो उसी दिशा में 3 km/hr की गति से पैदल चल रहा था। वह व्यक्ति उस गाड़ी को 100 m की दूरी तक, 4 मिनट तक देख सकता था। गाड़ी की गति क्या थी?

A car moving in the fog crosses a man who was walking in the same direction at a speed of 3 km/hr. That person could see that vehicle up to a distance of 100 m for 4 minutes. What was the speed of the car?

- (a)  $9\frac{1}{2}$  km/hr (b)  $7\frac{1}{2}$  km/hr  
(c) 5 km/hr (d)  $5\frac{1}{2}$  km/hr

54. एक एक्सप्रेस ट्रेन 14 किमी./घंटा की रफ्तार से चलती है। 15 मिनट में ट्रेन द्वारा तय की गई दूरी की गणना करें।

An express train runs at a speed of 14 km/hr. Calculate the distance covered by the train in 15 minutes.

- (a) 33 km (b) 32 km  
(c) 36 km (d) 35 km

55. एक नाव, जिसकी शांत जल में चाल 15 किमी/घंटा है, 4.5 घंटे में धारा की दिशा में 30 किमी जाती है और धारा के विपरीत दिशा में चलकर वापस आती है। धारा की चाल ज्ञात कीजिए।

A boat, whose speed in still water is 15 km/hr, goes 30 km downstream in 4.5 hours and returns upstream. Find the speed of the stream.

- (a) 4 किमी/घंटा (b) 5 किमी/घंटा  
4 km/h 5 km/h  
(c) 10 किमी/घंटा (d) 6 किमी/घंटा  
10 km/h 6 km/h

56. एक आयत जिसके आयाम 4 cm और 5 cm हैं, को मोड़कर एक समबाहु त्रिभुज बनाया जाता है। इस प्रकार निर्मित समबाहु त्रिभुज का क्षेत्रफल कितना होगा?

A rectangle whose dimensions are 4 cm and 5 cm is folded to form an equilateral triangle. What will be the area of the equilateral triangle formed in this way?

- (a)  $9\sqrt{3}$  cm<sup>2</sup> (b)  $3\sqrt{3}$  cm<sup>2</sup>  
(c)  $6\sqrt{3}$  cm<sup>2</sup> (d)  $9/4 \sqrt{3}$  cm<sup>2</sup>

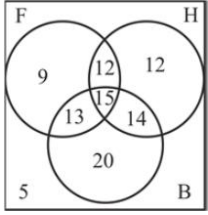
57. समांतर श्रेणी 142, 148, 154 \_\_\_\_\_ का 12 वाँ पद क्या होगा। What will be the 12th term of the arithmetic progression 142, 148, 154 \_\_\_\_\_?

- (a) 210 (b) 200  
(c) 208 (d) 300

58. नीचे दिया गया आरेख कक्षा में फुटबॉल (F), हॉकी (H) और बास्केटबॉल (B) खेलने वाले विद्यार्थियों की संख्या दर्शाता है। खेल F खेलने वाले विद्यार्थियों की कुल संख्या क्या है?

The diagram given below shows the number of students playing Football (F), Hockey (H) and Basketball (B) in the

class. What is the total number of students playing game F?



- (a) 9 (b) 49  
(c) 53 (d) 62

59. यदि  $\sec\theta + \tan\theta = 3.2$  है, तो  $\sec\theta$  का मान क्या है?  
If  $\sec\theta + \tan\theta = 3.2$ , then what is the value of  $\sec\theta$ ?
- (a) 2.28 (b) 1.6  
(c) 1.75625 (d) 1.92625

60. एक बिंदु किसी रेखाखंड को, बिंदु (4,5) और (-3,3) को जोड़ते हुए आंतरिक रूप से 2:3 के अनुपात में विभाजित करता है। बिंदु के निर्देशांक ज्ञात करें।  
A point divides a line segment joining the points (4,5) and (-3,3) internally in the ratio 2:3. Find the coordinates of the point.
- (a) 11/5, 17/5 (b) 13/5, 17/5  
(c) 12/5, 13/5 (d) 6/5, 21/5

## HINDI

61. गद्यांश:दिए गए अनुच्छेद में कुछ शब्द हटा दिए गए हैं। दिए गए विकल्पों की सहायता से रिक्त स्थान भरें। प्रत्येक संख्या के लिए सबसे उपयुक्त विकल्प का चयन करें। काव्य का सम्बन्ध (1) \_\_\_\_\_ हिट चिन्ता से जुड़ा हुआ है। सभ्यता के (2)युग में जब प्रकृति के रहस्य मनुष्य के लिए (3) \_\_\_\_\_ थे और वह अधिकांश में अपने जीवित रहने के लिए प्रकृति की (4) ऊपर निर्भर था, तब उसने प्रकृति के अनेक उपादानों की (5) \_\_\_\_\_ प्रारम्भ की। गद्यांश के रिक्त स्थान (1) के लिए सर्वाधिक उपयुक्त शब्द होगा—
- (a) प्राणियों की (b) देवताओं की  
(c) राजाओं की (d) मनुष्य की
62. गद्यांश के रिक्त स्थान (2) के लिए सर्वाधिक उपयुक्त शब्द होगा—
- (a) पुराने (b) प्राचीन  
(c) प्रारम्भिक (d) आदि
63. दिए गए वाक्य में रेखांकित खंड को प्रतिस्थापित करने के लिए सबसे उपयुक्त विकल्प का चयन करें। यदि इसे प्रतिस्थापित करने की आवश्यकता नहीं है, तो विकल्प किसी बदलाव की आवश्यकता नहीं है' का चयन करें। दक्षिण भारत के मंदिरों में वास्तुकला के दर्शन होते हैं।
- (a) किसी बदलाव की (b) वस्तु कला के दर्शन होने हैं। आवश्यकता नहीं है।  
(c) वस्तु कला के दर्शन होते हैं। (d) वस्तु कला के दर्शन होता हैं।
64. निम्न में से कौन सा विलोम-युग्म सही नहीं है?
- (a) अंत-आदि (b) अज्ञ-विज्ञ  
(c) क्षत-विक्षत (d) अथ-इति

65. दिए गए वाक्य में रेखांकित खंड को प्रतिस्थापित करने के लिए सबसे उपयुक्त विकल्प का चयन करें। यदि इसे प्रतिस्थापित करने की आवश्यकता नहीं है, तो विकल्प किसी बदलाव की आवश्यकता नहीं है' तो विकल्प किसी बदलाव की आवश्यकता नहीं है' का चयन करें। राहुल ने अपने प्रिय मित्र को कहानी की पुस्तक दिये।
- (a) प्रिय मित्र को कहानी की पुस्तक दी। (b) किसी बदलाव की आवश्यकता नहीं है।  
(c) प्रिय मित्र को कहानी का पुस्तक दिये। (d) प्रिय मित्र को कहानी की पुस्तक दिये।
66. जिसके समान दूसरा नहीं-शब्द समूह के स्थान पर एक शब्द लिखिए।
- (a) चतुर (b) बहुत ही सुंदर  
(c) अद्वितीय (d) द्वितीय
67. दिए गए वाक्य का वह भाग ज्ञात करें जिसमें कोई त्रुटि है। यदि कोई त्रुटि नहीं है, तो कोई त्रुटि नहीं है' चुनें। मेरे को (1)/ तुम्हारा काम (2)/ पसंद है। (3)/कोई त्रुटि नहीं है। (4)
- (a) 1 (b) 2  
(c) 3 (d) 4
68. दिए गए वाक्य में रेखांकित खंड को प्रतिस्थापित करने के लिए सबसे उपयुक्त विकल्प का चयन करें। यदि इसे प्रतिस्थापित करने की आवश्यकता नहीं है, तो विकल्प किसी बदलाव की आवश्यकता नहीं है' का चयन करें। उस पर कई पड़े पानी पड़ गया।
- (a) घड़ी (b) घड़े  
(c) किसी बदलाव की आवश्यकता नहीं है। (d) घड़ों
69. रिक्त स्थान को भरने के लिए सबसे उपयुक्त शब्द का चयन करें। विपत्ति में \_\_\_\_\_ से काम लेना चाहिए।
- (a) साहस (b) बल  
(c) वीरता (d) शौर्य
70. दिए गए शब्द का विलोम चुनें। अत्यधिक
- (a) अधिक (b) प्रभूत  
(c) स्वल्प (d) अल्प
71. 'गंगा से उत्पन्न' वाक्यांश के लिए एक शब्द होगा—
- (a) गंगोत्री (b) गंगाधन  
(c) गांगये (d) गंगाजल
72. कौन सा विलोम युग्म सुमेलित नहीं है?
- (a) गरल-विरल (b) कृपण-दाता  
(c) कोप-कृपा (d) गंभीर-अगंभीर
73. रिक्त स्थान भरने के लिए सबसे उपयुक्त शब्द का चयन करें। अपने धन पर इतना \_\_\_\_\_ ठीक नहीं।
- (a) अभिमान (b) अनुमान  
(c) अवमानना (d) अपमान
74. दिए गए वाक्य का वह भाग ज्ञात करें जिसमें कोई त्रुटि है। यदि कोई त्रुटि नहीं है, तो 'कोई त्रुटि नहीं है' चुनें। सारा राज्य (1)/ उसके लिए (2)/ एक थाती थी (3)/ कोई त्रुटि नहीं है (4)
- (a) 1 (b) 4  
(c) 2 (d) 3
75. दिये गये वाक्यांश के लिए एक शब्द दीजिये। सर से पैर तक

# SCHOLARS ACADEMY

- (a) सर्वांग (b) आपादमस्तक  
(c) संपूर्ण शरीर (d) नख शिख
76. दिए गए वाक्य में रेखांकित खंड को प्रतिस्थापित करने के लिए सबसे उपयुक्त विकल्प का चयन करें। यदि इसे प्रतिस्थापित करने की आवश्यकता नहीं है, तो विकल्प 'किसी बदलाव की आवश्यकता नहीं है' का चयन करें। घर में चोरी हो जाने से वह कंकाल हो गया।  
(a) कंकाल (b) कंकाली  
(c) किसी बदलाव की (d) कंगाल  
आवश्यकता नहीं है।
77. कौन सा शब्द 'मुर्गा' का समानार्थी शब्द नहीं है?  
(a) ताम्रचूड़ (b) शिखी  
(c) अरुणशिखा (d) कुक्कट
78. दिए गए शब्द का विलोम चुनें। आदान  
(a) प्रदान (b) निदान  
(c) स्वादन (d) श्रमदान
79. दिए गए वाक्य का वह भाग ज्ञात करें जिसमें कोई त्रुटि है। यदि कोई त्रुटि नहीं है, तो 'कोई त्रुटि नहीं है' चुनें। वहाँ (1) / भारी-भरकम (2) / भीड़ लगी थी। (3) / कोई त्रुटि नहीं है। (4)  
(a) 3 (b) 2  
(c) 4 (d) 1
80. रिक्त स्थान को भरने के लिए सबसे उपयुक्त शब्द का चयन करें। परीक्षा के दिन तक उसने एक \_\_\_\_\_ नहीं पढ़ा था।  
(a) कहानी (b) पुस्तक  
(c) हिन्दी (d) अक्षर

## English

81. Comprehension: In the following passage, some words have been deleted. Read the passage carefully and select the most appropriate option to fill in each blank. The power of words (1)\_\_\_\_\_ an enduring effect and can be (2)\_\_\_\_\_ by all men and women. Words are not (3)\_\_\_\_\_ for writers or lovers of literature. Every profession is (4)\_\_\_\_\_ by words. It is impossible to (5)\_\_\_\_\_ oneself without using words. Select the most appropriate option to fill in blank no. 1.  
(a) are (b) has  
(c) is (d) have
82. Select the most appropriate option to fill in blank no. 2.  
(a) pleased (b) impressed  
(c) looked (d) enjoyed
83. Parts of the given sentence have been given as options. One of them contains a grammatical error. Select the option that has the error. The easiest way to make pasta is to be followed Chef Kapoor's instructions on YouTube.  
(a) instructions on YouTube (b) to be followed  
(c) the easiest way (d) make pasta
84. Select the most appropriate option that can substitute the underlined segment in the given sentence. If there is

no need to substitute it, select 'No substitution required'.  
If the air pollutes with small particles, natural or otherwise, the sunset will be more red.

- (a) will be polluted with (b) is polluted with  
(c) No substitution required (d) was polluted with
85. Select the incorrectly spelt word.  
(a) Imaculate (b) Impediment  
(c) Immense (d) Immature
86. Select the most appropriate option to fill in the blank.  
The little girl — a puppy from the street.  
(a) preserved (b) transferred  
(c) passed (d) rescued
87. The following sentence has been split into four segments. Identify the segment that contains a grammatical error. I am thinking / your idea will be / really appreciated / by everyone.  
(a) I am thinking (b) by everyone  
(c) your idea will be (d) really appreciated
88. The following sentence has been into four segments. Identify the segment that contains a grammatical error.  
Water / freeze at / 0 degree / Celsius.  
(a) freeze at (b) water  
(c) celsius (d) 0 degree
89. Select the most appropriate meaning of the given idiom.  
Between Scylla and Charybdis  
(a) Winning a competition (b) Choice between two pleasant alternatives  
(c) Choice between two (d) Dividing into equal unpleasant alternatives shares
90. Select the incorrectly spelt word.  
(a) Injury (b) Thrust  
(c) Sheild (d) Attach
91. Select the most appropriate synonym of the given word.  
Keen  
(a) Benign (b) Eager  
(c) Jovial (d) Active
92. Select the most appropriate of the given word. Toil  
(a) Drive (b) Sweat  
(c) Rest (d) Climb
93. Select the option that can be used as a one-word substitute for the given group of words. Shortened form of a word or phrase  
(a) Precis (b) Summary  
(c) Anagram (d) Abbreviation
94. Select the option that will improve the underlined part of the given sentence. In case no improvement is needed, select 'No improvement required'. He did much mistakes.



# SCHOLARS ACADEMY

- (a) committed many mistakes (b) make many mistakes  
(c) No improvement required (d) did many a mistakes
95. Select the option that can be used as a one-word substitute for the given group of words. A person who walks in his/her sleep  
(a) Exorcist (b) Atheist  
(c) Somnambulist (d) Ventriloquist
96. Select the option that can be used as a one-word substitute for the given group of words. The sound an elephant makes  
(a) Bray (b) Grunt  
(c) Low (d) Trumpet
97. Select the most appropriate option to fill in the blank. The systems — on back-up battery when the electricity goes off.  
(a) operate (b) activate  
(c) drive (d) control
98. Select the most appropriate antonym of the given word. Persist  
(a) Discontinue (b) Convince  
(c) Enable (d) Incline
99. Select the most appropriate option that can substitute the underlined segment in the given sentence. If there is no need to substitute it, select 'No substitution required'. Many of the apples were rotten.  
(a) was rotten (b) No substitution required  
(c) is been rotten (d) is rotten
100. Select the most appropriate meaning of the given idiom. Raining cats and dogs  
(a) Cat and dog fight (b) Too crowded  
(c) Raining heavily (d) Raining lightly
- Which princely state had an important role in the south of Haryana?  
(a) जयपुर रियासत princely state of Jaipur (b) नाभा रियासत princely state of Nabha  
(c) छछरौली रियासत Chhachhrauli princely state (d) पटियाला रियासत Patiala state
104. इंदौर पहाड़ी कहाँ स्थित है? Where is Indore hill located?  
(a) मेवात Mewat (b) पलवल Palwal  
(c) रेवाड़ी Rewari (d) महेंद्रगढ़ Mahendragarh
105. बडखल झील किस जिले में स्थित है? In which district is Badkhal Lake located?  
(a) गुरुग्राम Gurugram (b) भिवानी Bhiwani  
(c) फरीदाबाद Faridabad (d) रोहतक Rohtak
106. हरियाणा राज्य प्रदूषण नियंत्रण बोर्ड का गठन कब किया गया था? When was the Haryana State Pollution Control Board constituted?  
(a) वर्ष 1974 the year 1974 (b) वर्ष 1976 the year 1976  
(c) वर्ष 1980 the year 1980 (d) वर्ष 1982 the year 1982
107. मध्यवर्ती भाग में सिंचाई का मुख्य साधन क्या है? What is the main means of irrigation in the intermediate part?  
(a) बारिश rain (b) नहर Canal  
(c) ट्यूबवेल Tubewell (d) ये सभी all these
108. काकरोई सूक्ष्म जलविद्युत परियोजना किस नहर पर निर्मित है? On which canal is the Kakaroi Micro Hydroelectric Project built?  
(a) भिवानी नहर Bhiwani Canal (b) गुरुग्राम नहर Gurugram Canal  
(c) भाखड़ा नहर Bhakra Canal (d) पश्चिमी यमुना नहर Western Yamuna Canal
109. दिल्ली-अंबाला-अमृतसर रेल मार्ग हरियाणा के किस जिले से होकर गुजरता है? Delhi-Ambala-Amritsar rail route passes through which district of Haryana?  
(a) Panipat पानीपत (b) Karnal करनाल  
(c) Kurukshetra कुरुक्षेत्र (d) All these ये सभी
110. हरियाणा राज्य में निम्नलिखित में से किस चुनाव में पहली बार VVPAT का उपयोग किया गया था? VVPAT was used for the first time in which of the following elections in the state of Haryana?  
(a) पंचायत चुनाव 2015 Panchayat Election 2015 (b) नगर निगम चुनाव 2018 Municipal Corporation Election 2018  
(c) जींद विधानसभा चुनाव, 2019 Jind assembly election, 2019 (d) लोकसभा चुनाव, 2014 Lok Sabha election, 2014

## Basic Familiarity

101. महाभारत के ..... अध्याय में भगवत गीता है। There is Bhagavad Gita in the ..... chapter of Mahabharata.  
(a) 16वाँ 16 th (b) 17वाँ 17 th  
(c) 18वाँ 18 th (d) 19 th 19वाँ
102. कौन सा राजा हेमू के नाम से प्रसिद्ध था? Which king was famous as Hemu?  
(a) सम्राट हेमचंद्र विक्रमादित्य Samrat Hemchandra Vikramaditya (b) मुहम्मद गोरी Muhammad Ghori  
(c) हर्षवर्द्धन Harshavardhana (d) अकबर Akbar
103. हरियाणा के दक्षिण में किस रियासत की महत्वपूर्ण भूमिका थी?

# SCHOLARS ACADEMY

111. विशेष पर्यावरण न्यायालय के संबंध में कौन सा कथन सही नहीं है?  
Which statement is not correct regarding the Special Environment Court?
- (a) फ़रीदाबाद और कुरूक्षेत्र में दो विशेष पर्यावरण न्यायालय स्थापित किए गए हैं। Two special environmental courts have been established at Faridabad and Kurukshetra  
(b) मेवात, गुरुग्राम आदि जिले फ़रीदाबाद के अधिकार क्षेत्र में आते हैं। Mewat, Gurugram etc. districts come under the jurisdiction of Faridabad.  
(c) पंचकुला, कैथल, सिरसा आदि जिले कुरूक्षेत्र के अंतर्गत आते हैं। Panchkula, Kaithal, Sirsa etc. districts come under Kurukshetra  
(d) पानीपत और करनाल किसी भी अधिकार क्षेत्र में नहीं आते हैं। Panipat and Karnal do not come under any jurisdiction
112. हरियाणा में स्थानीय निकायों के चुनाव के लिए अनुसूचित जाति की महिला उम्मीदवारों के लिए निर्धारित अनिवार्य शैक्षणिक योग्यता क्या है?  
What is the mandatory educational qualification prescribed for women candidates belonging to Scheduled Castes for elections to local bodies in Haryana?
- (a) 5वीं पास 5th pass  
(b) 8वीं पास 8th pass  
(c) 10वीं पास 10th pass  
(d) 12वीं पास 12th pass
113. हरियाणा का कौन सा जिला शिक्षा नगरी एवं राजनीतिक राजधानी के नाम से जाना जाता है?  
Which district of Haryana is known as education city and political capital?
- (a) अंबाला Ambala  
(b) कुरूक्षेत्र Kurukshetra  
(c) रोहतक Rohtak  
(d) सोनीपत Sonipat
114. निम्नलिखित में से कौन सा चाँदी से बना गोलाकार आभूषण है?  
Which of the following is a circular ornament made of silver?
- (a) पायल anklet  
(b) टूटी हुई broken  
(c) नेवारी Newari  
(d) तनाका Tanaka
115. मन्दिर निर्माण की दृष्टि से महत्वपूर्ण काल था  
Important period from the point of view of temple construction was
- (a) 8वीं शताब्दी-11वीं शताब्दी 8 Vin- 11 th century  
(b) 5वीं शताब्दी-7वीं शताब्दी 5 Vin- 7th century  
(c) 5वीं शताब्दी-8वीं शताब्दी 5 Vin- 8 th century  
(d) इनमें से कोई नहीं None of these
116. कानोड़ का किला किसके द्वारा बनवाया गया था?  
Kanod Fort was built by whom?
- (a) मराठा Marathas  
(b) राजपूत Rajputs  
(c) मुगल Mughals  
(d) इनमें से कोई नहीं None of these
117. सूर्यकुंड तीर्थ कहाँ स्थित है?  
Where is the Suryakund shrine located?
- (a) महेंद्रगढ़ Mahendragarh  
(b) जींद Jind  
(c) पलवल Palwal  
(d) यमुनानगर Yamunanagar
118. निम्नलिखित में से कौन बाणभट्ट का मुख्य कार्य है?  
Which of the following is the main work of Banabhatta?
- (a) हर्षचरितम् Harshacharitam  
(b) कादम्बरी Kadambari  
(c) मुकुत्तादिकम Mukuttadikam  
(d) उपरोक्त सभी All of the above
119. 1858 ई. के बाद हरियाणा में कहाँ विश्वविद्यालय स्थापित किया गया?  
Where in Haryana was the university established after 1858 AD?
- (a) झज्जर Jhajjar  
(b) रोहतक Rohtak  
(c) करनाल Karnal  
(d) उन सभी को All of them
120. बॉक्सर विजेन्द्र सिंह का जन्म किस जिले में हुआ था?  
Boxer Vijender Singh was born in which district?
- (a) पानीपत Panipat  
(b) सोनीपत Sonipat  
(c) भिवानी Bhiwani  
(d) जींद Jind
121. साइकिल चलाने में संतुलन का ज्ञान स्कूटर चलाना सीखने में सहायता करता है। यहाँ अधिगम के स्थानान्तरण का प्रकार है  
The knowledge of balancing in cycling helps in learning of scooter driving. The type of transfer of learning here is
- (a) सकारात्मक स्थानांतरण Positive transfer  
(b) नकारात्मक स्थानांतरण Negative transfer  
(c) शून्य स्थानांतरण Zero transfer  
(d) द्विपक्षीय स्थानांतरण Bilateral transfer
122. थॉर्न्डाइक का यह नियम पुनरीक्षण और स्मरण को बढ़ावा देता है  
This Thorndike's law promotes revision and recall
- (a) तत्परता का नियम Law of Readiness  
(b) प्रभाव का नियम Law of Effect  
(c) अभ्यास का नियम Law of Exercise  
(d) अनुकरण का नियम Law of Imitation
123. निम्नलिखित में से कौन व्यक्तित्व के लक्षण सिद्धांत के प्रमुख प्रतिपादकों में से एक नहीं है?  
Who out of the following is not one of the chief exponents of the trait theory of personality?
- (a) एच. जे. आइसेक H.J. Eysenck  
(b) आर. के. प्रिचेट R.K. Pritchett  
(c) जी. डब्ल्यू. आलपोर्ट G.W. Allport  
(d) आर. बी. कैटेल R.B. Cattell
124. एक मानसिक रूप से स्वस्थ व्यक्ति हर नई परिस्थिति को समझता है। मानसिक रूप से स्वस्थ व्यक्ति :  
A mentally healthy person understand every new situation to adopt himself. Through mental health, a person
- (a) अच्छी प्रकार समायोजित हो सकता है। can adjust very well  
(b) कहीं भी समायोजित नहीं होता है। do not adjust any where  
(c) समाज में अव्यवस्था उत्पन्न करता है। create disturbance in the society  
(d) किसी भी परिस्थिति को नहीं सम्भाल सकता है। do not handle any situation

125. निम्नलिखित में से कौन सा गिलफर्ड के त्रिविमीय बुद्धि सिद्धांत के 'विषय-वस्तु आयाम' का घटक नहीं है?  
Which is not the component of 'Content Dimensions' of three dimensional intelligence theory by Guilford?  
(a) प्रणाली System (b) प्रतीकात्मक Symbolic  
(c) शाब्दिक Semantic (d) व्यावहारिक Behavioural
126. आधुनिक मनोविज्ञान अध्ययन का सम्बन्ध है :  
The study of modern psychology is related to :  
(a) आत्मा से Soul (b) मन से Mind  
(c) व्यवहार से Behaviour (d) बुद्धिमत्ता से Intelligence
127. निम्नलिखित में से कौन व्यक्तित्व मापन की प्रक्षेपी तकनीक है?  
Which of the following is projective technique of personality measurement?  
(a) अवलोकन Observation (b) प्रसंगात्मक बोध परीक्षण Thematic apperception test  
(c) साक्षात्कार Interview (d) रेटिंग स्केल Rating scale
128. अभिप्रेरणा के सन्दर्भ में निम्नलिखित में से कौन सा युग्म सही ढंग से सुमेलित है?  
I. बाह्य अभिप्रेरणा - यह उस अभिप्रेरणा को संदर्भित करती है जो रुचि या आनंद से स्वतः उत्पन्न होती है।  
II. आंतरिक अभिप्रेरणा - परिणाम प्राप्त करने के लिए किसी क्रिया के प्रदर्शन को संदर्भित करती है।  
In the context of motivation, which of the following pair is correctly matched?  
I. Extrinsic motivation - It refers to motivation that is driven by an interest or enjoyment in the task itself.  
II. Intrinsic Motivation - Refers to the performance of an activity in order to attain an outcome.  
(a) केवल I Only I (b) ना ही I ना ही II Neither I nor II  
(c) I तथा II दोनों Both I and II (d) केवल II Only II
129. गैग्ने ने अपने सीखने के चरण में किस प्रकार के अधिगम को निम्नतम स्थान पर रखा है?  
Which type of learning has Gagne placed at the lowest position in his learning step?  
(a) शाब्दिक अधिगम Lexical learning (b) संकेत अधिगम Signal learning  
(c) श्रृंखला अधिगम Series Learning (d) प्रत्यय अधिगम suffix learning
130. निम्नलिखित में से कौन सा जन्मजात अभिप्रेरक नहीं है ?  
Out of the following which is not an innate motive?  
(a) भूख Hunger (b) प्यास Thirst  
(c) आकांक्षा Aspiration (d) निद्रा Sleep
131. 1905 में \_\_\_\_\_ ने मनोविज्ञान में पहला बुद्धि परीक्षण दिया।  
In 1905 \_\_\_\_\_ gave the first intelligence tests in psychology.  
(a) अल्फ्रेड और गॉर्डन Alfred and Gordon (b) हार्वे और सिरिलो Harvey and Cyril  
(c) बिनै और साइमन Binet and Simon (d) बर्ट और सिरिलो Burt, Cyril
132. बाल अन्तर्बोध (एपरसेप्शन) परीक्षण का निर्माण किसने किया ?  
Who had developed Child Apperception test ?  
(a) मर्रे Murray (b) बेलक Bellack  
(c) रोबर्ट Robert (d) रोज़नविग Rosenwig
133. "विकास कभी न खत्म होने वाली प्रक्रिया है" यह विचार किसके साथ जुड़ा हुआ है?  
"Development is a never-ending process." This idea is associated with  
(a) एकीकरण का सिद्धांत Principle of integration (b) बातचीत का सिद्धांत Principle of interaction  
(c) अंतर्संबंध का सिद्धांत Principle of interrelation (d) निरंतरता का सिद्धांत Principle of continuity
134. उत्पादन बनाम गतिहीनता किस अवस्था में होता है?  
Generativity v/s stagnation occurs in which stage?  
(a) यौवनावस्था Puberty (b) प्रसुप्ति Latency  
(c) मध्य वयस्कता Middle adulthood (d) युवा वयस्कता Young adulthood
135. आप सृजनात्मकता के विकास हेतु कौन सी शिक्षण विधि अपनाएँगे ?  
Which teaching method will you adopt for the development of creativity?  
(a) समस्या - समाधान विधि problem solving method (b) कहानी विधि story method  
(c) व्याख्यान विधि lecture method (d) व्यक्ति इतिहास विधि person history method
136. अनुभूति मुख्य रूप से किसके विकास से संबंधित है?  
Cognition mainly deals with development of  
(a) विचार और ज्ञान Thought and knowledge (b) ज्ञान और संचार Knowledge and Communication  
(c) विचार और श्रवण Thought and Listening (d) उपरोक्त सभी All of the above
137. बालक के संवेगों की विशेषता नहीं है  
The child's emotions are not characteristic  
(a) संवेगों की उग्रता intensity of emotions (b) संवेगों में शीघ्रता quickness of emotions  
(c) संवेगों का बार-बार प्रकटीकरण frequent manifestation of emotions (d) संवेगों की स्थायी प्रकृति permanent nature of emotions
138. इनमें से कौन सी एक प्रकार की आदत नहीं है?  
Which of these is not a type of habit ?  
(a) तंत्रिका संबंधी आदतें Neurotic habits (b) व्युत्पन्न आदतें Derived habits  
(c) यांत्रिक आदतें Mechanical habits (d) ये सभी All of these habits
139. स्टेनफोर्ड बिनै बुद्धि-लब्धि परीक्षण के लिए तय मानक के अनुसार 'सामान्य मंदित' बालकों का बुद्धि-लब्धि प्रसार क्या है ?

According to the Norms prescribed for Stanford-Binet I.Q. Scale, what is the I.Q. Range of Moderate Mentally Retarded children?

- (a) 50-55 से लगभग 70 50-55 (b) 35-40 से 50-55 35-40 to 55 to approximately 70 50-55  
(c) 20-25 से 35-40 20-25 to (d) 20 से नीचे Below 20 35-40

140. किशोरावस्था के वैज्ञानिक अध्ययन का जनक किसे वर्णित किया जाता है?

Who is described as the father of the scientific study of adolescence?

- (a) मार्गरेट मीड Margaret Mead (b) जी. स्टेनली हॉल G. Stanley Hall  
(c) लेटा हॉलिंगवर्थ Leta Stetter Hollingworth (d) अरस्तू Aristotle

141. पियाजे के अनुसार मानसिक छवि या वस्तुओं और अनुभवों के प्रतीकों को संग्रहीत करने की क्षमता के लिए किस शब्द का प्रयोग किया जाता है?

According to Piaget, which term is used for capacity to store mental image or symbols of objects and experiences?

- (a) आलोचनात्मक क्षमता Critical ability (b) प्रतिनिधित्व क्षमता Representational ability  
(c) लचीली क्षमता Flexible ability (d) सीखने की क्षमता Learning ability

142. समीपस्थ दूरी का क्षेत्र और स्कैफोल्डिंग बाल विकास की कुछ प्रमुख प्रक्रियाएँ हैं। ये शब्द किसने दिए?

Proximal distance zone and scaffolding are some of the major processes of child development. Who gave these words?

- (a) रूसो Rousseau (b) वाइगोत्सकी Vygotsky  
(c) कोहलबर्ग Kohlberg (d) प्याजे Piaget

143. निम्न में से कौन-सा कथन सही नहीं है?

Which of the following statements is not correct?

- (a) शिक्षा मनोविज्ञान भौतिकशास्त्र या गणित की तरह एक शुद्ध विज्ञान है। Educational Psychology is a pure science like Physics or Mathematics.  
(b) शिक्षा मनोविज्ञान का क्षेत्र एक अध्यापक के लिये उसके अध्ययन की आवश्यकता को स्पष्ट करता है। Scope of Educational Psychology clarifies the need of its study for a teacher.  
(c) शिक्षा मनोविज्ञान अपनी अध्ययन की विधियों में एक विज्ञान है। In its methods of study, Educational Psychology is a science  
(d) शिक्षा मनोविज्ञान अधिगम के सिद्धान्त और नियम स्थापित करता है। Educational Psychology establishes principles and laws of learning.

144. जब किसी व्यक्ति के मस्तिष्क में स्मृति चिह्नों को बदल दिया जाता है, तो यह \_\_\_\_\_ कहलाता है।

When the memory traces in the individual's brain gets distorted the result is

- (a) स्मृति Memory (b) विस्मरण Forgetting  
(c) प्रतिधारण Retention (d) हस्तक्षेप Interference

145. किशोरावस्था अवस्था के सन्दर्भ में यह कथन सत्य नहीं है

This statement is not true with reference to Adolescence stage

- (a) किशोरावस्था अंतर-मध्यस्थ अवस्था है Adolescence is inter-mediatory stage  
(b) किशोरावस्था संक्रमणकालीन अवस्था है Adolescence is transitional stage  
(c) किशोरावस्था में यथार्थवादी आकांक्षाएं होती हैं Adolescence possess realistic aspirations  
(d) किशोरावस्था में पहचान की लालसा होती है Adolescence craves for identity

146. अधिगम की श्रेणी में क्या सम्मिलित किया जाएगा?

What will be included in the category of learning?

- (a) सिर्फ अभ्यास के कारण व्यवहार में होने वाला परिवर्तन Change in behavior due to practice alone  
(b) अभ्यास एवं अनुभूति दोनों के कारण व्यवहार में होने वाला परिवर्तन Change in behavior due to both practice and experience  
(c) अभ्यास, अनुभूति एवं अन्तोर्द के कारण व्यवहार में होने वाला परिवर्तन Change in behavior due to practice, feeling and intuition  
(d) उपर्युक्त में सभी तरह के परिवर्तन All changes in the above

147. निम्नलिखित में से कौन व्यक्तित्व मूल्यांकन के तरीकों की प्रक्षेपी तकनीक से संबंधित नहीं है?

Which of the following doesn't belong to the Projective Techniques of methods of assessing personality?

- (a) BG परीक्षण BG Test (b) हस्तलेख विज्ञान Graphology  
(c) अभिवृत्ति परीक्षण Aptitude Test (d) बालक अन्तर्बोध परीक्षण Children Apperception Test

148. फ्रॉयड ने ऊर्जा का वितरण व्यक्तित्व विकास के जिन स्थलों पर किया है, उनके नाम हैं

The stages of personality development that Freud has named as centres for energy, are

- (a) इदम् व पराहम् Id and Superego (b) अहम् व पराहम् Ego and Superego  
(c) इदम्, अहम् व पराहम् Id, Ego and Superego (d) कोई नहीं None of the above

149. यौन विकास के सिद्धांत में किस मनोवैज्ञानिक ने सुप्तावस्था की बात की?

Which psychologist spoke of the dormancy period in the theory of sexual development?

- (a) फ्रायड Freud (b) पियाजे Piaget  
(c) एरिकसन Ericsson (d) वाइगोत्सकी Vygotsky

150. खेल के प्रत्याशित सिद्धांत के प्रतिपादक कौन थे ?

Who was the propounder of Anticipatory theory of Play ?

- (a) कार्ल ग्रोस Karl Groos (b) जी. स्टेनली हॉल G. Stanley Hall  
(c) मैक-डूगल Mc-Daugall (d) लाजासुस Lazarus

# SCHOLARS ACADEMY

151. निम्नलिखित में से कौन सी अच्छे समायोजन की विशेषता नहीं है?  
Which is NOT the characteristic of good adjustment?
- (a) अपनी क्षमताओं एवं सीमाओं का ज्ञान Awareness of one's own strength and limitations.  
(b) आकांक्षाओं का पर्याप्त स्तर Adequate level of Aspirations.  
(c) प्रतिकूल परिस्थितियों से जूझने की क्षमता Capability of struggling with unfavourable circumstance.  
(d) महत्त्वपूर्ण गलतियाँ खोजने की अभिवृत्ति Critical fault finding attitude.
152. "निर्देशात्मक पाड़" के बारे में चर्चा करने वाले मनोवैज्ञानिक कौन हैं?  
The Psychologist who discussed about "Instructional Scaffolding" is
- (a) पियाजे Piaget  
(b) वायगोत्स्की Vygotsky  
(c) बंडुरा Bandura  
(d) ब्रूनर Bruner
153. बच्चे अपनी दुनिया और अनुभवों का अन्वेषण करके सीखते हैं, लेकिन पुरस्कार और सुदृढीकरण से नहीं। यह \_\_\_\_\_ है  
Children learn by exploring their world and by experiences, but not by rewards and reinforcement. This is \_\_\_\_\_
- (a) व्यवहारवाद Behaviourism  
(b) संज्ञानात्मकवाद Cognitivism  
(c) साहचर्यवाद Associationism  
(d) मनो-विश्लेषण Psycho-analysis
154. बंडुरा के सामाजिक अधिगम के चरणों का सही क्रम है -  
The correct sequence of phases of Bandura's social learning is -
- (a) अवलोकन, ध्यान, प्रतिधारणा और अभिप्रेरणा Observational, Attentional, Retentional and Motivational  
(b) अवलोकन, ध्यान, अभिप्रेरणा और प्रतिधारणा Observational, Attentional, Motivational and Retentional  
(c) अवलोकन, प्रतिधारणा, ध्यान और अभिप्रेरणा Observational, Retentional, Attentional and Motivational  
(d) अवलोकन, प्रतिधारणा, अभिप्रेरणा और ध्यान Observational, Retentional, Motivational and Attentional
155. निम्नलिखित में से कौन सा जोड़ा "मूलप्रवृत्ति-संवेग" के अनुरूप सही नहीं है जैसा कि मैकडूगल ने उल्लेख किया था?  
Out of the following which is the wrong pair of "Instinct-Emotion" as given by McDougal?
- (a) युयुत्सा - भय Combat - Fear  
(b) निवृत्ति - घृणा Repulsion - Disgust  
(c) सन्तान कामना - वात्सल्य Parental - Tenderness  
(d) शरणागति - करुणा Appeal - Distress
156. मानसिक विकास के औपचारिक संक्रियात्मक चरण की एक महत्वपूर्ण विशेषता है  
An important characteristic of 'formal operational stage of mental development' is
- (a) अमूर्त चिंतन abstract thinking  
(b) मूर्त चिंतन concrete thinking  
(c) सामाजिक चिंतन social thinking  
(d) आत्मकेन्द्रित व्यवहार egocentric behaviour
157. व्यक्तित्व के विकास के कई पहलुओं को \_\_\_\_\_ द्वारा आँका जा सकता है।  
Many aspects of the development of the personality can be observed by \_\_\_\_\_.
- (a) प्रश्नावली questionnaire  
(b) संचयी अभिलेख cumulative record  
(c) परियोजना कार्य project work  
(d) अवलोकन observation
158. मध्यम स्तर पर मानसिक रूप से मंद हैं:  
Moderate mentally retarded are
- (a) प्रशिक्षित मानसिक रूप से मंद Trainable mentally retarded  
(b) शिक्षित मानसिक रूप से मंद Educable mentally retarded  
(c) अभिरक्षा मानसिक रूप से मंद Custodial mentally retarded  
(d) पठनीय मानसिक रूप से मंद Readable mentally retarded
159. सतत व्यापक मूल्यांकन किसका आकलन है?  
Continuous Comprehensive Evaluation is the assessment of
- (a) केवल सह-पाठ्यचर्या संबंधी गतिविधियाँ Co-curricular activities only  
(b) शैक्षिक और सह-शैक्षिक क्षेत्रों Scholastic and co-scholastic areas  
(c) केवल शैक्षणिक विषय Academic subjects only  
(d) केवल योगात्मक आंकलन परीक्षण Summative Assessment Tests only
160. निम्नलिखित में से कौन सा स्टर्नबर्ग द्वारा वर्णित एक प्रकार की बुद्धि नहीं है?  
Which of the following is not a type of intelligence described by Sternberg?
- (a) तार्किक-गणितीय तत्व Logical-mathematical element  
(b) अनुभवात्मक तत्व Experiential element  
(c) घटकीय तत्व Componential element  
(d) संदर्भात्मक तत्व Contextual element
161. अध्यापक द्वारा श्रव्य-दृश्य साधनों को किस रूप में समझना चाहिए?  
How should the teacher understand audio-visual aids?
- (a) परम्परागत अध्यापन का अनुकूल्य Alternative to traditional teaching  
(b) अध्यापन के लिए प्रयुक्त अन्य युक्तियों का संपूरक complementing other teaching aids  
(c) ऐसी युक्ति जो अध्यापक की तैयारी का समय बचाती है A device that saves teacher preparation time  
(d) कक्षा के नित्यक्रम (लीक) से अलग एक सुखदाई परिवर्तन A pleasant change from the routine of the classroom
162. सूचना एवं प्रसारण तकनीकी (आई.सी.टी.) के विकास के साथ भविष्य के अध्यापक का रोल होगा—  
With the development of Information and Broadcasting Technology (ICT), the role of the future teacher will be –
- (a) सूचना प्रदान करना provide information  
(b) पाठ्यपुस्तक विकसित करना developing a textbook



# SCHOLARS ACADEMY

- (c) विद्यार्थियों के सीखने को प्रोत्साहित करना  
encourage student learning
- (d) कक्षा में भाषण देना  
giving a speech in class

163. तकनीकी के उपयोग से अधिगम में वृद्धि लाने को कहते हैं-  
Enhancing learning through the use of technology is called-
- (a) सूचना तकनीकी  
information technology
- (b) सूचना एवं सम्प्रेषण तकनीकी  
information and communication technology
- (c) सम्पर्क तकनीकी  
contact technology
- (d) उपरोक्त में से कोई नहीं  
neither of the above

164. निम्नांकित में से कौन-सा हर्बर्ट के औपचारिक शिक्षण के पदों का भाग नहीं है?  
Which of the following is not a part of Herbert's formal teaching positions?
- (a) नई सामग्री का प्रस्तुतीकरण  
Presentation of new material
- (b) तुलना और संक्षिप्तीकरण  
comparison and summarization
- (c) सामान्यीकरण  
Generalization
- (d) आकलन और मूल्यांकन  
assessment and evaluation

165. यदि कूट निम्न प्रकार दिए गए हैं- ज्ञान (i), समझ (ii), अनुप्रयोग (iii), विश्लेषण (iv), संश्लेषण (v), मूल्यांकन (vi) ज्ञानात्मक पक्ष के लिए ब्लूम के वर्गीकरण में सही क्रम पहचानिए।  
If the codes are given as follows – Knowledge (i), Understanding (ii), Application (iii), Analysis (iv), Synthesis (v), Evaluation (vi) Identify the correct sequence in Bloom's taxonomy for the cognitive aspects.
- (a) i, iii, vi, v, ii, iv
- (b) ii, iii, iv, v, i
- (c) i, iv, ii, iii, vi, v
- (d) i, ii, iii, iv, v, vi

166. निम्नलिखित में से कौन-सी सोच वास्तविक वस्तुओं और घटनाओं की एक मुख्यतया अवधारणाओं और सामान्यीकरण की अनुपस्थिति की विशेषता है?  
Which of the following type of thinking is characterized by a predominance of actual objects and events and the absence of concepts and generalization?
- (a) निगमनात्मक सोच  
Deductive thinking
- (b) प्रेरक सोच  
Inductive thinking
- (c) मूर्त सोच  
Concrete thinking
- (d) तर्कसंगत/अमूर्तसोच  
Abstract thinking

167. समस्या समाधान के लिये IDEAL मॉडल..... द्वारा विकसित किया गया था।  
IDEAL model for problem solving was developed by.....
- (a) बंडुरा  
Bandura
- (b) बैलार्ड  
Ballard
- (c) ब्रेन्सफोर्ड  
Bransford
- (d) लेव वाइगोत्स्की  
Lev Vygotsky

168. चिंतनशील सोच की प्रक्रिया में निम्नलिखित में से कौन शामिल है?  
I. आविष्कार करना  
II. थोरी बिल्डिंग  
III. सामान्यीकरण  
which of the following options are included in the process of reflective thinking?

- I. Inventing  
II. Theory Building  
III. Generalizing
- (a) I, II और III  
I, II and III
- (b) I और III  
I and III
- (c) II और III  
II and III
- (d) केवल II  
Only II

169. निम्नलिखित में से कौन-सा कोह्लबर्ग का नैतिक विकास परिवार के सदस्यों या करीबी दोस्तों के साथ दो व्यक्तियों के रिश्तों में सबसे अच्छा कार्य करता है, जहाँ कोई व्यक्ति दूसरे की भावनाओं और जरूरतों को जानने के लिए वास्तविक प्रयास कर सकता है और मदद करने की कोशिश कर सकता है?  
Which of the following Kohlberg's stage of moral development works best in two-person relationships with family members or close friends, where one can make a real effort to get to know the other's feelings and needs and try to help?
- (a) सार्वभौमिक सिद्धान्त  
Universal principles
- (b) अच्छे पारस्परिक सम्बन्ध  
Good interpersonal relationships
- (c) सामाजिक अनुबन्ध और व्यक्तिगत अधिकार  
Social contract and individual rights
- (d) सामाजिक व्यवस्था बनाए रखना  
Maintaining the social order

170. निम्नलिखित में से कौन पाँच से सात वर्ष के बच्चों के सीखने की विशेषता नहीं है?  
Which of the following is not a characteristic of a 'five to seven years old learner'?
- (a) वे गतिविधियों की योजना बना सकते हैं।  
They can plan activities
- (b) वे तार्किक तर्क का उपयोग कर सकते हैं।  
They can use logical reasoning
- (c) वे हर समय सवाल पूछते हैं।  
They ask questions all the time
- (d) वे अपनी मन की कल्पनाओं का उपयोग कर सकते हैं।  
They can use their mind generated imaginations

171. निम्न में से कौन-सी प्रतिभावान बालक की विशेषता है?  
Which of the following is the characteristic of a talented child?
- (a) अपनी आयु के बालकों से काफी पिछड़ जाते हैं।  
They lag far behind children of their age.
- (b) निम्न बुद्धि-लब्धि होती है  
have low IQ
- (c) तीव्र निर्णय लेने की क्षमता तथा आत्मविश्वासी होते हैं।  
Ability to take quick decisions and are self-confident.
- (d) दूसरों से अत्रतक्रिया करने में असमर्थ होते हैं।  
Are unable to interact with others.

172. प्रतिभाशाली विद्यार्थी अपनी अन्तः शक्ति महसूस करेंगे, जब  
Gifted students will realize their inner strength when
- (a) वे और विद्यार्थियों के साथ शिक्षा-प्राप्त करते हैं  
They receive education along with other students
- (b) उनको और विद्यार्थियों से अलग करते हैं  
separate them from other students
- (c) वे व्यक्तिगत शिक्षण लेते हैं  
They receive individual instruction
- (d) उन्हें बार-बार जाँचा जाता है  
they are checked repeatedly

# SCHOLARS ACADEMY

they take personal tuition they are checked again and again

173. निम्नलिखित में से क्या अस्वीकृत बच्चों को सकारात्मक सामाजिक व्यवहार की नकल करने में मदद करता है?  
Which of the following helps rejected children imitate positive social behavior?  
(a) कोचिंग (b) डांटना  
coaching Scold  
(c) मॉडलिंग (d) सकारात्मक सामाजिक व्यवहार को मजबूत करना  
modeling reinforcing positive social behavior
174. समकक्ष स्वीकृति पहलू में जिन बच्चों को कभी-कभार ही सकारात्मक या नकारात्मक रूप से चुना जाता है उन्हें क्या कहते हैं?  
What are children who are rarely selected positively or negatively in the peer acceptance aspect called?  
(a) उपेक्षित बच्चे (b) विवादास्पद बच्चे  
neglected children controversial children  
(c) लोकप्रिय बच्चे (d) अस्वीकृत बच्चे  
popular kids rejected child
175. शिक्षार्थियों के संकलनात्मक आकलन (Summative assessment) का उद्देश्य क्या है?  
What is the purpose of summative assessment of learners?  
(a) सत्र के समाप्त होने पर आकलन (b) कक्षा के दौरान आकलन  
Assessment at the end of the session assessment during class  
(c) परियोजना का आकलन (d) पाठ के अंत में आकलन  
project assessment assessment at the end of the lesson
176. सबसे उचित विकल्प को रिक्त स्थान में भरिए : ज्ञान और विचारों को व्यवस्थित करने के लिए ..... सम्मिलित हैं।  
Fill in the blank with the most appropriate option: To organize knowledge and ideas..... are involved.  
(a) स्मरण संकेत और समीक्षा प्रश्न (b) सूचना मानचित्र और अवधारणा मानचित्र  
Recall Hints and Review Information Map and Questions Concept Map  
(c) अन्वेषणात्मक सॉफ्टवेयर और प्रश्न-बैंक (d) शिक्षक प्रतिरूपण और डंड-आरेख  
exploratory software and question banks Teacher Modeling and Bar Diagram
177. अवलोकन को आकलन का भाग तभी कहा जा सकता है जब आकलन-  
Observation can be called a part of assessment only when assessment -  
(a) अनिवार्यतः औपचारिक रूप से किया जा रहा हो (b) नियमित रूप से किया जा रहा हो  
necessarily being formalized being done regularly  
(c) प्रतिदिन प्रत्येक बच्चे का किया जा रहा हो (d) लड़के-लड़कियों का अलग-अलग किया जा रहा हो  
Every day every child is being Boys and girls are being

separated

178. शैक्षिक प्रक्रियाओं के मूल्यांकन के सन्दर्भ में आप किस कथन से सहमति प्रकट करेंगे?  
With which statement would you agree with regard to evaluation of educational processes?  
(a) कक्षा 8 तक विद्यार्थियों को फेल न किए जाने के प्रावधान के कारण ही विद्यार्थी सीख नहीं पा रहे हैं (b) परीक्षा और फेल हो जाने का डर वास्तव में बच्चों के लिए प्रेरणा का स्रोत बनकर काम करता है  
Due to the provision of not failing students till class 8, students are not able to learn. The fear of exams and failure actually acts as a source of motivation for children.  
(c) बच्चों को पास-फेल करना वास्तव में व्यवस्थागत विफलताओं को बच्चों के सिर मढ़ना है (d) कक्षा 8 तक विद्यार्थियों को फेल नहीं करने के प्रावधान के कारण देश में शिक्षा का स्तर गिर रहा है  
Passing and failing children is actually blaming systemic failures on children. The level of education in the country is falling due to the provision of not failing students till class 8.
179. 'अमूर्त सांस्कृतिक विरासत' का क्या तात्पर्य है?  
What is meant by 'intangible cultural heritage'?  
(a) संस्कृति की बौद्धिक वस्तुएं (b) संस्कृति के बाहरी वस्तुएं  
intellectual objects of culture externalities of culture  
(c) संस्कृति के भौतिक वस्तुएं (d) संस्कृति के घरेलू वस्तुएं  
material objects of culture household items of culture
180. सामाजिक स्तरीकरण शब्द को संदर्भित करने के लिए प्रयोग किया जाता है-  
The term social stratification is used to refer to -  
(a) वर्ण व्यवस्था में समाज का विभाजन (b) समाज को विभिन्न जाति व्यवस्था में विभाजित करना  
Division of society into caste system dividing society into different caste systems  
(c) समाज में भूमि का विभाजन (d) समाज का परतों या स्तरों में विभाजन  
division of land in society Division of society into layers or levels
181. निम्नलिखित शब्द के लिए लैटिन में समतुल्य शब्द है-  
The equivalent word in Latin for the following words is-  
(a) एड्यूसीयर (b) एड्यूकेयर  
EduSeer Educare  
(c) एड्यूकेशन (d) एड्यूकेटम  
education Educatum
182. शिक्षा का उद्देश्य — के अधीन एक तत्व है-  
The objective of education is an element under —  
(a) शैक्षिक दर्शनशास्त्र (b) शैक्षिक समाजशास्त्र  
educational philosophy educational sociology  
(c) शैक्षिक शब्दावली (d) शैक्षिक मनोविज्ञान  
academic terminology educational psychology
183. अध्यापक की अभिवृत्ति एवं व्यवहार से विद्यालय में जो बच्चे सीखते हैं वह उत्पाद कहलाता है-

# SCHOLARS ACADEMY

The product that children learn in school from the attitude and behavior of the teacher is called –

- |                                         |                                            |
|-----------------------------------------|--------------------------------------------|
| (a) बाह्य पाठ्यक्रम<br>external courses | (b) गुप्त पाठ्यक्रम<br>secret curriculum   |
| (c) शून्य पाठ्यक्रम<br>zero course      | (d) सामाजिक पाठ्यक्रम<br>social curriculum |

184. यह कथन किसने कहा "पाठ्यक्रम एक कलाकार (अध्यापक) के हाथ का वह औजार है जिससे वह अपनी कार्यशाला (विद्यालय) में अपनी सोच के अनुरूप विद्यार्थी को रूप देता है।"

Who said this statement "Curriculum is the tool in the hands of an artist (teacher) with which he gives form to the student according to his thinking in his workshop (school)."

- |                          |                                |
|--------------------------|--------------------------------|
| (a) कनिंघम<br>cunningham | (b) राल्फ टेलर<br>ralph taylor |
| (c) जी. गौस<br>G. gauss  | (d) ए. वेस्टर<br>A. wester     |

185. ——— की सिफारिश है कि UGC, NCERT, NIEPA, AICTE इत्यादि जैसे राष्ट्रीय महत्व के संस्थानों को मजबूत किया जाएगा ताकि वे शिक्षा की राष्ट्रीय प्रणाली को आकार दे सकें।

——— recommends that institutions of national importance like UGC, NCERT, NIEPA, AICTE etc. will be strengthened so that they can shape the national system of education.

- |                                                                 |                                                                      |
|-----------------------------------------------------------------|----------------------------------------------------------------------|
| (a) कोठारी आयोग (1964-66)<br>Kothari Commission (1964-66)       | (b) राष्ट्रीय पाठ्यचर्या की रूपरेखा<br>national curriculum framework |
| (c) शिक्षा की राष्ट्रीय प्रणाली<br>national system of education | (d) राष्ट्रीय शिक्षा नीति (1986)<br>National Education Policy (1986) |

186. सतत शिक्षा केन्द्र की स्थापना दूरस्थ शिक्षा और श्रमिकों के कार्यक्रम नियोजकों के माध्यम से ..... शामिल हैं।

Establishment of continuing education centers, distance education and labor programs through employers.

- |                                                                            |                                                          |
|----------------------------------------------------------------------------|----------------------------------------------------------|
| (a) वयस्क शिक्षा और सतत शिक्षा<br>Adult education and continuing education | (b) दूरस्थ शिक्षा<br>distance education                  |
| (c) व्यावसायिक शिक्षा<br>vocational education                              | (d) राष्ट्रीय साक्षरता मिशन<br>National Literacy Mission |

187. सामाजिक विज्ञान के शिक्षण में प्रयोग की जाने वाली भाषा कैसी होनी चाहिए?

What should be the language used in teaching social sciences?

- |                                                                         |                            |
|-------------------------------------------------------------------------|----------------------------|
| (a) प्रमुख समूहों का प्रतिनिधित्व करती हुई<br>representing major groups | (b) पक्षपातपूर्ण<br>biased |
| (c) तटस्थ और संवेदनशील<br>neutral and sensitive                         | (d) मुश्किल<br>difficult   |

188. कक्षा में परिचर्चा के लिए दिए जाने वाले सामाजिक आन्दोलन के प्रतीक अध्ययन (केस स्टडी) में निम्नलिखित का होना आवश्यक नहीं है—

It is not necessary for the case study of a social movement given for discussion in the class to have the following –

- |                                                       |                                                                                           |
|-------------------------------------------------------|-------------------------------------------------------------------------------------------|
| (a) आन्दोलन के समाधान<br>Solutions to movement        | (b) आन्दोलन की पृष्ठभूमि<br>background of the movement                                    |
| (c) आन्दोलन के उद्देश्य<br>Objectives of the movement | (d) आन्दोलन से सम्बन्धित समस्याओं के क्षेत्र<br>Areas of problems related to the movement |

189. राष्ट्रीय पाठ्यक्रम रूपरेखा (NCF) 2005, स्कूलों में विज्ञान पढ़ाने के लिए किस शैक्षणिक दृष्टिकोण को अपनाने का सुझाव देता है?

What pedagogical approach does the National Curriculum Framework (NCF) 2005 suggest to adopt for teaching science in schools?

- |                                                                    |                                                       |
|--------------------------------------------------------------------|-------------------------------------------------------|
| (a) प्रयोगशाला कार्य<br>laboratory work                            | (b) क्षेत्र यात्राएँ (फील्ड ट्रिप)<br>Field Trips     |
| (c) एकाधिक बौद्धिक दृष्टिकोण<br>multiple intellectual perspectives | (d) पूछताछ आधारित दृष्टिकोण<br>inquiry based approach |

190. 5 मई 1988 को स्थापित राष्ट्रीय साक्षरता मिशन प्राधिकरण (NLMA) का उद्देश्य क्या है?

What is the objective of the National Literacy Mission Authority (NLMA) established on 5 May 1988?

- |                                                                                          |                                                                           |
|------------------------------------------------------------------------------------------|---------------------------------------------------------------------------|
| (a) शैक्षिक नीतियों के बेहतर कार्यान्वयन करने के लिए<br>शैक्षिक संगठनों का पुनर्गठन करना | (b) वयस्क शिक्षा में गंभीरता और इसकी आवश्यकता की नवीन भावना का संचार करना |
|------------------------------------------------------------------------------------------|---------------------------------------------------------------------------|

Restructuring educational organizations for better implementation of educational policies

To inculcate a new sense of seriousness and its necessity in adult education.

- |                                                         |                                                           |
|---------------------------------------------------------|-----------------------------------------------------------|
| (c) सभी के लिए शिक्षा की नीति को एक उत्साह से लागू करना | (d) लोगों को निष्पक्षता और समानता के बारे में जागरूक करना |
|---------------------------------------------------------|-----------------------------------------------------------|

To enthusiastically implement the policy of education for all

To make people aware about fairness and equality

191. पर्यवेक्षक का मूल उद्देश्य है—

The basic objective of the supervisor is –

- |                                                                      |                                                                               |
|----------------------------------------------------------------------|-------------------------------------------------------------------------------|
| (a) बच्चों के प्रति अध्यापकों की समझ को सुधारने में उनकी सहायता करना | (b) बच्चों के साथ बरताव करने में अध्यापकों को कुशल बनाने में उनकी सहायता करना |
|----------------------------------------------------------------------|-------------------------------------------------------------------------------|

To help teachers improve their understanding of children

To help teachers become efficient in dealing with children

- |                                                                   |                                                                  |
|-------------------------------------------------------------------|------------------------------------------------------------------|
| (c) बच्चों द्वारा अधिक प्रभावित रूप से सीखने में उनकी सहायता करना | (d) उनकी अध्यापन तकनीकों को सुधारने में अध्यापकों की सहायता करना |
|-------------------------------------------------------------------|------------------------------------------------------------------|

Helping children learn more effectively

Helping teachers to improve their teaching techniques

192. स्कूल के निर्णयकर्ता के रूप में किसे एस.एम.सी. में अभिभावक प्रबंधकों के चुनाव में मतदान करना या खड़ा होना चाहिए और स्कूल क्या कर रहा है और इसे कैसे चलाना चाहिए इसके बारे में सुझाव देना चाहिए?

# SCHOLARS ACADEMY

Who is appointed by SMC as the decision maker of the school? Should parents vote or stand in the election of managers and make suggestions about what the school is doing and how it should be run?

- |                                               |                       |
|-----------------------------------------------|-----------------------|
| (a) स्कूल के प्रधानाचार्य<br>school principal | (b) शिक्षक<br>Teacher |
| (c) माता-पिता<br>Parents                      | (d) शिक्षक<br>Teacher |

193. अनुसंधान प्रक्रिया का निम्न में से कौन-सा लक्षण नहीं है?  
Which of the following is not a characteristic of the research process?

- |                                                     |                                              |
|-----------------------------------------------------|----------------------------------------------|
| (a) अनुभाषिक उपगमन<br>Empirical approach            | (b) सुव्यवस्थित प्रयास<br>systematic effort  |
| (c) अनियंत्रित स्थितियाँ<br>uncontrolled situations | (d) आलोचनात्मक विश्लेषण<br>critical analysis |

194. सामाजिक विज्ञान की पाठ्य-पुस्तकों में मानचित्रों और अरेखों का प्रयोग प्रासंगिक है, क्योंकि वे-  
The use of maps and diagrams in social science textbooks is relevant because they -

- |                                                                          |                                                               |
|--------------------------------------------------------------------------|---------------------------------------------------------------|
| (a) अवधारणा में नए आयाम जोड़ते हैं<br>add a new dimension to the concept | (b) विशेषज्ञों द्वारा बनाए जाते हैं<br>are created by experts |
| (c) पाठ्य-पुस्तकों को आकर्षक बनाते हैं<br>make textbooks attractive      | (d) अवधारणा को स्पष्ट करते हैं<br>clarify the concept         |

195. सामाजिक विज्ञान शिक्षण का आधार-पत्र किस पर बल देता है?  
What does the foundation of social science teaching emphasize?

- |                                                                                                                                           |                                                                         |
|-------------------------------------------------------------------------------------------------------------------------------------------|-------------------------------------------------------------------------|
| (a) विभिन्न मतों का सम्मान करना तथा विचारों व अभ्यासों का परीक्षण करना<br>Respecting different opinions and examining ideas and practices | (b) सामाजिक पदानुक्रमों को स्वीकार करना<br>accepting social hierarchies |
| (c) पाठ्य-पुस्तकों का प्रयोग अधिक करना<br>use more textbooks                                                                              | (d) याद करने को प्रोत्साहित करना<br>encourage recall                    |

196. सामाजिक विज्ञान की पाठ्य-पुस्तकों के प्रति क्या दृष्टिकोण होना चाहिए?  
What should be the attitude towards social science text books?

- |                                                                       |                                                                                                                             |
|-----------------------------------------------------------------------|-----------------------------------------------------------------------------------------------------------------------------|
| (a) याद करने योग्य एवं अभिलेख के रूप में<br>Memorable and as a record | (b) ज्ञान के भण्डार व आगामी पीढ़ी के अवसर के रूप में<br>As a storehouse of knowledge and an opportunity for further inquiry |
| (c) ज्ञान के भण्डार के रूप में<br>as a storehouse of knowledge        | (d) अन्तिम वक्तव्य के रूप में<br>as a final statement                                                                       |

197. निम्नलिखित में से क्या ईवीएस में शिक्षण अधिगम की योजना बनाना में शामिल चरणों में से एक नहीं है?

Which of the following is NOT one of the steps involved in planning teaching-learning in EVS?

- |                                                                     |                                                                                                  |
|---------------------------------------------------------------------|--------------------------------------------------------------------------------------------------|
| (a) अपनी पाठ योजना पर चिंतन करना।<br>Reflecting on your lesson plan | (b) सीखने और समझने के लिए जाँच करने की योजना<br>Plan to check for the learning and understanding |
| (c) एक यथार्थवादी समयरेखा बनाना।<br>Creating a realistic timeline   | (d) मूल्यांकन के परिणाम तैयार करना।<br>Preparing results of the assessments                      |

198. शब्द-स्तर पर लेखन का उद्देश्य क्या है?

What is the purpose of writing at 'word level'?

- |                                                                                                       |                                                                                      |
|-------------------------------------------------------------------------------------------------------|--------------------------------------------------------------------------------------|
| (a) नई शब्दावली, लिखावट और वर्तनी सीखना<br>Learning new vocabulary, handwriting and spelling          | (b) नई संरचनाओं और कार्यों का अभ्यास करना।<br>Practicing new structure and functions |
| (c) योजना, प्रारूपण, संपादन और खाका को समझना।<br>Planning, drafting, editing and understanding layout | (d) संज्ञानात्मक जागरूकता का विकास<br>Development of metacognitive awareness         |

199. हम छात्रों के बीच साइकोमोटर (मनोगत्यात्मक) कौशल कैसे विकसित कर सकते हैं ?

How can we develop psychomotor skills among students?

- |                                                                     |                                              |
|---------------------------------------------------------------------|----------------------------------------------|
| (a) कला और शिल्प गतिविधियों द्वारा<br>by arts and crafts activities | (b) निबन्ध लेखन द्वारा<br>by essay writing   |
| (c) गणितीय पजल्स के हल द्वारा<br>By solving mathematical puzzles    | (d) पहेली हल द्वारा<br>by solving the puzzle |

200. निम्नलिखित में से कौन सा वाक्य शारीरिक गतिविधि करने के परिणामों के संदर्भ में सबसे उपयुक्त है?

Which of the following sentences is most appropriate in reference to the consequences of doing physical activity?

- |                                                                                                                                                                                                      |                                                                                                               |
|------------------------------------------------------------------------------------------------------------------------------------------------------------------------------------------------------|---------------------------------------------------------------------------------------------------------------|
| (a) छात्रों को जीतने की आदत पड़ती है।<br>Students get used to winning.                                                                                                                               | (b) छात्रों को जमीन गतिविधियों का उपयोग पता होता है।<br>Students know the use of land activities.             |
| (c) कुछ प्रत्येक छात्र एक दूसरे के करीब आते हैं और परिस्थितियों के अनुसार खुद को समायोजित करते हैं।<br>Some students come closer to each other and adjust themselves according to the circumstances. | (d) छात्र अन्य छात्रों की तुलना में बहुत तेजी से बढ़ते हैं।<br>Students grow much faster than other students. |