

DO NOT OPEN THE SEAL OF THE BOOKLET UNTIL YOU ARE TOLD TO DO SO

EXAM ID. - 10258

DSSSB

TEST SERIES

DATE - __/__/__

DAY -

INSTRUCTION FOR CANDIDATE

उम्मीदवारों के लिए अनुदेश

TEST SERIES NO.

A – 108

QUESTION – 200

MARKS – 200

NEGATIVE MARK – 0.25

DURATION – 120 MIN.

- केवल काले या नीले रंग की स्याही वाले बॉल पेन का ही उपयोग करें
- परीक्षा प्रारंभ होते ही आप इस प्रश्न पुस्तिका की जाँच अवश्य कर ले तथा यदि इसमें कोई बिना छपा कटा-फटा या आंशिक छपा हुआ पृष्ठ अथवा प्रश्न हो, तो इसे अभिजागर के माध्यम से सही प्रश्न पुस्तिका से बदल लीजिए।
- इस प्रश्न पुस्तिका में कुल 200 प्रश्न हैं।
- यह एक वस्तुनिष्ठ परीक्षा है, जिसमें प्रत्येक प्रश्न के उत्तर के लिए चार विकल्प दिए गए हैं, आपको इन चार विकल्पों में से सही उत्तर वाले एक ही विकल्प को चुनना है।
- सभी प्रश्नों के उत्तर अलग अलग से दिए गए उत्तर-पत्रक पर ही अंकित करने हैं।

- उत्तर-पत्रक को भरने हेतु निर्देश उत्तर-पत्रक के पृष्ठ भाग पर अंकित हैं, जिन्हें उत्तर-पत्रक को भरने से पूर्व ध्यान से पढ़ ले।
- इस प्रश्न पुस्तिका में रफ-कार्य के लिए खाली पृष्ठ उपलब्ध हैं।
- परीक्षा समाप्त होने से पूर्व परीक्षार्थी कक्ष से बाहर नहीं जा सकते हैं।
- परीक्षा समाप्त होने के पश्चात् आप उत्तर-पत्रक की ORIGINAL COPY को अभिजागर के पास जमा कराकर उनकी अनुमति से ही बाहर जा सकते हैं।
- परीक्षा समाप्त होने पर प्रश्न पुस्तिका एवं उत्तर-पत्रक की Candidate's Copy को अपने साथ ले जाने की अनुमति है।
- प्रत्येक सही उत्तर पर 1 अंक प्राप्त होगा तथा प्रत्येक गलत उत्तर पर 0.25 अंक काटा जाएगा।

SCHOLARS ACADEMY

SSC | IBPS | NDA | RAILWAY | COMMERCE

Add : H-81, Ind floor, South Extension I, Block H, New Delhi, Delhi 110049

MOB:- 01141676717, 9312712114

General Awareness

1. निम्नलिखित में से किस वर्ष में औरंगजेब के आदेश पर सिखों के नौवें गुरु श्री गुरु तेग बहादुर की हत्या कर दी गई थी?
In which of the following years was the ninth Guru of the Sikhs, Sri Guru Tegh Bahadur, assassinated on the orders of Aurangzeb?
- (a) 1745 (b) 1675
(c) 1689 (d) 1539
2. निम्नलिखित में से कौन-सा, ध्वनि तरंगों का एक अभिलक्षण नहीं है?
Which of the following is not a characteristic of sound waves?
- (a) प्रगामी (b) यांत्रिक
progressive Mechanical
(c) विद्युतचुंबकीय (d) अनुदैर्घ्य
Electromagnetic Longitudinal
3. पंजाब के किस जिले में भारतीय सैनिकों के कंकाल के अवशेष थे, जिन्हें ब्रिटिश सैनिकों ने 1857 में प्रथम स्वतंत्रता संग्राम में भाग लेने के लिए मार दिया था, इन्हें मार्च 2014 में खोजा गया था?
In which district of Punjab were the skeletal remains of Indian soldiers, who were executed by British troops for participating in the First War of Independence in 1857, discovered in March 2014?
- (a) जालंधर (b) अमृतसर
Jalandhar Amritsar
(c) बठिंडा (d) पटियाला
bathinda Patiala
4. निम्नलिखित में से कौन सा समारोह मुख्यतः ओडिशा से संबंधित है?
Which of the following celebrations is mainly related to Odisha?
- (a) बालि यात्रा (b) कांग चिंगबा
bali trip Kang Chingba
(c) अंबुबाची मेला (d) होला मोहल्ला
Ambubachi is dead Hola Mohalla
5. निम्नलिखित में से किसे विटामिन B2 के नाम से भी जाना जाता है?
Which of the following is also known as Vitamin B2?
- (a) नियासिनामाइड (b) राइबोफ्लेविन
niacinamide riboflavin
(c) थायमिन (d) साइनोकोबालामीन
thiamine cyanocobalamin
6. भारतीय कृषि अनुसंधान परिषद (ICAR) का राष्ट्रीय केला अनुसंधान केन्द्र कहाँ स्थापित किया गया है?
Where has the National Banana Research Center of the Indian Council of Agricultural Research (ICAR) been established?
- (a) तिरुचिरापल्ली, तमिलनाडु (b) जलगाँव, महाराष्ट्र
Tiruchirappalli, Tamil Nadu Jalgaon, Maharashtra
(c) हाजीपुर, बिहार (d) बेलगाम, कर्नाटक
Hajipur, Bihar Belgaum, Karnataka
7. भारतीय संविधान का एक सौ तीनों संशोधन सरकारी नौकरियों और शैक्षिक संस्थानों में _____ के लिए आरक्षण प्रदान करता है।

The One Hundred and Third Amendment of the Indian Constitution provides for reservation for _____ in government jobs and educational institutions.

- (a) आर्थिक रूप से कमजोर वर्ग (b) अनुसूचित जाति/जनजाति
economically weaker section Scheduled Caste/Tribe
(c) अन्य पिछड़ा वर्ग (d) अल्पसंख्यकों
Other backward classes minorities
8. निम्नलिखित में से कौन सा स्मारक लखनऊ में स्थित है?
Which of the following monuments is located in Lucknow?
- (a) बड़ा इमामबाड़ा (b) महाबत मकबरा
Bada Imambara Mahabat Tomb
(c) अजंता एलोरा की गुफाएं (d) गोलकोंडा किला
Ajanta Ellora Caves Golconda Fort
9. पांचवीं से चौथी शताब्दी ईसा पूर्व के आसपास बुद्ध के उपदेशों का संकलन निम्नलिखित में से कौन-सा था?
Which of the following was a compilation of Buddha's teachings around the fifth to fourth century BC?
- (a) तत्त्वार्थ (b) त्रिपिटक
Tattvartha Tripitaka
(c) अवेस्ता (d) अष्टांग हृदयम्
Avesta The eight-fold heart
10. अरब सागर का कौन सा द्वीपीय देश भारत का पड़ोसी है?
Which island country of the Arabian Sea is India's neighbor?
- (a) मालदीव (b) इंडोनेशिया
maldives Indonesia
(c) श्रीलंका (d) म्यांमार
Sri Lanka Myanmar
11. निम्नलिखित में से कौन-सा भारतीय शहर कलमकारी चित्रकला के लिए प्रसिद्ध है?
Which of the following Indian cities is famous for Kalamkari painting?
- (a) विशाखापत्तनम (b) गोलकोंडा
Visakhapatnam Golconda
(c) काकीनाडा (d) मसुलीपत्तनम
Kakinada Masulipatnam
12. दिसंबर 1947 तक प्राप्त जानकारी के अनुसार, भारत का संविधान लिखने वाली संविधान सभा में _____ सदस्य थे।
According to the information received till December 1947, the Constituent Assembly that wrote the Constitution of India had _____ members.
- (a) 230 (b) 275
(c) 299 (d) 245
13. स्टीरियोप्सिस (Stereopsis) से जुड़ी एक विशेषता है—
A characteristic associated with Stereopsis is —
- (a) आँख (b) नाक
eye nose
(c) जीभ (d) कान
Tongue Ear
14. इंदिरा गांधी मेमोरियल ट्यूलिप गार्डन, जो एशिया का सबसे बड़ा ट्यूलिप गार्डन है, कहाँ स्थित है ?

Where is the Indira Gandhi Memorial Tulip Garden, which is the largest tulip garden in Asia, located?

- (a) देहरादून (b) धर्मशाला
Dehradun Hospice
(c) श्रीनगर (d) शिमला
Srinagar Shimla

15. पंचायत का सदस्य बनने के लिए निम्नलिखित में से कितनी न्यूनतम आयु (संविधान के अनुसार निर्धारित) आवश्यक है ?

What is the minimum age (determined as per the Constitution) required to become a member of the Panchayat?

- (a) 36 वर्ष (b) 21 वर्ष
36 years 21 years
(c) 18 वर्ष (d) 28 वर्ष
18 years 28 years

16. पंजाब के नए मुख्य सचिव के तौर पर किसे नियुक्त किया गया है? Who has been appointed as the new Chief Secretary of Punjab?

- (a) अजय कुमार (b) अभिषेक अवस्थी
Ajay Kumar Abhishek Awasthi
(c) राजेश अग्रवाल (d) अनुराग वर्मा
Rajesh Aggarwal Anurag Verma

17. किस बीमा कंपनी ने प्रीमियम के लिए व्हाट्सएप और यूपीआई से पेमेंट सुविधा की शुरुआत की है?

Which insurance company has started payment facility for premium through WhatsApp and UPI?

- (a) एलआईसी (b) टाटा एआईए
LIC Tata AIA
(c) बजाज एलियांज (d) भारतीय एक्सा
Bajaj Allianz indian axa

18. प्रधान मंत्री ने कहाँ पर भारत के भव्य अंतर्राष्ट्रीय प्रदर्शनी-सह-सम्मेलन केंद्र 'भारत मंडपम' का उद्घाटन किया है?

Where has the Prime Minister inaugurated India's grand international exhibition-cum-convention center 'Bharat Mandapam'?

- (a) चंडीगढ़ (b) जम्मू कश्मीर
Chandigarh Jammu and Kashmir
(c) लद्दाख (d) नई दिल्ली
Ladakh New Delhi

19. किसे उपन्यास "चाय टाइम एट सिनामन गार्डन्स" के लिए माइल्स फ्रैंकलिन साहित्यिक पुरस्कार से सम्मानित किया गया है? Who has been awarded the Miles Franklin Literary Award for the novel "Tea Time at Cinnamon Gardens"?

- (a) वर्षा अदलजा (b) स्मिता अग्रवाल
Rain Adalja Smita Agarwal
(c) शंकरा चन्द्रन (d) समीना अली
Shankari Chandran Sameena Ali

20. पूर्वोत्तर में पहला संपीड़ित बायोगैस संयंत्र किस राज्य में बनाया गया ?

In which state was the first compressed biogas plant built in the North-East?

- (a) पंजाब (b) असम
Punjab Assam

- (c) राजस्थान (d) उत्तराखंड
Rajasthan Uttarakhand

Reasoning

21. 'मुद्रास्फीति' का जो संबंध 'अपस्फीति' से है वही संबंध 'त्वरित' का '_____' से है।

'Inflation' is related to 'Deflation' in the same way as 'Accelerated' is related to '_____'.
(a) प्रतिवर्त (b) तीव्र
reflex intense
(c) मंदी (d) दौड़
recession race

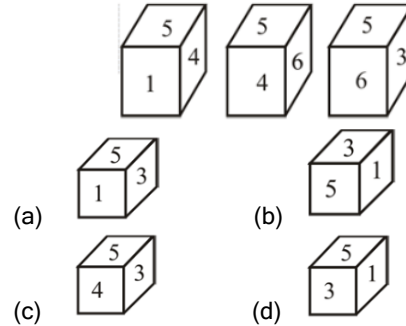
22. किसी कूट भाषा में, ALMOND को BMNPOE के रूप में लिखा जाता है। उसी भाषा में MENTAL को किस प्रकार से लिखा जाएगा?

In a certain code language, ALMOND is written as BMNPOE. How will MENTAL be written in the same language?

- (a) NFOUBM (b) NFQOBM
(c) FNQOMB (d) FNOQBM

23. एक ही पासे की तीन विभिन्न स्थितियाँ दर्शाई गई हैं। इस पासे को अगली बार घुमाने पर इसकी आने वाली स्थिति का चयन करें।

Three different positions of the same dice are shown. Select the position of this die the next time it is rolled.



24. दिए गए विकल्पों में से उस संख्या का चयन करें जो निम्नलिखित श्रृंखला में प्रश्न चिह्न (?) के स्थान पर आ सकती है।

2, 6, 12, ?, 30

Select the number from the given options that can come in place of the question mark (?) in the following series.
2, 6, 12, ?, 30

- (a) 20 (b) 24
(c) 18 (d) 26

25. चार अक्षर-समूह दिए गए हैं, जिनमें से तीन किसी तरह से एक समान हैं और एक असंगत है। उस अक्षर-समूह का चयन करें जो असंगत है।

Four letter-clusters have been given, out of which three are alike in some manner and one is different. Select the set of letters which is inconsistent.

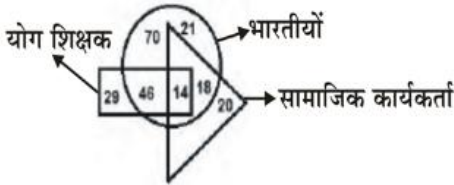
- (a) RTUS (b) KMNL
(c) JLMK (d) OQSP

26. छह लड़कियाँ P, Q, R, S, T और U दो पंक्तियों में बैठी हैं। एक पंक्ति दूसरी पंक्ति के पीछे है। सभी लड़कियाँ उत्तर दिशा की ओर अभिमुख हैं। आगे की पंक्ति में तीन लड़कियाँ हैं। शेष लड़कियाँ दूसरी पंक्ति में बैठी हैं। T ठीक P के पीछे बैठी है। R ठीक U के बाएं पड़ोस में बैठी है। S ठीक T और Q के बीच में बैठी है। S ठीक Q के बाएं पड़ोस में बैठी है। R के ठीक पीछे कौन सी लड़की बैठी है?

Six girls P, Q, R, S, T and U are sitting in two rows. One row is behind the other row. All the girls are facing north. There are three girls in the front row. The remaining girls are sitting in the second row. T is sitting immediately behind P. R sits immediate left neighbor of U. S is sitting exactly between T and Q. S sits immediate left neighbor of Q. Which girl is sitting immediately behind R?

- (a) ज्ञात नहीं किया जा सकता है (b) P
cannot be known
(c) Q (d) S

27. निम्नलिखित चित्र में, आयत, 'योग शिक्षकों' को दर्शाता है, वृत्त, 'भारतीयों' को दर्शाता है और त्रिभुज, 'सामाजिक कार्यकर्ताओं' को दर्शाता है। विभिन्न खंडों में दी गई संख्याएँ उस श्रेणी के व्यक्तियों की संख्या को दर्शाती हैं।



- (a) 14 (b) 20
(c) 18 (d) 21

28. दर्पण को आकृति के दाईं ओर रखे जाने पर, दी गई आकृति का दर्पण में निर्मित सही प्रतिबिंब चयनित करें।
Select the correct image formed in the mirror of the given figure when the mirror is placed on the right side of the figure.



- (a) (b)
(c) (d)

29. उस विकल्प का चयन करें जो तीसरे पद से उसी प्रकार संबंधित है जिस प्रकार दूसरा पद पहले पद से संबंधित है।
MUSCLE : CSMEUL :: WONDER : ?

Select the option that is related to the third term in the same way as the second term is related to the first term.
MUSCLE : CSMEUL :: WONDER : ?

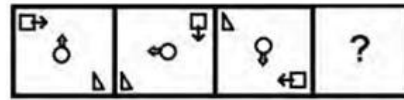
- (a) DWNERO (b) DNWROE
(c) NOEWDR (d) DNORWE

30. M, N, O और P एक गोल कार्यालय-मेज के परितः एक दूसरे से समान दूरी पर बैठे हैं। E, F, G और H भी बैठक में सम्मिलित हो गए हैं। M, F के सामने और O और G के बीच में बैठा है। P, G के दाईं ओर दूसरे स्थान पर और H के बाईं ओर तीसरे स्थान पर बैठा है। यदि N, H के सामने बैठा है, तो F के पड़ोस में कौन से 2 लोग बैठे हैं?

M, N, O and P are sitting around a round office table at equal distance from each other. E, F, G and H also attend the meeting. M is sitting in front of F and between O and G. P sits second to the right of G and third to the left of H. If N is sitting opposite to H, then who are the two people sitting adjacent to F?

- (a) H, P (b) P, E
(c) E, N (d) D, H

31. दिए गए विकल्पों में से उस आकृति का चयन कीजिए, जो निम्न आकृति श्रृंखला में प्रश्नवाचक चिह्न (?) के स्थान पर आ सकती है।
Select the figure from the given options which can come in place of the question mark (?) in the following figure series.



- (a) (b)
(c) (d)

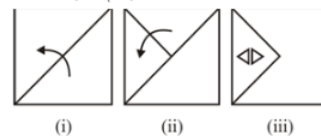
32. उस विकल्प का चयन करें जो तीसरी संख्या से उसी प्रकार संबंधित है, जिस प्रकार दूसरी संख्या पहली संख्या से संबंधित है।
23 : 299 :: 24 : ?

Select the option which is related to the third number in the same way as the second number is related to the first number.

23 : 299 :: 24 : ?

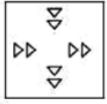
- (a) 310 (b) 312
(c) 300 (d) 306

33. नीचे दी गई आकृतियों में कागज के एक टुकड़े को मोड़ने और मोड़े गए कागज को काटने के तरीके का क्रम दर्शाया गया है। कागज को खोले जाने पर वह कैसा दिखाई देगा ?

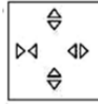


The figures given below show the sequence of folding a piece of paper and how to cut the folded paper. How will the paper appear when it is opened?

- (a) (b)



(c)



(d)

34. यदि " का अर्थ '+', '@' का अर्थ '-', '#' का अर्थ 'x' और '\$' का अर्थ '÷' है, तो 46 23 # 21 \$ 3 @ 17 का मान क्या होगा ?

If " means '+', '@' means '-', '#' means 'x' and '\$' means '÷', then what will be the value of 46 23 # 21 \$ 3 @ 17?

- (a) 466 (b) 353
(c) 190 (d) 299

35. अरविंद, कुणाल, निधि, पवन, साहिल, तान्या, तन्मय और सुनीता नाम के आठ व्यक्ति एक वृत्ताकार मेज के परितः मेज के वेंद्रे की ओर मुंह किए हुए बैठे हुए हैं। निधि, साहिल के दाएँ दूसरे स्थान पर बैठी है। कुणाल, पवन के दाएँ दूसरे स्थान पर बैठा है। तन्मय, पवन के बाएँ तीसरे स्थान पर बैठा है। सुनीता, तन्मय के बाएँ और अरविंद के दाएँ बगल में बैठी है। तान्या, अरविंद के दाएँ तीसरे स्थान पर बैठी है। निधि और साहिल के बीच में कौन बैठा/बैठी है ?

Eight persons named Arvind, Kunal, Nidhi, Pawan, Sahil, Tanya, Tanmay and Sunita are sitting around a circular table facing the center of the table. Nidhi is sitting second to the right of Sahil. Kunal is sitting second to the right of Pawan. Tanmay is sitting third to the left of Pawan. Sunita is sitting to the left of Tanmay and to the right of Arvind. Tanya is sitting third to the right of Arvind. Who is sitting between Nidhi and Sahil?

- (a) पवन (b) तान्या
wind Tanya
(c) तन्मय (d) कुणाल
engrossed Kunal

36. उस सही विकल्प का चयन कीजिए, जो दिए गए शब्दों के उस क्रम को दर्शाता है, जिस क्रम में वे अंग्रेजी शब्दकोश में मौजूद होते हैं। Select the correct option which shows the order of the given words in the order in which they appear in the English dictionary.

1- Season 2-Seating 3- Sense 4- Sealed 5- Seize

- (a) 1, 4, 2, 5, 3 (b) 4, 1, 2, 5, 3
(c) 4, 1, 2, 3, 5 (d) 4, 2, 1, 5, 3

37. दिए गए विकल्पों में से उस अक्षर-समूह का चयन करें, जो निम्नलिखित श्रृंखला में प्रश्नवाचक चिह्न (?) के स्थान पर आ सकता है। DNKB, GQNE, JTQH, MWTK, ?

Select the letter-cluster from the given options which can come in place of the question mark (?) in the following series.

DNKB, GQNE, JTQH, MWTK, ?

- (a) PZWN (b) QZWM
(c) PAXN (d) PZXO

38. मनीष की ओर संकेत करते हुए अजय ने एक महिला से कहा, 'वह मेरी बेटी की माँ के पिता का बेटा है।' अजय का मनीष से क्या संबंध है ?

Pointing towards Manish, Ajay said to a woman, 'He is the son of my daughter's mother's father.' How is Ajay related to Manish?

- (a) जीजा (b) चाचा
brother in law Uncle

(c) ससुर
father in law

(d) भाई
Brother

39. उस विकल्प का चयन करें जो तीसरे अक्षर-समूह से उसी प्रकार संबंधित है जिस प्रकार दूसरा अक्षर-समूह पहले अक्षर-समूह से संबंधित है।

LGS : QHX :: NDP : ?

Select the option which is related to the third letter-cluster in the same way as the second letter-cluster is related to the first letter-cluster.

LGS : QHX :: NDP : ?

- (a) TIU (b) TEV
(c) SEU (d) SIU

40. दिए गए विकल्पों में से उस संख्या का चयन कीजिए जो निम्नलिखित श्रृंखला में प्रश्न चिह्न (?) के स्थान पर आ सकती है।

192, 179, 162, ?, 120, 91, 60

Select the number from the given options which can come in place of the question mark (?) in the following series.

192, 179, 162, ?, 120, 91, 60

- (a) 143 (b) 81
(c) 136 (d) 150

Arithmetical & Numerical Ability

41. एक शहर में, प्रत्येक वर्ष, वर्ष के आरंभ में लोगों की संख्या में 3% प्रतिशत वृद्धि हुई। यदि उस शहर की वर्तमान जनसंख्या 30,00,000 है, तो 3 वर्षों के बाद जनसंख्या होगी।

In a city, every year, the number of people at the beginning of the year increased by 3% percent. If the present population of that city is 30,00,000, then the population after 3 years will be.

- (a) 3277181 (b) 3217881
(c) 3278181 (d) 3281781

42. शेफाली ने कप का एक सेट 575 में खरीदा, लेकिन बाद में पुराना माल निकालने के लिए 506 में बेच दिया। उसे कितने प्रतिशत नुकसान हुआ ?

Shefali bought a set of cups for Rs 575, but later sold it for Rs 506 to clear the old stock. What percentage of loss did he suffer?

- (a) 13% (b) 14%
(c) 16% (d) 12%

43. एक बिक्री के विज्ञापन में 10% और 20% की दो क्रमिक छूट प्रदर्शित की गई हैं। यदि नकद भुगतान पर 5% की अतिरिक्त छूट दी जाती है, तो नकद भुगतान करके खरीदारी करने पर मिलने वाली कुल छूट ज्ञात कीजिए।

In a sale advertisement two successive discounts of 10% and 20% are displayed. If an additional discount of 5% is given on cash payment, find the total discount available on making the purchase by paying cash.

- (a) 40% (b) 35%
(c) 31.6% (d) 32%

44. यदि A : B = 5 : 8 और B : C = 18 : 25 तो A : C ज्ञात करें।
If A : B = 5 : 8 and B : C = 18 : 25 then find A : C.

SCHOLARS ACADEMY

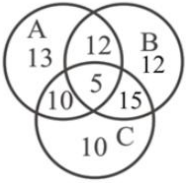
- (a) 8 : 5 (b) 9 : 20
(c) 5 : 8 (d) 20 : 9
45. A और B, क्रमशः 50000 और 60000 का निवेश करके एक साझेदारी में प्रवेश करते हैं। 'X' महीनों के बाद C भी 70000 निवेश करके उनके साथ जुड़ जाता है, वर्ष के अंत से 'X' महीने पहले B इस साझेदारी से निकल जाता है। यदि वे 20 : 18 : 21 के अनुपात में लाभ साझा करते हैं, तो 'X' का मान ज्ञात कीजिए।
A and B enter into a partnership by investing Rs 50000 and Rs 60000 respectively. After 'X' months C also joins them by investing Rs. 70000, B leaves the partnership before 'X' months from the end of the year. If they share profits in the ratio 20 : 18 : 21, find the value of 'X'.
- (a) 4 (b) 6
(c) 5 (d) 3
46. मेदिनी अकेले पूरी दीवार को 16 दिनों में पेंट कर सकती है, जबकि यूकी को इससे तीन गुना अधिक समय लगता है। यदि वे मिलकर काम करते हैं तो वे कितने दिनों में आधी दीवार पेंट कर लेंगे?
Medini alone can paint the entire wall in 16 days, while Yuki takes three times longer. If they work together, in how many days will they paint half the wall?
- (a) 12 (b) 3
(c) 6 (d) 9
47. सोना, पानी से 17 गुना भारी है और तांबे से 9 गुना भारी है। किस अनुपात में धातुओं का मिश्रण किया जाना चाहिए। ताकि वे पानी से 12 गुना भारी हो जाए।
Gold is 17 times heavier than water and 9 times heavier than copper. In what ratio should the metals be mixed? So that they become 12 times heavier than water.
- (a) 4 : 3 (b) 7 : 1
(c) 3 : 5 (d) 3 : 2
48. पाइप J और K क्रमशः 15 मिनट और 20 मिनट में एक टैंक भर सकते हैं। यदि दोनों पाइप एक ही समय एक साथ खोल दिये जाते हैं, तो टैंक को भरने में कितना समय लगेगा?
Pipes J and K can fill a tank in 15 minutes and 20 minutes respectively. If both the pipes are opened simultaneously, how much time will it take to fill the tank?
- (a) $17\frac{1}{2}$ मिनट (b) $11\frac{3}{5}$ मिनट
(c) 60 मिनट (d) $8\frac{4}{7}$ मिनट
49. 6% वार्षिक ब्याज की दर से 2500 पर 2 साल 3 महीने में मिलने वाला ब्याज कितना होगा?
What will be the interest received on Rs 2500 in 2 years 3 months at the rate of 6% annual interest?
- (a) 423.50 (b) 445
(c) 337.50 (d) 375
50. एक व्यक्ति ने 9% साधारण ब्याज पर धनराशि उधार ली और इसे 3 वर्षों के लिए 10% चक्रवृद्धि ब्याज पर निवेश किया। 3 वर्ष बाद उसे 1952 लाभ प्राप्त हुआ। उसने कितनी धनराशि उधार ली थी?
A person borrowed a sum of money at 9% simple interest and invested it at 10% compound interest for 3 years. After 3 years he got profit of Rs.1952. How much money did he borrow?
- (a) 30000 (b) 32000
(c) 33000 (d) 32543
51. छः साल पहले दो व्यक्तियों P और Q की आयु का अनुपात 3 : 2 था। चार वर्ष बाद उनकी आयु का अनुपात 8 : 7 हो जाएगा। P की आयु कितनी है?
Six years ago the ratio of the ages of two persons P and Q was 3 : 2. After four years the ratio of their ages will be 8 : 7. What is the age of P?
- (a) 10 वर्ष (b) 12 वर्ष
10 years 12 years
(c) 14 वर्ष (d) 8 वर्ष
14 years 8 years
52. तीन संख्याओं का औसत 28 है। यदि सबसे छोटी संख्या में 7 जोड़ दिया जाए और सबसे बड़ी संख्या में से 10 घटा दिया जाए, तो बीच वाला अंक समांतर माध्य और आंकड़ों के इस नए समुच्चय का परास 20 हो जाता है। इन तीन संख्याओं के मूल समुच्चय की सबसे बड़ी संख्या क्या है?
The average of three numbers is 28. If 7 is added to the smallest number and 10 is subtracted from the largest number, the middle number becomes the arithmetic mean and the range of this new set of data becomes 20. What is the largest number in the original set of these three numbers?
- (a) 47 (b) 40
(c) 45 (d) 50
53. एक ही समय पर शुरू हुई दो कारें A और B एक दूसरे से विपरीत दिशा में चलते हुए t घंटे बाद मिलती हैं और मिलने के बाद के क्रमशः 5 घंटे और 6 घंटे बाद अपने गंतव्य पर पहुँचती हैं। यदि कार A की गति 55 किलोमीटर/घंटा हो, तो कार B की गति क्या होगी?
Two cars A and B, starting at the same time and moving in opposite directions, meet each other after t hours and reach their destination after 5 hours and 6 hours respectively. If the speed of car A is 55 km/hr, what will be the speed of car B?
- (a) $66\sqrt{12}$ km/hr (b) $110\sqrt{3}$ km/hr
(c) $\frac{110}{\sqrt{6}}$ km/hr (d) $\frac{55}{6}\sqrt{30}$ km/hr
54. एक रेलगाड़ी 435 कि.मी की दूरी 2 घंटे 30 मिनट में तय करती है। इसकी चाल मीटर प्रति सेकेण्ड में ज्ञात कीजिए।
A train covers a distance of 435 km in 2 hours 30 minutes. Find its speed in meters per second.
- (a) 47.4 (b) 45.8
(c) 43.5 (d) 48.3
55. एक नदी के ऊपर की ओर 60 km की दूरी तय करने में एक खेनेवाले को 8 घंटे लगता है जबकि नीचे की ओर समान दूरी तय करने हेतु 5 घंटे लगते हैं। स्थिर पानी में खेनेवाला की गति क्या होगी?
A rower takes 8 hours to cover a distance of 60 km upstream of a river and 5 hours to cover the same distance downstream. What will be the speed of the rower in still water?

SCHOLARS ACADEMY

- (a) 9.25 km/h (b) 9.80 km/h
(c) 9.75 km/h (d) 9.5 km/h

56. एक आयत जिसका आयाम 4 cm और 2 cm है, उसे एक समबाहु त्रिभुज बनाने के लिए मोड़ा जाता है। इस प्रकार से बनी समबाहु त्रिभुज का क्षेत्रफल क्या होगा?
A rectangle whose dimensions are 4 cm and 2 cm is folded to form an equilateral triangle. What will be the area of the equilateral triangle formed in this way?
(a) $4\sqrt{3} \text{ cm}^2$ (b) $6\sqrt{3} \text{ cm}^2$
(c) $9/4 \sqrt{3} \text{ cm}^2$ (d) $2\sqrt{3} \text{ cm}^2$
57. गुणोत्तर श्रेणी (G. P .) के पहले तीन पदों के योग और पहले छः पदों के योग का अनुपात 125 : 152 है। G.P. का सामान्य अनुपात बताएं?
The ratio of the sum of the first three terms and the sum of the first six terms of a geometric progression (G.P.) is 125 : 152. G.P. Explain the general ratio of?
(a) 4/5 (b) 5/3
(c) 5/4 (d) 3/5

58. दिया गया वेन आरेख, कॉलेज के 77 छात्रों के एक समूह की खेल प्राथमिकताओं का प्रतिनिधित्व करता है। तीन खेल A- बैडमिंटन, B – बास्केटबॉल और C - टेनिस हैं। कितने छात्र ऐसे हैं जो बास्केटबॉल खेलना पसंद करते हैं, लेकिन टेनिस नहीं?
The given Venn diagram represents the sports preferences of a group of 77 college students. Three sports are A – Badminton, B – Basketball and C – Tennis. How many students like to play basketball but not tennis?



- (a) 17 (b) 24
(c) 35 (d) 15
59. यदि $\sin\theta - \cos\theta = 0$ है, तो $\sin^4\theta + \cos^4\theta + \tan^4\theta$ का मान क्या होगा?
If $\sin\theta - \cos\theta = 0$, then what will be the value of $\sin^4\theta + \cos^4\theta + \tan^4\theta$?
(a) 5/4 (b) 3/2
(c) 7/4 (d) 2
60. बिन्दुओं (-5, 5) और (7, -3) वाले रेखा-खण्ड को आंतरिक रूप से 3 : 1 के अनुपात में विभाजित करने वाले बिंदु के निर्देशांक क्या हैं?
What are the coordinates of the point which internally divides the line segment consisting of the points (-5, 5) and (7, -3) in the ratio 3 : 1?
(a) (-2, 3) (b) (4, -1)
(c) 5/2, 0 (d) (1, 1)

HINDI

61. गद्यांश: श्रद्धा एक (1) _____ भाव है, इससे अपनी श्रद्धा के बदले में हम श्रद्धेय से अपने लिए कोई बात नहीं चाहते। श्रद्धा धारण करते हुए हम अपने को उस (2) _____ में समझते हैं जिस किसी अंश पर -

चाहें हम व्यष्टि रूप में उसके अंतर्गत न भी हों - जान बूझकर उसने कोई शूभ प्रभाव डाला। श्रद्धा स्वयं ऐसे कामों के प्रति होती है जिनका (3) _____ प्रभाव अकेले हम पर नहीं बल्कि सारे (4) _____ समाज पर पड़ सकता है। श्रद्धा एक ऐसी आनंदपूर्ण (5) _____ है जिसे हम केवल समाज से प्रतिनिधिरूप में प्रकट करते हैं। निम्न प्रश्नों के उत्तर उपरोक्त गद्यांश के आधार पर दीजिए। गद्यांश के रिक्त स्थान (1) के लिए सर्वाधिक उपयुक्त शब्द होगा-

- (a) राजनीतिक (b) भौगोलिक
(c) आर्थिक (d) सामाजिक
62. गद्यांश के रिक्त स्थान (2) के लिए सर्वाधिक उपयुक्त शब्द होगा-
(a) समाज (b) नियम
(c) स्वर्ग (d) अधिकार
63. 'जिसकी गहराई का पता न लग सके' वाक्यांश के लिए एक शब्द होगा-
(a) अगाध (b) गहर
(c) असाध (d) अबाध
64. 'कटु' का विलोम शब्द होगा-
(a) करुण (b) पटु
(c) मधु (d) क्रूर
65. निम्न मुहावरे के सही अर्थ को व्यक्त करने वाले विकल्प का चयन करें। हाथ पैर मारना
(a) छीना झपटी करना (b) तैराकी करना
(c) लड़ाई करना (d) प्रयत्न करना
66. दिए गए शब्द का विलोम चुनें। आरोह
(a) विरह (b) अवरोह
(c) समारोह (d) निरीह
67. वर्तनी की दृष्टि से कौन-सा शब्द शुद्ध है?
(a) आतिसबाजी (b) ऐतिहासिक
(c) अत्याक्षरी (d) उत्तरदाई
68. निम्न मुहावरे के सही अर्थ को व्यक्त करने वाले विकल्प का चयन करें। नाक-भौं सिकोड़ना
(a) इज्जत बचाना (b) घमंड करना
(c) घृणा करना (d) इशारा करना
69. दिए गए वाक्य का वह भाग ज्ञात करें जिसमें कोई त्रुटि है। यदि कोई त्रुटि नहीं है, तो 'कोई त्रुटि नहीं है' विकल्प को चुनिए। (1) मेरे पिता ने (2) प्रधानाचार्य को (3) पत्र लिखें (4) कोई त्रुटि नहीं है।
(a) कोई त्रुटि नहीं है। (b) पत्र लिखें
(c) मेरे पिता ने (d) प्रधानाचार्य को
70. रिक्त स्थान की पूर्ति के लिए सबसे उपयुक्त शब्द का चयन करें। मैंने एक वर्ष तक उनकी प्रतीक्षा _____।
(a) की (b) करी
(c) निहारी (d) देखी
71. 'जिसकी उत्पत्ति स्वभावगत न हो' वाक्यांश के लिए उपयुक्त शब्द होगा-
(a) कृत्रिम (b) प्राकृतिक
(c) अंडज (d) आनुवांशिक
72. दिये गये वाक्यांश के लिए एक शब्द चुनिए। 'जो देखा न जा सके'
(a) अदम्य (b) अदृश्य

- (c) अनिमेष (d) अज्ञात
73. वह थोड़ा ही भोजन करता है। शब्द समूह के स्थान पर उचित शब्द लिखिए।
 (a) मांसाहारी (b) फलाहारी
 (c) अल्पाहारी (d) शाकाहारी
74. वह बेचारा जन्म से अंधा है। रेखांकित खंड के स्थान पर दूसरा शब्द प्रस्थापित कीजिए।
 (a) जन्मांध (b) बातूनी
 (c) बहरा (d) आलोचक
75. दिए गए वाक्य का वह भाग ज्ञात करें जिसमें कोई त्रुटि है। यदि कोई त्रुटि नहीं है, तो 'कोई त्रुटि नहीं है' विकल्प को चुनें। सोहन की बहन धीरे-धीरे पुस्तक पढ़ती है।
 (a) सोहन की बहन (b) कोई त्रुटि नहीं है
 (c) पुस्तक पढ़ती है (d) धीरे-धीरे
76. दिए गए शब्द के समानार्थी शब्द का चयन करें। बिजली
 (a) तरणी (b) सौदामिनी
 (c) गृहिणी (d) तरंगिणी
77. 'श्वेत' का विलोम शब्द होगा—
 (a) उग्र (b) श्याम
 (c) सफेद (d) नील
78. रिक्त स्थान को भरने के लिए सबसे उपयुक्त विकल्प का चयन करें। महेश को स्वयं पर भरोसा है, वह किसी की _____ नहीं करता।
 (a) तरफदारी (b) परवाह
 (c) इज्जत (d) इच्छा
79. निम्नलिखित प्रश्न में, दिए गए चार विकल्पों में से, उस विकल्प का चयन करें जो मुहावरे का अर्थ व्यक्त करता है। पानी का बताशा होना
 (a) मरणोन्मुख (b) अत्यंत शीघ्र
 (c) क्षण भंगुर (d) बड़ा अनुभवी
80. 'वह बात जो जनसाधारण में चलती आ रही है।' वाक्यांश के लिए उपयुक्त शब्द होगा—
 (a) रसवन्ती (b) प्रतीक बिम्ब
 (c) बिम्ब (d) किंवदंती

English

81. Comprehension: In the following passage, some words have been deleted. Read the passage carefully and select the most appropriate option to fill in each blank. Life is not about making lists and trying to be one step (1) _____ of others. Stop being a workaholic. Take a (2) _____. Do whatever makes you feel happy and (3) _____. Most of all, spend time in the (4) _____ of nature to pick up some (5) _____ lessons. Select the most appropriate option to fill in blank no. 1.
 (a) forward (b) away
 (c) ahead (d) front
82. Select the most appropriate option to fill in blank no. 2.
 (a) recess (b) blow

- (c) break (d) gap
83. The following sentence has been split into four segments. Identify the segment that contains a grammatical error. The cat / drank the milk / before we / return home.
 (a) drank the milk (b) return home
 (c) The cat (d) before we
84. Select the most appropriate meaning of the given idiom. Games is up
 (a) New scheme has been launched (b) Game is over and winner declared
 (c) Deception is at an end (d) Plan has been executed
85. Select the option that will improve the underlined part of the given sentence. In case no improvement is needed, select 'No improvement required'. Reading not only helps to pass the leisure hours as well as keeps you well informed.
 (a) No improvement required (b) along with
 (c) but also (d) and even
86. Select the most appropriate ANTONYM of the given word. Never
 (a) Always (b) Rarely
 (c) Sometimes (d) Seldom
87. Select the most appropriate option to fill in the blank. You should pay a little more attention to your _____.
 (a) apportion (b) apparition
 (c) appearance (d) apprehension
88. Select the INCORRECTLY spelt word.
 (a) Buying (b) Bouncing
 (c) Boxing (d) Begining
89. The following sentence has been divided into parts. One of them may contain an error. Select the part that contains the error from the given options. If you don't find any error, mark 'No error' as your answer. Do you mind / whether I use / your telephone?
 (a) Do you mind (b) your telephone
 (c) No error (d) whether I use
90. Select the most appropriate ANTONYM of the given word. Retreat
 (a) Advance (b) Push
 (c) Promote (d) Strengthen
91. Select the most appropriate option that can substitute the underlined segment in the given sentence. If there is on need to substitute it, select 'No substitution required'. The actor along with his new wife is expected shortly.
 (a) No substitution required (b) are being
 (c) are expected (d) has expected

SCHOLARS ACADEMY

92. Select the option that can be used as a one-word substitute for the given group of words. Life history of a person written by someone else
- (a) Autobiography (b) Biography
(c) Biodata (d) Resume
93. Select the most appropriate synonym of the given word. Retrieve
- (a) Remove (b) Retain
(c) Rescue (d) Recover
94. The following sentence has been split into four segments. Identify the segment that contains a grammatical error. Millions of people / have been protected / from polio by a fluid / called as a vaccine.
- (a) have been protected (b) called as a vaccine
(c) from polio by a fluid (d) millions of people
95. Select the most appropriate synonym of the given word. Achieve
- (a) Accuse (b) Adjoin
(c) Abduct (d) Accomplish
96. Select the option that can be used as a one-word substitute for the given group of words. A person who physically attacks another
- (a) Convict (b) Culprit
(c) Scoundrel (d) Assailant
97. Select the most appropriate option that can substitute the underlined word in the given sentence. 'Angulimala' lived by training travellers and feared no one.
- (a) disillusioning (b) distilling
(c) plundering (d) mischallenging
98. Select the option that can be used as a one-word substitute for the given group of words. One who has fixed opinions and beliefs
- (a) Broad-minded (b) Flexible
(c) Rigid (d) Amiable
99. Select the most appropriate option to fill in the blank. Candidates who successfully complete the entrance test will be ___ for an interview next week.
- (a) encouraged (b) asked
(c) invited (d) required
100. Select the most appropriate meaning of the given idiom. Drag one's feet
- (a) Do something deliberately at a slow pace (b) Have a disability in the feet
(c) Be hurt badly on the foot (d) Find it difficult to walk fast

Basic Familiarity

101. कुरूक्षेत्र के युद्ध का वर्णन धृतराष्ट्र को द्वारा सुनाया गया था।
The description of the battle of Kurukshetra was narrated to Dhritarashtra by
- (a) शंकराचार्य (b) माधवाचार्य Madhvacharya
Shankaracharya
(c) संजय Sanjay (d) वल्लभाचार्य Vallabhacharya
102. मुगल शासक बनने के बाद हुमायूँ ने कामरान को हिसार और सरहिन्द का अधिकार दे दिया तथा मेवात क्षेत्र का अधिकार किसे दिया?
After becoming the Mughal ruler, Humayun gave the rights of Hisar and Sirhind to Kamran and to whom did he give the right of Mewat region?
- (a) हिंदाल Hindal (b) अकबर Akbar
(c) बैरम खान Bairam Khan (d) ये सभी All of them
103. ब्रिटिश जनरल वैन कोर्टलैंड को किस स्थान पर क्रांति को दबाने के लिए नियुक्त किया गया था?
The British General Van Courtland was appointed to suppress the revolution at which place?
- (a) थानेसर Thanesar (b) हिसार Hisar
(c) सोहना Sohna (d) तोशाम Tosham
104. अरावली पहाड़ियाँ हरियाणा के भाग में पाई जाती हैं।
The Aravalli hills are found in the..... part of Haryana.
- (a) मध्य Central (b) दक्षिणी Southern
(c) उत्तर North (d) पूर्व East
105. खादर क्षेत्र के अंतर्गत किस क्षेत्र की मिट्टी आती है?
Which area's soil comes under Khadar region?
- (a) मैदानी क्षेत्र plain area (b) पहाड़ी क्षेत्र hilly area
(c) रेतीला क्षेत्र Sandy area (d) बांगर क्षेत्र Bangar area
106. किस भौगोलिक प्रकृति के कारण हरियाणा में झीलों की संख्या बहुतायत में है?
Due to which geographical nature, number of lakes is in abundance in Haryana?
- (a) उत्तर-पूर्व में शिवालिक पहाड़ियों की उपस्थिति the presence of Shivalik hills in the north-east
(b) दक्षिण में अरावली पहाड़ियों की उपस्थिति Aravalli hills in the south
(c) ए' और 'बी' दोनों 'a' and 'b' both
(d) एक विशाल मैदान है having a vast plain
107. हरियाणा वन विकास निगम' (HFDC) लिमिटेड की स्थापना कब की गई थी?
When was the 'Haryana Forest Development Corporation' (HFDC) Limited established?
- (a) जनवरी 1989 (b) मार्च 1989
January 1989 March 1989
(c) अप्रैल 1989 (d) दिसंबर 1989
April 1989 December 1989
108. हरियाणा का कौन सा भाग शिवालिक पहाड़ियों की तलहटी में आता है?
Which part of Haryana comes under the foothills of Shivalik hills?

SCHOLARS ACADEMY

- (a) उत्तर-पूर्वी भाग North-Eastern part (b) पूर्वी भाग Eastern part
- (c) उत्तर-पश्चिमी भाग North-Western part (d) मध्यवर्ती भाग Intermediate part
109. काकरोई सूक्ष्म जलविद्युत परियोजना की क्षमता कितनी है?
What is the capacity of Kakaroi Micro Hydroelectric Project?
- (a) 50 किलोवाट 50 Kw (b) 75 किलोवाट 75 kW
(c) 100 किलोवाट 100 kW (d) 150 किलोवाट 150 kW
110. वर्तमान में दिल्ली-रेवाड़ी रेलवे लाइन उत्तर रेलवे के किस मंडल के अंतर्गत काम करती है?
At present the Delhi-Rewari railway line works under which division of Northern Railway?
- (a) दिल्ली सर्कल Delhi Circle (b) रेवाड़ी सर्कल Rewari Circle
(c) हिसार सर्कल Hisar Circle (d) फरीदाबाद डिवीजन Faridabad Division
111. हरियाणा की किस विधानसभा के दौरान पानीपत का पुनर्गठन किया गया था?
During which assembly of Haryana Panipat was reconstituted?
- (a) तीसरा third (b) पांचवां fifth
(c) आठवां Eighth (d) नौवां Ninth
112. हरियाणा राज्य विधिक सेवा प्राधिकरण का मुख्यालय कहाँ है?
Where is the headquarters of Haryana State Legal Services Authority?
- (a) पंचकुला Panchkula (b) चंडीगढ़ Chandigarh
(c) रोहतक Rohtak (d) अंबाला Ambala
113. हरियाणा पंचायती राज अधिनियम, 1994 के अनुसार, जिला परिषद की एक विशेष बैठक में कामकाज निपटाने के लिए आवश्यक कोरम क्या है?
According to the Haryana Panchayati Raj Act, 1994, what is the quorum required for the business to be transacted in a special meeting of a Zilla Parishad?
- (a) कुल सदस्यों का एक तिहाई One-third of the total members
(b) वास्तव में उस समय के लिए सेवारत सदस्यों का आधा half of the members actually serving for that time
(c) वास्तव में उस समय के लिए सेवारत सदस्यों का एक तिहाई one-third of the members actually serving for that time
(d) कुल सदस्यों का आधा Half of the total members
114. होजरी उद्योग प्रमुख रूप से किस जिले में स्थित है?
In which district is the hosiery industry majorly located?
- (a) रोहतक Rohtak (b) भिवानी Bhiwani
(c) अंबाला Ambala (d) गुरुग्राम Gurugram
115. देवउठनी ग्यारस महोत्सव का आयोजन किया जाता है
Devothani Gyaras festival is organized
- (a) कार्तिक माह का शुक्ल पक्ष Shukla Paksha of Kartik month (b) पौष माह का शुक्ल पक्ष Shukla Paksha of Paush month
- (c) माघ माह का कृष्ण पक्ष Krishna Paksha of Magha month (d) फाल्गुन माह का कृष्ण पक्ष Krishna Paksha of Falgun month
116. कानोड़ का किला किस शहर में स्थित है?
In which city is Kanod fort located?
- (a) नारनौल Narnaul (b) महेंद्रगढ़ Mahendragarh
(c) थानेसर Thanesar (d) हांसी Hansi
117. हरियाणा की वह विशाल एवं पवित्र झील कौन सी है जो चारों ओर से पक्की है? Which is the huge and holy lake of Haryana which is paved all around?
- (a) कपाल मोचन Kapal Mochan (b) फल्गु सरोवर Falgu Sarovar
(c) सन्नित सरोवर Sannit Sarovar (d) ब्रह्म सरोवर Brahma Sarovar
118. राजा हर्षवर्द्धन ने एक प्रसिद्ध नाटक लिखा...
King Harshavardhana wrote a famous play
- (a) ब्रतंजलि Brtanjli (b) नारायणिम Narayniym
(c) नागानंद Nagananda (d) इनमें से कोई नहीं none of these
119. हरियाणा में संगठित शिक्षा पर जोर कब दिया गया?
When was the emphasis on organized education in Haryana?
- (a) 1830-40 के राजस्व बंदोबस्त के बाद After the revenue settlement of 1830-40
(b) 1820-30 के राजस्व बंदोबस्त के बाद After the revenue settlement of 1820-30
(c) 1840-50 के राजस्व बंदोबस्त के बाद After the revenue settlement of 1840-50
(d) उपरोक्त में से कोई नहीं none of the above
120. हरियाणा का लोकप्रिय खेल कौन सा है?
Which is the popular game of Haryana?
- (a) बॉक्सिंग Boxing (b) फुटबॉल Football
(c) क्रिकेट Cricket (d) बॉडी बिल्डिंग Body building
121. निम्नलिखित में से कौन सा अभिप्रेरक चक्र का दूसरा चरण है?
Which of the following is the Second stage of motivational cycle?
- (a) उत्तेजना में कमी Reduction of arousal
(b) उत्तेजना Arousal
(c) अंतर्नाद Drive (d) आवश्यकता Need
122. नीचे दिखाए गए प्रतिभाशाली बच्चों के 'I.Q.' की सही श्रेणी का पता लगाएँ -
With regard to the scientists and the animals they used in their experiments, one of the following is a wrong pair
- (a) 41-55 (b) 131-145
(c) 146 से अधिक 146 above (d) 116-130
123. अव्यक्त अधिगम के सम्प्रत्य का वर्णन अपने सिद्धान्त में किसने किया?
Who discussed the concept of Latent Learning in his theory?

SCHOLARS ACADEMY

- (a) हल Hull (b) बण्डुरा Bandura
(c) टॉलमेन Tolman (d) गथरी Guthrie
124. क्रेश्मर द्वारा व्यक्तित्व के वर्गीकरण का आधार क्या है?
What is the basis of the Classification of personality by Kretschmer?
(a) शारीरिक संरचना और क्रियाविधि Physical formation and built (b) मूल्य Values
(c) सामाजिक सम्पर्क social interaction (d) स्वभाव Nature
125. निम्नलिखित में से कौन से मनोवैज्ञानिक 'प्रकार्यवाद' से सम्बन्धित नहीं है?
Out of the following which Psychologist is not related with 'functionalism'?
(a) विलियम जैम्स William James (b) जॉन डिवी John Dewey
(c) जैम्स आर. एंजिल James R. Angell (d) ई.बी. टिचेनर E.B. Titchener
126. निम्नलिखित में से किस शरीर विज्ञानी ने शास्त्रीय अनुबंधन पर अग्रणी कार्य किया?
Which of the following physiologist did pioneering work on classical conditioning?
(a) अल्बर्ट बण्डुरा Albert Bandura (b) बी.एफ. स्किनर B.F. Skinner
(c) विल्हेम वुण्ट Wilhelm Wundt (d) इवान पावलोव Ivan Pavlov
127. व्यक्तित्व मापन की व्यक्तिनिष्ठ विधि है -
The subjective method of personality measurement is -
(a) व्यक्तिगत इतिहास Personal history (b) क्रम निर्धारण मापनी Sorting scale
(c) रोशा स्याही धब्बा परीक्षण Rorschach test (d) शब्द साहचर्य परीक्षण Word association test
128. वृद्धि और विकास के _____ सिद्धांत हैं। जिनमें से एक शीर्षगामी सिद्धांत है।
There are _____ principles of growth and development. One of which is the cephalocaudal principle.
(a) 3 (b) 5
(c) 2 (d) 6
129. कक्षा में विद्यार्थियों को त्यौहारों को मनाने के अपने अनुभवों को साझा करने के अवसर देना और उसके आधार पर सूचना निर्मित करने को बढ़ावा देना किसका उदहारण है?
Giving students the opportunity to discuss their experiences of celebration of festivals in the classroom and building upon that information is an example of using -
(a) व्यवहारवाद Behaviourism (b) प्रत्यक्ष निर्देशन Direct Instruction
(c) सामाजिक संरचनावाद Social constructivism (d) पाठ्य-पुस्तक आधारित अध्यापन Textbook centred teaching
130. संज्ञानात्मक मनोविज्ञान मनुष्य के _____ का अध्ययन करता है।
Cognitive psychology studies man's:
- (a) विचार Thinking (b) स्मृति भाषा Memory language
(c) धारणा कल्पना Perception imagery (d) उपरोक्त सभी All of these
131. निम्नलिखित में से कौन अधिगम का साहचर्य सिद्धांत नहीं है?
Which of the following is not a associative theory of learning?
(a) शास्त्रीय अनुबंध सिद्धांत Classical conditioning theory (b) गेस्टाल्ट सिद्धांत Gestalt theory
(c) उद्दीपक-अनुक्रिया सिद्धांत Stimulus-Response theory (d) क्रिया-प्रसूत अनुबंधन सिद्धांत Operant Conditioning theory
132. निम्नलिखित में से किन शारीरिक विशेषताओं में विकलांग बच्चों का सीखना सामान्य लोगों से अलग है?
In which of the following physical characteristics learning disabled children differ from the normal ones?
(a) वे हर समय बेढंग और अजीब हैं They are all the time clumsy and awkward (b) चालक क्षमताओं का खराब समन्वय Poor coordination of motor abilities
(c) ऊंचाई, वजन और स्वास्थ्य Height, weight and health (d) ये सभी All of these
133. "विशेष आवश्यकता वाले बच्चों के शिक्षण हेतु बहुसंवेदी दृष्टिकोण का प्रयोग किया जाना चाहिए।" बहुसंवेदी दृष्टिकोण से तात्पर्य है -
"In teaching children with special needs multisensory approach should be used." Multisensory approach means -
(a) दृश्य, श्रवण, गंध, स्पर्श Visual, auditory, smell, touch (b) दृश्य, श्रवण, वेस्टेबुलर, क्यूटेनियस Visual, auditory, vestibular, cutaneous
(c) क्यूटेनियस, दृश्य, स्पर्श, वेस्टेबुलर Cutaneous, visual, touch, vestibular (d) श्रवण, स्पर्श, क्यूटेनियस, वेस्टेबुलर Auditory, touch, cutaneous, vestibular
134. गोलमैन के अनुसार, 'दूसरों को समझने' का कौशल भावनात्मक बुद्धि के किस आयाम के अंतर्गत आता है?
According to Golman, the skill of 'understanding others' comes under this dimension of emotional intelligence
(a) सामाजिक अनुबंध Social contact (b) आत्म अनुबंध Self contact
(c) आत्म प्रबंधन Self management (d) संबंधों का संरक्षण Maintenance of relations
135. चिंतन के प्रमुख प्रकार में निम्नलिखित में से कौन-सा परिगणित है?
Which of the following is/are counted among the major types of thinking?
(a) अपसारी चिंतन Divergent thinking (b) निगमनात्मक एवं तार्किक चिंतन deductive and logical thinking
(c) सृजनात्मक चिंतन creative thinking (d) उपरोक्त सभी All of the above
136. "निर्देशात्मक पाठ" के बारे में चर्चा करने वाले मनोवैज्ञानिक कौन हैं?

- The Psychologist who discussed about "Instructional Scaffolding" is
- (a) पियाजे Piaget (b) वायगोत्स्की Vygotsky
(c) बंडुरा Bandura (d) ब्रूनर Bruner
137. बंडुरा के सामाजिक अधिगम के चरणों का सही क्रम है -
The correct sequence of phases of Bandura's social learning is -
- (a) अवलोकन, ध्यान, प्रतिधारणा और अभिप्रेरणा Observational, Attentional, Retentional and Motivational
(b) अवलोकन, ध्यान, अभिप्रेरणा और प्रतिधारणा Observational, Attentional, Motivational and Retentional
(c) अवलोकन, प्रतिधारणा, ध्यान और अभिप्रेरणा Observational, Retentional, Attentional and Motivational
(d) अवलोकन, प्रतिधारणा, अभिप्रेरणा और ध्यान Observational, Retentional, Motivational and Attentional
138. मानसिक विकास के औपचारिक संक्रियात्मक चरण की एक महत्वपूर्ण विशेषता है
An important characteristic of 'formal operational stage of mental development' is
- (a) अमूर्त चिंतन abstract thinking
(b) मूर्त चिंतन concrete thinking
(c) सामाजिक चिंतन social thinking
(d) आत्मकेंद्रित व्यवहार egocentric behaviour
139. मध्यम स्तर पर मानसिक रूप से मंद हैं:
Moderate mentally retarded are
- (a) प्रशिक्षित मानसिक रूप से मंद Trainable mentally retarded
(b) शिक्षित मानसिक रूप से मंद Educable mentally retarded
(c) अभिरक्षा मानसिक रूप से मंद Custodial mentally retarded
(d) पठनीय मानसिक रूप से मंद Readable mentally retarded
140. निम्नलिखित में से कौन सा स्टेर्नबर्ग द्वारा वर्णित एक प्रकार की बुद्धि नहीं है?
Which of the following is not a type of intelligence described by Sternberg?
- (a) तार्किक-गणितीय तत्व Logical-mathematical element
(b) अनुभवात्मक तत्व Experiential element
(c) घटकीय तत्व Componential element
(d) संदर्भात्मक तत्व Contextual element
141. एक विचार अथवा अवधारणा के निर्माण में उपयुक्त वैचारिक प्रक्रिया जो नई, मौलिक तथा उपयोगी है, क्या कहलाती है?
The Thinking Process involved in productivity of an idea or concept that is new, original and useful is termed as what?
- (a) सृजनात्मकता Creativity
(b) उपलब्धि Achievement
(c) बुद्धि Intelligence
(d) व्यक्तित्व Personality
142. चार्ल्स जुड द्वारा प्रस्तावित सीखने के हस्तांतरण का सिद्धांत है
The theory of transfer of learning proposed by Charles Judd is
- (a) समान तत्वों का सिद्धांत Theory of identical elements
(b) सामान्यीकरण का सिद्धांत Theory of generalization
(c) आदर्शों का सिद्धांत Theory of ideals
(d) स्थानान्तरण का सिद्धांत Theory of transposition
143. कौन सा अभिप्रेरणा का घटक नहीं है?
Which is not the component of motivation?
- (a) आवश्यकताएँ Needs
(b) रटन्तस्मृति Rote memory
(c) अन्तर्नोद Drives
(d) प्रोत्साहन Incentives
144. भूख, प्यास, सुरक्षा की आवश्यकता सभी _____ प्रेरक हैं।
Hunger, thirst, need for security all are _____ motives.
- (a) कृत्रिम Artificial
(b) अधिग्रहीत Acquired
(c) सामाजिक Social
(d) प्राकृतिक Natural
145. सिद्धांतवादी बैकन के अनुसार, किशोरावस्था पूरी तरह से एक _____ है।
According to the theorist Bakken, adolescence is a _____ as a whole.
- (a) राजनीतिक घटना political incident
(b) दार्शनिक घटना philosophical incident
(c) सामाजिक घटना social incident
(d) सांस्कृतिक घटना cultural incident
146. सुरेश नाम का एक लड़का राजेश की कक्षा में आता है, जिसकी आयु 15 वर्ष है। यदि उसकी मानसिक आयु 18 वर्ष है, तो आप उसकी बुद्धि-लब्धि कैसे ज्ञात करेंगे ?
A boy named Suresh falls in Rajesh's class, whose age is 15 years. If his mental age is 18 years, then you will gain his intelligent Quotient as?
- (a) 75
(b) 100
(c) 120
(d) 125
147. कोलबर्ग के नैतिक विकास सिद्धांत के किस चरण में दंड जैसे पुनर्बलन नैतिक संहिता को परिभाषित करते हैं?
Reinforcements like punishments define moral code in which level of Kohlberg's Moral Development Theory?
- (a) विषम नैतिकता Heteronomous Morality
(b) उत्तर-पारंपरिक Post-conventional
(c) पारंपरिक Conventional
(d) पूर्व पारंपरिक Pre-conventional
148. निम्नलिखित में से कौन सा कैटल द्वारा तैयार किया गया व्यक्तित्व परिक्षण है?
Which of the following is a personality test created by Cattell?
- (a) वाक्य पूर्णता परीक्षण Sentence Completion Test
(b) एनईओ-एफएफआई NEO-FFI
(c) सोलह व्यक्तित्व कारक प्रश्नावली (सिक्सटीन पर्सनालिटी फैक्टर्स क्वेश्चननॉयर) Sixteen Personality Factors Questionnaire
(d) बिन्दुपथ का नियंत्रण (लोकस ऑफ़ कंट्रोल) Locus of Control
149. किस समाजीकरण प्रक्रिया में बच्चे कम उम्र में ही उचित लैंगिक भूमिकाएँ सीखते हैं?

In which socialization process children learn appropriate gender roles at an early age?

- (a) लैंगिक विभेदीकरण Gender - Differences (b) लैंगिक रूढ़िबद्धता Gender - Stereotypes
(c) लैंगिक पहचान Gender - Identity (d) लैंगिक प्रकार Gender - Typing

150. बच्चे के भाषा विकास के लिए क्या उपाय करने चाहिए?
What measures should be taken for language development of a child?

- (a) स्कूल में कई भाषा प्रयोगशालाएं बनाना Making many language laboratories in school (b) राष्ट्रीय भाषा में प्राथमिक शिक्षा देना Giving primary education in national language
(c) अंग्रेजी भाषा में प्राथमिक शिक्षा देना Giving primary education in English language (d) मातृभाषा में प्राथमिक शिक्षा देना Giving primary education in mother language

151. एरिकसन के अनुसार 12 से 20 वर्ष के आयु वर्ग के व्यक्ति की मनोसामाजिक अवस्था होती है:
According to Erickson the psychosocial stage of a person in the age group of 12 to 20 is

- (a) नेतृत्व बनाम अपराधबोध Initiative Vs Guilt (b) पहचान बनाम पहचान भ्रम Identity Vs Identity confusion
(c) अंतरंगता बनाम अलगाव Intimacy Vs Isolation (d) विश्वास बनाम अविश्वास Trust Vs Mistrust

152. एक विचार अथवा अवधारणा के निर्माण में उपयुक्त वैचारिक प्रक्रिया जो नई, मौलिक तथा उपयोगी है, क्या कहलाती है?
The Thinking Process involved in productivity of an idea or concept that is new, original and useful is termed as what?

- (a) सृजनात्मकता Creativity (b) उपलब्धि Achievement
(c) बुद्धि Intelligence (d) व्यक्तित्व Personality

153. लड़कियों के पितृ प्रेमभाव को फ्रायड ने किससे सम्बोधित किया है ?
What did Freud consider the paternal love of girls?

- (a) ओडीपस भावना ग्रन्थि Oedipus complex (b) इलेक्ट्रा भावना ग्रन्थि Electra complex
(c) स्वप्रेम भावना Narcissism (d) निर्भरता की भावना Feeling of dependence

154. चार्ल्स जुड द्वारा प्रस्तावित सीखने के हस्तांतरण का सिद्धांत है
The theory of transfer of learning proposed by Charles Judd is

- (a) समान तत्वों का सिद्धांत Theory of identical elements (b) सामान्यीकरण का सिद्धांत Theory of generalization
(c) आदर्शों का सिद्धांत Theory of ideals (d) स्थानान्तरण का सिद्धांत Theory of transposition

155. सूझ/अंतर्दृष्टि द्वारा अधिगम' मनोविज्ञान के किस संप्रदाय की देन है?
which school of psychology introduced the concept of learning by insight?

- (a) संज्ञात्मक विचारधारा/संप्रदाय cognitive school (b) व्यवहारवाद संप्रदाय behaviourist school
(c) गेस्टाल्ट संप्रदाय gestalt (d) प्रकार्यवाद functionalism

school

156. कौन सा अभिप्रेरणा का घटक नहीं है?

Which is not the component of motivation?

- (a) आवश्यकताएँ Needs (b) रटन्तस्मृति Rote memory
(c) अन्तर्नाद Drives (d) प्रोत्साहन Incentives

157. किन परीक्षणों में ऐसे प्रश्न या कार्य शामिल होते हैं जो यह दिखाने वाले होते हैं कि किसी व्यक्ति के पास मापी गई कितनी क्षमताएँ हैं?
Which tests include questions or tasks that are supposed to show how many measured abilities a person has?

- (a) मंदता परीक्षण Retardation Test (b) सरलता परीक्षण Simplicity Test
(c) घनत्व परीक्षण Density Test (d) बुद्धि परीक्षण Intelligence Test

158. भूख, प्यास, सुरक्षा की आवश्यकता सभी _____ प्रेरक हैं।
Hunger, thirst, need for security all are _____ motives.

- (a) कृत्रिम Artificial (b) अधिग्रहीत Acquired
(c) सामाजिक Social (d) प्राकृतिक Natural

159. हममें होनेवाले अवांछनीय लक्षणों को दूसरों पर आरोपित करना इस प्रकार ररक्षात्मक प्रतिक्रिया है -

The defense mechanism in which we attribute our undesirable qualities to others is called

- (a) तादात्म्यकरण Identification (b) प्रक्षेपण Projection
(c) विस्थापन Displacement (d) प्रतीपगमन Regression

160. सिद्धांतवादी बैकन के अनुसार, किशोरावस्था पूरी तरह से एक _____ है।

According to the theorist Bakken, adolescence is a _____ as a whole.

- (a) राजनीतिक घटना political incident (b) दार्शनिक घटना philosophical incident
(c) सामाजिक घटना social incident (d) सांस्कृतिक घटना cultural incident

161. संगणक (computer) को स्वाभाविक कार्य करने में जो रुकावट उत्पन्न करता है यह है-

What hinders the computer in doing its natural work is -

- (a) असफलता (bug) failure (bug) (b) त्रुटि Error
(c) वायरस virus (d) इनमें से कोई नहीं none of these

162. श्यामपट्ट का प्रयोग किस शिक्षण सामग्री के समूह में आता है?
The use of blackboard comes under which group of teaching materials?

- (a) दृश्य सामग्री visual content (b) श्रव्य सामग्री audio material
(c) दृश्य-श्रव्य सामग्री audiovisual material (d) प्रक्षेपित सामग्री projected material

163. यह शिक्षक की अनुदेशी सामग्री है-

This is teacher's instructional material -

- (a) कार्यपुस्तक work book (b) पूरक सामग्री supplementary material
(c) एटलस (d) पाठ्यक्रम गाइड

Atlas course guide

164. संज्ञानात्मक डोमेन के किस चरण से नीचे दिया गया प्रश्न संबंधित है? "क्या निरंतर हाथ धोने से डायरिया रोगों की घटनाओं में कमी आती है?"

To which stage of cognitive domain does the question given below relate? "Does frequent hand washing reduce the incidence of diarrheal diseases?"

- | | |
|--|-----------------------------|
| (a) समावेशन/संश्लेषण
assimilation/synthesis | (b) लागू करना
To apply |
| (c) विश्लेषण
Analysis | (d) मूल्यांकन
Evaluation |

165. ब्लूम के अनुक्रम में, कौशल से जुड़ा है।

In Bloom's hierarchy, skills are associated with

- | | |
|--|---|
| (a) संज्ञानात्मक डोमेन
cognitive domain | (b) मनोप्रेरणा डोमेन
Psychomotivation domain |
| (c) प्रभावी डोमेन
effective domain | (d) उपर्युक्त सभी
all of the above |

166. निम्नलिखित में से किस विधि के माध्यम से एक शिक्षक बच्चों में सोच कौशल को बढ़ावा दे सकता है?

(I) छात्रों को इस बात पर चिंतन करने के लिए प्रोत्साहित करें कि वे क्या करते हैं जो प्रभावी है और इनको नाम देने का प्रयास करें।

(II) भावात्मक या व्यक्तित्व पहलुओं के साथ-साथ सोच के संज्ञानात्मक घटकों को ध्यान दें।

(III) ज्यादातर रणनीतियों के बारे में जोर दें।

(IV) शिक्षण रणनीतियों का उपयोग करें जो सोच, कौशल और विकास तीनों को बढ़ावा दें और विषय का ज्ञान बढ़ायें।

Through which of the following methods can a teacher stimulate thinking skills in children?

(I) Encourage students to reflect on what they do that is effective and they should suggest names to these process.

(II) Incline the focus on affective and personality aspects along with cognitive factors too.

(III) Emphasize mostly on knowledge about strategies and techniques.

(IV) Use teaching strategies that foster the development of thinking, skills and the mastery over the subject.

- | | |
|--|------------------------------------|
| (a) I, II, III तथा IV
I, II, III and IV | (b) I, III तथा IV
I, III and IV |
| (c) I, II तथा IV
I, II and IV | (d) I, II तथा III
I, II and III |

167. निम्नलिखित में से कौन जीवन कौशल विकसित करने के लिए पहचाने जाने वाले दस प्रमुख क्षेत्रों में से एक नहीं है?

Which of the following is NOT one of the ten core areas identified to develop life skills?

- | | |
|---|---|
| (a) तनाव और भावनाओं के साथ मुकाबला
Coping with stress and emotions | (b) चनात्मक सोच
Creative thinking |
| (c) शर्म
Shyness | (d) समस्या का समाधान
Problem Solving |

168. जीवन कौशल कितनी सामान्य श्रेणियों में विभाजित हैं?

Into how many general categories are life skills divided?

- | | |
|-------|-------|
| (a) 3 | (b) 2 |
|-------|-------|

(c) 4

(d) 5

169. 14 से 15 वर्ष की आयु में जन्म से संज्ञानात्मक विकास का एक व्यापक चित्र प्रदान करता है, जब संज्ञानात्मक विकास शिखर को प्राप्त करता है।

..... provides a comprehensive picture of cognitive development from birth to the age of 14 or 15 years when cognitive development attains the peak.

- | | |
|-------------------------------------|---|
| (a) पावलोव थ्योरी
Pavlov Theory | (b) पियाजे की थ्योरी
Piaget's Theory |
| (c) बंदुरा थ्योरी
Bandura Theory | (d) बी.एफ. स्किनर थ्योरी
B.F. Skinner Theory |

170. निम्नलिखित में से किसने प्रस्तावित किया है कि लोगों ने अपने व्यवहार में दक्षता हासिल करने के लिए 'मनोवैज्ञानिक उपकरण' भी बनाए हैं?

Who among the following proposed that the people have also created 'psychological tools' to master their own behavior ?

- | | |
|-------------------------------|--|
| (a) जिन पियाजे
Jean Piaget | (b) फ्रेडरिक एंगेल्स
Friedrich Engels |
| (c) वायगोत्स्की
Vygotsky | (d) अल्बर्ट बंदुरा
Albert Bandura |

171. बधिर बच्चे कक्षा में जो प्रमुख नैराश्य (Frustration) का सामना करते हैं, वह है-

The main frustrations that deaf children face in the classroom are -

- | | |
|--|--|
| (a) बाकी विद्यार्थियों के साथ परीक्षा में बैठने में असमर्थता
Inability to appear in the examination along with other students | (b) निर्धारित पाठ्यपुस्तक पढ़ने की असमर्थता
Inability to read prescribed textbook |
| (c) खेल कूद में शामिल होने की असमर्थता
inability to participate in sports | (d) दूसरों के साथ बातचीत करना और सूचना को आपस में बाँटने की असमर्थता
Inability to communicate with others and share information |

172. विद्यार्थियों की समूह सक्रियता से निपटने के क्रम में उनके बारे में निम्नलिखित में से कौन-सा कथन सही है- (a) विद्यार्थी परिपक्व होते हैं (b) विद्यार्थी अच्छे या बुरे में अंतर कर पाने में सक्षम होते हैं विद्यार्थी अधीर और संवेदनशील होते हैं (c) उपर्युक्त सभी PRT KVS 04-10-2015 A है : (d) समूह के सदस्य परस्पर एक-दूसरे से अन्तः क्रिया करते हैं जिसके कारण समूह के सदस्यों के व्यवहार में परिवर्तन होते रहते हैं। विद्यार्थियों की समूह सक्रियता से निपटने के लिए यह कहा जा सकता है कि वे परिपक्व, अधीर व संवेदनशील और अच्छे या बुरे में अंतर कर पाने में सक्षम होते हैं। इसलिए कक्षा में सामूहिकविद्यार्थियों की समूह सक्रियता से निपटने के क्रम में उनके बारे में निम्नलिखित में से कौन-सा कथन सही है-

Which of the following statements is correct about students in order to deal with their group activism? (a) Students mature (b) Students are able to differentiate between good and bad. Students are impatient and sensitive. (c) All of the above PRT KVS 04-10-2015 A है: (d) Group members interact with each other due to which there are changes in the behavior of the group members. To deal with group activism of students, it can be said that they are mature, impatient, sensitive and

able to differentiate between good and bad. Therefore, in order to deal with group activism of students in the class, which of the following statements is correct about them –

- (a) विद्यार्थी परिपक्व होते हैं
students mature
- (b) विद्यार्थी अच्छे या बुरे में अंतर कर पाने में सक्षम होते हैं
Students are able to differentiate between good and bad
- (c) विद्यार्थी अधीर और संवेदनशील होते हैं
students are impatient and sensitive
- (d) उपर्युक्त सभी
all of the above

173. वह कौन सा दृष्टिकोण है जो छात्रों की सांस्कृतिक रूप से भिन्न आबादी की आवश्यकताओं को पूरा करने के लिए आज की विविध, मानक-आधारित कक्षा में महत्वपूर्ण है?

What is an approach that is important in today's diverse, standards-based classroom to meet the needs of culturally diverse populations of students?

- (a) विविध निर्देश
miscellaneous instructions
- (b) बहुसांस्कृतिक निर्देश
multicultural instruction
- (c) व्यक्तिगत निर्देश
personal instruction
- (d) बहुभाषी निर्देश
multilingual instructions

174. सभी शिक्षार्थियों तक पहुंचने के लिए शिक्षा प्रणाली की क्षमता को मजबूत करने की प्रक्रिया को क्या कहा जाता है ?

What is the process of strengthening the capacity of the education system to reach all learners called?

- (a) समावेशी शिक्षा
inclusive education
- (b) एकीकृत शिक्षा
integrated education
- (c) आवश्यकता आधारित शिक्षा
need based education
- (d) कौशल आधारित शिक्षा
skill based education

175. जब बच्चा फेल होता है, तो इसका तात्पर्य है कि—

When a child fails, it means that –

- (a) बच्चे को प्राइवेट ट्यूशन लेनी चाहिए थी
The child should have taken private tuition
- (b) व्यवस्था फेल हुई है
the system has failed
- (c) बच्चा पढ़ाई के लिए योग्य नहीं है
The child is not eligible to study
- (d) बच्चे ने उत्तरों को सही तरीके से याद नहीं किया है
The child has not memorized the answers correctly

176. मिनाक्षी अपने वर्ग को मैदानी पर्यटन पर ले जाती है और वापस आने के बाद वह अपने शिक्षार्थियों से चर्चा करती है। इसका सूचितार्थ होता है—

Meenakshi takes her class on a field trip and after returning she discusses it with her learners. It means –

- (a) शिक्षण का मूल्यांकन
evaluation of teaching
- (b) शिक्षण के लिए मूल्यांकन
assessment for teaching
- (c) मूल्यांकन के लिए शिक्षण
teaching for assessment
- (d) मूल्यांकन का शिक्षण
teaching evaluation

177. पोर्टफोलियो मूल्यांकन के लिए निम्नलिखित में से छात्रों का/के कौन-सा/से कार्य/कार्यों को काम में लिया जा सकता है?

- I. बच्चे द्वारा पढ़ी गई कहानी की पुस्तकों की सूची
II. पत्तियों, वस्तुओं आदि का संग्रह

III. बच्चों की स्वतः मूल्यांकन शीट के नमूने

Which of the following students can be taken to work for portfolio evaluation?

- I. List of story books read by a child
II. Collection of leaves, objects etc.
III. Self-assessment seat samples of children.

- (a) केवल II
Only II
- (b) I तथा II दोनों
Both I and II
- (c) I, II तथा III
I, II and III
- (d) केवल I
Only I

178. निम्नलिखित प्रश्नों को पढ़िए- I. मैंने क्रियाकलाप की योजना कितनी अच्छी बनाई? II. मैंने योजना का अनुसरण कितना अच्छा किया। III. मेरी शक्तियाँ क्या थी? IV. मुझे सचमुच कठिन क्या लगा? ऊपर दिए गए चारों प्रकार के प्रश्नों के उत्तरों से होगा:

Read the following questions- I. How well did I plan the activity? II. How well I followed the plan. III. What were my powers? IV. What did I find really difficult? The answers to the four types of questions given above will:

- (a) शिक्षक द्वारा समग्र आकलन
overall assessment by teacher
- (b) बच्चों का स्व-आकलन
Children's Self-Assessment
- (c) शिक्षकों का स्व-आकलन
Self-Assessment of Teachers
- (d) बच्चों और शिक्षकों, दोनों का स्व-आकलन
Self-assessment of both children and teachers

179. निम्नलिखित में से कौन सा आम डर है जिसके कारण कि माता-पिता अपने बच्चों के यौन शिक्षा कार्यक्रमों में भाग लेने के बारे में सोचते हैं?

Which of the following is a common fear that parents have about having their children participate in sex education programs?

- (a) माता-पिता डरते हैं कि इस तरह के शैक्षणिक कार्यक्रम से बच्चों के साथ यौन संबंध पैदा होगा, और इसलिए वे इसका विरोध करते हैं।
Parents fear that such an educational program will lead to sexualization of children, and so they oppose it.
- (b) उन्हें डर रहता है कि उनके बच्चों को गलत जानकारी मिल जाएगी।
They fear that their children will get wrong information.

Parents fear that such an educational program will lead to sexualization of children, and so they oppose it.

- (c) वे सोचते हैं कि बच्चे कार्यक्रम में प्रयोगात्मक गतिविधि के रूप में सेक्स में भाग लेंगे।
They think that children will participate in sex as an experimental activity in the program.
- (d) माता-पिता महसूस करते हैं कि इस तरह के कार्यक्रम में भाग लेना आवश्यक नहीं है।
Parents feel that it is not necessary to participate in such a program.

180. निम्नलिखित में किसमें राष्ट्र सर्वोच्च है?

In which of the following is the nation supreme?

- (a) भारत में सामुदायिक विकास के लिए योजना ढांचे का पहला स्तर
The first level of planning framework for community development in India
- (b) भारत में सामुदायिक विकास के लिए ग्रास रूट-स्तरीय योजना ढांचा
Grass Root-Level Planning Framework for Community Development in India

The first level of planning framework for community development in India

- (c) भारत में सामुदायिक विकास के लिए बहु स्तरीय योजना ढांचा
The first level of planning framework for community development in India
- (d) भारत में सामुदायिक विकास के लिए ग्राम स्तरीय योजना ढांचा
Grass Root-Level Planning Framework for Community Development in India

SCHOLARS ACADEMY

Multi-level planning framework for community development in India

Village level planning framework for community development in India

181. दर्शन का एक सम्प्रदाय है जो समूह के प्रदर्शन की प्रशंसा करता है और पुरस्कार देता है।

..... is a school of philosophy that praises and rewards group performance.

- (a) विशिष्ट कारणवाद (Particularism)
 (b) साम्यवादवाद (Communitarianism)
 (c) सार्वभौमवाद (Universalism)
 (d) व्यक्तिवाद (Individualism)

182. बच्चों के साथ काम करने और प्रकृति के अनुकूल देखभाल और शिक्षा के लिए सेटिंग बनाने का एक तरीका है।
 a way of working with children and creating settings for nature-friendly care and education.

- (a) प्राकृतिक अध्यापन (natural pedagogy)
 (b) पर्यावरण अध्ययन (environmental Studies)
 (c) प्रकृति अध्यापन (nature teaching)
 (d) प्रकृति आधारित शिक्षण (nature based learning)

183. निश्चित समय में निर्दिष्ट किसी विषय की पाठवार विषय-वस्तु की रूपरेखा को कहते हैं—

The outline of the lesson-wise content of a subject specified in a specific time is called –

- (a) पाठ्यक्रम (Syllabus)
 (b) कोर्स (Course)
 (c) पाठ्यवस्तु (content)
 (d) कार्यक्रम (Program)

184. सीखने के वे अनुभव जो विद्यालय शिक्षण कार्यक्रम के दौरान अनियोजित ढंग से स्वतः आते हैं उन्हें कहते हैं—

Those learning experiences which come spontaneously in an unplanned manner during the school education program are called –

- (a) शैक्षिक पाठ्यक्रम (educational curriculum)
 (b) मानवीय पाठ्यक्रम (humanitarian curriculum)
 (c) अतिरिक्त पाठ्यक्रम (additional courses)
 (d) अदृश्य पाठ्यक्रम (invisible curriculum)

185. पूरे शिक्षण सत्र के दौरान सीखने वाले समूह की उपस्थिति बहुत कम होती है। इसमें व्यक्तिगत रूप से पढ़ाया जाता है न कि समूह में। इसमें सीखने वाले समूह कभी-कभार मिलते हैं, वह शिक्षा है—

There is very little attendance of the learning group during the entire teaching session. In this, teaching is done individually and not in groups. In this, groups of learners meet occasionally, that is education —

- (a) वेब आधारित अधिगम (web based learning)
 (b) आनलाइन शिक्षा (online education)
 (c) आभाषी अधिगम (virtual learning)
 (d) मुक्त एवं दूरस्थ शिक्षा (open and distance education)

186. शैक्षिक अवसरों की समानता, प्रतिभा की पहचान, कार्य अनुभव, राष्ट्रीय सेवा, विज्ञान शिक्षा और अनुसंधान दी गयी सिफरिशें है—
 Equality of educational opportunities, identification of talent, work experience, national service, science

education and research are the recommendations given -

- (a) एनपीई द्वारा (by NPE)
 (b) कोठारी समिति द्वारा (by Kothari Committee)
 (c) एनसीएफ द्वारा (by NCF)
 (d) शिक्षा समिति द्वारा (by education committee)

187. सामाजिक विज्ञान के शिक्षण में ऐतिहासिक फिल्में उपयोगी हैं?
 Are historical films useful in teaching social sciences?

- (a) व्यक्तिगत समस्या पर ध्यान केन्द्रित करने में (focusing on personal problems)
 (b) इतिहास को कल्पित कथा के रूप में चित्रित करने में (In portraying history as fiction)
 (c) एक विशेष सामाजिक संरचना के विभिन्न आयामों का सजीव चित्रण करने में (In giving a vivid depiction of various dimensions of a particular social structure)
 (d) एक अच्छा मनोरंजन प्रस्तुत करने में (in presenting a good entertainment)

188. S.st में सामाजिक अध्ययन मूल्यांकन का उद्देश्य क्या है?
 What is the purpose of social studies assessment in S.st?

- (a) समस्यात्मक विद्यार्थियों की पहचान करना (identifying problem students)
 (b) बच्चों को श्रेणियों में बाँटना (dividing children into categories)
 (c) प्रतियोगिता को प्रोत्साहित करना (encourage competition)
 (d) शिक्षण-अधिगम प्रक्रियाओं में सुधार लाना (Improving teaching-learning processes)

189. छात्रों को पढ़ाने पर वे अपने आस-पास के पर्यावरण को बेहतर तरीके से समझ पाते हैं।

By teaching students about, they are able to understand the environment around them in a better way.

- (a) कक्षा के बाहर (outside the classroom)
 (b) समुद्र किनारे (sea shore)
 (c) कक्षा में (in class)
 (d) प्रयोगशाला में (in the laboratory)

190. निःशुल्क और अनिवार्य शिक्षा अधिकार (RTE) अधिनियम, 2009 की आयु के बीच के बच्चों पर लागू होता है।
 The Right to Free and Compulsory Education (RTE) Act, 2009 applies to children between the age of

- (a) 0-6 साल (0-6 years)
 (b) 14-35 साल (14-35 years)
 (c) 6-18 साल (6-18 years)
 (d) 6-14 साल (6-14 years)

191. एक अच्छे पर्यवेक्षक के प्रभाव से किसमें वृद्धि होती है?

What is enhanced by the influence of a good supervisor?

- (a) शिक्षकों में समय की अनुपालना (Time compliance among teachers)
 (b) सामुदायिक संतोष (community satisfaction)

(c) शिक्षार्थियों की प्रगति (Learners' progress)

- (d) पाठ्य-सहगामी क्रियाओं में भागीदारी (Participation in co-curricular activities)

192. विद्यालयों को समाजीकरण के केन्द्र के रूप में मानते हैं क्योंकि ये बच्चों की सहायता करते हैं—
Schools are considered as centers of socialization because they help children in —
- (a) नागरिकों के रूप में विकसित होने में
develop as citizens
- (b) मूल्यों और परंपराओं को ग्रहण करने में
adopting values and traditions
- (c) समाज में अपनी भूमिका के प्रति सजग होने में
To be aware of one's role in society
- (d) ऐसा ज्ञान प्राप्त करने में जिससे वह समाज को समझ सकते हैं
To acquire knowledge through which they can understand the society

193. निम्न में कौन-सी जोड़ी सही नहीं है?
Which of the following pairs is not correct?
- (a) परीक्षण-पुनः परीक्षण: स्थिरता
Test-Retest: Stability
- (b) विभाजन-आधा: आन्तरिक संगति
Split-half: internal consistency
- (c) KR20 स्थिरता
KR20 stability
- (d) सामान्तर रचना समानता
parallel structure similarity

194. एक क्षेत्र के इतिहास के पाठ को शिक्षक 'ब' अभी पढ़ा रही है। आपके विचार में 'ब' को क्या करना चाहिए?
Teacher 'B' is currently teaching the lesson on the history of a region. What do you think 'B' should do?
- (a) विभिन्न काल अवधियों में समानताओं तथा परितर्वनों पर प्रकाश डालना
Highlighting similarities and changes across different time periods
- (b) विभिन्न शासकों के व्यक्तित्वों पर प्रकाश डालना
Throwing light on the personalities of various rulers
- (c) अवधि के मुख्य लक्षणों को विद्यार्थियों को याद करने के लिए प्रोत्साहित करना
Encouraging students to remember the main symptoms of periods
- (d) वर्तमान की भूतकाल से समानताओं पर प्रकाश डालना
Highlighting parallels between the present and the past

195. S.St कक्षा-कक्ष में पक्षपात, भेदभाव और पूर्वाग्रहों को किसके द्वारा दूर किया जा सकता है?
By what can bias, discrimination and prejudices be removed in the S.St class room?
- (a) मानवता पर एक व्याख्यान का आयोजन करके
By organizing a lecture on humanity
- (b) उनकी बातों पर ध्यान न देकर, क्योंकि बच्चे एक-न-एक दिन अपने आप इन्हें छोड़ देंगे
By not paying attention to their words, because one day the children will leave them on their own.
- (c) सामाजिक वास्तविकताओं के विभिन्न आयामों के बारे में परिचर्चा करके
By discussing various dimensions of social realities
- (d) संविधान के आमुख को प्रदान करके
by providing the preamble of the Constitution

196. S.st में रचनात्मक मूल्यांकन (Formative evaluation) कब किया जाता है?
When is formative evaluation done in S.st?
- (a) सत्र के अंत में
at the end of the session
- (b) नई-इकाई को पढ़ाने के पूर्व
Before teaching a new unit
- (c) शिक्षण-अधिगम प्रक्रिया के दौरान
at the end of the unit
- (d) इकाई के अंत में
at the end of the unit
- During the teaching-learning process

197. उस शब्द को चुने जो दिये गये वाक्य को प्रतिस्थापित कर सके—
One who drives a motor-car
Choose the word that can substitute the given sentence./
One who drives a motor-car
- (a) panacea
(b) besiege
- (c) chauffeur
(d) pedlar pads

198. निम्न में से कौन-सा अंतर्राष्ट्रीय घोषणा या समझौता नहीं है जो बच्चों और पर्यावरण को जोड़ता है।
Which of the following is NOT an International declaration or agreement that links children and environment?
- (a) जी-8 पर्यावरण मंत्रियों का संचार (2001)
G8 Environment Ministers Communique (2001)
- (b) आवास एजेंडा (1990)
The Habitat Agenda (1990)
- (c) बच्चे के अधिकारों का सम्मेलन (1989)
Convention on the rights of the child (1989)
- (d) जैविक विविधता सम्मेलन (1992)
Convention on Biological Diversity (1992)

199. शिक्षकों की क्षमताओं और ज्ञान को विकसित करने और उसमें सुधार लाने के लिए डिजाइन किये गए सेमिनार, कार्यशालाएँ, सम्मेलन, कक्षाएँ प्रदर्शनीयाँ इत्यादि किसमें शामिल हैं?
What includes seminars, workshops, conferences, classes, exhibitions etc. designed to develop and improve the capabilities and knowledge of teachers?
- (a) निरंतर शिक्षा कार्यक्रम
continuing education program
- (b) प्रौढ़ शिक्षा कार्यक्रम
adult education program
- (c) सेवाकालीन शिक्षक प्रशिक्षण
in-service teacher training
- (d) सेवा-पूर्व शिक्षक प्रशिक्षण
pre-service teacher training

200. कॉपीराइट का उपयोग क्या है?
What is the use of copyright?
- (a) ऑनलाइन काम साझा करना
sharing work online
- (b) गोपनीय रूप से किसी की जानकारी का उपयोग करना
using someone's information confidentially
- (c) बौद्धिक संपदा को दुरुपयोग से बचाना
Protecting intellectual property from misuse
- (d) किसी के काम को ऑनलाइन सहेजना
saving one's work online