

DO NOT OPEN THE SEAL OF THE BOOKLET UNTIL YOU ARE TOLD TO DO SO

EXAM ID. - 10259

# DSSSB

## TEST SERIES

DATE - \_\_/\_\_/\_\_

DAY -

INSTRUCTION FOR CANDIDATE

उम्मीदवारों के लिए अनुदेश

TEST SERIES NO.

**A – 109**

QUESTION – 200

MARKS – 200

NEGATIVE MARK – 0.25

DURATION – 120 MIN.

- केवल काले या नीले रंग की स्याही वाले बॉल पेन का ही उपयोग करें
- परीक्षा प्रारंभ होते ही आप इस प्रश्न पुस्तिका की जाँच अवश्य कर ले तथा यदि इसमें कोई बिना छपा कटा-फटा या आंशिक छपा हुआ पृष्ठ अथवा प्रश्न हो, तो इसे अभिजागर के माध्यम से सही प्रश्न पुस्तिका से बदल लीजिए।
- इस प्रश्न पुस्तिका में कुल 200 प्रश्न हैं।
- यह एक वस्तुनिष्ठ परीक्षा है, जिसमें प्रत्येक प्रश्न के उत्तर के लिए चार विकल्प दिए गए हैं, आपको इन चार विकल्पों में से सही उत्तर वाले एक ही विकल्प को चुनना है।
- सभी प्रश्नों के उत्तर अलग अलग से दिए गए उत्तर-पत्रक पर ही अंकित करने हैं।

- उत्तर-पत्रक को भरने हेतु निर्देश उत्तर-पत्रक के पृष्ठ भाग पर अंकित हैं, जिन्हें उत्तर-पत्रक को भरने से पूर्व ध्यान से पढ़ ले।
- इस प्रश्न पुस्तिका में रफ-कार्य के लिए खाली पृष्ठ उपलब्ध हैं।
- परीक्षा समाप्त होने से पूर्व परीक्षार्थी कक्ष से बाहर नहीं जा सकते हैं।
- परीक्षा समाप्त होने के पश्चात् आप उत्तर-पत्रक की ORIGINAL COPY को अभिजागर के पास जमा कराकर उनकी अनुमति से ही बाहर जा सकते हैं।
- परीक्षा समाप्त होने पर प्रश्न पुस्तिका एवं उत्तर-पत्रक की Candidate's Copy को अपने साथ ले जाने की अनुमति है।
- प्रत्येक सही उत्तर पर 1 अंक प्राप्त होगा तथा प्रत्येक गलत उत्तर पर 0.25 अंक काटा जाएगा।

# SCHOLARS ACADEMY

SSC | IBPS | NDA | RAILWAY | COMMERCE

Add : H-81, Ind floor, South Extension I, Block H, New Delhi, Delhi 110049

MOB:- 01141676717, 9312712114

## General Awareness

1. निम्नलिखित में से कौन सा एक केंद्रीय स्तर का कर है, जिसे वस्तु एवं सेवा कर (GST) में शामिल कर दिया गया?  
Which of the following is a central level tax, which was subsumed into the Goods and Services Tax (GST)?
- (a) उत्पाद शुल्क (b) मनोरंजन कर  
Excise duty do entertainment  
(c) चुंगी (d) क्रय कर  
octroi purchase tax
2. मूसा पाराडिसिअका (Musa paradisiaca) का सामान्य प्रचलित नाम क्या है?  
What is the common name of Musa paradisiaca?
- (a) तरबूज (b) सेव  
watermelon save  
(c) केला (d) अमरूद  
done Guava
3. निम्नलिखित में से कौन सा विटामिन मानव शरीर में कोशिकाओं को एक साथ रखने में मदद करता है?  
Which of the following vitamins helps keep cells together in the human body?
- (a) विटामिन C (b) विटामिन K  
Vitamin C Vitamin K  
(c) विटामिन A (d) विटामिन E  
Vitamin A Vitamin E
4. बारालाचा दर्रे के दोनों किनारों पर से निकलने वाली दो जल धाराएं, चंद्र और भागा निम्न में से कौन सी नदी बनाती हैं?  
Two water streams, Chandra and Bhaga, emerging from either side of the Baralacha Pass form which of the following rivers?
- (a) रावी (b) चेनाब  
Raavi Chenab  
(c) सिंधु (d) झेलम  
Indus Jhelum
5. भारतीय संविधान के किस संशोधन अधिनियम में, राज्य नीति निर्देशक तत्व के रूप में राज्य से आय, स्थिति, सुविधाओं और अवसरों में असमानता को कम करने की अपेक्षा की गई है?  
In which Amendment Act of the Indian Constitution, the State is required to reduce inequality in income, status, facilities and opportunities as a directive principle of state policy?
- (a) 44वें (b) 42वें  
44th 42nd  
(c) 47वें (d) 52वें  
47th 52nd
6. एशिया में सौर-ऊर्जा द्वारा संचालित पहला कपड़ा मिल जल्द ही कहाँ चालू होगा?  
Where will the first solar-powered textile mill in Asia be operational soon?
- (a) केरल (b) राजस्थान  
Kerala Rajasthan  
(c) महाराष्ट्र (d) गुजरात

Maharashtra

Gujarat

7. निम्नलिखित में से कौन सा संग्रहालय कटक में स्थित है?  
Which of the following museums is located in Cuttack?
- (a) भारतीय संग्रहालय (b) राष्ट्रीय संग्रहालय  
Indian Museum National Museum  
(c) नेताजी जन्म स्थान संग्रहालय (d) सालार जंग संग्रहालय  
Netaji Birthplace Museum Salar Jung Museum
8. राष्ट्रीय जूट नीति \_\_\_\_\_ में तैयार की गई थी, जिसका उद्देश्य उत्पादकता में वृद्धि, गुणवत्ता में सुधार, किसानों के लिए जूट की अच्छी कीमत सुनिश्चित करना और प्रति हेक्टेयर में वृद्धि करना था।  
The National Jute Policy was formulated in \_\_\_\_\_, with the objective of increasing productivity, improving quality, ensuring good prices for jute to farmers and increasing production per hectare.
- (a) 2005 (b) 2003  
(c) 2009 (d) 2007
9. शिरोमणि गुरुद्वारा प्रबंधक समिति (SGPC) को मुख्य निकाय के रूप में नियंत्रण करने के लिए \_\_\_\_\_ में सिख गुरुद्वारा अधिनियम पारित किया गया था।  
The Sikh Gurdwara Act was passed in \_\_\_\_\_ to take control of Shiromani Gurdwara Parbandhak Committee (SGPC) as the main body.
- (a) 1905 (b) 1919  
(c) 1941 (d) 1925
10. 1919 में जलियाँवाला बाग हत्याकांड कहाँ हुआ था?  
Where did the Jallianwala Bagh massacre take place in 1919?
- (a) लाहौर (b) पठानकोट  
Lahore Pathankot  
(c) अमृतसर (d) अंबाला  
Amritsar Ambala
11. मौर्य वंश ने निम्न में से किस राजवंश के बाद मगध पर शासन किया था?  
The Maurya dynasty ruled Magadha after which of the following dynasties?
- (a) नंद राजवंश (b) शुंग राजवंश  
Nanda Dynasty Shunga Dynasty  
(c) गुप्त राजवंश (d) कुषाण राजवंश  
Gupta Dynasty Kushan Dynasty
12. निम्न में से किसका संबंध तीसरे आंग्ल मैसूर युद्ध और भारत में लोक सेवाओं की शुरुआत से है?  
Which of the following is related to the Third Anglo-Mysore War and the introduction of civil services in India?
- (a) लॉर्ड विलियम बेन (b) लॉर्ड वेल्लेजली  
lord william ben lord welllesley  
(c) लॉर्ड कार्नवालिस (d) लॉर्ड हेस्टिंग्स  
lord cornwallis lord hastings
13. हृदय के एक चक्र (एक कार्डियक सायकल) में मछली के हृदय से रक्त कितनी बार गुजरता है?  
How many times does blood pass through the fish's heart in one cardiac cycle?

# SCHOLARS ACADEMY

- (a) एक बार  
Once  
(c) तीन बार  
three times
- (b) चार बार  
four times  
(d) दो बार  
twice

14. निम्नलिखित में से किस शासक ने 'दीन-ए-इलाही' नाम से एक नई जीवन शैली/धर्म की शुरुआत की?

Which of the following rulers started a new lifestyle/religion named 'Din-e-Ilahi'?

- (a) बहादुर शाह द्वितीय  
Bahadur Shah II  
(c) अकबर  
Akbar
- (b) जहांगीर  
Jahangir  
(d) शाहजहाँ  
Shahjahan

15. गुजरात के अलावा, विवाहित महिलाओं द्वारा की जाने वाली जिविती (जिव्ती/जीवति) पूजा, मुख्य रूप से \_\_\_\_\_ राज्य/केन्द्र शासित प्रदेश में की जाती है।

Apart from Gujarat, Jivti (जीवती/जीवती) puja, performed by married women, is mainly performed in \_\_\_\_\_ states/UTs.

- (a) जम्मू और कश्मीर  
Jammu and Kashmir  
(c) महाराष्ट्र  
Maharashtra
- (b) नागालैंड  
Nagaland  
(d) बिहार  
Bihar

16. भारतीय संविधान का चौहत्तरवां संशोधन अधिनियम, 1992 निम्न में से किससे संबंधित है?

The Seventy-fourth Amendment Act of the Indian Constitution, 1992 is related to which of the following?

- (a) नगर पालिकाओं  
Municipalities  
(c) नागरिकता  
Citizenship
- (b) आपातकालीन प्रावधान  
Emergency Provisions  
(d) मौलिक कर्तव्य  
fundamental duty

17. निम्नलिखित में से कौन सी धातु खुले में रखे जाने पर आग लगने की संभावना है?

Which of the following metals is likely to catch fire if kept in the open?

- (a) पोटैशियम  
potassium  
(c) पारा  
Mercury
- (b) लीथियम  
Lithium  
(d) लैड  
lead

18. किस राज्य में पहली बार, दैनिक अनुष्ठान करने के लिए राज्य के एक मंदिर में एक जीवित हाथी जैसा एक यांत्रिक हाथी देवता को समर्पित किया गया ?

In which state, for the first time, a mechanical elephant resembling a live elephant was dedicated to the deity in a temple of the state to perform daily rituals?

- (a) म्यांमार  
Myanmar  
(c) मिज़ोरम,  
Mizoram,
- (b) असम  
Assam  
(d) केरल  
Kerala

19. कौन सा राज्य हाल ही में 100% रेलवे नेटवर्क विद्युतीकरण प्राप्त करने वाला पहला भारतीय राज्य बन गया है ?

Which state has recently become the first Indian state to achieve 100% railway network electrification?

- (a) हरियाणा  
(b) झारखण्ड

- Haryana  
(c) मध्य प्रदेश  
Madhya Pradesh
- Jharkhand  
(d) उत्तर प्रदेश  
Uttar Pradesh

20. हाल ही में बने 'बान्द्रा वर्सोवा समुद्री पुल' का नाम किसके नाम पर रखा जाएगा?

After whom will the recently constructed 'Bandra Versova Sea Bridge' be named?

- (a) बी आर अंबेडकर  
B R Ambedkar  
(c) वी.डी सावरकर  
VD Savarkar
- (b) जवाहर लाल नेहरू  
Jawaharlal Nehru  
(d) शहीद भगत सिंह  
Shaheed Bhagat Singh

## Reasoning

21. किसी निश्चित कूट भाषा में, MIND को NJOE के रूप में लिखा जाता है। उसी कूट भाषा में NEFT को किस रूप में लिखा जाएगा?

In a certain code language, MIND is written as NJOE.

How will NEFT be written in that code language?

- (a) OFGU  
(c) GUFO
- (b) GUOF  
(d) OFUG

22. उस विकल्प का चयन कीजिए, जिसका चौथी संख्या से वही संबंध है, जो पहली संख्या का दूसरी संख्या से है और पाँचवीं संख्या का छठी संख्या से है।

17 : 119 :: ? : 182 :: 23 : 161

Select the option which has the same relationship with the fourth number as the first number has with the second number and the fifth number has with the sixth number.

17 : 119 :: ? : 182 :: 23 : 161

- (a) 22  
(c) 26
- (b) 20  
(d) 24

23. दिए गये विकल्पों में से उस अक्षर-समूह का चयन करें, जो निम्नलिखित श्रृंखला में प्रश्नवाचक चिन्ह (?) के स्थान पर आ सकता है।

RAS, UFR, XKQ, APP, DUO, GZN, ?

Select the letter-cluster from the given options which can come in place of the question mark (?) in the following series.

RAS, UFR, XKQ, APP, DUO, GZN, ?

- (a) OPS  
(c) KYM
- (b) JEM  
(d) KFN

24. अक्षरों के उस संयोजन का चयन कीजिए, जिसे निम्न श्रृंखला के रिक्त स्थानों में क्रमिक रूप से रखने पर यह श्रृंखला पूर्ण हो जाएगी।

C \_ P \_ \_ M \_ K C M P \_ C M \_ K

Select the combination of letters which when sequentially placed in the blank spaces of the following series will complete the series.

C \_ P \_ \_ M \_ K C M P \_ C M \_ K

- (a) MKCMKC  
(c) MKMPKP
- (b) PKCPKP  
(d) MKCPKP

25. एक लड़के की तस्वीर की ओर इशारा करते हुए, माधवी ने कहा, "उसके पिता मेरी बहन के पति की बेटी के नाना के बेटे हैं"। उस लड़के का माधवी के पिता से क्या संबंध है?  
Pointing to a picture of a boy, Madhavi said, "His father is my sister's husband's daughter's maternal grandfather's son." How is that boy related to Madhavi's father?
- (a) भाई (b) बेटा  
Brother Son  
(c) पोता (d) नाती  
Grandson relationship

26. दिए गए पैटर्न का ध्यानपूर्वक अध्ययन करें और उस संख्या का चयन करें जो इसमें प्रश्न चिह्न (?) के स्थान पर आ सकती है।  
10 5 20 20 10 40 40 20 ?  
Study the given pattern carefully and select the number which can come in place of the question mark (?) in it.  
10 5 20 20 10 40 40 20 ?
- (a) 60 (b) 80  
(c) 70 (d) 90

27. दिए गए कथनों और निष्कर्षों को ध्यानपूर्वक पढ़ें। यह मानते हुए कि कथनों में दी गई सूचना सही है, भले ही वह सामान्य रूप से ज्ञात तथ्यों से भिन्न प्रतीत होती हो, यह निर्धारित करें कि दिए गए निष्कर्षों में से कौन-से निष्कर्ष कथनों का तार्किक रूप से अनुसरण करते हैं।

कथन:

सभी नर्तक खिलाड़ी हैं।

सभी खिलाड़ी पुरुष हैं।

निष्कर्ष:

I. सभी नर्तक पुरुष हैं।

II. कुछ खिलाड़ी नर्तक हैं।

Read the given statements and conclusions carefully.

Assuming that the information given in the statements is correct even if it seems to be at variance from commonly known facts, decide which of the given conclusions logically follow from the statements.

Statements:

All dancers are players.

All players are men.

Conclusions:

I. All dancers are men.

II. Some players are dancers.

- (a) केवल निष्कर्ष I अनुसरण करता है। (b) दोनों निष्कर्ष अनुसरण करते हैं।

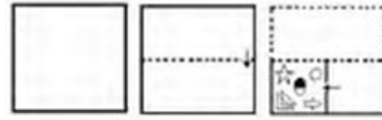
Only conclusion I follows. Both conclusions follow.

- (c) केवल निष्कर्ष II अनुसरण करता है। (d) या तो निष्कर्ष I या निष्कर्ष II अनुसरण करता है।

Only conclusion II follows. From this conclusion I follows from conclusion II.

28. निम्नलिखित चित्रों में एक कागज को मोड़ने का क्रम और मुड़े हुए कागज को काटने का तरीका दर्शाया गया है। मुड़े हुए कागज को खोलने पर यह कैसा दिखाई देगा?

The following pictures show the sequence of folding a paper and the method of cutting the folded paper. What will a folded paper look like when it is opened?



- (a) (b)   
(c) (d)

29. उस विकल्प का चयन कीजिए, जिसमें निम्नलिखित शब्दों का वह क्रम दिया गया है जिस क्रम में वे अंग्रेजी शब्दकोश में आते हैं।  
Select the option which gives the order in which the following words appear in the English dictionary.

1- Real

2- Rim

3- Rise

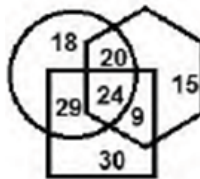
4- Rare

5- Rose

- (a) 4,1,2,5,3 (b) 1,4,2,3,5  
(c) 4,1,3,2,5 (d) 4,1,2,3,5

30. दिए गए आरेख में, षट्भुज 'पुस्तकालय कर्मियों' को निरूपित करता है, वर्ग 'कर-दाताओं' को निरूपित करता है और वृत्त 'चित्रकारों' को निरूपित करता है। भिन्न-भिन्न खंडों में दी गई संख्याएँ, उस संवर्ग के व्यक्तियों की संख्या को दर्शाती हैं। कितने पुस्तकालय कर्मी न तो करदाता हैं, और न ही चित्रकार हैं?

In the given diagram, hexagon represents 'library workers', square represents 'tax-payers' and circle represents 'painters'. The numbers given in different sections indicate the number of persons in that cadre. How many library workers are neither taxpayers, nor painters?



- (a) 15 (b) 20  
(c) 18 (d) 9

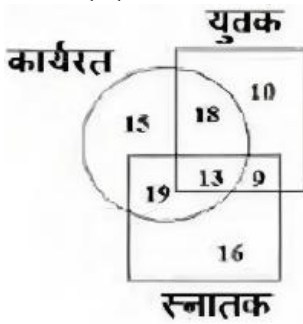
31. निम्नांकित आकृतियों में एक कागज के टुकड़े को मोड़ने का क्रम और मुड़े हुए कागज को काटने की विधि दर्शाई गई है। यह कागज खोलने पर कैसा दिखेगा?

The following figures show the sequence of folding a piece of paper and the method of cutting the folded paper. How will this paper look when opened?

- (a) (b)   
(c) (d)

32. उस विकल्प का चयन करें जो तीसरी संख्या से उसी प्रकार संबंधित है, जिस प्रकार दूसरी संख्या पहली संख्या से संबंधित है।  
 $85 : 6 :: 97 : ?$   
 Select the option which is related to the third number in the same way as the second number is related to the first number.  
 $85 : 6 :: 97 : ?$
- (a) 7 (b) 4  
 (c) 12 (d) 10

33. दिए गए आरेख का ध्यानपूर्वक अध्ययन करें और नीचे दिए गए प्रश्न का उत्तर दें। उन नियोजित (कार्यरत) युवकों की संख्या कितनी है जो स्नातक नहीं हैं?



- (a) 15 (b) 19  
 (c) 18 (d) 10
34. F, G, H, I और J एक पंक्ति में दक्षिण की ओर मुँह करके बैठे हैं, तथा R, S, T, U और V एक दूसरी पंक्ति में उत्तर की ओर मुँह करके बैठे हैं, जो पहली पंक्ति के समानांतर है। I, F के दाएँ दूसरा है, F, S के सामने है। H और S विकर्णतः एक-दूसरे के सामने हैं और अंतिम छोरों पर हैं। G, V के सामने है जो S के ठीक बाएँ है। T, जो V के बाएँ दूसरा है, J के सामने है। R पंक्ति के एक छोर पर है। निम्नलिखित में से कौन से युग्म एक-दूसरे के सामने हैं?  
 F, G, H, I and J are sitting in a row facing south', and R, S, T, U and V are sitting in another row facing north', which is parallel to the first row. I is second to the right of F, F is in front of S. H and S are diagonally opposite each other and at the extreme ends. G is in front of V' who is immediate left of S. T, who is second to the left of V, faces J. R is at one end of the line. Which of the following pairs are facing each other?

- (a) HU, IV (b) GS, FR  
 (c) JR, IT (d) HR, IU

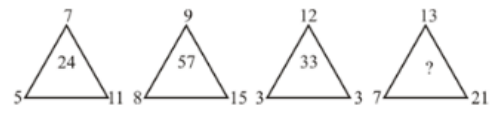
35. यदि '+' का अर्थ 'x', '-' का अर्थ '+', 'x' का अर्थ '÷' और '÷' का अर्थ '-' है, तो निम्नलिखित व्यंजक का मान क्या होगा?  
 $47 + 12 \div 288 \times 18$   
 If '+' means 'x', '-' means '+', 'x' means '÷' and '÷' means '-', then what will be the value of the following expression?  
 $47 + 12 \div 288 \times 18$
- (a) 470 (b) 454  
 (c) 548 (d) 47.75

36. दिए गए पैटर्न का ध्यानपूर्वक अध्ययन करें और उस संख्या का चयन करें जो इसमें प्रश्न चिह्न (?) के स्थान पर आ सकती है।  
 $125\ 5\ 3\ 128\ ?\ 7\ 121\ 11\ 2$   
 Study the given pattern carefully and select the number that can come in place of the question mark (?) in it.

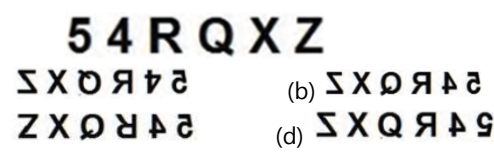
- $125\ 5\ 3\ 128\ ?\ 7\ 121\ 11\ 2$
- (a) 8 (b) 2  
 (c) 4 (d) 6
37. एक निश्चित कूट भाषा में, KINGDOM को LKPHFQN के रूप में लिखा जाता है। उसी भाषा में TRIVIAL को किस रूप में लिखा जाएगा?  
 In a certain code language, KINGDOM is written as LKPHFQN. How will TRIVIAL be written in the same language?
- (a) UTLWKCM (b) UTKWKCM  
 (c) UTLWKBM (d) UTLWLBM

38. दिए गए विकल्पों में से उस विकल्प का चयन कीजिए जो निम्न शब्दों के सही क्रम को अंग्रेजी शब्दकोश के अनुसार व्यक्त करता है।  
 From the given options, select the option that expresses the correct order of the following words according to the English dictionary.
- 1- Target  
 2- Tarnish  
 3-Tarot  
 4- Tamarind  
 5- Tenacity
- (a) 4, 1, 2, 3, 5 (b) 4, 1, 2, 5, 3  
 (c) 2, 1, 4, 3, 5 (d) 1, 4, 2, 3, 5

39. दिए गए पैटर्न का ध्यानपूर्वक अध्ययन करें और उस संख्या का चयन करें जो इसमें प्रश्न चिह्न (?) के स्थान पर आ सकती है।  
 Study the given pattern carefully and select the number which can come in place of the question mark (?) in it.



- (a) 58 (b) 70  
 (c) 62 (d) 68
40. यदि दर्पण को संयोजन के दाईं ओर रखा गया हो, तो दिए गए संयोजन के सही दर्पण प्रतिबिंब का चयन करें।  
 If the mirror is placed on the right side of the combination, select the correct mirror image of the given combination.



## Arithmetical & Numerical Ability

41. एक गांव में 200 व्यक्तियों में से 111 साक्षर है। गांव के अशिक्षित लोगों का प्रतिशत क्या है?  
 In a village, 111 out of 200 persons is literate. What is the percentage of illiterate people in the village?
- (a) 45% (b) 44.5%  
 (c) 55.5% (d) 54%

# SCHOLARS ACADEMY

42. एक आदमी 1 रुपये में 5 पेन खरीदता है और 1 रुपये के 4 बेचता है। उसका लाभ प्रतिशत ज्ञात कीजिए।  
A man buys 5 pens for Re 1 and sells 4 for Re 1. Find his profit percentage.
- (a) 25% (b) 40%  
(c) 50% (d) 20%
43. दिए गए विवरणों का उपयोग करके वास्तविक लाभ प्रतिशत ज्ञात कीजिए। 1. बिना किसी छूट के, 20% लाभ होता। 2. हालाँकि 5% छूट की पेशकश की गई है।  
Find the actual profit percentage using the given details.  
1. Without any discount, the profit would have been 20%. 2. However 5% discount is offered.
- (a) 15% (b) 12%  
(c) 14% (d) 20%
44. एक मिश्रण में मिट्टी और बजरी का अनुपात 11:8 है, जबकि बजरी और सीमेंट का अनुपात 6:7 है। मिश्रण में मिट्टी और सीमेंट का अनुपात कितना है?  
In a mixture the ratio of soil and gravel is 11:8, while the ratio of gravel and cement is 6:7. What is the ratio of soil and cement in the mixture?
- (a) 77 : 48 (b) 33 : 28  
(c) 8 : 6 (d) 11 : 7
45. P और Q क्रमशः 1400 और 1800 के निवेश के साथ एक साझेदारी में प्रवेश करते हैं। वे लाभ के आधे हिस्से को व्यवसाय के संचालन के लिए रखते हैं और शेष हिस्से को अपने निवेश के अनुपात में बाँट लेते हैं। यदि लाभ में उनके हिस्सों का अंतर 47 है, तो कुल लाभ ज्ञात कीजिए।  
P and Q enter into a partnership with investments of Rs 1400 and Rs 1800 respectively. They keep half of the profit for running the business and distribute the remaining portion in proportion to their investment. If the difference of their shares in profit is 47, find the total profit.
- (a) 752 (b) 804  
(c) 954 (d) 504
46. A एक कार्य को 5 दिनों में समाप्त कर सकता है, जबकि B को यही कार्य करने में 10 दिन लग जाते हैं। वे मिलकर कार्य करना प्रारंभ करते हैं लेकिन कार्य समाप्त होने से 4 दिन पहले A को कार्य छोड़ना पड़ता है। A ने कितने दिन कार्य किया था?  
A can complete a work in 5 days, while B takes 10 days to do the same work. They start working together but A has to leave the work 4 days before its completion. For how many days did A work?
- (a) 1 (b) 1.5  
(c) 2 (d) 2.5
47. किस अनुपात में 30% पोटेशियम नाइट्रेट घोल को 60% पोटेशियम नाइट्रेट घोल के साथ मिश्रित किया जाना चाहिए ताकि परिणामी घोल में 40% पोटेशियम नाइट्रेट हो जाए?  
In what ratio should 30% potassium nitrate solution be mixed with 60% potassium nitrate solution so that the resulting solution contains 40% potassium nitrate?
- (a) 2:1 (b) 3:1  
(c) 1:3 (d) 4:5
48. पाइप A और B क्रमशः 10 घंटे और 15 घंटे में एक खाली टैंक भर सकते हैं। दोनों टैंक को ..... घंटे में एक साथ भर सकते हैं—  
Pipes A and B can fill an empty tank in 10 hours and 15 hours respectively. Both the tanks can be filled together in.....hours –
- (a) 6:10 (b) 6  
(c) 4 (d) 6:15
49. 1600 की राशि पर 10 वर्षों में कितना ब्याज प्राप्त होगा? यदि ब्याज की दर 7.25% वार्षिक हो।  
How much interest will be received on an amount of Rs 1600 in 10 years? If the rate of interest is 7.25% per annum.
- (a) 1240 (b) 1160  
(c) 1220 (d) 1180
50. दो साल के लिए निवेश की गई धनराशि, जिसे 20% वार्षिक दर से, वार्षिक आधार पर चक्रवृद्धि किया जाना है। परिपक्वता पर 324 बन जाती है। निवेश की गई प्रारंभिक राशि कितनी थी :  
A sum of money invested for two years, to be compounded annually, at a rate of 20% per annum. At maturity it becomes 324. What was the initial amount invested:
- (a) 240 (b) 200  
(c) 250 (d) 225
51. दीपिका और उसकी माँ की आयु का अनुपात 3:11 है। 3 साल बाद उनकी आयु का अनुपात 1 : 3 हो जाता है। दीपिका की आयु कितनी है?  
The ratio of the ages of Deepika and her mother is 3:11. After 3 years the ratio of their ages becomes 1 : 3. How old is Deepika?
- (a) 15 वर्ष (b) 9 वर्ष  
15 years 9 years  
(c) 13 वर्ष (d) 11 वर्ष  
13 years 11 years
52. चार संख्याएँ a, b, c और d इस प्रकार हैं कि उनका कुल औसत 39 है। a और b का औसत 19.5 है। c और d का औसत ..... होगा।  
Four numbers a, b, c and d are such that their overall average is 39. The average of a and b is 19.5. The average of c and d will be.....
- (a) 48.5 (b) 48  
(c) 49.5 (d) 47.5
53. परवेज टाउन A से संबंधित है और गौतम टाउन B से संबंधित हैं। वे एक ही समय में एक ही मार्ग से एक दूसरे के शहरों की ओर अपनी यात्रा शुरू करते हैं। वे रास्ते में कहीं मिलते हैं और अपनी यात्रा को जारी रखते हैं। गौतम से मिलने के बाद, परवेज को गंतव्य तक पहुँचने में 12 घंटे लगते हैं जबकि गौतम को परवेज के शहर तक पहुँचने में और 3 घंटे लगते हैं। यदि परवेज 60 किमी/घंटा की रफ्तार से यात्रा करता है, तो गौतम की गति किमी/घंटा में बताएँ।  
Parvez belongs to Town A and Gautam belongs to Town B. They start their journey towards each other's cities at the same time via the same route. They meet somewhere on the way and continue their journey. After meeting Gautam, Parvez takes 12 hours to reach the destination while Gautam takes another 3 hours to reach Parvez's

city. If Parvez travels at a speed of 60 km/hr, then find the speed of Gautam in km/hr.

- (a) 120 (b) 105  
(c) 90 (d) 125

54. एक बुलेट ट्रेन 240 किमी प्रति घंटा की गति से 5 घंटे में एक निश्चित दूरी तय करती है समान दूरी 2 घंटे में तय करने के लिए इसकी गति (किमी./घंटा) क्या होनी चाहिए?

A bullet train covers a certain distance in 5 hours at a speed of 240 km per hour. What should be its speed (km/hr) to cover the same distance in 2 hours?

- (a) 420 (b) 540  
(c) 480 (d) 600

55. अर्जुन को धारा की दिशा में 40 km तैरने के लिए 5 घंटे लगते हैं, जबकि उसे धारा की विरुद्ध दिशा में 24 KM तैरने के लिए केवल 2 घंटे लगते हैं। उसकी स्थिर जल में तैरने की गति बताएं।

Arjun takes 5 hours to swim 40 km downstream, while he takes only 2 hours to swim 24 KM upstream. Explain its swimming speed in still water.

- (a) 12 km/hr (b) 10 km/hr  
(c) 9 km/hr (d) 15 km/hr

56. एक त्रिभुज की तीन भुजाएं 5 cm, 12 cm और 13 cm हैं। इस त्रिभुज की तीनों भुजाओं के मध्य बिंदु को जोड़कर एक छोटा त्रिभुज बनाया जाता है। छोटे त्रिभुज का क्षेत्रफल \_\_\_\_\_cm<sup>2</sup> है।

The three sides of a triangle are 5 cm, 12 cm and 13 cm. A smaller triangle is formed by connecting the midpoints of the three sides of this triangle. The area of the smaller triangle is \_\_\_\_\_cm<sup>2</sup>.

- (a) 15 (b) 30  
(c) 7.5 (d) 32.5

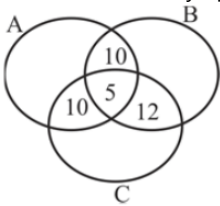
57. दी गयी गुणोत्तर श्रेणी में 5वां पद ज्ञात कीजिए? 3, 6, 12, .....

Find the 5th term in the given geometric progression? 3, 6, 12, .....

- (a) 48 (b) 62  
(c) 57 (d) 50

58. दिया गया वेन आरेख कुल 50 छात्रों को दिखाता है, जो तीन विभिन्न परीक्षाओं A, B और C में बैठे। सभी कम से कम एक परीक्षा में उपस्थित हुए। इनमें से कितने वास्तव में किसी एक परीक्षा में बैठे हैं?

The given Venn diagram shows a total of 50 students who appeared for three different examinations A, B and C. All appeared in at least one examination. How many of these have actually appeared for any one exam?



- (a) 32 (b) 13  
(c) 20 (d) 18

59. यदि  $\cot^4\theta + \cot^2\theta = 3.6$  तो  $\operatorname{cosec}^4\theta - \operatorname{cosec}^2\theta = ?$

If  $\cot^4\theta + \cot^2\theta = 3.6$  तो  $\operatorname{cosec}^4\theta - \operatorname{cosec}^2\theta = ?$

- (a) 0.6 (b) 3.6

- (c) 2.4 (d) 1.8

60. उस त्रिभुज का क्षेत्रफल ज्ञात कीजिए जिसके निर्देशांक (1, 2), (-4, -3) और (4, 1) हैं।

Find the area of the triangle whose coordinates are (1, 2), (-4, -3) and (4, 1).

- (a) 7 वर्ग इकाई (b) 10 वर्ग इकाई  
7 square unit 10 square units  
(c) 14 वर्ग इकाई (d) 20 वर्ग इकाई  
14 square units 20 square units

## HINDI

61. गद्यांश : दिए गए गद्यांश में से कुछ शब्द हटा दिए गए हैं। दिए गए विकल्पों की सहायता से प्रत्येक संख्या के लिए सबसे उपयुक्त विकल्प का चयन करें - भारत में वैदिक काल से लेकर आज तक कन्या को (1) \_\_\_\_\_ माना जाता है। जब वह युवा होती है तो किसी योग्य (2) \_\_\_\_\_ के हाथों में उसका (3) \_\_\_\_\_ कर दिया जाता है। दान के साथ कुछ (4) \_\_\_\_\_ भी दी जाती है जैसे गाय, सुवर्ण, वस्त्र, धन आदि। इस प्रकार (5) \_\_\_\_\_ की प्रथा चली। गद्यांश के रिक्त स्थान (1) के लिए सर्वाधिक उपयुक्त शब्द होगा -

- (a) नादान (b) पराया-धन  
(c) इंसान (d) दहेज-धन

62. गद्यांश के रिक्त स्थान (2) के लिए सर्वाधिक उपयुक्त शब्द होगा -

- (a) इन्सान (b) परिवार  
(c) खानदान (d) वर

63. सही वर्तनी वाले शब्द का चयन करें।

- (a) पौराणिक (b) पुराणिक  
(c) पूराणिक (d) पौरानिक

64. दिये गये वाक्यांश के लिए एक शब्द चुनिए। 'सब कुछ करने की क्षमता रखने वाला'

- (a) सर्वव्यापी (b) विशेषज्ञ  
(c) सर्वशक्तिमान (d) अन्तर्यामी

65. 'दृग' किसका पर्यायवाची है?

- (a) अश्व (b) आकाश  
(c) अमृत (d) आँख

66. दिए गए वाक्य का वह भाग ज्ञात करें जिसमें कोई त्रुटि है। यदि कोई त्रुटि नहीं है, तो 'कोई त्रुटि नहीं है' चुनें। इस जंगल के पीछे एक पीशाचिनी रहा करती थी।

Find the part of the given sentence in which there is an error. If there are no errors, select 'No errors'. There used to be a vampire witch behind this forest.

- (a) इस जंगल के पीछे (b) कोई त्रुटि नहीं है।  
(c) रहा करती थी। (d) एक पीशाचिनी

67. रिक्त स्थान की पूर्ति के लिए सबसे उपयुक्त शब्द का चयन करें - उसकी खुशी का \_\_\_\_\_ मैं आज तक नहीं जान पाया।

- (a) कारण (b) फल  
(c) ठिकाना (d) प्रकार

68. दिए गए वाक्य में रेखांकित खंड को प्रतिस्थापित करने के लिए सबसे उपयुक्त विकल्प का चयन करें। यदि इसे प्रतिस्थापित करने की

# SCHOLARS ACADEMY

आवश्यकता नहीं है, तो विकल्प किसी बदलाव की आवश्यकता नहीं है' का चयन करें। यह भोजन दस आदमी के लिए है।

- (a) दस आदमी का (b) दस आदमियों का  
(c) किसी बदलाव की आवश्यकता नहीं है। (d) दस आदमियों के

69. रिक्त स्थान की पूर्ति के लिए सबसे उपयुक्त शब्द का चयन करें - साहित्य और समाज का \_\_\_\_\_ संबंध है।

- (a) घनिष्ठ (b) घोर  
(c) घनघोर (d) घृणित

70. रिक्त स्थान को भरने के लिए सबसे उपयुक्त विकल्प का चयन करें। सीमा दसवीं कक्षा के 'क' \_\_\_\_\_ में पढ़ती है।

- (a) कोटि (b) अनुभाग  
(c) वर्ग (d) श्रेणी

71. 'किसी के पीछे-पीछे चलने वाला' वाक्यांश के लिए एक शब्द होगा-

- (a) आगामी (b) प्रतिगामी  
(c) अनुरागी (d) अनुगामी

72. दिए गए शब्द का विलोम चुनें- छली

- (a) निष्फल (b) निश्छल  
(c) कपटी (d) धूर्त

73. रिक्त स्थान की पूर्ति के लिए सबसे उपयुक्त शब्द का चयन करें- राम खूब कसरत करता है \_\_\_\_\_ वह पहलवान बन जाए।

- (a) क्योंकि (b) इसलिए  
(c) ताकि (d) इससे

74. दिए गए शब्द के समानार्थी का चयन करें। हिमालय

- (a) स्थिर (b) जगत  
(c) नगराज (d) सुरभि

75. सही वर्तनी वाले शब्द का चयन करें।

- (a) पर्दाथि (b) पदारथ  
(c) पदार्थ (d) र्पदाथ

76. रिक्त स्थान को भरने के लिए सबसे उपयुक्त विकल्प का चयन करें। मुझे \_\_\_\_\_ है कि आपकी दावत में सम्मिलित नहीं हो सकूँगा।

- (a) ग्लानि (b) खेद  
(c) शोक (d) हर्ष

77. निम्न चार विकल्पों में से, उस विकल्प का चयन करें जो दिए गये मुहावरे का अर्थ व्यक्त करता है- रंग लाना

- (a) परिवर्तन होना (b) धाक जमना  
(c) प्रभाव उत्पन्न करना (d) प्रोत्साहित होना

78. दिए गए वाक्य का वह भाग करें जिसमें कोई त्रुटि है। यदि कोई त्रुटि नहीं है, तो 'कोई त्रुटि नहीं है' चुनें। तुम्हारे से (1)/ कोई काम (2)/ नहीं हो सकता। (3)/ कोई त्रुटि नहीं है। (4)

- (a) 1 (b) 2  
(c) 3 (d) 4

79. दिए गए शब्द के विलोम शब्द का चयन करें- उदार

- (a) विनीत (b) अनुदात्त  
(c) आसक्त (d) कृपण

80. दिए गए वाक्य में रेखांकित खंड को प्रतिस्थापित करने के लिए सबसे उपयुक्त विकल्प का चयन करें। यदि इसको प्रतिस्थापित करने की

आवश्यकता नहीं है, तो विकल्प किसी बदलाव की आवश्यकता नहीं है' का चयन करें। तुम इस मूल्य से यह खरीद सकते हो।

- (a) इस मूल्य पर (b) इस मूल्य को  
(c) इस मूल्य में (d) किसी बदलाव की आवश्यकता नहीं है।

## English

81. Comprehension : In the following passage, some words have been deleted. Fill in the blanks with the help of the options given. Select the most appropriate option for each number. You will be quite surprised to know that the first telescope was made in the seventeenth century (1) \_\_\_\_\_ Galileo. It was fitted on top of the (2) \_\_\_\_\_ hill of Venice. Large crowds daily (3) \_\_\_\_\_ up the hill to see through (4) \_\_\_\_\_ telescope. They looked at the planets and (5) \_\_\_\_\_ at what they saw. Select the most appropriate option to fill in blank no. 1.

- (a) by (b) with  
(c) at (d) through

82. Select the most appropriate option to fill in blank no. 2.

- (a) most high (b) higher  
(c) high (d) highest

83. The following sentence has been split into four segments. Identify the segment that contains a grammatical error. Divya have little chance/of winning/the gold medal/this year.

- (a) Divya have little chance (b) of winning  
(c) this year (d) the gold medal

84. Select the incorrectly spelt word.

- (a) Procastination (b) Alliteration  
(c) Superintendent (d) Hallucination

85. Select the option that can be used as a one-word substitute for the given group of words. Written law passed by a law-making body

- (a) Statute (b) Rule  
(c) Summit (d) Ordeal

86. The following sentence has been split into four segments. Identify the segment that contains a grammatical error. If you want to/win the race,/you need to/believe in you.

- (a) you need to (b) believe in you  
(c) If you want to (d) win the race

87. Select the option that can be used as a one-word substitute for the given group of words. A person who tends to be hopeful and confident about the future or the success of something.

- (a) Fanatic (b) Pessimist  
(c) Optimist (d) Opportunist



# SCHOLARS ACADEMY

88. Select the most appropriate option to fill in the blank. He was —— from Turkey for his public condemnation of the Shah.

- (a) exiled (b) excluded  
(c) evacuated (d) escaped

89. Select the option that can be used as a one-word substitute for the given group of words. Study of insects

- (a) Entomology (b) Ornithology  
(c) Geology (d) Terminology

90. Select the most appropriate option to fill in the blank. He asked me —— I knew you.

- (a) although (b) since  
(c) whether (d) unless

91. Select the most appropriate option that can substitute the underlined segment in the given sentence. If there is no need to substitute it, select 'No substitution required'. General speaking, the great discoverers were people with great courage.

- (a) No substitution required (b) Generally speak  
(c) Generally spoken (d) Generally speaking

92. Select the most appropriate synonym of the given word. Investigate

- (a) Supervise (b) Relate  
(c) Examine (d) Calculate

93. The following sentence has been split into four segments. Identify the segment that contains a grammatical error. The manager told/the staff to complete/all the works/before going home.

- (a) before going home (b) the staff to complete  
(c) the manager told (d) all the works

94. Select the most appropriate synonym of the given word. Obvious

- (a) Dull (b) Thick  
(c) Clear (d) Vague

95. Select the option that will improve the underlined part of the given sentence. In case no improvement is needed, select 'No improvement required'. Your brother can't drive, is it ?

- (a) No improvement required (b) couldn't he  
(c) can he (d) will he

96. Select the option that will improve the underlined part of the given sentence. In case no improvement is needed, select 'No improvement required'. The sun had set by the time we reached the hilltop.

- (a) we reach (b) we were reaching  
(c) we had reached (d) No improvement required

97. Select the incorrectly spelt word.

- (a) Medallion (b) Mechanical

- (c) Mediate (d) Meddle

98. Select the most appropriate antonym of the given word. Assert

- (a) Abandon (b) Request  
(c) Urge (d) Insist

99. Select the most appropriate meaning of the given idiom. Out of the blue

- (a) Completely (b) Always dressing up in blue clothes  
(c) Coming out of a blue box (d) Caught in a fight

100. Select the most appropriate antonym of the given word. Demolish

- (a) Destroy (b) Divide  
(c) Diminish (d) Construct

## Basic Familiarity

101. हरियाणा का राज्य खेल कौन सा है?

Which is the state sport of Haryana?

- (a) कबड्डी Kabaddi (b) फुटबॉल Football  
(c) वॉलीबॉल Volleyball (d) कुश्ती Wrestling

102. वेदव्यास द्वारा लिखित महान ग्रंथ महाभारत कहाँ था?

Where was the great book Mahabharata written by Vedavyasa?

- (a) Sonapat (b) Kurukshetra  
(c) Hisar (d) Panipat

103. हरियाणा का उल्लेख ..... में किया गया है। महाकाव्य।

Haryana is mentioned in ..... epic.

- (a) रामायण Ramayana (b) गीतांजलि Gitanjali  
(c) महाभारत Mahabharata (d) शकुंतला Shakuntala

104. 1540 ई. में अफगान योद्धा शेरशाह ने किस मुगल शासक को हराकर दिल्ली पर अफगान शासन स्थापित किया?

In 1540 AD, the Afghan warrior Sher Shah defeated which Mughal ruler and established Afghan rule over Delhi?

- (a) हुमायूँ Humayun (b) अकबर Akbar  
(c) बाबर Babur (d) बहादुर शाह जफर Bahadur Shah Zafar

105. 1857 ई. में किस रियासत के सिख शासकों ने अंग्रेजों की सहायता की थी?

In 1857 AD, the Sikh rulers of which princely state helped the British?

- (a) नाभा Nabha (b) कुस्तंगा Kustanga  
(c) बीकानेर Bikaner (d) जयपुर Jaipur

106. हरियाणा के पहाड़ी क्षेत्र की मिट्टी ..... है।

The soil of hilly region of Haryana is .....

- (a) काला Black (b) पीला Yellow  
(c) चिकना smooth (d) चट्टानी rocky

# SCHOLARS ACADEMY

107. हरियाणा में झीलें क्यों महत्वपूर्ण हैं?  
Why are lakes important in Haryana?  
(a) कृषि Agriculture (b) पर्यटन Tourism  
(c) पर्यावरण Environment (d) ये सभी All of them
108. किलोई हर्बल पार्क स्थित है  
Kiloi Herbal Park is located at  
(a) सोनीपत (b) पानीपत  
Sonipat Panipat  
(c) हिसार (d) करनाल  
Hisar Karnal
109. बागवानी फसलों के अंतर्गत किसकी खेती की जाती है?  
What is cultivated under horticulture crops?  
(a) फल Fruit (b) सब्जी Vegetable  
(c) फूल flowers (d) ये सभी all of them
110. अम्बाला जिला सिंचाई के लिए ..... पर निर्भर है।  
Ambala district is dependent on ..... for irrigation.  
(a) ट्यूबवेल Tubewell (b) नहर Canal  
(c) बारिश rain (d) कई चैनल many channels
111. हरियाणा का पहला औद्योगिक जिला कौन सा है?  
Which is the first industrial district of Haryana?  
(a) गुरुग्राम Gurugram (b) पानीपत Panipat  
(c) फरीदाबाद Faridabad (d) फतेहाबाद Fatehabad
112. पश्चिमी यमुना नहर जलविद्युत परियोजना की स्थापना कब हुई थी?  
When was the Western Yamuna Canal Hydroelectric Project established?  
(a) वर्ष 1970 year 1970 (b) वर्ष 1975 year 1975  
(c) वर्ष 1978 year 1978 (d) वर्ष 1980 year 1980
113. निम्नलिखित में से कौन सी रेलवे लाइन रेवाड़ी जंक्शन के अंतर्गत आती है?  
Which of the following railway line comes under Rewari Junction?  
(a) रेवाड़ी-दिल्ली रेलवे Rewari-Delhi Railway (b) रेवाड़ी-नारनौल-रींगस रेलमार्ग Rewari-Narnaul-Ringus Railroad  
(c) रेवाड़ी-बावल-अलवर रेलवे Rewari-Bawal-Alwar Railway (d) ये सभी All of them
114. विधानसभा चुनाव के दौरान हरियाणा 13वें..... हरियाणा अकाउंटेंट हरियाणा ग्रुप डी  
Haryana 13 th during the state assembly elections ..... Haryana Accountant Haryana Group D  
(a) वर्ष 2013 Year 2013 (b) वर्ष 2014 Year 2014  
(c) वर्ष 2015 year 2015 (d) वर्ष 2016 year 2016
115. लोक अदालत के संबंध में कौन सा कथन सही नहीं है?  
Which statement is not correct regarding Lok Adalat?  
(a) लोक अदालत एक सिविल कोर्ट की तरह है, जिसका निर्णय अंतिम होता है Lok Adalat is like a civil court, whose decision is (b) हरियाणा में 11 स्थायी लोक अदालतें स्थापित की गई हैं 11 Permanent Lok Adalats have been established in Haryana
- final  
(c) हरियाणा के 21 जिलों में नियमित लोक अदालत चलाई जा रही हैं Regular Lok Adalat is being run in 21 districts of Haryana (d) सहायता के लिए एक सदस्य को नामित किया जाता है जिला लोक अदालत में न्यायाधीश A member is nominated to assist the judge in the District Lok Adalat
116. हरियाणा में पंचायती राज संशोधन अधिनियम, 2015 के तहत, वही व्यक्ति पंचायती राज संस्था में चुना जा सकता है, जिसके पास कम से कम कितनी शैक्षणिक योग्यता होगी?  
In Haryana, under the Panchayati Raj Amendment Act, 2015, the same person can be elected in a Panchayati Raj institution, who will have at least what educational qualification?  
(a) 5वीं पास 5th pass (b) 8वीं पास 8th pass  
(c) 10वीं पास 10th pass (d) 12वीं पास 12th pass
117. गोकर्ण तालाब किस शहर में स्थित है?  
In which city is the Gokarna Talab located?  
(a) रोहतक Rohtak (b) जींद Jind  
(c) सोनीपत Sonipat (d) नारनौल Narnaul
118. निम्नलिखित में से किसका निर्माण बलबन ने करवाया था?  
Which of the following was built by Balban?  
(a) फरुखनगर का शीश महल Sheesh Mahal of Farrukhnagar (b) बूड़िया का रंग महल Rang Mahal of Budiya  
(c) हांसी का किला Hansi fort (d) गोपालगिरि किला Gopalgiri fort
119. बहादुरगढ़ का किला मराठों द्वारा कब जीता गया था?  
When was the fort of Bahadurgarh conquered by the Marathas?  
(a) 1785 ई. 1785 AD (b) 1788 ई. 1788 AD.  
(c) 1793 ई. 1793 AD (d) 1799 ई. 1799 AD.
120. एशिया की सबसे बड़ी मानव निर्मित झील कहाँ है?  
Where is the largest man-made lake in Asia?  
(a) कुरुक्षेत्र Kurukshetra (b) पेहोवा Pehowa  
(c) हरिद्वार Haridwar (d) वनखल Vankhal
121. अधिगम की श्रेणी में क्या सम्मिलित किया जाएगा?  
What will be included in the category of learning?  
(a) सिर्फ अभ्यास के कारण व्यवहार में होने वाला परिवर्तन Change in behavior due to practice alone (b) अभ्यास एवं अनुभूति दोनों के कारण व्यवहार में होने वाला परिवर्तन Change in behavior due to both practice and experience  
(c) अभ्यास, अनुभूति एवं अन्तर्द के कारण व्यवहार में होने वाला परिवर्तन Change in behavior due to practice, feeling and intuition (d) उपर्युक्त में सभी तरह के परिवर्तन All changes in the above

# SCHOLARS ACADEMY

122. पियाजे के अनुसार मानसिक छवि या वस्तुओं और अनुभवों के प्रतीकों को संग्रहीत करने की क्षमता के लिए किस शब्द का प्रयोग किया जाता है?  
According to Piaget, which term is used for capacity to store mental image or symbols of objects and experiences?
- (a) आलोचनात्मक क्षमता (b) प्रतिनिधित्व क्षमता  
Critical ability Representational ability  
(c) लचीली क्षमता Flexible ability (d) सीखने की क्षमता Learning ability
123. निम्नलिखित में से कौन व्यक्तित्व मूल्यांकन के तरीकों की प्रक्षेपी तकनीक से संबंधित नहीं है?  
Which of the following doesn't belong to the Projective Techniques of methods of assessing personality?
- (a) BG परीक्षण BG Test (b) हस्तलेख विज्ञान Graphology  
(c) अभिवृत्ति परीक्षण Aptitude Test (d) बालक अन्तर्बोध परीक्षण Children Apperception Test
124. समीपस्थ दूरी का क्षेत्र और स्कैफ़लिंग बाल विकास की कुछ प्रमुख प्रक्रियाएँ हैं। ये शब्द किसने दिए?  
Proximal distance zone and scaffolding are some of the major processes of child development. Who gave these words?
- (a) रूसी Rousseau (b) वाइगोत्सकी Vygotsky  
(c) कोहलबर्ग Kohlberg (d) प्याजे Piaget
125. फ्रॉयड ने ऊर्जा का वितरण व्यक्तित्व विकास के जिन स्थलों पर किया है, उनके नाम हैं  
The stages of personality development that Freud has named as centres for energy, are
- (a) इदम् व पराहम् Id and Superego (b) अहम् व पराहम् Ego and Superego  
(c) इदम्, अहम् व पराहम् Id, Ego and Superego (d) कोई नहीं None of the above
126. निम्न में से कौन-सा कथन सही नहीं है?  
Which of the following statements is not correct?
- (a) शिक्षा मनोविज्ञान भौतिकशास्त्र या गणित की तरह एक शुद्ध विज्ञान है। Educational Psychology is a pure science like Physics or Mathematics.  
(b) शिक्षा मनोविज्ञान का क्षेत्र एक अध्यापक के लिये उसके अध्ययन की आवश्यकता को स्पष्ट करता है। Scope of Educational Psychology clarifies the need of its study for a teacher.  
(c) शिक्षा मनोविज्ञान अपनी अध्ययन की विधियों में एक विज्ञान है। In its methods of study, Educational Psychology is a science  
(d) शिक्षा मनोविज्ञान अधिगम के सिद्धान्त और नियम स्थापित करता है। Educational Psychology establishes principles and laws of learning.
127. यौन विकास के सिद्धान्त में किस मनोवैज्ञानिक ने सुप्तावस्था की बात की?  
Which psychologist spoke of the dormancy period in the theory of sexual development?
- (a) फ्रायड Freud (b) पियाजे Piaget
- (c) एरिकसन Ericsson (d) वाइगोत्सकी Vygotsky
128. जब किसी व्यक्ति के मस्तिष्क में स्मृति चिह्नों को बदल दिया जाता है, तो यह \_\_\_\_\_ कहलाता है।  
When the memory traces in the individual's brain gets distorted the result is
- (a) स्मृति Memory (b) विस्मरण Forgetting  
(c) प्रतिधारण Retention (d) हस्तक्षेप Interference
129. खेल के प्रत्याशित सिद्धान्त के प्रतिपादक कौन थे ?  
Who was the propounder of Anticipatory theory of Play ?
- (a) कार्ल ग्रोस Karl Groos (b) जी. स्टनली हॉल G. Stanley Hall  
(c) मैक-डूगल Mc-Daugall (d) लाजासुस Lazarus
130. किशोरावस्था अवस्था के सन्दर्भ में यह कथन सत्य नहीं है  
This statement is not true with reference to Adolescence stage
- (a) किशोरावस्था अंतर-मध्यस्थ अवस्था है Adolescence is inter-mediatory stage  
(b) किशोरावस्था संक्रमणकालीन अवस्था है Adolescence is transitional stage  
(c) किशोरावस्था में यथार्थवादी आकांक्षाएँ होती हैं Adolescence possess realistic aspirations  
(d) किशोरावस्था में पहचान की लालसा होती है Adolescence craves for identity
131. 1905 में \_\_\_\_\_ ने मनोविज्ञान में पहला बुद्धि परीक्षण दिया।  
In 1905 \_\_\_\_\_ gave the first intelligence tests in psychology.
- (a) अल्फ्रेड और गॉर्डन Alfred and Gordon (b) हार्वे और सिरिलो Harvey and Cyril  
(c) बिनै और साइमन Binet and Simon (d) बर्ट और सिरिलो Burt, Cyril
132. साइकिल चलाने में संतुलन का ज्ञान स्कूटर चलाना सीखने में सहायता करता है। यहाँ अधिगम के स्थानान्तरण का प्रकार है  
The knowledge of balancing in cycling helps in learning of scooter driving. The type of transfer of learning here is
- (a) सकारात्मक स्थानांतरण Positive transfer (b) नकारात्मक स्थानांतरण Negative transfer  
(c) शून्य स्थानांतरण Zero transfer (d) द्विपक्षीय स्थानांतरण Bilateral transfer
133. बाल अन्तर्बोध (एपरसेप्शन) परीक्षण का निर्माण किसने किया ?  
Who had developed Child Apperception test ?
- (a) मर्रे Murray (b) बेलक Bellack  
(c) रोबर्ट Robert (d) रोज़नविग Rosenwig
134. थार्नडाइक का यह नियम पुनरीक्षण और स्मरण को बढ़ावा देता है  
This Thorndike's law promotes revision and recall
- (a) तत्परता का नियम Law of Readiness (b) प्रभाव का नियम Law of Effect  
(c) अभ्यास का नियम Law of Exercise (d) अनुकरण का नियम Law of Imitation
135. "विकास कभी न खत्म होने वाली प्रक्रिया है" यह विचार किसके साथ जुड़ा हुआ है?  
"Development is a never-ending process." This idea is associated with

# SCHOLARS ACADEMY

- (a) एकीकरण का सिद्धांत Principle of integration  
(b) बातचीत का सिद्धांत Principle of interaction  
(c) अंतर्संबंध का सिद्धांत Principle of interrelation  
(d) निरंतरता का सिद्धांत Principle of continuity
136. निम्नलिखित में से कौन व्यक्तित्व के लक्षण सिद्धांत के प्रमुख प्रतिपादकों में से एक नहीं है?  
Who out of the following is not one of the chief exponents of the trait theory of personality?  
(a) एच. जे. आइसेक H.J. Eysenck  
(b) आर. के. प्रिचेट R.K. Pritchett  
(c) जी. डब्ल्यू. आलपोर्ट G.W. Allport  
(d) आर. बी. कैटेल R.B. Cattell
137. उत्पादन बनाम गतिहीनता किस अवस्था में होता है?  
Generativity v/s stagnation occurs in which stage?  
(a) यौवनावस्था Puberty  
(b) प्रसुप्ति Latency  
(c) मध्य वयस्कता Middle adulthood  
(d) युवा वयस्कता Young adulthood
138. एक मानसिक रूप से स्वस्थ व्यक्ति हर नई परिस्थिति को समझता है। मानसिक रूप से स्वस्थ व्यक्ति :  
A mentally healthy person understand every new situation to adopt himself. Through mental health, a person  
(a) अच्छी प्रकार समायोजित हो सकता है। can adjust very well  
(b) कहीं भी समायोजित नहीं होता है। do not adjust any where  
(c) समाज में अव्यवस्था उत्पन्न करता है। create disturbance in the society  
(d) किसी भी परिस्थिति को नहीं सम्भाल सकता है। do not handle any situation
139. आप सृजनात्मकता के विकास हेतु कौन सी शिक्षण विधि अपनाएँगे ?  
Which teaching method will you adopt for the development of creativity?  
(a) समस्या - समाधान विधि problem solving method  
(b) कहानी विधि story method  
(c) व्याख्यान विधि lecture method  
(d) व्यक्ति इतिहास विधि person history method
140. निम्नलिखित में से कौन सा गिलफोर्ड के त्रिविमीय बुद्धि सिद्धांत के 'विषय-वस्तु आयाम' का घटक नहीं है?  
Which is not the component of 'Content Dimensions' of three dimensional intelligence theory by Guilford?  
(a) प्रणाली System  
(b) प्रतीकात्मक Symbolic  
(c) शाब्दिक Semantic  
(d) व्यावहारिक Behavioural
141. अनुभूति मुख्य रूप से किसके विकास से संबंधित है?  
Cognition mainly deals with development of  
(a) विचार और ज्ञान Thought and knowledge  
(b) ज्ञान और संचार Knowledge and Communication  
(c) विचार और श्रवण Thought and Listening  
(d) उपरोक्त सभी All of the above
142. आधुनिक मनोविज्ञान अध्ययन का सम्बन्ध है :  
The study of modern psychology is related to :  
(a) आत्मा से Soul  
(b) मन से Mind  
(c) व्यवहार से Behaviour  
(d) बुद्धिमत्ता से Intelligence
143. बालक के संवेगों की विशेषता नहीं है  
The child's emotions are not characteristic  
(a) संवेगों की उग्रता intensity of emotions  
(b) संवेगों में शीघ्रता quickness of emotions  
(c) संवेगों का बार-बार प्रकटीकरण frequent manifestation of emotions  
(d) संवेगों की स्थायी प्रकृति permanent nature of emotions
144. निम्नलिखित में से कौन व्यक्तित्व मापन की प्रक्षेपी तकनीक है?  
Which of the following is projective technique of personality measurement?  
(a) अवलोकन Observation  
(b) प्रसंगात्मक बोध परीक्षण Thematic apperception test  
(c) साक्षात्कार Interview  
(d) रेटिंग स्केल Rating scale
145. इनमें से कौन सी एक प्रकार की आदत नहीं है?  
Which of these is not a type of habit ?  
(a) तंत्रिका संबंधी आदतें Neurotic habits  
(b) व्युत्पन्न आदतें Derived habits  
(c) यांत्रिक आदतें Mechanical habits  
(d) ये सभी All of these habits
146. अभिप्रेरणा के सन्दर्भ में निम्नलिखित में से कौन सा युग्म सही ढंग से सुमेलित है?  
I. बाह्य अभिप्रेरणा - यह उस अभिप्रेरणा को संदर्भित करती है जो रुचि या आनंद से स्वतः उत्पन्न होती है।  
II. आंतरिक अभिप्रेरणा - परिणाम प्राप्त करने के लिए किसी क्रिया के प्रदर्शन को संदर्भित करती है।  
In the context of motivation, which of the following pair is correctly matched?  
I. Extrinsic motivation - It refers to motivation that is driven by an interest or enjoyment in the task itself.  
II. Intrinsic Motivation - Refers to the performance of an activity in order to attain an outcome.  
(a) केवल I Only I  
(b) ना ही I ना ही II Neither I nor II  
(c) I तथा II दोनों Both I and II  
(d) केवल II Only II
147. स्टेनफोर्ड बिनो बुद्धि-लब्धि परीक्षण के लिए तय मानक के अनुसार 'सामान्य मंदित' बालकों का बुद्धि-लब्धि प्रसार क्या है ?  
According to the Norms prescribed for Stanford-Binet I.Q. Scale, what is the I.Q. Range of Moderate Mentally Retarded children?  
(a) 50-55 से लगभग 70 50-55 to approximately 70  
(b) 35-40 से 50-55 35-40 to 50-55  
(c) 20-25 से 35-40 20-25 to 35-40  
(d) 20 से नीचे Below 20
148. गैग्ने ने अपने सीखने के चरण में किस प्रकार के अधिगम को निम्नतम स्थान पर रखा है?  
Which type of learning has Gagne placed at the lowest position in his learning step?  
(a) शाब्दिक अधिगम Lexical  
(b) संकेत अधिगम Signal

# SCHOLARS ACADEMY

- learning  
(c) श्रृंखला अधिगम Series Learning
- learning  
(d) प्रत्यय अधिगम suffix learning
- 149.** किशोरावस्था के वैज्ञानिक अध्ययन का जनक किसे वर्णित किया जाता है?  
Who is described as the father of the scientific study of adolescence?  
(a) मार्गरेट मीड Margaret Mead  
(b) जी. स्टेनली हॉल G. Stanley Hall  
(c) लेटा हॉलिंगवर्थ Leta Stetter Hollingworth  
(d) अरस्तू Aristotle
- 150.** निम्नलिखित में से कौन सा जन्मजात अभिप्रेरक नहीं है ?  
Out of the following which is not an innate motive?  
(a) भूख Hunger  
(b) प्यास Thirst  
(c) आकांक्षा Aspiration  
(d) निद्रा Sleep
- 151.** व्यक्तित्व आकलन की प्रक्षेपी तकनीकों में \_\_\_\_\_ व्यवहार का मूल्यांकन किया जाता है।  
In projective techniques of personality assessment, \_\_\_\_\_ behaviour is evaluated.  
(a) अपराधी criminal  
(b) सचेत conscious  
(c) प्रकट overt  
(d) अप्रकट covert
- 152.** सुरेश नाम का एक लड़का राजेश की कक्षा में आता है, जिसकी आयु 15 वर्ष है। यदि उसकी मानसिक आयु 18 वर्ष है, तो आप उसकी बुद्धि-लब्धि कैसे ज्ञात करेंगे ?  
A boy named Suresh falls in Rajesh's class, whose age is 15 years. If his mental age is 18 years, then you will gain his intelligent Quotient as?  
(a) 75  
(b) 100  
(c) 120  
(d) 125
- 153.** रेवेन प्रोग्रेसिव मैट्रिस एक है-  
Raven's standard progressive matrices is a  
(a) बुद्धि का व्यक्तिगत परीक्षण Individual test of intelligence  
(b) बुद्धि का समूह परीक्षण Group test of intelligence  
(c) बुद्धि का प्रदर्शन परीक्षण Performance test of intelligence  
(d) बुद्धि का मौखिक परीक्षण Verbal test of intelligence
- 154.** कोलबर्ग के नैतिक विकास सिद्धांत के किस चरण में दंड जैसे पुनर्बलन नैतिक संहिता को परिभाषित करते हैं?  
Reinforcements like punishments define moral code in which level of Kohlberg's Moral Development Theory?  
(a) विषम नैतिकता Heteronomous Morality  
(b) उत्तर-पारंपरिक Post-conventional  
(c) पारंपरिक Conventional  
(d) पूर्व पारंपरिक Pre-conventional
- 155.** राज्यों और उनसे संबंधित राजधानियों के नामों को सीखना किस के अंतर्गत आता है?  
Learning the names of the states and their corresponding capital cities comes under  
(a) संकल्पनात्मक अधिगम Conceptual learning  
(b) प्रक्रियात्मक अधिगम Procedural learning  
(c) सामान्यीकरण अधिगम  
(d) तथ्यात्मक अधिगम Factual
- Generalisation learning learning
- 156.** निम्नलिखित में से कौन सा कैटल द्वारा तैयार किया गया व्यक्तित्व परिक्षण है?  
Which of the following is a personality test created by Cattell?  
(a) वाक्य पूर्णता परीक्षण Sentence Completion Test  
(b) एनईओ-एफएफआई NEO-FFI  
(c) सोलह व्यक्तित्व कारक प्रभावली (सिक्सटीन पर्सनालिटी फैक्टर्स कैशननॉयर) Sixteen Personality Factors Questionnaire  
(d) बिन्दुपथ का नियंत्रण (लोकस ऑफ़ कंट्रोल) Locus of Control
- 157.** निम्नलिखित में से कौन एक किशोर की संज्ञानात्मक क्षमता पर महत्वपूर्ण प्रभाव डाल सकता है?  
Which of the following can have a significant impact on the cognitive competence of an adolescent?  
(a) स्थितियों पर प्रतिक्रिया Response to situations  
(b) मनोरंजक गतिविधियां Recreational activities  
(c) माता-पिता के साथ संबंध Relationship with parents  
(d) कक्षाओं में तर्क Reasoning in classrooms
- 158.** किस समाजीकरण प्रक्रिया में बच्चे कम उम्र में ही उचित लैंगिक भूमिकाएँ सीखते हैं?  
In which socialization process children learn appropriate gender roles at an early age?  
(a) लैंगिक विभेदीकरण Gender - Differences  
(b) लैंगिक रूढ़िबद्धता Gender - Stereotypes  
(c) लैंगिक पहचान Gender - Identity  
(d) लैंगिक प्रकार Gender - Typing
- 159.** इस प्रकार की बुद्धि वाले लोगों को 'सामाजिक बुद्धिमान' कहा जाता है  
People having this type of intelligence are called 'Social smart'  
(a) स्थानिक बुद्धि Spatial intelligence  
(b) अंतर्व्यक्तिक बुद्धि Interpersonal intelligence  
(c) शारीरिक गतिज बुद्धि Bodily kinaesthetic intelligence  
(d) अंतराव्यक्तिक बुद्धि Intrapersonal intelligence
- 160.** बच्चे के भाषा विकास के लिए क्या उपाय करने चाहिए?  
What measures should be taken for language development of a child?  
(a) स्कूल में कई भाषा प्रयोगशालाएँ बनाना Making many language laboratories in school  
(b) राष्ट्रीय भाषा में प्राथमिक शिक्षा देना Giving primary education in national language  
(c) अंग्रेजी भाषा में प्राथमिक शिक्षा देना Giving primary education in English language  
(d) मातृभाषा में प्राथमिक शिक्षा देना Giving primary education in mother language
- 161.** टीएलएम (TLM) का उपयोग इसके लिए करना चाहिए-

# SCHOLARS ACADEMY

- TLM should be used for –
- (a) अध्यापन को अधिक उपयोगी बनाना  
making teaching more useful  
(c) ठोस उदाहरण देना  
give concrete examples
- (b) अध्यापन को प्रभावशाली बनाना  
make teaching effective  
(d) अधिगम को सरल बनाना  
simplifying learning
162. सीखने की प्रक्रिया को बेहतर बनाने में तकनीक का उपयोग करने को, शिक्षण में ..... कहते हैं।  
Using technology to improve the learning process in teaching is called.....
- (a) आईटी (IT)  
IT  
(c) सूचना प्रौद्योगिकी  
Information Technology
- (b) आईसीटी (ICT)  
ICT  
(d) संचरण प्रौद्योगिकी  
transmission technology
163. .... में अतिरिक्त सभी कम्प्यूटर ऑपरेटिंग सिस्टम है।  
..... contains all the additional computer operating systems.
- (a) माइक्रोसॉफ्ट ऑफिस  
Microsoft Office  
(c) विंडोज 10  
Windows 10
- (b) लाइनक्स  
linux  
(d) iOS
164. सुश्री शैलजा, जो कक्षा पाँच की अध्यापिका है, अपने विद्यार्थियों से शैक्षिक उपलब्धि तथा सामाजिक व्यवहार सम्बन्धी उच्च अपेक्षाएँ रखती हैं, उसके अनुसार यह महत्वपूर्ण है कि कक्षा का परिवेश स्नेही हो, प्रोत्साहित करने वाला हो तथा बच्चों की आवश्यकताओं के प्रति संवेदनशील हो अपने विचारों में वह दृढ़ है, परन्तु कक्षा सम्बन्धी नियमों का तर्काधार देने में थोड़ा समय लेती हैं, उसका विश्वास है कि जब विद्यार्थी नियमों का उल्लंघन करें, तो उन्हें दण्ड मिलना चाहिए, परन्तु वह ऐसी सजा देना चाहती है जो उचित हो, परन्तु बच्चे अवमानित अनुभव न करें।  
Ms. Shailja, a Class 5 teacher, has high expectations from her students regarding academic achievement and social behaviour, according to her it is important that the classroom environment is warm, encouraging and sensitive to the needs of the children. She is firm, but takes a while to justify classroom rules; she believes that when students break the rules, they should be punished, but she wants to give punishment that is fair, but makes the children feel humiliated. Don't do it.
- (a) सत्तावादी  
authoritarian  
(c) उन्मुक्त  
free
- (b) प्रमाणिक  
authentic  
(d) अहस्तक्षेप  
laissez-faire
165. प्रभावी डोमेन में ..... के स्तर पर संक्षिप्त ज्ञान बनाया जाता है।  
In the affective domain abstract knowledge is created at the level of .....
- (a) अंकन  
marking  
(c) निरूपण  
formulation
- (b) आयोजन  
events  
(d) उपर्युक्त में से कोई नहीं  
none of the above
166. निम्नलिखित में से कौन रचनात्मक सोच का चरण है?  
(I) स्पष्टीकरण/उष्मायन  
(II) मूल्यांकन  
(III) तैयारी

- (IV) संशोधन/पुनरावृत्ति  
Which of the following is/are stages (s) of creative thinking?
- (I) Illumination  
(II) Evaluation  
(III) Preparation  
(IV) Revision
- (a) I, II और III  
I, II and III  
(c) I, II, III और IV  
I, II, III and IV
- (b) I, III और IV  
I, III and IV  
(d) I, II, III और IV  
II, III and IV
167. निम्नलिखित में से कौन सामाजिक कौशल के अंतर्गत नहीं आता है?  
Which of the following doesn't fall under social skills?
- (a) दुनिया के बारे में उत्सुकता  
Shows curiosity about the world  
(c) जोड़ी और समूह गतिविधियों में सहयोग करता है।  
Co-operates in pair and group activities
- (b) अन्य विद्यार्थियों की मदद करता है।  
Helps other pupils  
(d) सामग्री साझा करता है।  
Shares materials.
168. निम्नलिखित में से कौन जीवन कौशल की एक सामान्य श्रेणी नहीं है?  
Which of the following is Not a general category of life skills?
- (a) भावनात्मक कौशल  
Emotional skills  
(c) सहभागिता कौशल  
Interaction skills
- (b) सामाजिक कौशल  
Social skills  
(d) सोच कौशल  
Thinking skills
169. कोह्लबर्ग के लिए ..... की अवधारणा बहुत महत्वपूर्ण थी क्योंकि इसने उन्हें अपने चरण अनुक्रम की दिशा की व्याख्या करने में सक्षम किया।  
The concept of.....was very important for Kohlberg because it enabled him to explain the direction of his state sequence.
- (a) क्रॉस-कल्चरल विश्वविद्यालय  
crosscultural university  
(c) स्ट्रक्चर्ड होल्स  
structured wholes
- (b) इन्वेरियंट क्रम  
invariant sequence  
(d) पदानुक्रम एकीकरण  
hierarchical integration
170. निम्नलिखित में से कौन-सा बच्चों की वृद्धि और विकास का आन्तरिक कारक है?  
I. भावनात्मक कारक  
II. बुद्धि  
III. आनुवंशिकता कारक  
IV. जैविक और संवैधानिक कारक  
Which of the following is/are internal factor(s) of the growth and development of children?
- I. Emotional factors  
II. Intelligence  
III. Heredity factors  
IV. Biological and constitutional factors
- (a) I, II और III  
I, II and III  
(c) II, III और IV  
II, III and IV
- (b) I, II, III और IV  
I, II, III and IV  
(d) I, III और IV  
I, III and IV

# SCHOLARS ACADEMY

171. एक आक्रामक क्रोधी एवं विद्रोही प्रवृत्ति वाले छात्र से निपटने के लिए आप निम्नलिखित उपाय पर भरोसा करेंगे-

To deal with an aggressive, angry and rebellious student, you will rely on the following measures:

- (a) स्वयं के व्यवहार का निश्चयीकरण एवं सुदृढ़ सन्तुलन (b) उक्त छात्र के व्यवहार जैसा ही अपना व्यवहार बदल लेंगे

Determination and strong balance of one's behavior (c) आप छात्र के व्यवहार को नम्य बनाने का भरसक प्रयास करेंगे (d) आप छात्र को उसके हाल पर छोड़ देंगे

You will try your best to make the student's behavior flexible (c) आप छात्र को उसके हाल पर छोड़ देंगे you will leave the student to his own devices

172. विद्यार्थियों के सेक्शन A, B तथा C विद्यार्थियों की घटती हुई योग्यता के आधार पर बनाए गए हैं (तीव्र, सामान्य तथा कमजोर) इनमें से आप किस सेक्शन को पढ़ाना चाहेंगे?

Sections A, B and C of the students have been created on the basis of decreasing ability of the students (strong, moderate and weak). Which of these sections would you like to teach?

- (a) A (b) B (c) C (d) किसी भी सेक्शन को to any section

173. पीडब्ल्यूडी का पूर्ण रूप क्या है?

What is the full form of PWD?

- (a) पर्सन्स विद डिसेबिलिटीज Persons with Disabilities (b) पर्सन्स विदाऊट डिसेबिलिटीज Persons without Disabilities (c) पीपल विद डिफरेंसेज People with differences (d) पीपल विद डिफार्मिटीज People with deformities

174. विश्व स्वास्थ्य संगठन के अनुसार, मनोवैज्ञानिक, शारीरिक या रचनात्मक संरचना या कार्य का कोई नुकसान या असामान्यता क्या है?

According to the World Health Organization, what is any impairment or abnormality of psychological, physical or anatomical structure or function?

- (a) हानि Loss (b) विकलांगता disability (c) मानसिक स्वास्थ्य mental health (d) अपंगता Disability

175. रचनात्मक मूल्यांकन (Formative assesment) के लिए निम्न में से कौन-सा सही तरीका नहीं है?

Which of the following is not the correct method for formative assesment?

- (a) कार्य देना to give work (b) मौखिक प्रश्न oral question (c) सत्र परीक्षा session exam (d) प्रश्नोत्तरी और खेल Quiz and Games

176. सृजनात्मक उत्तरों की आवश्यकता होती है-

Creative answers are required -

- (a) प्रत्यक्ष शिक्षण एवं प्रत्यक्ष प्रश्नों की (b) विषयवस्तु आधारित प्रश्नों की content based questions

direct teaching and direct questions

- (c) खुले प्रश्नों की of open questions (d) एक अति अनुशासित कक्षा की of a highly disciplined class

177. शैक्षणिक विश्लेषण के शिक्षा चरण में निम्नलिखित में से कौन-सी गतिविधि शामिल है?

Which of the following activity is involved in the educational stage of pedagogical analysis ?

- (a) प्रतिक्रिया देना Giving Feedback (b) इच्छित सीखने के परिणामों की उपलब्धि के लिए जाँच करने के लिए उपकरणों का निर्धारण

Determining the tools to check for achievement of the intended learning outcomes

- (c) सीखने के परिणाम का खुलासा करना। Stating learning outcomes (d) सीखने के विभिन्न प्रकारों की पहचान करना। Identifying the types of learning

178. संचयी रिकॉर्ड कार्ड को व्यक्तित्व के मूल्यांकन के निम्नलिखित प्रकारों में से किसके अन्तर्गत वर्गीकृत किया जा सकता है?

Under which of the following types of personality analysis can cumulative Record card be classified?

- (a) गैर-मानकीकृत परीक्षण या व्यक्तिपरक विधि Non-standard Test or Personal Method (b) मानकीकृत परीक्षण या उद्देश्य विधि Standard Test or Objective Method (c) प्रक्षेपीय तकनीक Projection Technique (d) निर्देशात्मक तकनीक Instructional Technique

179. हाल के वर्षों में थीस फेस्टिवल को निम्नलिखित में से किस राज्य सरकार द्वारा एक महत्वपूर्ण आदिवासी त्यौहार के रूप में मान्यता दी गई?

In recent years Theis Festival was recognized as an important tribal festival by which of the following state governments?

- (a) तमिलनाडु Tamil Nadu (b) तेलंगाना Telangana (c) कर्नाटक Karnataka (d) त्रिपुरा Tripura

180. सबसे पहले 'समुदाय' को किसने परिभाषित किया? Who first defined 'community'?

- (a) एरिस्टोटल Aristotle (b) इंदिरा गांधी Indira Gandhi (c) एम.के. गांधी M.K. Gandhi (d) प्लेटो plato

181. यह कथन किसने कहा था? "किसी भी छात्र के विकास के लिए और उसके व्यक्तित्व को पूरी तरह से विकसित करने के लिए साहित्य, संगीत, और कला तीनों जरूरी होते हैं।"

Who said this statement? "Literature, music and art are essential for the development of any student and for the complete development of his personality."

- (a) महात्मा गांधी Mahatma Gandhi (b) रविन्द्र नाथ टैगोर Rabindranath Tagore

# SCHOLARS ACADEMY

(c) श्री अरविंदो  
Sri Aurobindo

(d) मारिया मांटेसरी  
maria montessori

182. यह कथन किसने कहा? "गणित के बारे में बहुत सा ज्ञान प्राप्त करने से उपयोगी यह है कि किसी चीज में गणित का उपयोग किस प्रकार से किया जाए।"

Who said this statement? "The most useful thing about having a lot of knowledge about mathematics is knowing how to use it in something."

(a) जाकिर हुसैन  
Zakir Hussain  
(c) महात्मा गांधी  
Mahatma Gandhi

(b) डेविड व्हीलर  
David Wheeler  
(d) जार्ज पोल्या  
George Polya

183. वर्तमान में पाठ्यक्रम, पाठ्यपुस्तक आधारित है-

At present the curriculum is textbook based -

(a) संज्ञानात्मक सोच पर  
on cognitive thinking  
(c) व्यवहारवादी सोच पर  
on behavioral thinking

(b) संरचनात्मक सोच पर  
on structural thinking  
(d) उपरोक्त में से कोई नहीं  
neither of the above

184. पाठ्यक्रम संप्रत्यय से तात्पर्य है-

The concept of curriculum means -

(a) शिक्षण अधिगम सामग्री  
teaching learning material  
(c) मूल्यांकन  
Evaluation

(b) शिक्षण व्यूहरचनाएं  
Learning strategies  
(d) उपरोक्त सभी  
All of the above

185. 1921-1947 की अवधि के दौरान, शैक्षिक संस्थानों में लड़कियों के दाखिलों में भारी वृद्धि हुई थी, इसका मुख्य कारण ..... था।  
During the period 1921-1947, there was a huge increase in the enrollment of girls in educational institutions, mainly due to.....

(a) राजनीतिक प्रबोधन  
political enlightenment  
(c) महाविद्यालयों की स्थापना  
establishment of colleges

(b) स्कूलों की स्थापना  
establishment of schools  
(d) जागरूकता  
awareness

186. भारत में स्कूल शिक्षा को मोटे तौर पर कितने चरणों में वर्गीकृत किया जा सकता है?

School education in India can be broadly classified into how many stages?

(a) दो  
Two  
(c) चार  
Four

(b) पांच  
Five  
(d) तीन  
Three

187. उच्च प्राथमिक स्तर पर भूगोल और अर्थशास्त्र एक साथ निम्नलिखित में सहायक हो सकते हैं-

At the upper primary level, Geography and Economics together can be helpful in the following -

(a) पर्यावरण, संसाधन एवं विकास के मुद्दों के प्रति दृष्टिकोण विकसित करना

(b) बहुलवाद को समझना  
understanding pluralism

To develop attitudes towards environment, resources and development issues

(c) पर्यावरण एवं स्थानों के बारे में ज्ञान को विकसित करना

(d) संसाधनों के इष्टतम नियतन को समझना

To develop knowledge about environment and places

Understanding optimal allocation of resources

188. आप अलाउद्दीन खिलजी या मोहम्मद बिन तुगलक के शासनकाल में एक किसान हैं और आप सुल्तान द्वारा लगाया गया कर नहीं चुका सकते। आप क्या करेंगे? उपर्युक्त प्रश्न में किसको बढ़ावा दिया जा रहा है?

You are a farmer during the reign of Alauddin Khilji or Mohammad Bin Tughlaq and you cannot pay the tax imposed by the Sultan. What would you do? Who is being promoted in the above question?

(a) इतिहास के सन्दर्भ में कल्पना  
imagination in the context of history

(b) स्रोतों का महत्त्व  
importance of sources

(c) संस्कृति का सम्मान  
respect for culture

(d) साहित्य का महत्त्व  
importance of literature

189. भारत में वर्तमान शैक्षिक प्रणाली के समक्ष सबसे बड़ी चुनौती ..... है।

The biggest challenge facing the current educational system in India is.....

(a) वैश्विक तापमान  
global temperature  
(c) शिक्षा में समानता  
equality in education

(b) शारीरिक दंड  
corporal punishment  
(d) समावेशी शिक्षा  
inclusive education

190. निम्नलिखित में से कला का कौन सा रूप किसी पाठ्यपुस्तक को जीवित कर देता है?

Which of the following art forms brings a textbook to life?

(a) थिएटर  
Theater  
(c) चित्र  
picture

(b) शिल्प/हस्तकला  
craft/handicraft  
(d) नृत्य  
dance

191. विद्यालय अनुशासन का मुख्य लक्ष्य क्या है?

What is the main goal of school discipline?

(a) विद्यार्थियों को एक सुरक्षित वातावरण उपलब्ध कराना  
Providing a safe environment for students

(b) दोषियों का पता लगाना ताकि उन्हें उपचारित किया जा सके  
Identifying culprits so they can be remedied

(c) शिक्षण के लिए हितकर वातावरण उपलब्ध कराना  
Providing a conducive environment for learning

(d) शिक्षकों की सुरक्षा सुनिश्चित करना  
ensuring the safety of teachers

192. एक अच्छा मुख्याध्यापक प्राथमिक रूप में होना चाहिए-

A good headmaster should primarily be -

(a) एक अच्छा शिक्षक  
a good teacher  
(c) एक अच्छा खिलाड़ी  
a good player

(b) एक अच्छा प्रशासक  
a good administrator  
(d) एक अच्छा मानव  
a good human being

193. निम्न में से कौन-सा विक्षेपण का मापन नहीं है?

Which of the following is not a measurement of deflection?

(a) प्रसार (रेंज)  
spread (range)  
(c) माध्य विचलन

(b) बहुलक  
polymer  
(d) प्रमाण विचलन



# SCHOLARS ACADEMY

Mean deviation

proof deviation

194. एक शिक्षिका ने कक्षा में नीचे दिए गए विषय पर वाद-विवाद का आयोजन किया "शून्य अत्यन्त सार्थक अंक है।" उसने प्रत्येक बच्चे को उक्त विषय पर अपने विचार व्यक्त करने के लिए प्रोत्साहित किया। शिक्षिका-

A teacher organized a debate in the class on the following topic "Zero is a very significant number." He encouraged each child to express his/her views on the said topic. Teacher-

- (a) अपनी कक्षा को अधिक अभिव्यक्तशील और विचारशील बना रही है
- (b) अपना समय व्यतीत कर रही है, क्योंकि छात्रों की मनःस्थिति पढ़ने की नहीं है

Making your classroom more expressive and thoughtful

Wasting her time because students are in no mood to study

- (c) बच्चों में तार्किक शक्ति विकसित करने के लिए अपनी गणित की कक्षा को जीवन-कौशल की कक्षा की भाँति उपयोग कर रही है
- (d) बच्चों को समस्याओं को हल करने की कुशलता की ओर प्रवृत्त कर रही है

She is using her mathematics class as a life-skills class to develop reasoning power in children.

195. निम्न में से कौन-सा गणित में अर्थपूर्ण ज्ञान प्राप्ति का सिद्धांत नहीं है? Which of the following is not a principle of gaining meaningful knowledge in mathematics?

- (a) उपयोगिता का सिद्धांत principle of utility
- (b) रटने का सिद्धांत cramming theory
- (c) अभ्यास का सिद्धांत theory of practice
- (d) मानसिक शक्तियों का समुचित प्रयोग का सिद्धांत principle of proper use of mental powers

196. यदि छात्रों में ज्यामितीय आकृतियों का अवबोधन (Understand) हो जाता है, तो छात्रों में व्यवहारगत परिवर्तन होगा-

If students understand geometric shapes, then there will be behavioral change in students -

- (a) आकृतियों का वर्गीकरण करने का to classify shapes
- (b) वैसी ही आकृतियों को खींचने का to draw similar shapes
- (c) गणित परिषद् पट्ट (club board) पर ज्यामितीय आकृतियों का प्रदर्शन करने का to recall geometric shapes
- (d) ज्यामितीय आकृतियों का प्रत्यास्मरण (recall) करने का

Mathematics to demonstrate geometric shapes on a club board

197. दिये गये वाक्य में उस भाग की पहचाना करिये, जिसमें त्रुटि है, अगर वाक्य में कोई त्रुटि नहीं है, तो कोई त्रुटि नहीं चुनिये।

He has (1)/help to(2) popularize contemporary dance (3)/No error (4).

Find the part of the given sentence that has an error in it. If there is no error, choose 'No error'.

He has (1)/help to(2) popularize contemporary dance (3)/No error (4).

- (a) 4  
(c) 3

- (b) 1  
(d) 2

198. मनोवैज्ञानिक कसौटी के अंतर्गत कौन सा मापदंड नहीं है Which criterion doesn't fall under psychological aspect?

- (a) प्रेरणा Motivation
- (b) स्तर Level
- (c) साहित्यिक उपकरण Literary devices
- (d) चित्र/खाका Illustrations

199. हम कक्षा में कला का शिक्षण कैसे दे सकते हैं?

How can we teach art in the classroom?

- (a) ऐसी विभिन्न गतिविधियों और खेल प्रदान करना जो उनसे और उनके वास्तविक जीवन के अनुभवों से संबंधित हैं।
- (b) ऐसे कला रूप प्रदान करना जिनका वे अनुकरण कर सकते हैं।

Providing various activities and games that relate to them and their real life experiences.

- (c) विभिन्न कला रूपों के उदाहरण देना।
- (d) कला प्रदर्शन के वीडियो दिखाना।

To give examples of different art forms.

To provide art forms that they can emulate.

Show videos of art performances.

200. नीचे दिए गए कथन को पढ़ें और सही विकल्प चुनें: कथन: सभी कलाएँ अच्छी कलाएँ हैं। मध्यस्थ कला जैसा कुछ भी नहीं है।

Read the statements given below and choose the correct option: Statement: All arts are good arts. There is no such thing as intermediary art.

- (a) यह कथन आंशिक रूप से सत्य है।
- (b) यह कथन गलत है।

This statement is partially true.

- (c) यह कथन सत्य है।
- (d) यह कथन आंशिक रूप से गलत है।

This statement is true.

This statement is partially wrong.